

بِسْمِ اللَّهِ الرَّحْمَنِ الرَّحِيمِ

مطالعات اجتماعی

(جغرافیا، تاریخ، مدنی)

پایه نهم دوره اول متوسطه

این کتاب شامل کتاب درسی و کاربرگ‌های فعالیت است.




وزارت آموزش و پرورش
سازمان پژوهش و برنامه‌ریزی آموزشی

نام کتاب :	مطالعات اجتماعی پایه نهم دوره اول متوسطه - ۹۰۷
پدیدآورنده :	سازمان پژوهش و برنامه‌ریزی آموزشی
مدیریت برنامه‌ریزی درسی و تألیف :	دفتر تألیف کتاب‌های درسی عمومی و متوسطه نظری
شناسه افزوده برنامه‌ریزی و تألیف :	محمدباقر آرام، بهروز انصاری، عباس پرتوی مقدم، علیرضا حیدری، فاطمه خسروی، محمدرضا سنگری، محمدشریف متوکی الموتی، ناهید فلاحیان، محمد مهدی موسی‌خان، منصور ملک‌عباسی، نازی‌الملک محمودی، محمود معافی و سوسن نوروزی (اعضای شورای برنامه‌ریزی)
مدیریت آماده‌سازی هنری :	ناهید فلاحیان، عباس پرتوی مقدم (مؤلفان) - افسانه ججی طباطبایی (ویراستار)
شناسه افزوده آماده‌سازی :	اداره کل نظارت بر نشر و توزیع مواد آموزشی
نشانی سازمان :	احمد رضا امینی (مدیر امور فنی و چاپ) - مجید ذاکری یونسی (مدیر هنری) - محمد عباسی (طراح گرافیک، صفحه‌آرا) - مریم کیوان (طراح جلد) - فرهاد جمشیدی، نرگس میکائیلی و مجید غزنوی (تصویرگر) - مریم جوادی، محمد عباسی و ابوالفضل بهرامی (عکاسان) - مریم دهقان‌زاده، فاطمه رئیسیان فیروزآباد، زهرا ایمانی نصر، فاطمه باقری مهر، علی نجمی، سیف‌الله بیک محمد دلیوند، سپیده ملک‌ایزدی، حمیدنابت کلاچاهی (امور آماده‌سازی)
ناشر :	تهران : خیابان ایرانشهر شمالی - ساختمان شماره ۴ آموزش و پرورش (شهید موسوی) تلفن : ۸۸۸۳۱۱۶۱-۹، دورنگار : ۸۸۳۰۹۲۶۶، کد پستی : ۱۵۸۴۷۴۷۳۵۹ وبگاه : www.chap.sch.ir و www.irtextbook.ir
چاپخانه :	شرکت چاپ و نشر کتاب‌های درسی ایران - تهران : کیلومتر ۱۷ جاده مخصوص کرج - خیابان ۶۱ (داروپخش) تلفن : ۴۴۹۸۵۱۶۱-۵، دورنگار : ۴۴۹۸۵۱۶۰، صندوق پستی : ۳۷۵۱۵-۱۳۹
سال انتشار و نوبت چاپ :	شرکت چاپ و نشر کتاب‌های درسی ایران «سهامی خاص» چاپ پنجم ۱۳۹۸

کلیه حقوق مادی و معنوی این کتاب متعلق به سازمان پژوهش و برنامه‌ریزی آموزشی وزارت آموزش و پرورش است و هرگونه استفاده از کتاب و اجزای آن به صورت چاپی و الکترونیکی و ارائه در پایگاه‌های مجازی، نمایش، اقتباس، تلخیص، تبدیل، ترجمه، عکس‌برداری، نقاشی، تهیه فیلم و تکتیر به هر شکل و نوع، بدون کسب مجوز از این سازمان ممنوع است و متخلفان تحت پیگرد قانونی قرار می‌گیرند.

شابک ۹-۲۴۴۵-۰۵-۹۶۴-۹۷۸ ISBN 978-964-05-2445-9



جوان‌ها قدر جوانی‌شان را بدانند و آن را در علم و تقوی و سازندگی خودشان صرف
کنند که اشخاصی امین و صالح بشوند.

امام خمینی (قُدَسَ سِرُّه)

فهرست

فصل اوّل : سیارهٔ ما، زمین	۱
درس ۱: گوی آبی زیبا	۲
درس ۲: حرکات زمین	۹
فصل دوم : سنگ کره، آب کره، هوا کره	۱۵
درس ۳: چهرهٔ زمین	۱۶
درس ۴: آب فراوان، هوای پاک	۲۱
فصل سوم : زیست کره، تنوع شگفت‌انگیز	۲۹
درس ۵: پراکندگی زیست بوم‌های جهان	۳۰
درس ۶: زیست بوم‌ها در خطرند	۳۶
فصل چهارم : ساکنان سیارهٔ زمین	۴۳
درس ۷: جمعیت جهان	۴۴
درس ۸: جهان نابرابر	۵۰

فصل پنجم : عصر یکپارچگی و شکوفایی	۵۷
درس ۹: ایرانی متحد و یکپارچه	۵۸
درس ۱۰: اوضاع اجتماعی، اقتصادی، علمی و فرهنگی ایران در عصر صفوی	۶۴
فصل ششم : ایران از عهد نادرشاه تا ناصرالدین شاه	۷۱
درس ۱۱: تلاش برای حفظ استقلال و اتحاد سیاسی ایران	۷۲
درس ۱۲: در جست‌وجوی پیشرفت و رهایی از سلطهٔ خارجی	۷۸
فصل هفتم : ایران در عصر مشروطه	۸۵
درس ۱۳: انقلاب مشروطیت؛ موانع و مشکلات	۸۶
درس ۱۴: ایران در دوران حکومت پهلوی	۹۲
فصل هشتم : سقوط حکومت شاهنشاهی و شکل‌گیری نظام جمهوری اسلامی	۹۹
درس ۱۵: انقلاب اسلامی ایران	۱۰۰
درس ۱۶: ایران در دوران پس از پیروزی انقلاب اسلامی	۱۰۷

فصل نهم : فرهنگ و هویت	۱۱۳
درس ۱۷: فرهنگ	۱۱۴
درس ۱۸: هویت	۱۲۰
فصل دهم : خانواده و جامعه	۱۲۷
درس ۱۹: کارکردهای خانواده	۱۲۸
درس ۲۰: آرامش در خانواده	۱۳۳
فصل یازدهم : حکومت و مردم	۱۴۱
درس ۲۱: نهاد حکومت	۱۴۲
درس ۲۲: حقوق و تکالیف شهروندی	۱۴۸
فصل دوازدهم : بهره‌وری	۱۵۵
درس ۲۳: بهره‌وری چیست؟	۱۵۶
درس ۲۴: اقتصاد و بهره‌وری	۱۶۲

سخنی با دبیران گرامی

لطفاً بخوانید

خداوند متعال را سپاس می‌گوییم که به لطف او توانستیم کتاب مطالعات اجتماعی پایه نهم دوره اول متوسطه را پس از کتاب‌های پایه هفتم و هشتم به شما تقدیم کنیم.

مطالعات اجتماعی یک حوزه مهم یادگیری است که از انسان و تعامل او با محیط‌های گوناگون در زمان‌های مختلف (حال، گذشته و آینده) و جنبه‌های گوناگون این تعامل (سیاسی، اقتصادی، اجتماعی، فرهنگی، محیطی و...) بحث می‌کند. به همین دلیل، این حوزه، مفاهیم رشته‌های متعدد و مختلف چون تاریخ، جغرافیا، مدنی، اقتصاد، حقوق، مردم‌شناسی و نظایر آن را دربر می‌گیرد. در برنامه جدید دوره ابتدایی، در سازماندهی محتوا از تلفیق بیشتری استفاده می‌شود اما با رسیدن به دوره اول متوسطه، تلفیق کاهش می‌یابد و با توجه به درجه و نوع تلفیق به کار رفته، رشته‌ها هویت خود را حفظ می‌کنند و در واقع یک حوزه موضوعی غالب است و در جاهای مناسب از پیوند با حوزه‌های دیگر و مفاهیم کلیدی مربوطه استفاده می‌شود.

در برنامه درسی جدید مطالعات اجتماعی، به منظور سازماندهی تلفیقی محتوا، پنج حوزه موضوعی انتخاب شده است:

۱- فضا و مکان؛ ۲- زمان، تداوم و تغییر؛ ۳- فرهنگ و هویت؛ ۴- نظام اجتماعی؛ ۵- منابع و فعالیت‌های اقتصادی. هریک از این حوزه‌ها ناظر به تعدادی از رشته‌های مذکور است. این کتاب شامل ۱۲ فصل و ۲۴ درس است که در هر فصل، دو یا چند حوزه موضوعی و مفاهیم کلیدی مربوط به آنها با یکدیگر تلفیق شده‌اند.

رویکرد و هدف اصلی برنامه

درس مطالعات اجتماعی با توجه به رویکرد کلی برنامه درسی ملی مبنی بر فطرت‌گرایی توحیدی و اهتمام به شکوفایی آن، سعی می‌کند زمینه‌های تربیت فردی و اجتماعی نوجوانان را فراهم آورد. از این‌روی، هدف غایی این درس تربیت افرادی مؤمن، مسئول، توانمند و آگاه در زندگی فردی و اجتماعی، پایبند به اخلاق و ارزش‌های دینی و علاقه‌مند به ایران و هویت فرهنگی – تمدنی آن است. این درس پیوند نزدیکی با مهارت‌های زندگی دارد.

روش‌های آموزش: همراه این کتاب، یک کتاب راهنمای تدریس تهیه شده است. به شما توصیه می‌کنیم این راهنما را به دقت مطالعه کنید.

– با توجه به رویکرد و هدف اصلی برنامه، و به منظور کاربردی کردن دروس و پیوند آن با زندگی واقعی، لازم است شما معلمان عزیز، الگوهای تدریس و شیوه‌های ارزشیابی خود را با اهداف این درس منطبق کنید و از شیوه‌های سنتی تأکید بر محفوظات و دانستنی‌ها و تدریس‌های مبتنی بر روش‌های غیرفعال یا فقط سخنرانی و روش مرسوم و نادرست سؤال و جواب در آوردن‌های قالبی از متن درس‌ها بپرهیزید. توجه داشته باشید که اطلاعات و دانستنی‌های کتاب وسیله است و نه هدف؛ آنها را منبعی برای کاوشگری دانش‌آموزان و انجام دادن فعالیت‌ها بدانید. این کتاب همچنین شامل فعالیت‌هایی است که در متن آمده و کاربرگه‌هایی که در پایان گنجانده شده است. این فعالیت‌ها و کاربرگه‌ها که عمدتاً باید در کلاس و در حین فرایند تدریس (و نه بعد از تدریس) انجام شوند، طوری طراحی شده‌اند که فضای لازم برای پرورش مهارت‌ها و نگرش‌های مختلف را به وجود بیاورند. دانش‌آموزان را راهنمایی کنید تا این فعالیت‌ها را به طور صحیح انجام دهند. چنانچه این فعالیت‌ها به خوبی انجام شوند، اهداف برنامه محقق می‌شود.

– به محیط آموزشی خود و روش‌های یاددهی – یادگیری‌تان توجه ببخشید و از بردن دانش‌آموزان به محیط‌های

جغرافیایی، بناهای تاریخی، موزه‌ها، فرهنگ‌سراها و مؤسسات اجتماعی و نظایر آن غفلت نورزید.

— مشارکت خانواده‌ها را جلب کنید و از همراهی آنها در تحقق اهداف تربیتی برنامه و حتی ارزشیابی استفاده کنید.

— بخش اعظم کتاب به موضوعات ضروری برای همه دانش‌آموزان کشور اختصاص دارد اما فقط کلیاتی را در اختیار شما می‌گذارد. بنابراین، انتظار می‌رود در موارد مقتضی، تدریس موضوعات را با شرایط بومی و محلی منطبق کنید و به نیازهای خاص منطقه خودتان پاسخ دهید.

— فعالیت‌های مربوط به نقشه و نمودار، تنها در محدوده کتاب و کاربرگ‌ها انجام می‌گیرد. دانش‌آموزان را به ترسیم نقشه‌های اضافی یا فعالیت‌های بیش از این وادار نکنید.

— فصول این کتاب را به ترتیب، تدریس کنید و در هر نوبت تقریباً نیمی از کتاب را آموزش دهید. واگذاری تدریس کتاب به بیش از یک دبیر اکیداً ممنوع است.

شیوه ارزشیابی: با توجه به رویکرد تربیت اجتماعی و مهارت‌های زندگی و هدف والای آماده کردن دانش‌آموزان برای زندگی شایسته، ارزشیابی این درس به هیچ عنوان نباید احساس سرخوردگی یا شکست در دانش‌آموزان پدید آورد.

ارزشیابی درس مطالعات اجتماعی، به صورت جمع ارزشیابی مستمر و ارزشیابی کتبی پایانی در هر نوبت تحصیلی صورت می‌گیرد و در هر نیمسال ۲۰ نمره به ارزشیابی مستمر و ۲۰ نمره به آزمون پایانی اختصاص می‌یابد. توجه کنید که منظور از ارزشیابی مستمر، آزمون‌های مکرر نیست. ارزشیابی مستمر، کلیه فعالیت‌های خارج از کلاس و داخل کلاس نظیر انجام دادن فعالیت‌ها، شرکت در بحث و گفت‌وگو، درست کردن روزنامه دیواری و مدل و نمونک (ماکت)، پرس‌وجو و تحقیق و نوشتن مطلب و گزارش و جمع‌آوری عکس یا نمونه‌ها را دربر می‌گیرد. شمارک‌بندی (بارم‌بندی) مربوط به هریک از فعالیت‌ها را، که متعاقباً اعلام می‌شود، رعایت کنید.

به ارزشیابی مستمر اهمیت دهید. شایسته است به این منظور فهرست بازینه ثبت مشاهدات و بررسی فعالیت‌ها و پوشه کار را فراهم نمایید. فراموش نکنید که ارزشیابی به منظور اصلاح نواقص آموزش و یادگیری و ایجاد فرصت‌های مناسب‌تر برای یادگیری دانش‌آموزان صورت می‌گیرد. در ارزشیابی کتبی پایانی، اهداف اصلی درس را در نظر بگیرید.

در پایان هر فصل کتاب، بخش واژه‌ها وجود دارد. این بخش به منظور پرورش مهارت مراجعه دانش‌آموزان به اصطلاحات و تعاریف صورت گرفته و درج علامت **؟** بر روی آن، به این معناست که در ارزشیابی مستمر و کتبی نباید از این تعاریف، سؤال طرح شود و دانش‌آموزان مجبور به حفظ کردن آنها باشند.

علامت **؟** نیز در بخش‌هایی از کتاب مشاهده می‌شود. این علامت به معنای آن است که اگرچه این بخش‌ها، به منظور تدریس موضوع یا انجام فعالیت‌ها در کلاس طراحی شده‌اند و در ارزشیابی مستمر مدنظر قرار می‌گیرند، در ارزشیابی‌های کتبی پایانی نباید از آنها سؤالی طرح شود.

از طرح سؤال از زیرنویس عکس‌ها و از محتوای نقشه‌ها بپرهیزید.

علاوه بر کتاب درسی و راهنمای معلم، سایر اجزای بسته آموزشی نظیر فیلم، اسلاید و نقشه در حال طراحی و تولید است که به تدریج در اختیار شما قرار خواهد گرفت.

امیدواریم شما معلمان عزیز با استفاده از روش‌های فعال، فضایی پرنشاط و دلپذیر در کلاس‌های درس مطالعات اجتماعی پدید آورید.

سیاره ماه زمین



فصل

سیاره زمین، خانه ماست، سیاره‌ای شگفت‌انگیز که بشر تا مدت‌های طولانی درباره آن و جایگاهش در فضا، دانش چندانی نداشته است.

در چند قرن اخیر دانش و اطلاعات انسان درباره سیاره زمین به‌طور چشمگیری افزایش یافته است. با پیشرفت فناوری و تولید ماهواره‌ها و سفینه‌های فضایی، تلسکوپ‌های مجهز به رایانه و ده‌ها وسیله دقیق دیگر، او به‌نکات بسیاری درباره جایگاه زمین در فضا، ویژگی‌های منظومه خورشیدی (شمسی) و ستارگان و سیاره‌های دیگر پی برده است. همچنین توانسته است مسافت‌های بسیار دور را محاسبه کند، موقعیت دقیق پدیده‌هایی را که روی سیاره زمین قرار گرفته‌اند، تعیین کند و چگونگی حرکت این سیاره به دور خود و خورشید، و نتایج آن را به‌تر و دقیق‌تر بررسی و مطالعه کند.



شما با مطالعه این فصل و انجام دادن فعالیت‌های آن به پاسخ پرسش‌های زیر پی می‌برید:

- ۱- جایگاه زمین در فضا کجاست؟
- ۲- موقعیت مکانی چیست و موقعیت پدیده‌ها را بر روی سیاره زمین، چگونه اندازه می‌گیریم؟
- ۳- حرکت‌های وضعی و انتقالی زمین کدام‌اند، چه ویژگی‌هایی دارند و تأثیرات آنها بر زندگی ما چیست؟

گوی آبی زیبا

«... از پنجره سفینه، زمین را همانند کره‌ای آبی رنگ در زمینه‌ای کاملاً سیاه دیدم؛ سیاهی محض که در زمین قابل مشاهده نیست. قبل از پرواز، تصاویری از زمین در فضا دیده بودم اما تا از فضا به زمین نگاه نکنید، نمی‌توانید تصور کنید که سیاره ما چقدر زیبا، کوچک و ظریف و شکننده است.»

نوشته بالا، سخنان یک فضانورد مسلمان اهل روسیه است که دوبار به فضا سفر کرده و بیش از ۲۰۰ روز در فضا بوده است. زمین از فضا چون یک گوی آبی زیبا به نظر می‌رسد. سیاره‌ای که ما روی آن زندگی می‌کنیم و آن را این همه بزرگ و وسیع می‌پنداریم، نقطه‌ای بسیار بسیار کوچک از فضای بی‌کران کیهان (جهان) است.

جایگاه زمین در کیهان

زمین ما بخش کوچکی از منظومه خورشیدی است؛ منظومه‌ای متشکل از یک ستاره به نام خورشید و اجرام آسمانی متعدد که در مدارهای پیرامون آن می‌گردند.

منظومه خورشیدی دارای هشت سیاره است؛ چهار سیاره نزدیک به خورشید، که سطوح سنگی و جامد دارند و به آنها «سیاره‌های درونی» می‌گویند و چهار سیاره دورتر که از گازهای مختلف تشکیل شده‌اند و «سیاره‌های بیرونی» نامیده می‌شوند.





منظره کره زمین از فضا، این عکس را آپولو ۱۷ از زمین گرفته است.



در میان چهار سیاره نزدیک به خورشید، زمین بزرگ‌ترین است. زمین سومین سیاره منظومه خورشیدی است و در فاصله ۱۵۰ میلیون کیلومتری خورشید قرار دارد. دانشمندان عمر زمین و منظومه خورشیدی را حدود ۴/۵ میلیارد سال تخمین زده‌اند. آنها بنابر فرضیه‌هایی، معتقدند که این منظومه از ابری متشکل از «گازها و غبارهای بین‌ستاره‌ای» پدید آمده است.



چهار سیاره درونی منظومه خورشیدی: تیر، ناهید، زمین، بهرام (مریخ)



مقایسه اندازه خورشید و سیاره‌های منظومه خورشیدی

برخی از سیاره‌های منظومه خورشیدی قمرهایی دارند که به دور این سیاره‌ها می‌گردند. سیاره زمین یک قمر به نام «ماه» دارد. در سیاره‌های گازی، تعداد قمرها بیشتر است. برای مثال، تاکنون بیش از ۶۰ قمر برای سیاره مشتری کشف شده است. منظومه خورشیدی علاوه بر سیاره‌ها و قمرهایشان، اجرام دیگری را شامل می‌شود. شما در کتاب علوم تجربی امسال با این اجرام بیشتر آشنا می‌شوید. خورشید، که در مرکز منظومه قرار دارد، سرچشمه اصلی نور و گرما و انرژی بر روی زمین است. قطر خورشید حدود ۱۰۹ برابر قطر زمین و جرم آن ۳۳۰ هزار برابر جرم زمین (2×10^{30} کیلوگرم) است.

ستاره خورشید یکی از میلیارد ها ستاره «کهکشان راه شیری» است. منظومه خورشیدی نقطه ای کوچک از این کهکشان بزرگ ماریچی است. البته کهکشان راه شیری، خود یکی از هزاران کهکشان جهان بی کران است.



یکی از شگفتی های خلقت، کهکشان راه شیری است که بیش از ۲۰۰ میلیارد ستاره دارد و قطر هسته آن ۱۰۰۰۰ سال نوری* است. حدود ۲۵۰ میلیون سال طول می کشد تا خورشید با سرعت ۲۲۰ کیلومتر در ثانیه، مرکز این کهکشان را دور بزند.

... لَخْلُقُ السَّمَاوَاتِ وَالْأَرْضِ أَكْبَرُ مِنْ خَلْقِ النَّاسِ وَلَكِنَّ أَكْثَرَ النَّاسِ لَا يَعْلَمُونَ
قطعا آفرینش آسمان ها و زمین، بسیار بزرگ تر (و شکوهمندتر) از آفرینش مردم است ولی بیشتر مردم این را درک نمی کنند.

سورة غافر، آیه ۵۷

فعالیت

- ۱- زمین و سه سیاره دیگر درونی منظومه خورشیدی (تیر، زهره، بهرام) چه تفاوت هایی دارند؟
- ۲- سه تفاوت سیاره های درونی و بیرونی منظومه خورشیدی را بیان کنید (مدار گردش، جنس و ترکیب، قمر).
- ۳- الف) پرس و جو کنید که آیا تاکنون در اکتشافات فضایی، اثری از حیات در نقاط دیگر فضا یافت شده است. ب) به نظر شما چرا در کاوش های فضایی به تحقیق درباره سیاره بهرام (مریخ) بسیار توجه می شود؟
- ۴- الف) با مراجعه به کتاب های علوم و نجوم یا پایگاه های اینترنتی، چند مورد از شگفتی های کهکشان ها و اجرام آسمانی، منظومه خورشیدی و سیاره زمین را استخراج کنید و در کلاس بخوانید. ب) به نظر شما، تفکر در این شگفتی ها چه ارتباطی با موضوع خداشناسی دارد؟ پ) از معنی آیه ۵۷ سورة غافر چه می فهمید؟

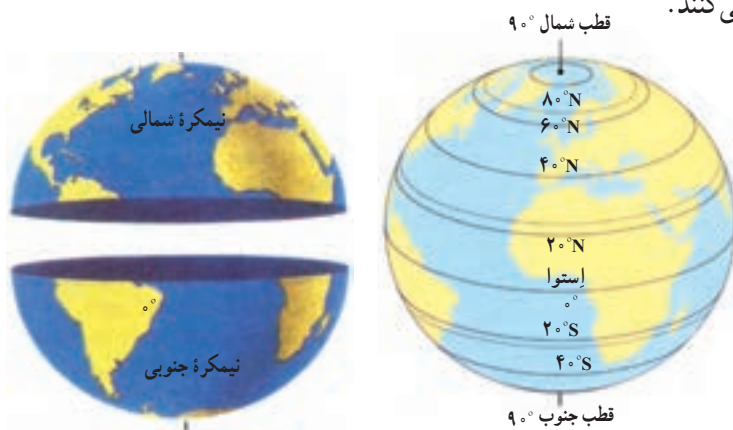
مساحت کره زمین ۵۱۰ میلیون کیلومتر مربع است و سطح این کره را خشکی ها (قاره ها) و آب ها پوشانده است. هر پدیده مانند جلگه، رود، دریا، کوه، دشت، شهر یا روستا بر روی کره زمین مکانی دارد.

● موقعیت مکانی

موقعیت مکانی یک پدیده، یعنی مکان دقیق قرار گرفتن آن روی کره زمین. اما، چگونه می‌توان فهمید که یک پدیده دقیقاً در کجای کره زمین قرار دارد؟ جغرافی دانان برای تعیین موقعیت مکانی پدیده‌ها بر روی کره زمین و مطالعه درباره مکان‌ها، خطوط و تقسیمات فرضی را ابداع کرده‌اند.

● مدارها

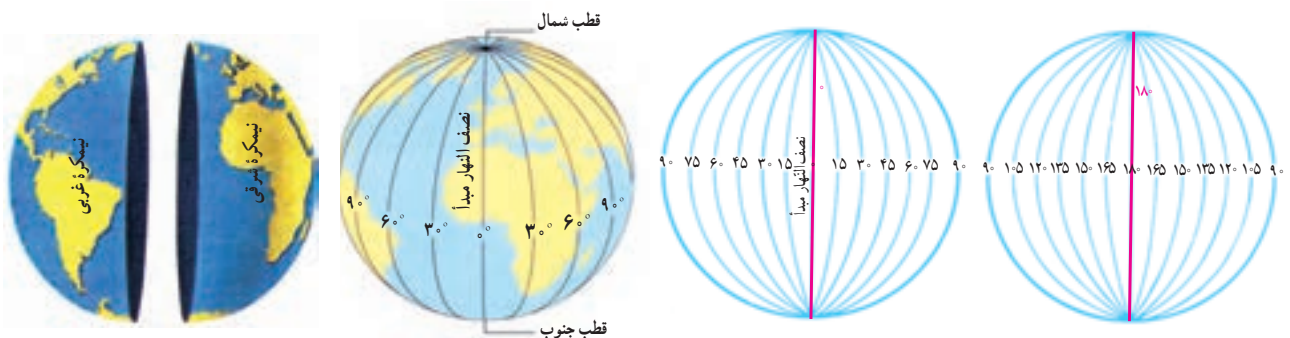
در فاصله مساوی از دو قطب شمال و جنوب، می‌توانیم یک دایره بزرگ را به دور زمین تصور کنیم. این دایره بزرگ، استوا نام دارد. همان‌طور که در شکل می‌بینید، دایره‌های دیگری در هر دو نیمکره به موازات استوا رسم شده‌اند که به آنها مدار می‌گویند. هر چه به قطب شمال یا جنوب نزدیک می‌شویم، این دایره‌ها کوچک‌تر می‌شوند. مدار استوا (مدار مبدأ) صفر درجه است. بقیه مدارها بین 0° تا 90° درجه شمالی یا جنوبی درجه‌بندی شده‌اند. معمولاً همه مدارها را روی کره‌ها و نقشه‌ها رسم نمی‌کنند.



● نصف النهارها

نصف النهارها نیم دایره‌های فرضی هستند که از قطب شمال تا قطب جنوب کشیده شده‌اند و طول مساوی دارند. برای درجه‌بندی نصف النهارها، نصف النهاری را که از رصدخانه «گرینیچ» در شهر لندن عبور می‌کند، به عنوان نصف النهار مبدأ انتخاب کرده‌اند.

نصف النهار مبدأ و امتداد آن در سوی دیگر کره، زمین را به دو نیمکره مساوی شرقی و غربی تقسیم کرده است. نصف النهار مبدأ، صفر درجه و نصف النهارهای دیگر از 0° تا 180° درجه غربی و 180° درجه شرقی درجه‌بندی شده‌اند؛ زیرا محیط زمین 360° درجه است.



۵- ایران در نیمکره شمالی قرار دارد یا نیمکره جنوبی؟ نیمکره شرقی یا نیمکره غربی؟ چگونه می فهمید؟

۶- چند کره جغرافیایی به کلاس بیاورید. هر گروه با یک کره کار کند.

الف) مدار استوا، مدار قطبی شمال، مدار قطبی جنوب، مدار رأس السرطان* و مدار رأس الجدی* را روی کره پیدا کنید و نشان دهید.
ب) نصف النهار مبدأ را پیدا کنید و درجه آن را بخوانید. امتداد نصف النهار مبدأ را در آن سوی کره پیدا کنید و درجه آن را بخوانید.

• طول و عرض جغرافیایی (مختصات جغرافیایی)

هر نقطه از کره زمین روی یک مدار و یک نصف النهار مشخص قرار دارد که به آنها «مختصات جغرافیایی» آن نقطه می گویند.

ما با داشتن شبکه مدارها و نصف النهارها می توانیم طول و عرض جغرافیایی هر مکان یا مختصات جغرافیایی آن را به دست بیاوریم.

هر نقطه بر روی کره زمین، با مدار استوا و نصف النهار مبدأ فاصله ای دارد.

طول جغرافیایی هر مکان عبارت است از فاصله آن مکان با نصف النهار مبدأ

بر حسب درجه.

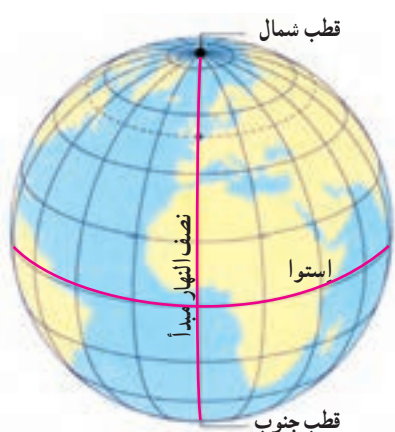
عرض جغرافیایی هر مکان عبارت است از فاصله آن مکان با مدار استوا بر حسب

درجه.

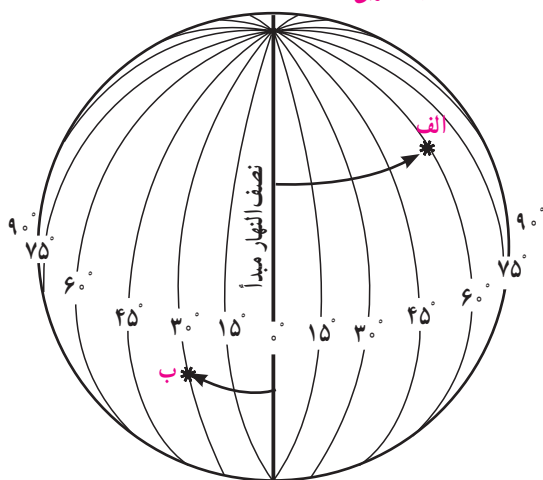
اکنون به طول و عرض جغرافیایی نقاط الف و ب در تصویر توجه کنید. برای نوشتن

طول و عرض جغرافیایی، از علائم اختصاری N (شمالی)، S (جنوبی)، E (شرقی) و W

(غربی) استفاده می شود.

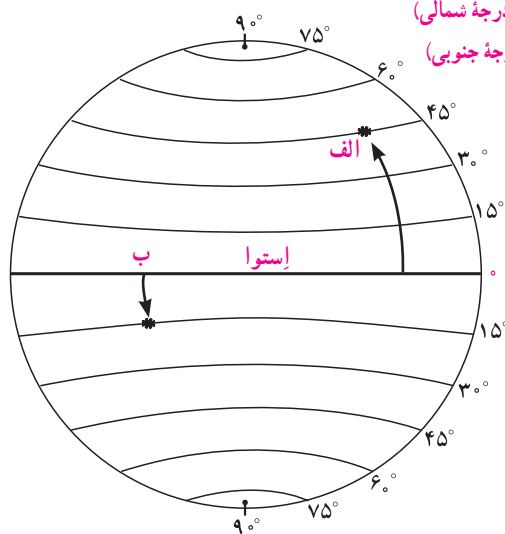


الف — $60^{\circ}E$ (۶۰ درجه شرقی)
ب — $30^{\circ}W$ (۳۰ درجه غربی)

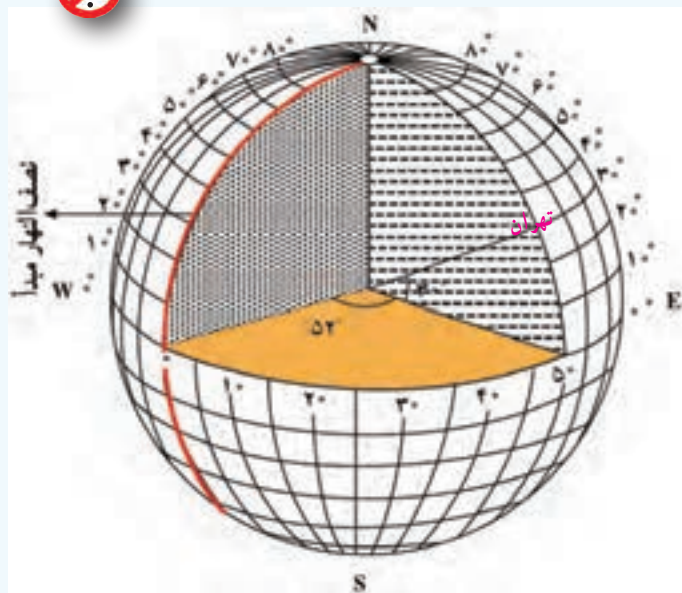


طول جغرافیایی

الف — $45^{\circ}N$ (۴۵ درجه شمالی)
ب — $15^{\circ}S$ (۱۵ درجه جنوبی)



عرض جغرافیایی



منظور از درجه‌ها، زاویه‌هایی است که در داخل کره ایجاد می‌شود. هر نصف‌النهار با نصف‌النهار مبدأ زاویه‌ای می‌سازد که درجه آن نصف‌النهار را تشکیل می‌دهد. درجه هر مدار نیز زاویه‌ای است که به‌طور افقی نسبت به صفحه استوا در داخل کره زمین، فرض می‌شود.

فعالیت

۷- به کمک معلم، چند کره جغرافیایی را به کلاس بیاورید؛ به‌طوری که هر گروه، یک کره در اختیار داشته باشد. سپس در هر گروه:

- الف) طول و عرض جغرافیایی یک مکان را که درجه آن صفر است، روی کره نشان دهید.
 - ب) سه مکانی را که روی یک مدار قرار دارند، در نظر بگیرید و بگویید آیا این سه مکان عرض جغرافیایی یکسانی دارند؟ چرا؟
 - پ) سه مکانی را که روی یک نصف‌النهار قرار دارند، در نظر بگیرید و بگویید آیا این سه مکان طول جغرافیایی یکسانی دارند؟ چرا؟
- ۸- کاربرگ‌های شماره ۱ و ۲ را کامل کنید.


سامانه موقعیت‌یابی جهانی (GPS)*

از گذشته‌های دور، مردم در جست‌وجوی روش قابل اطمینانی بودند که با استفاده از آن، بفهمند در کجا قرار دارند و یا اگر قصد دارند به جایی دور بروند، مسیر را گم نکنند.

دریانوردان اولیه مسیر خود را با دنبال کردن ستاره‌ها ترسیم می‌کردند. بعدها با اختراع قطب‌نما و در قرن بیستم با استفاده از رادار و امواج رادیویی، به تدریج پیشرفت‌هایی در ناوبری* کشتی‌ها و هواپیماها به وجود آمد. امروزه از طریق سامانه موقعیت‌یابی جهانی (GPS) می‌توان موقعیت دقیق هر نقطه را در هر جای کره زمین، (به‌طور شبانه‌روزی) و در هر شرایط آب و هوایی، تعیین کرد. سامانه «GPS»، از ۲۴ ماهواره تشکیل شده است که در مدار زمین، گردش می‌کنند و تمام نقاط کره زمین را پوشش می‌دهند. این ماهواره‌ها امواج رادیویی به زمین ارسال می‌کنند و می‌توانند موقعیت دقیق پدیده‌ها را مشخص کنند.



* Global Positioning System



معروف است که در دنیای امروز هیچ کس گم نمی شود!

ما از طریق گیرنده های «GPS» می توانیم امواج را دریافت کنیم و اطلاعات مربوط به مکان را به دست آوریم. این گیرنده ممکن است روی سامانه ناوبری هواپیما و کشتی، داخل اتومبیل یا روی یک گوشی تلفن همراه نصب شده باشد و با آن بتوان اطلاعات مربوط به طول و عرض جغرافیایی، ارتفاع، ساعت و زمان هر منطقه، مسافت بین مکان ها و ... را به دست آورد.



با استفاده از GPS می توان قبله یابی نیز کرد.

فعالیت



شهر مکه در کشور عربستان و در جنوب غربی ایران واقع است. بنابراین، در ایران ما به سمت جنوب غربی نماز می خوانیم و هرگاه می خواهیم جهت قبله را پیدا کنیم، ابتدا جهت جنوب را جست و جوی کنیم و سپس به سمت غرب متمایل می شویم. میزان تمایل ما به سمت غرب، در نواحی مختلف ایران متفاوت است. به نقشه رو به رو توجه کنید و از سه شهر مشهد، بندرعباس و تبریز خطی به سمت خانه کعبه رسم کنید.

۹- مردم بندرعباس برای اینکه در جهت قبله قرار بگیرند، بیشتر به سمت غرب متمایل می شوند یا مردم تبریز؟

۱۰- در آدیس آبابا (اتیوپی) و قاهره، قبله در کدام سمت است؟

۱۱- با استفاده از یک نقشه جهان نما بگویید که در مالزی قبله رو به کدام سمت است.

حرکات زمین

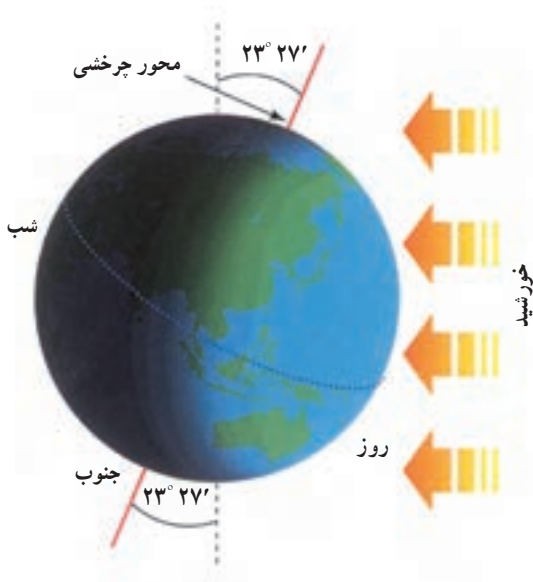
درس ۲



در پیشخوان بعضی هتل‌ها یا بنگاه‌های اقتصادی، چند ساعت روی دیوار نصب شده‌اند که زمان‌های مختلف را در کشورهای مختلف نشان می‌دهند.

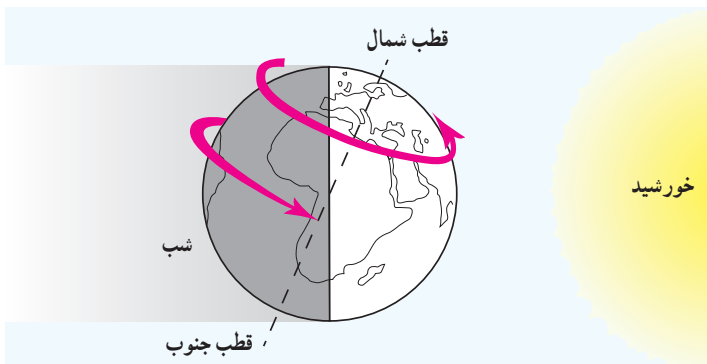
به ساعت نگاه کنید و بگویید: ساعت چند است؟ از طلوع آفتاب چند ساعت گذشته است؟ تا ظهر چقدر باقی مانده است؟ آیا می‌دانید در حالی که در ساعت ۱۱ صبح مردم کشور ما مشغول فعالیت‌های روزانه هستند، در استرالیا و ژاپن، هنگام عصر است و مردم در حال دست‌کشیدن از کار و رفتن به سوی خانه‌هایشان هستند و در کانادا (اتوا) نیمه‌شب است و مردم در حال استراحت شبانه‌اند؟

بله، ما با نگاه کردن به ساعت به راحتی زمانی را که در آن به سر می‌بریم، می‌فهمیم اما موضوع تعیین ساعت به این سادگی نیست. چرا مکان‌های مختلف سیاره زمین با یکدیگر اختلاف زمانی یا اختلاف ساعت دارند؟



الف) حرکت وضعی

زمین در هر ۲۴ ساعت یک‌بار به دور محور خود می‌چرخد، که به آن حرکت وضعی می‌گویند. زمین روشنایی خود را از نور خورشید می‌گیرد اما نور خورشید در زمان معین، فقط نیمی از زمین را روشن می‌کند. چرا؟ نیمی از زمین که رو به خورشید است روز و روشن، و نیمی دیگر شب و تاریک است. اگر زمین به دور خود نمی‌چرخید، چه اتفاقی می‌افتاد؟ ما هر روز در آسمان، خورشید را می‌بینیم که از مشرق طلوع می‌کند. هنگام ظهر، خورشید تقریباً بالای سر ماست و هنگام عصر رفته‌رفته به سمت مغرب حرکت و در آن سمت غروب می‌کند. اما این جابه‌جایی یا حرکت خورشید در آسمان، حرکت ظاهری است. در واقع، خورشید جابه‌جا نمی‌شود بلکه زمین می‌چرخد و نقاط مختلف کره زمین بی‌دری در مقابل خورشید قرار می‌گیرند.

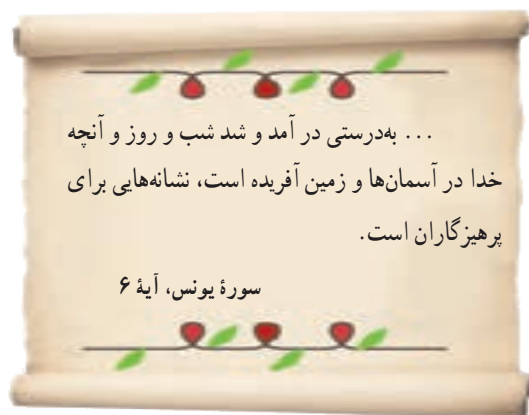


زمین از غرب به شرق می‌چرخد.



زمین از غرب به شرق می‌چرخد.

با توجه به تصویر روبه‌رو، مردم هند طلوع خورشید را
زودتر می‌بینند یا مردم ایران؟
هنگام ظهر در ایران زودتر فرا می‌رسد یا در عربستان؟
چرا؟



● اختلاف زمان در مناطق مختلف زمین

نتیجه حرکت وضعی زمین، پدید آمدن شب و روز و اختلاف ساعت است. وقتی نیمه‌ای از زمین در مقابل خورشید قرار می‌گیرد، ساکنان تمام نقاطی که روی یک نصف‌النهار قرار دارند، در یک زمان خورشید را در آسمان مشاهده می‌کنند. وقتی خورشید درست روی نصف‌النهار مبدأ قرار می‌گیرد، در همه شهرهایی که روی این نصف‌النهار (از شمال اروپا تا جنوب آفریقا) قرار گرفته‌اند، هنگام ظهر است. در همین حال، مردم کشورهای که در شرق گرینویچ قرار دارند، خورشید را زودتر دیده‌اند و بنابراین، از ظهرشان گذشته است. به عکس، در کشورهای که در غرب نصف‌النهار گرینویچ قرار دارند، چند ساعت به ظهر مانده است.

● ساعت واقعی، ساعت رسمی

آنچه گفته شد، زمان واقعی در مکان‌های مختلف بود که مبنای آن موقعیت خورشید در آسمان است اما در زندگی روزانه نمی‌توان از ساعت واقعی استفاده کرد. تصور کنید حتی دو شهر مجاور در یک کشور، که روی یک نصف‌النهار قرار ندارند، ساعت‌های مختلفی دارند. بنابراین، در تعیین قرارهای ملاقات، زمان باز و بسته شدن اداره‌ها و مغازه‌ها و برنامه حرکت قطارها و هواپیماها مشکلات زیادی به‌وجود می‌آید.

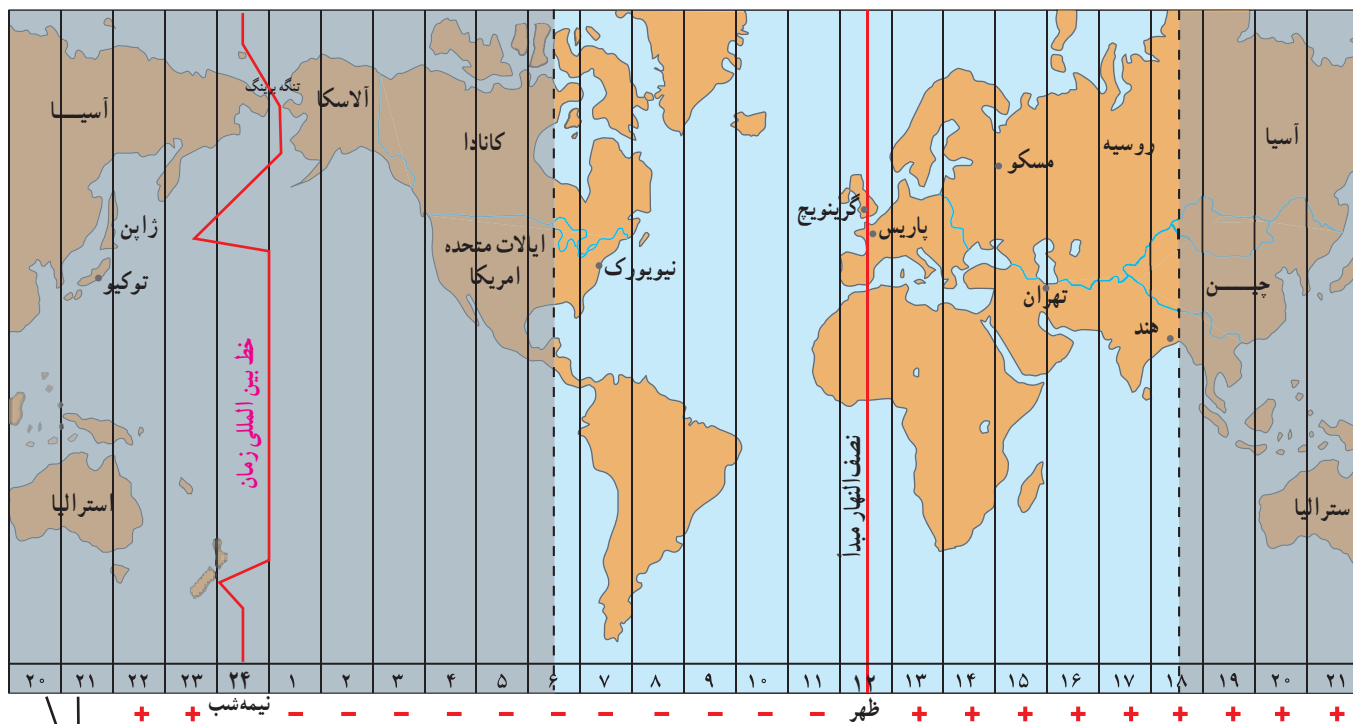
حدود ۱۴۰ سال پیش، کشورها در یک اجلاس بین‌المللی، توافق کردند که به جای ساعت واقعی از ساعت رسمی استفاده کنند و به این ترتیب، زمان رسمی به‌وجود آمد.

ساعت رسمی: کره زمین برای آنکه یک دور یا 360° به دور خود بچرخد، ۲۴ ساعت وقت لازم دارد. پس اگر 360° محیط کره زمین را به ۲۴ قاج تقسیم کنیم، هر یک از قاج‌ها ۱۵ درجه پهنا دارد.

هر منطقه زمانی یک قاج است و یک ساعت را به خود اختصاص می‌دهد. بنابراین، همه نصف‌النهارهایی که داخل یک قاج قرار گرفته‌اند، به‌طور توافقی ساعت یکسانی دارند.

البته برخی از کشورها، مانند ایران، با آنکه در بیشتر از یک قاچ گسترده شده‌اند، از یک ساعت پیروی می‌کنند. برای مثال، در همان زمان که در تبریز در شمال غرب ایران ساعت ۸ صبح است و اداره‌ها کار خود را آغاز می‌کنند، در مشهد در شمال شرق ایران نیز ساعت ۸ صبح اعلام می‌شود.

در برخی کشورهای وسیع، مانند چین، چند ساعت رسمی وجود دارد. بنابراین، مردم این کشورها، هرگاه از شرق به غرب یا برعکس مسافرت کنند، مجبورند ساعت خود را جلو یا عقب بکشند.



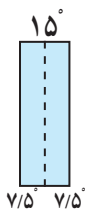
این دو ستون تکرار ستون‌های سمت راست است.



خط بین‌المللی زمان یا خط روزگردان چیست؟

خط روزگردان یک نصف‌النهار فرضی 180° درجه است که در امتداد نصف‌النهار مبدأ در آن سوی کره زمین قرار گرفته است. هنگام عبور از این خط از غرب به شرق، باید یک روز به تقویم اضافه کرد و به عکس، هنگام عبور از شرق به غرب این خط، باید یک روز از تقویم کم کرد. اگر مسافران کشتی‌ها و هواپیماها از غرب کره زمین به شرق (از قاره آمریکا به قاره آسیا) یک بار زمین را دور بزنند، یک روز تقویمی از مبدأ حرکت خود جلو می‌افتند و باید یک روز را به تاریخ اضافه کنند و برعکس، از شرق کره زمین به غرب (از آسیا به آمریکا) باید یک روز از تاریخ کم کنند.

اکنون خط روزگردان را روی یک کره جغرافیایی پیدا کنید و نشان دهید.



هر قاچ، ۱۵ درجه است و یک نصف‌النهار مرکزی دارد.

فعالیت

۱- الف) در زندگی روزانه، ساعت واقعی چه کاربردی دارد؟

ب) چرا از ساعت رسمی استفاده می‌کنیم؟ مثال بیاورید.

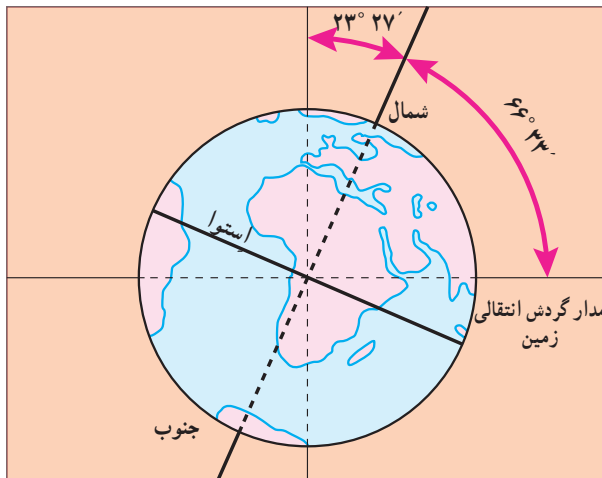
۲- با توجه به نقشه مناطق زمانی، بگویید اگر کسی از تهران به پاریس سفر کند، باید ساعت خود را جلو بکشد یا عقب؟ چرا؟

۳- اگر مسافری از تهران به توکیو (ژاپن) سفر کند، باید ساعت خود را جلو بکشد یا عقب؟ چرا؟

ب) حرکت انتقالی

زمین در همان هنگام که به دور محور خود می‌چرخد، به دور خورشید نیز می‌گردد. یک دور کامل زمین به گرد خورشید، یک سال طول می‌کشد که به آن حرکت انتقالی می‌گویند. مدار زمین، بیضی‌شکل است و زمین با سرعت میانگین 30° کیلومتر در ثانیه، این مسیر را می‌پیماید.

مدت زمان واقعی یک دور کامل گردش زمین به گرد خورشید، 365 روز و 6 ساعت است اما در تقویم‌ها سال را 365 روز در نظر می‌گیرند. سال 365 روزه، سال رسمی است که 6 ساعت از سال خورشیدی کوتاه‌تر است. برای جبران کسری این 6 ساعت در هر 4 سال یک روز به سال رسمی اضافه می‌شود (ساعت $24 \times 4 = 96$). سال 366 روزه را سال کبیسه می‌نامند.



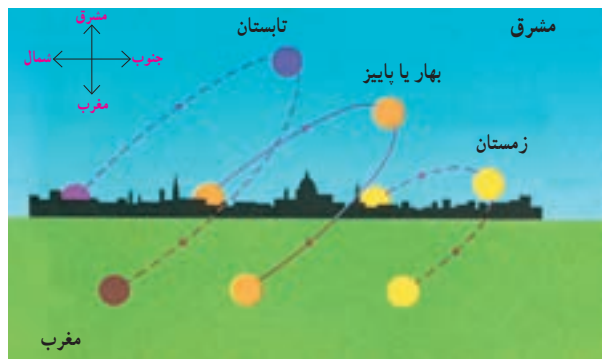
• مایل بودن محور قطب‌ها

به تصویر روبه‌رو توجه کنید. همان‌طور که می‌بینید، محور قطب‌ها بر سطح مدار گردش انتقالی زمین، مایل است. به دلیل همین تمایل، زاویه تابش آفتاب در طول سال تغییر می‌کند و در طی یک سال، زمین در موقعیت‌های مختلفی در برابر خورشید قرار می‌گیرد، درازی شب و روز نامساوی می‌شود و فصل‌های مختلف به‌وجود می‌آید. اکنون بیابید موقعیت زمین را با توجه به زاویه تابش در اول تابستان و اول زمستان بررسی کنیم.

• پیدایش فصول

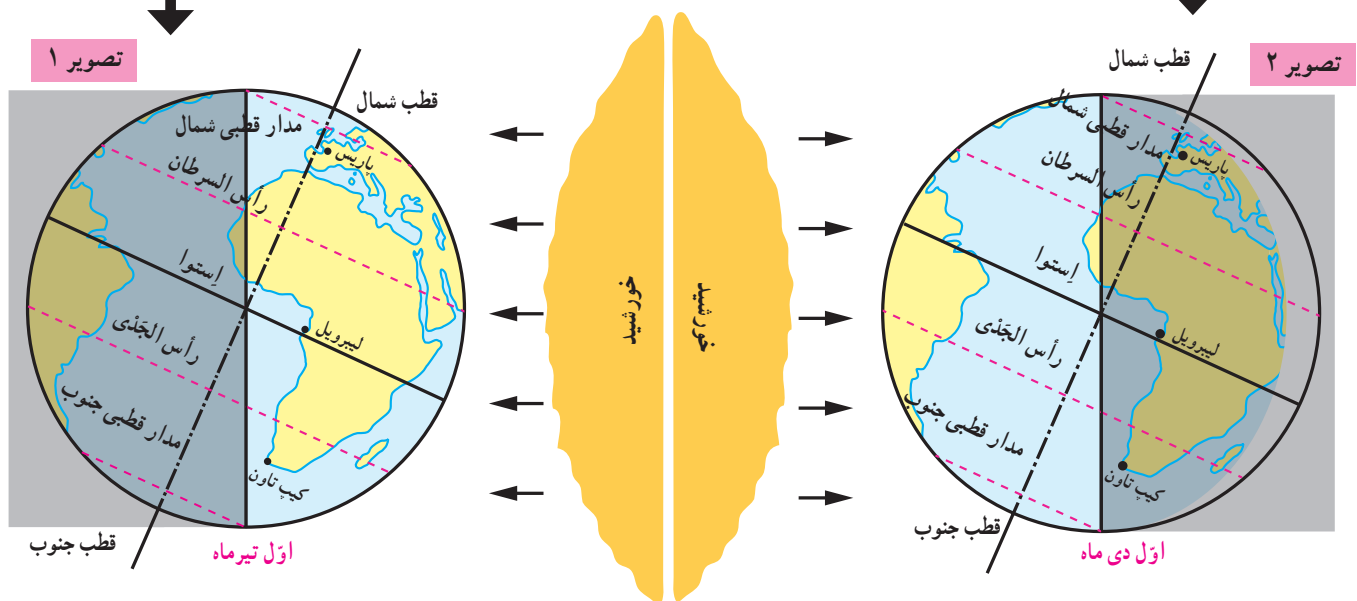
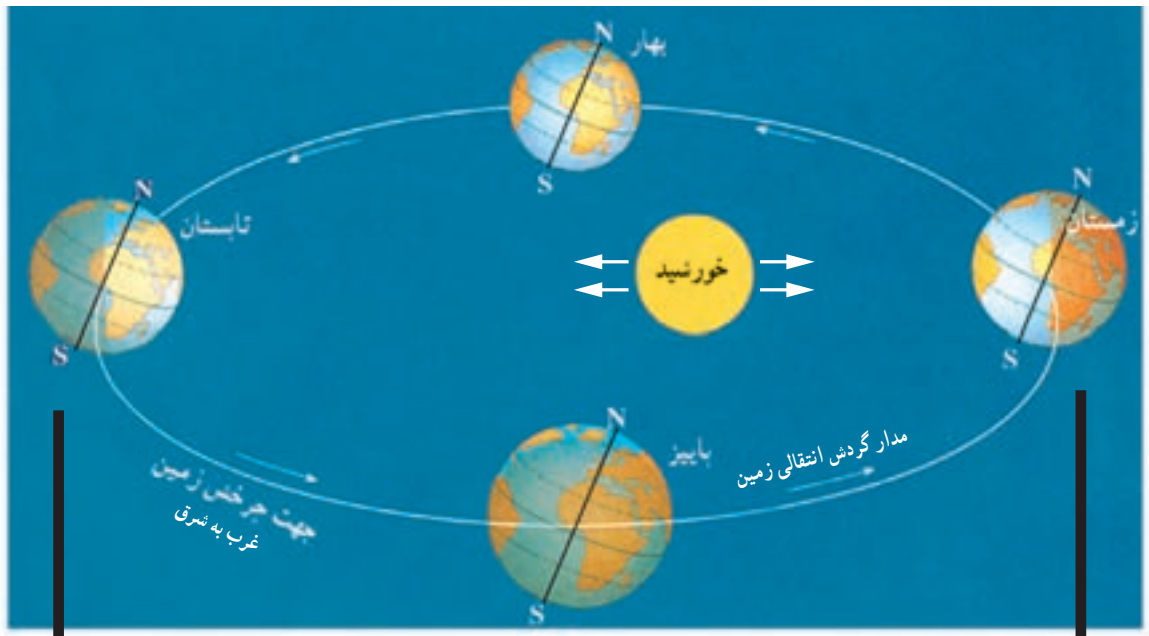
• به تصویر ۱ در صفحه روبه‌رو توجه کنید. در اول تیرماه، خورشید در نیمکره شمالی به مدار رأس‌السرطان به طور عمودی می‌تابد. در اول تیرماه در نیمکره شمالی منطقه وسیع‌تری از کره زمین در معرض نور خورشید قرار می‌گیرد. در نتیجه، طول روزها از شب‌ها بیشتر است. در این هنگام که طولانی‌ترین روز در این نیمکره است و به آن انقلاب تابستانی می‌گویند، فصل تابستان آغاز می‌شود. در همین زمان، نیمکره جنوبی چه وضعی دارد؟

• به تصویر ۲ توجه کنید. در اول دی‌ماه، خورشید به مدار رأس‌الجدي در نیمکره جنوبی عمودی می‌تابد. در اول دی‌ماه، در نیمکره شمالی بخش کم‌وسعت‌تری از کره زمین تابش خورشید را دریافت می‌کند و روزها کوتاه‌تر از شب‌هاست. در نتیجه، در نیمکره شمالی اول دی کوتاه‌ترین روز سال است که به آن انقلاب زمستانی می‌گویند. در این روز، فصل زمستان آغاز می‌شود؛ در حالی که در همین زمان، در نیمکره جنوبی فصل تابستان آغاز شده است.



مسیر حرکت ظاهری خورشید در آسمان در طول سال؛ همان‌طور که می‌بینید، این مکان در فصول مختلف سال، متفاوت است.

• پس از وقوع انقلاب تابستانی یا زمستانی، به تدریج با گردش زمین به دور خورشید، وسعت دایره روشنایی در دو نیمکره شمالی و جنوبی کم و زیاد می‌شود و طول روز و شب، هر روز نسبت به روز قبل تغییر می‌کند تا سرانجام در دو موقع از سال، یعنی اول بهار و اول پاییز، درازی روز و شب برابر می‌شود؛ یعنی مسیری که منطقه روشن زمین می‌پیماید با مسیر منطقه تاریک برابر است. به این دو زمان، اعتدالین (اعتدال بهاری و اعتدال پاییزی) می‌گویند.



● اکنون به مدار استوا توجه کنید. در مناطق مجاور استوا مسیر پیموده شده در دو منطقه تاریک و روشن همواره یکسان است و در نتیجه طول روز و شب همواره مساوی است.

○ فعالیت

۴- موقعیت سه شهر پاریس، لیبرویل و کیپ تاون را با توجه به دایره روشنایی در اول تیرماه و اول دی ماه توضیح دهید.

۵- به مدار قطبی شمال و جنوب در تصویر (۱) توجه کنید. چرا در اول تیرماه در ناحیه مدار قطبی شمال، طول یک روز ۲۴ ساعت و به عکس در مدار قطبی جنوب، طول یک شب ۲۴ ساعت است؟

۶- از مساوی بودن همیشگی طول روز و شب در منطقه استوا به چه نتیجه‌ای درباره فصول این منطقه می‌رسید؟



مدار رأس‌السرطان : به مدار عرض جغرافیایی ۲۳ درجه و ۲۷ دقیقه در نیمکره شمالی گفته می‌شود. سرطان (خرچنگ) نام صورت فلکی خرچنگ است که در گذشته در مقابل این مدار قرار می‌گرفته است.

مدار رأس‌الجدی : به مدار عرض جغرافیایی ۲۳ درجه و ۲۷ دقیقه در نیمکره جنوبی گفته می‌شود. جدی (بزغاله) نام صورت فلکی‌ای است که در گذشته در مقابل این مدار قرار می‌گرفته است.

سال نوری : در نجوم، واحد اندازه‌گیری فاصله ستارگان است. سرعت نور معادل ۳۰۰۰۰۰ کیلومتر در ثانیه است و سال نوری مسافتی است که نور در مدت یک سال خورشیدی طی می‌کند (9.46×10^{12} کیلومتر).

ناوبری : مسیریابی در هوا، خشکی و دریا و پیدا کردن راه از یک مکان به مکان دیگر است.

راه شیری : نواری کم‌رنگ از نور (شیری رنگ) که در شب‌های تیره در آسمان دیده می‌شود. این نوار شامل ستاره‌های کهکشان راه شیری است که از زمین، قابل رؤیت‌اند.

به کار بندیم

- ۱- الف) با استفاده از یک نقشه، طول و عرض جغرافیایی کشور ایران را بخوانید و بنویسید. ب) به کمک معلم و با مراجعه به منابع، طول و عرض جغرافیایی شهر یا روستای محل زندگی خود را پیدا کنید و بنویسید.
- ۲- به کمک معلم، طرز کار یک گیرنده سامانه موقعیت‌یابی جهانی (GPS) را مشاهده و بررسی کنید.
- ۳- در روزهای پاییز که این درس را مطالعه می‌کنید، چند نقطه از اتاق‌های خانه‌تان را که تابش آفتاب در آنجا مشاهده می‌شود علامت بزنید. سپس این نقاط و موقعیت آفتاب را در آنها در فصل زمستان و بهار نیز مشاهده کنید. چه نتیجه‌ای می‌گیرید؟
- ۴- میانگین سرعت گردش زمین به دور خورشید در یک ثانیه ۳۰ کیلومتر است، سرعت حرکت زمین به دور خورشید در یک ساعت چقدر است؟ حساب کنید.
- ۵- معنی آیه‌های زیر را از قرآن کریم استخراج کنید و بنویسید. از این آیه‌ها چه می‌فهمید؟
سوره انبیاء: آیه ۳۳، سوره یونس: آیه ۴۵، سوره رعد: آیه ۲، سوره احقاف: آیه ۳۳، سوره نازعات: آیه‌های ۲۷ و ۲۸.

سنگ کره، آب کره، هوا کره

۲

فصل

تا جایی که می‌دانیم، در منظومه شمسی ما و بسیاری از کره‌های دور و نزدیک به آن، تنها در سیاره زمین حیات وجود دارد. این به سبب آن است که در سیاره ما محیط مناسبی برای زندگی انسان و سایر موجودات زنده خلق شده است؛ مانند فاصله مناسب از خورشید، وجود آب، هوا و خاکی که گیاهان می‌توانند در آن رشد کنند.

انسان برای رفع نیازهای خود و ادامه حیات ناگزیر است از محیط‌های طبیعی بهره‌برداری کند. از سوی دیگر، این محیط‌ها شرایط و ویژگی‌هایی دارند و بر زندگی و فعالیت‌های انسان تأثیر می‌گذارند. زمین خانه انسان است اما در یکی دو قرن اخیر، انسان با پیشرفت در صنعت و فناوری به شدت به این خانه لطمه زده است.

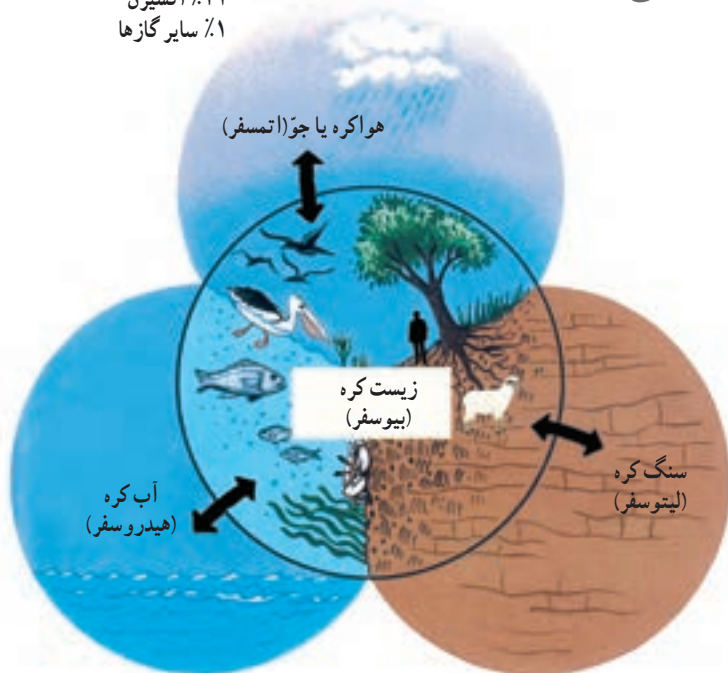
در این فصل، برخی قابلیت‌های سیاره زمین به عنوان محیط زندگی انسان و ضرورت حفاظت از این محیط بررسی می‌شود.

شما با مطالعه این فصل و انجام دادن فعالیت‌های آن به پاسخ پرسش‌های زیر پی می‌برید:

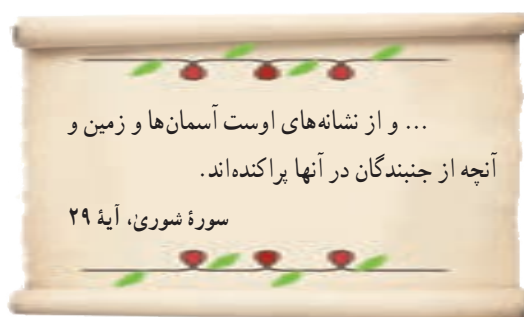
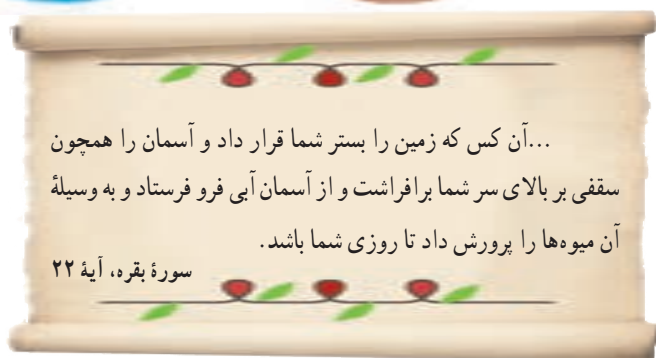
- ۱- سه محیطی که در سیاره زمین، شرایط زندگی را برای انسان و سایر موجودات زنده فراهم می‌آورند، کدام‌اند؟
- ۲- سنگ کره چه ویژگی‌هایی دارد و چه عواملی موجب پیدایش ناهموازی‌ها بر روی آن می‌شود؟
- ۳- آب کره چه خصوصیت‌هایی دارد و نقش و اهمیت آن در زندگی انسان چیست؟
- ۴- هوا کره چه ویژگی‌هایی دارد و عوامل مؤثر در آب و هوای مناطق مختلف زمین کدام‌اند؟

چهره زمین

۷۸٪ نیتروژن
۲۱٪ اکسیژن
۱٪ سایر گازها



سیاره‌ای که روی آن زندگی می‌کنیم، از چهار محیط تشکیل شده است: بخش خارجی کره زمین یا پوسته آن که حالت جامد دارد و از سنگ و خاک تشکیل شده است، سنگ کره (لیتوسفر) نامیده می‌شود. آب کره (هیدروسفر) شامل اقیانوس‌ها و دریاها، دریاچه‌ها، رودها و بقیه آب‌های سطحی، آب‌های زیرزمینی، یخچال‌ها و نزولات جوی است. هواکره یا جو (اتمسفر) نیز شامل گازهایی است که دور تا دور کره زمین را فرا گرفته‌اند. این سه محیط با هم سیاره زمین را برای زندگی انسان و دیگر موجودات زنده یعنی زیست کره (بیوسفر) مناسب می‌سازند.



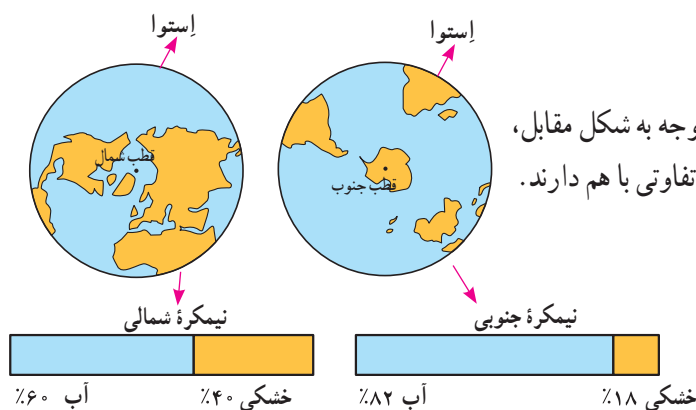
فعالیت

- ۱- زیست کره برای حیات، به هر یک از سه بخش سنگ کره، آب کره و هوا کره (جو) چه نیازی دارد؟ توضیح دهید.
- ۲- آیات قرآن کریم را بخوانید و ارتباط آنها را با این درس توضیح دهید.

خشکی‌ها

وسعت خشکی‌های زمین نسبت به آب‌ها کم است.

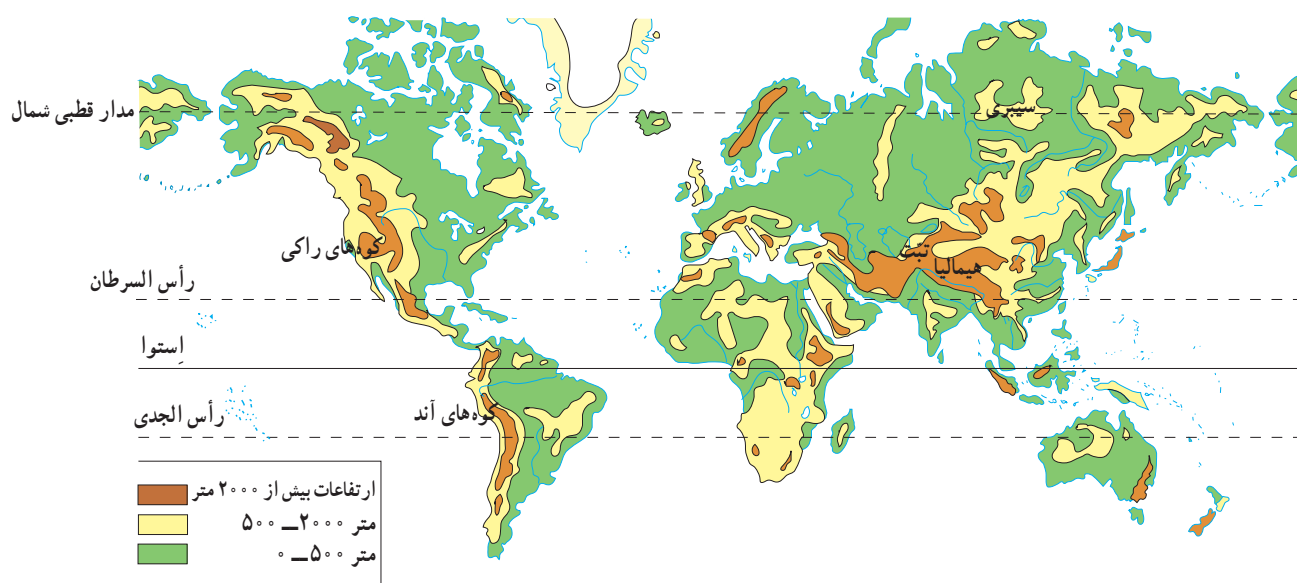
حدود ۷۱ درصد سطح زمین را آب تشکیل می‌دهد. با توجه به شکل مقابل، بگوئید دو نیمکره شمالی و جنوبی از نظر وسعت آب‌هایشان چه تفاوتی با هم دارند.



ناهمواری‌ها

سال گذشته با پنج مجموعهٔ بزرگ خشکی‌ها یعنی قاره‌های آسیا، اروپا، آفریقا، آمریکا، استرالیا و اقیانوسیه آشنا شدید. آنها را روی نقشه نام‌گذاری کنید.

سطح خشکی‌ها صاف نیست و فلات‌ها، کوه‌ها، تپه‌ها، دشت‌ها و جلگه‌ها پستی‌ها و بلندی‌های زیادی در آنها به وجود آورده‌اند. به نقشهٔ ناهمواری‌های جهان توجه کنید. روی نقشه سه رنگ مشاهده می‌کنید.

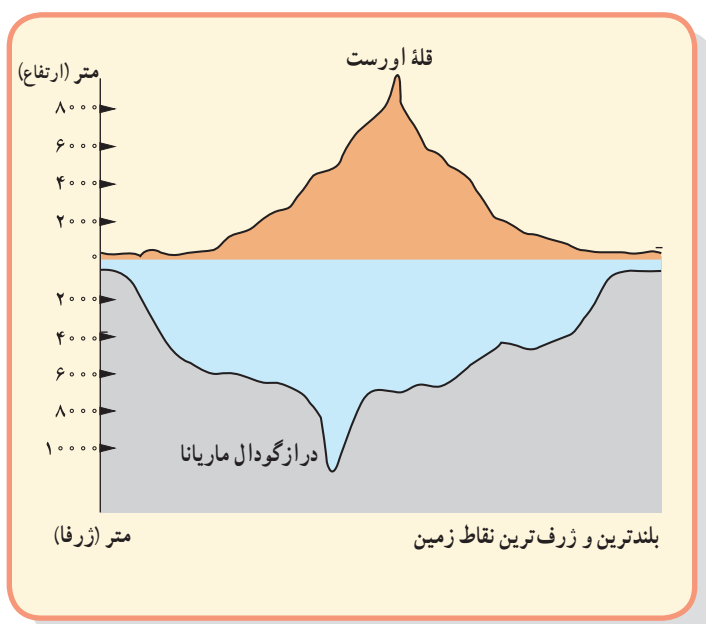


● رنگ سبز، جلگه‌ها و دشت‌ها یعنی سرزمین‌های پست را نشان می‌دهد. جلگه‌های پهناور جهان در کنار دریاها یا امتداد رودهای بزرگ تشکیل شده‌اند.

● رنگ زرد و قهوه‌ای، فلات‌ها و کوه‌های بلند را نشان می‌دهد. فلات‌ها سرزمین‌هایی نسبتاً هموار اما مرتفع‌اند که از اطراف به سرزمین‌های کم ارتفاع و پست منتهی می‌شوند. فلات تبت بلندترین فلات جهان است.



تصویر ماهواره‌ای فلات تبت



این فلات‌ها، کوه‌های بسیار بلند با قله‌های نوک تیز را در بر گرفته‌اند. کوه‌های بسیار مرتفع جزء ناهمواری‌های جوان هستند. دامنه‌ی این کوه‌ها شیب تندی دارند و دره‌های بین آنها تنگ و به شکل V است. به عکس، در کوه‌های کم ارتفاع با گذشت زمان و فرسایش، قله‌ها به شکل گنبدی در آمده‌اند و شیب دامنه‌ها ملایم است. این کوه‌ها دره‌های باز به شکل U دارند.



دره V شکل، ژاپن



دره U شکل، گرینلند

فعالیت

۳- جدولی با دو ستون رسم کنید: الف) کوهستان‌ها و دامنه‌ی آنها، ب) جلگه‌ها و دشت‌ها. سپس، به طور گروهی موارد استفاده و بهره‌برداری انسان از هر یک را در همان ستون فهرست کنید.



چهره‌ی زمین در میلیون‌ها سال پیش مانند امروز نبوده است. ناهمواری‌های جهان طی میلیون‌ها سال پدید آمده و در طول زمان تغییر شکل داده‌اند. به طور کلی، دو دسته از عوامل، موجب پیدایش و تغییر شکل ناهمواری‌ها شده‌اند: عوامل طبیعی و عوامل انسانی.

الف) عوامل طبیعی

عوامل درونی: امسال در کتاب علوم تجربی می‌خوانید

که طبق نظر دانشمندان، پوسته‌ی زمین به قطعات یا ورقه‌های بزرگی تقسیم شده است.

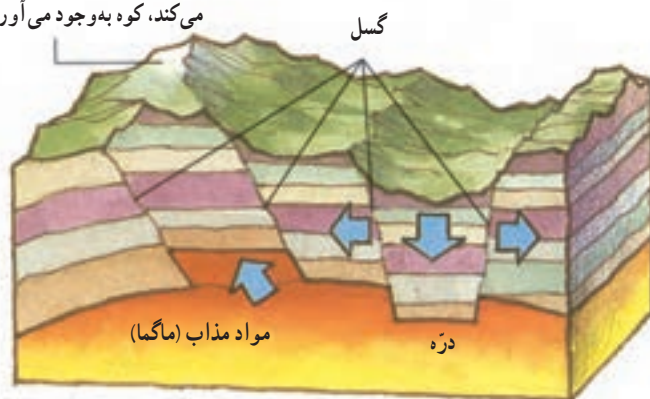
این ورقه‌ها (پوسته و گوشته فوقانی) بخش‌هایی از قاره‌ها تا کف اقیانوس‌ها را در بر می‌گیرند. ورقه‌ها روی بخش خمیری شکل گوشته یا نرم‌کره به آرامی حرکت می‌کنند، از هم دور یا به هم نزدیک

می‌شوند، به هم برخورد می‌کنند یا در امتداد هم می‌لغزند. البته ورقه‌ها بسیار کند حرکت می‌کنند و در هر سال فقط چند سانتی‌متر جابه‌جا می‌شوند اما این جابه‌جایی و حرکت طی میلیون‌ها سال، تغییرات زیادی در ناهمواری‌ها به وجود می‌آورد.


از نتایج حرکت ورقه‌ها، ایجاد چین‌خوردگی‌ها و رشته‌کوه، شکست‌ها (گسل‌ها) و کوه‌های آتشفشانی است.



بخشی که به سمت بالا حرکت می‌کند، کوه به وجود می‌آورد.



تشکیل کوه و دره در اثر شکستگی (گسل)



کوه آتشفشان (ولکانو)



عوامل بیرونی: هر چند ناهمواری‌ها بر اثر نیروهای درونی پدید می‌آیند اما در طول زمان، عواملی چون هوازدگی، فرسایش آبی، فرسایش بادی و فرسایش یخچالی تغییرات زیادی در چهره این ناهمواری‌ها پدید می‌آورد. شما در کتاب علوم تجربی سال هفتم و هشتم، تأثیرات این عوامل بیرونی را مطالعه و بررسی کرده‌اید.

(ب) عوامل انسانی

انسان چهره ناهمواری‌ها را تغییر می‌دهد.

علاوه بر عوامل طبیعی، فعالیت‌های انسان نیز نقش مهمی در تغییر شکل ناهمواری‌ها دارد. انسان همواره برای رفع نیازهای خود و بهره‌برداری از محیط طبیعی، چهره ناهمواری‌ها را تغییر داده است. به تصاویر صفحه بعد توجه کنید.

● تأثیر فعالیت‌های انسان بر ناهمواری‌ها



معادن



دریاچه ارومیه



کشت پلکانی برنج



سد و جاده



خانه‌های روستایی کندوان



تونل و جاده

● فعالیت

- ۴- به تصاویر بالا دقت کنید و توضیح دهید که در هر یک، تأثیر فعالیت انسان بر ناهمواری‌ها و محیط طبیعی چگونه است.
- ۵- گفت‌وگو کنید و دلیل و مثال بیاورید: به نظر شما، امروزه انسان بیشتر زندگی خود را با ناهمواری‌های زمین انطباق می‌دهد یا برعکس، ناهمواری‌ها را برای مقاصد خود تغییر می‌دهد یا هر دو؟ میزان دست‌کاری و دخالت انسان در محیط‌های طبیعی نسبت به گذشته بیشتر شده است یا کمتر؟ چرا؟

درس ۴

آب کره (هیدروسفر) همهٔ آب‌های زمین یعنی اقیانوس‌ها، دریاها، دریاچه‌ها و رودها و ... را شامل می‌شود. به نقشه توجه کنید و پنج مجموعهٔ بزرگ آب‌ها، یعنی اقیانوس‌های جهان، را نام ببرید. همان‌طور که مشاهده می‌کنید، اقیانوس آرام پهناورترین اقیانوس کرهٔ زمین است (تصور کنید مساحت آن ۱۰۰ برابر کشور ایران است!). این اقیانوس عمیق‌ترین اقیانوس جهان نیز هست. درازگودال ماریانا با ژرفای ۱۱۰۰۰ متر در نزدیکی مجمع‌الجزایر فیلیپین در این اقیانوس قرار دارد.



جزیره

سطح آب اقیانوس (۰ متر)

فلات قاره

شیب قاره

ساحل

۰ متر

۲۰۰۰ متر

۴۰۰۰ متر

۶۰۰۰ متر

۸۰۰۰ متر

دشت اقیانوسی

بوسته اقیانوسی

گودال اقیانوسی

* در جاهایی که اقیانوس‌ها با خشکی تماس دارند، اغلب ناحیه‌ای کم عمق با ژرفایی کمتر از ۲۰۰ متر دیده می‌شود که به آن فلات قاره (ایوان خشکی) می‌گویند. فلات قاره در دریاها و دریاچه‌ها نیز دیده می‌شود و در برخی از آنها جزیره‌هایی سر از آب بیرون آورده‌اند. معمولاً فلات قاره‌ها از نظر وجود منابع سرشار نفت و گاز و جزایر ماهیگیری اهمیت زیادی دارند. بعد از فلات قاره ناگهان شیب زیاد می‌شود و تا عمق ۲۰۰۰ تا ۵۰۰۰ متری ادامه می‌یابد؛ به این بخش شیب قاره می‌گویند.

* حرکات آب دریا به صورت موج، جزر و مد* و جریان‌های دریایی است که در کتاب علوم سال هفتم با آنها آشنا شده‌اید. جریان‌های دریایی گرم و سرد بر آب و هوای مناطقی که از مجاورت آنها عبور می‌کنند تأثیر می‌گذارند. همچنین، محل تلاقی آب‌های گرم و سرد از مهم‌ترین مناطق صید ماهی جهان است؛ مانند نیوفوندلند در آمریکا یا شرق ژاپن.

فعالیت

- ۱- با توجه به نقشه صفحه ۲۱، بگویند نیوفوندلند و شرق ژاپن، که از مناطق مهم ماهیگیری جهان هستند، در محل تلاقی کدام جریان‌های دریایی قرار دارند.
- ۲- چرا سفر به اعماق اقیانوس‌ها دشوارتر از صعود به قله‌هاست؟ چند دلیل ذکر کنید.
- ۳- کاربرگه شماره (۳) را در کلاس انجام دهید.

انسان و اقیانوس‌ها

اقیانوس‌ها یکی از منابع مهم تأمین غذا برای انسان هستند. این پهنه‌های آبی امکان حمل و نقل کم هزینه‌تر میلیون‌ها تن بار را با کشتی‌ها فراهم می‌آورند. اقیانوس‌ها همچنین به‌طور غیر مستقیم منبع تأمین آب شیرین برای ساکنان جهان‌اند. چطور؟


اقیانوس‌ها به همهٔ مردم جهان تعلق دارند اما به شدت مورد بی‌مهری آنها قرار دارند و هنوز هم مخزن زباله تلقی می‌شوند:

- سالیانه چند میلیون تن زباله‌های سمی کارخانه‌ها، پلاستیک و مواد تجزیه نشدنی به اقیانوس‌ها ریخته می‌شود. برخی کشورها از شیوهٔ دفن زباله‌های اتمی* در اعماق اقیانوس‌ها استفاده می‌کنند.
- صید بی‌رویه و انبوه ماهی‌ها، بدون آنکه فرصت تولید مثل برای آنها فراهم شود، نیز به بوم‌سازگان (اکوسیستم) آب‌ها به شدت لطمه می‌زند. به‌ویژه آنکه برخی کشورهای پیشرفته با دسترسی به فناوری‌های جدید مانند کشتی‌های مجهز به رادار یا نصب دائمی تورها در آب، به‌طور مداوم از اعماق آب و همهٔ نقاط اقیانوس‌ها ماهی صید می‌کنند.

؟ درازگودال ماریانا: می‌دانیم که تاکنون

صدها نفر به قلهٔ اورست در ارتفاع ۸۸۴۸ متری هیمالیا صعود کرده‌اند اما تا این زمان، فقط سه نفر در جهان موفق شده‌اند با زیردریایی به درازگودال ماریانا - که ۱۱۰۰۰ متر عمق دارد - سفر کنند!

آخرین بار در سال ۲۰۱۲ میلادی یک کارگردان آمریکایی توانست به این گودال سفر کند و ۲ ساعت در گودال، داخل زیردریایی بماند و بازگردد.



زیردریایی جیمز کامرون هنگام ورود به آب



ساحل اقیانوس آرام، کوئینزلند، استرالیا



دستگاه‌های آب شیرین کن با نمک زدایی* از آب دریا آب شیرین تهیه می‌کنند. این کار بسیار گران و انرژی بر است.

بیشترین آب شیرین کن‌های جهان در کشورهای حاشیه خلیج فارس، به‌ویژه عربستان، امارات متحده عربی و کویت قرار دارند. به نظر کارشناسان محیط زیست، پساب حاصل از آب شیرین کن‌ها شوری و دمای آب‌ها را افزایش می‌دهد و برای آبزیان نیز ضرر دارد.



نیروگاه عظیم آب شیرین کن «جبل علی» در امارات متحده عربی

یک خبر خوب :

پس از یک دهه تلاش سازمان‌های بین‌المللی محیط زیست، به تازگی ۱۹۰ کشور عضو سازمان ملل متحد توافق کرده‌اند که به زودی یک معاهده بین‌المللی برای حفاظت از اقیانوس‌ها تهیه و همگی آن را امضا کنند و به آن متعهد باشند.

در این معاهده، برای واپایش (کنترل) صید ماهی و استخراج منابع و جلوگیری از آلودگی آب‌ها و ایجاد مناطق حفاظت شده در اقیانوس‌ها قوانینی وضع می‌شود.

خبرگزاری جمهوری اسلامی ایران

۹۳/۱۱/۶

با توجه به تولید خودرو میزان مصرف بنزین و گازوئیل در ایران

ده سال دو برابر می‌شود

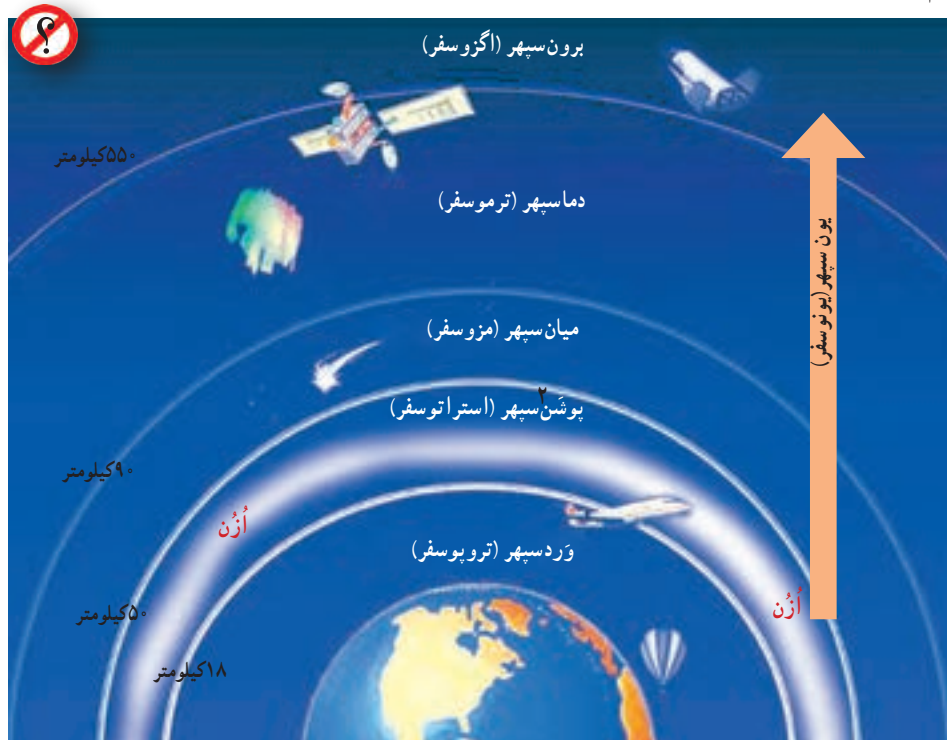
صفحه ۲

فعّالیت

- ۴- درباره نسبت خشکی‌ها و آب‌های کره زمین فکر کنید و بگویید اگر چنین نسبتی برعکس می‌شد، چه اتفاق‌هایی می‌افتاد.
- ۵- الف) خبر بالا را بخوانید. این خبر از چه جنبه‌هایی مهم است؟ ب) برخی از کشورهای قدرتمند در برابر یک توافق بین‌المللی برای حفاظت و واپایش (کنترل) اقیانوس‌ها مقاومت می‌کنند و با این کار چندان موافق نیستند. به نظر شما چرا؟
- ۶- فعّالیت شماره ۱ «به کار ببندیم» را انجام دهید.

هواکره (اتمسفر)

جوّ یا هواکره لایه‌ای از گاز است که از سطح زمین تا ارتفاع حدود ۳۰۰۰ کیلومتری اطراف سیاره زمین را در بر گرفته است. جوّ مخلوطی از گازهای مختلف نیتروژن (۷۸٪)، اکسیژن (۲۱٪) و سایر گازها مانند دی اکسید کربن و بخار آب است. به شکل توجه کنید؛ جوّ خود از لایه‌های مختلف تشکیل شده است. پایین‌ترین لایه، که نزدیک به سطح زمین است، وُرد^۱ سپهر (تروپوسفر) نام دارد. تشکیل ابرها و بسیاری از تغییرات آب و هوایی در این لایه صورت می‌گیرد.



تنوع آب و هوا در جهان

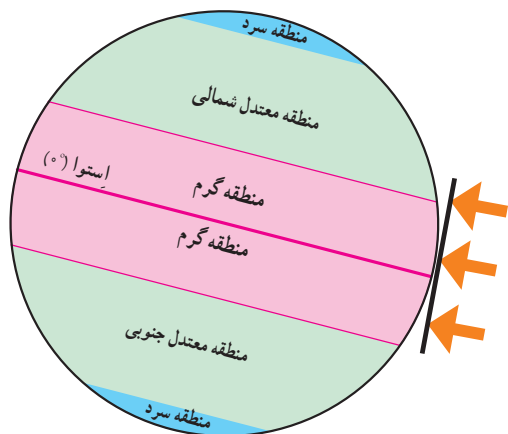
سال گذشته با مطالعه قاره‌ها بی‌بردید که در بخش‌های مختلف کره زمین آب و هواهای گوناگونی وجود دارد. برای مثال، در جنگل‌های کنگو در آفریقا آب و هوا گرم و مرطوب است؛ در حالی که در شمال آن در صحرای بزرگ آفریقا آب و هوا بسیار گرم و خشک است. در همین حال، نواحی ساحلی آفریقا در کنار دریای مدیترانه، آب و هوای مدیترانه‌ای دارند. چه عواملی موجب چنین تفاوت‌هایی می‌شود؟

عوامل مؤثر بر آب و هوای جهان

۱- زاویه تابش خورشید و عرض جغرافیایی

اشعه خورشید از لایه‌های مختلف هواکره عبور می‌کند و به زمین می‌رسد. سرزمین‌های نزدیک استوا اشعه عمودی خورشید را دریافت می‌کنند اما هرچه از استوا به طرف قطب‌ها پیش می‌رویم، تابش خورشید مایل‌تر می‌شود. در نتیجه، گرمای کمتری به زمین می‌رسد. به طور کلی، یکسان نتابیدن خورشید به سطح زمین، سه منطقه را در روی زمین پدید می‌آورد :

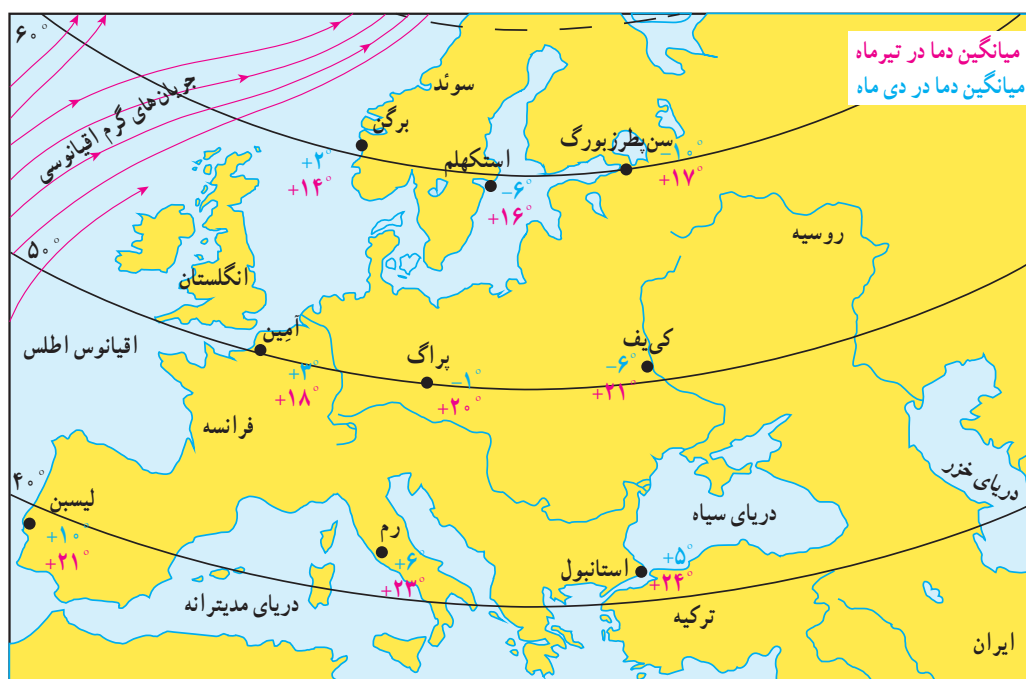
۱- وُرد به معنی تغییر است. ۲- پوشش به معنی لحاف، محافظ و پوشش است.



- ۱- منطقه گرم در دو طرف استوا تا مدارهای رأس السرطان و رأس الجدی
 - ۲- منطقه معتدل شمالی و جنوبی، ۳- منطقه سرد در مجاورت قطب‌ها.
- بدین ترتیب، هرچه از مدار استوا (صفر درجه) به سمت عرض‌های جغرافیایی بالاتر حرکت کنیم، دمای هوا کاهش می‌یابد و در نواحی مجاور قطب‌ها کمترین میانگین دمای سالانه دیده می‌شود.

۲- دوری و نزدیکی به اقیانوس‌ها و دریاها

خشکی‌ها زودتر از آب‌ها گرم می‌شوند و سریع‌تر گرمای خود را از دست می‌دهند. آب‌ها بیشتر از خشکی‌ها گرما را در خود ذخیره می‌کنند. به همین سبب، اقیانوس‌ها و دریاها موجب اعتدال دمای نواحی مجاور خود در زمستان و تابستان می‌شوند و گرما و سرمای مناطق را کاهش می‌دهند.



فعالیت

- ۷- به نقشه توجه کنید. در دی ماه ژم سردتر است یا استکهلم؟ چرا؟ سه شهر برگن، استکهلم و سن پترزبورگ (لنینگراد) تقریباً در یک عرض جغرافیایی قرار دارند اما میانگین دمای این شهرها در دی ماه متفاوت است. چرا؟ دوشهر آمین (در کشور فرانسه) و کی‌یف بر روی یک عرض جغرافیایی قرار دارند اما میانگین دمای این دو شهر در دی ماه متفاوت است. چرا؟ هرچه از شهرهای نواحی داخلی به سمت شهرهای مجاور اقیانوس می‌رویم، سرمای زمستان می‌شود.
- ۸- به تصویر صفحه قبل توجه کنید. لایه اُزن در کدام بخش هوا کره قرار دارد؟ آیا می‌توانید در یک جمله بگویید فایده لایه اُزن چیست؟ در این باره پرس و جو کنید.

همان‌طور که پیش‌تر گفتیم، عبور جریان‌های دریایی آب گرم از کناره‌ کشورها موجب می‌شود که سرمای هوا در زمستان کاهش پیدا کند. به عکس، عبور جریان‌های آب سرد موجب بروز سرمای شدید در کناره‌ها می‌شود؛ مانند جریان آب سرد گرینلند که از کناره‌های کانادا عبور می‌کند.

۳- ارتفاع از سطح زمین

در لایهٔ وِردسپهر (تروپوسفر)، هر چه از سطح زمین بالاتر می‌رویم دمای هوا کم می‌شود (به ازای هر ۱۰۰۰ متر ارتفاع، دما ۶ درجهٔ سانتی‌گراد کاهش می‌یابد). بنابراین، در نواحی مرتفع و بر فراز قله‌ها و کوه‌ها و دامنه‌ها دما پایین‌تر از نواحی پست است.

همچنین ارتفاعات می‌توانند از نفوذ توده‌های مرطوب به نواحی آن سوی خود جلوگیری کنند؛ مانند رشته کوه‌های هیمالیا در شمال هند یا البرز در ایران. ارتفاعات جهت وزش بادهای را نیز تغییر می‌دهند.



۴- فشار هوا و جریان باد

هوا مانند همهٔ گازها سنگینی دارد و بر همه چیز فشار وارد می‌کند.

ولی ما این فشار را حس نمی‌کنیم. فشار هوا را با دستگاه‌های فشارسنج

اندازه‌گیری می‌کنند. فشار هوا در یک مکان متغیر است و زیاد یا کم می‌شود.

هوا همیشه از جایی که فشار بیشتری دارد به سمت جایی که فشار کمتری وجود دارد جریان

می‌یابد و به این ترتیب، باد به وجود می‌آید. پراکندگی کانون‌های فشار (مناطق فشار زیاد و مناطق فشار کم) از عوامل مهم جریان عمومی هوا و تغییرات آب و هوایی در مناطق مختلف است.



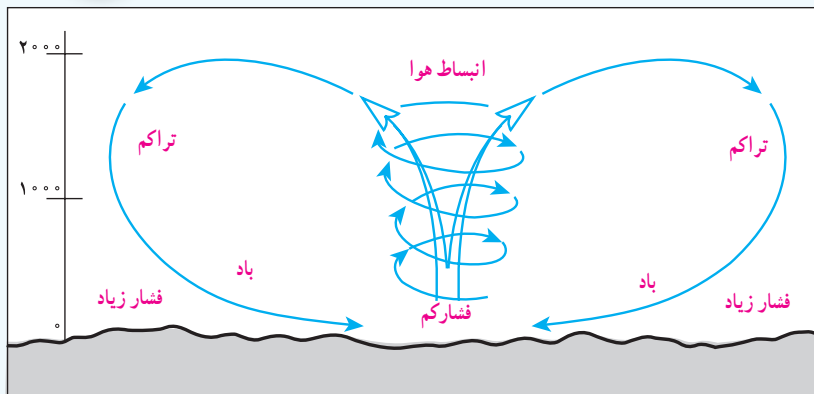
فشارسنج جیوه‌ای

انسان و تغییرات آب و هوایی

دانشمندان معتقدند که طی صد سال گذشته، میانگین دمای زمین نسبت به قبل افزایش یافته است. به نظر آنها یکی از علل مهم افزایش دما، زیاد شدن تعداد خودروها و افزایش فعالیت‌های صنعتی است که از سوخت‌های فسیلی استفاده می‌کنند و موجب آلودگی هوا و افزایش گازهای گلخانه‌ای* در هواکره می‌شوند.

برخی معتقدند گرم شدن کرهٔ زمین ممکن است پیامدهای ناخوشایندی داشته باشد؛ مانند ذوب شدن یخ‌های قطبی، بالا آمدن آب دریا، به زیر آب رفتن نواحی ساحلی و جزیره‌ها یا افزایش و طولانی شدن دوره‌های خشکسالی در نواحی گرم و خشک، افزایش سیلاب و مواردی از این قبیل.





از اختلاف فشار هوا و جابه‌جا شدن آن باد به وجود می‌آید.

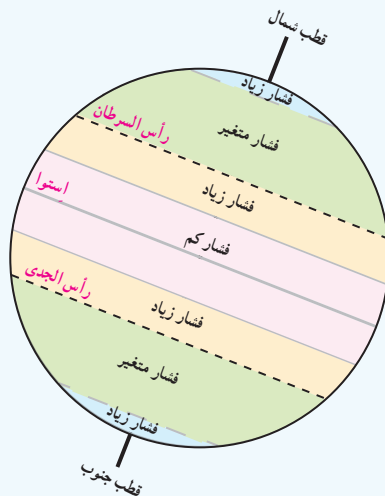
هوای گرم فشار کمتری دارد؛ زیرا منبسط می‌شود و مولکول‌های آن از هم فاصله می‌گیرند. هوای گرم سبک است و به سمت بالا صعود می‌کند.

هوای سرد فشار بیشتری دارد؛ زیرا سرما موجب تراکم و فشردگی بیشتر مولکول‌ها می‌شود. هوای سرد سنگین است و به سمت پایین و سطح زمین فرود می‌آید.

از جابه‌جایی هوای سرد پرفشار و هوای گرم کم‌فشار باد به وجود می‌آید.

ممکن است این سؤال برای شما پیش بیاید چرا با آنکه می‌گوییم هوای سرد فشار زیادتری دارد اما در ارتفاعات فشار هوا کم است؟ علت این است که با بالا رفتن از سطح زمین هوا رقیق‌تر و چگالی آن کم می‌شود، زیرا با فاصله گرفتن از سطح زمین مقدار جاذبه کمتر می‌شود. بنابراین در ارتفاعات فشار هوا کم است. هر چه از سطح زمین بالاتر برویم، فشار هوا کم می‌شود. به همین دلیل، فشار هوا در سطح دریاها زیاد و در ارتفاعات و کوهستان‌ها کم است.

کمربندهای فشار



کانون‌های فشار در دو نیمکره شمالی و جنوبی حالت قرینه دارند.

* منطقه استوایی کانون فشار کم است. در این منطقه، هوا گرم و مرطوب است.

* سرزمین‌های مجاور مدار رأس السرطان و رأس الجدی کانون فشار زیادند.

* مناطق معتدل کانون فشارهای متغیرند. در این مناطق در زمستان‌ها، خشکی‌ها خیلی سرد و در تابستان خیلی گرم می‌شوند. از سوی دیگر، این مناطق مورد هجوم فشار زیاد و کم از مجاور قرار می‌گیرند.

* مناطق قطبی در سراسر سال هوای سرد و خشک دارند و کانون فشار زیادند.

فعالیت

۹- الف) چرا کوه‌نوردان در ارتفاعات زیاد ممکن است با مشکلات تنفسی روبه‌رو شوند؟ (ب) چرا در هواپیما، قبل از شروع پرواز، نحوه استفاده از ماسک اکسیژن به مسافران آموزش داده می‌شود؟

۱۰- با مشاهده دقیق محیط زندگی خود بگویید چه کارها و فعالیت‌هایی موجب آلودگی هوا می‌شود. حداقل به سه مورد اشاره کنید.



واژه‌ها

جزر و مد: بالا آمدن و پایین رفتن منظم و دوره‌ای آب اقیانوس‌ها، دریاها، خلیج‌ها و خورها به علت نیروی جاذبه ماه و خورشید است و هر روز دو بار تکرار می‌شود. بالا آمدن آب دریا را مد و پایین رفتن آن را جزر می‌گویند.

زباله اتمی: پسماندهایی است که از فعالیت‌های رآکتورهای هسته‌ای یا آزمایش‌های مربوط به آنها حاصل می‌شود و به دلیل پرتوزایی برای انسان و موجودات زنده مضر است. زباله اتمی در درازمدت آب و خاک را هم آلوده می‌کند. امروزه چگونگی دفع این پسماندها از نگرانی‌های مهم استفاده کنندگان از انرژی اتمی است.

نمک زدایی: فرایندی که طی آن، نمک و برخی مواد معدنی را از آب شور دریا جدا می‌کنند و آن را به آب شیرین قابل استفاده تبدیل می‌کنند. این فرایند با دستگاه‌های مختلف، به روش‌های گوناگون، از جمله تقطیر انجام می‌شود.

گازهای گلخانه‌ای: گازهایی مانند بخار آب، دی اکسید کربن، متان و اُزن که به طور طبیعی در جو وجود دارند و تبادل‌های شیمیایی آنها برای سیاره زمین و موجودات آن مفید است. امروزه انسان از طریق فعالیت‌های صنعتی و وارد کردن برخی از این گازها، مانند دی اکسید کربن در هوا، حجم و ترکیب گازهای گلخانه‌ای را به هم می‌زند.

به کاربندیم

- ۱- یکی از فعالیت‌های زیر را به دلخواه انجام دهید.
الف) به طور گروهی برای حفاظت از اقیانوس‌ها و دریاها پیش‌نویس قوانین تهیه کنید و راهکارهایی را نیز به کشورها توصیه کنید.
ب) به طور گروهی، پوستری با موضوع حفاظت از آب‌های خلیج فارس برای گردهمایی فرضی سران کشورهای منطقه طراحی کنید و پیامی نیز روی آن بنویسید.
- ۲- روی برخی افشانه‌ها (اسپری) نوشته «اُزن را دوست نداریم» یا «دوست اُزن» و یا علامت آن مشاهده می‌شود. پرس‌وجو کنید که منظور از این نوشته یا علامت چیست و این کالاها چه خصوصیاتی دارند.

زیست کره، تنوع شگفت انگیز



فصل

در بیابان‌های خشک و سوزان «صحرای آفریقا»، جنگل‌های انبوه «آمازون»، اعماق اقیانوس‌ها و صخره‌های مرجانی درخشان و بلندی‌های سطح زمین، گونه‌های بی‌شماری از گیاهان و جانوران زندگی می‌کنند. آمیزه‌ای شگفت‌انگیز از رنگ‌ها و چشم‌اندازهای گوناگون، از ریزترین حشره‌ها تا بزرگ‌جثه‌ترین جانوران، عظمت خلقت را به ما نشان می‌دهند.

طی چند میلیارد سال عمر کره زمین، هزاران گونه زیستی خلق و بر روی آن پدیدار شده‌اند و تنوع زیستی فوق‌العاده‌ای را برای این سیاره به ارمغان آورده‌اند. اما امروزه کاهش و نابودی همین تنوع زیستی، یکی از مشکلات و نگرانی‌های مهم محیط‌زیستی در جهان است. محیط‌های طبیعی با سرعتی شدید در حال تخریب‌اند و برخی گونه‌ها در معرض خطر انقراض قرار گرفته‌اند.

این فصل به مطالعه تنوع زیست‌بوم‌های جهان و ضرورت آشتی انسان با طبیعت می‌پردازد.

شما با مطالعه این فصل و انجام دادن فعالیت‌های آن به پاسخ پرسش‌های زیر پی می‌برید:

۱- قلمرو زیست‌بوم‌های مهم جهان کجاست و زیست‌بوم‌ها چگونه در سطح زمین پراکنده شده‌اند؟

۲- مهم‌ترین ویژگی‌های هریک از زیست‌بوم‌ها چیست؟

۳- تنوع و طبقه‌بندی زیست‌بوم‌ها به چه عواملی بستگی دارد؟

۴- چه عواملی زیست‌بوم‌ها را در معرض خطر قرار داده‌اند؟

۵- چرا و چگونه باید از تنوع زیستی، محافظت کنیم؟



پراکندگی زیست بوم های جهان



به تصاویر (۱) و (۲) دقت کنید. آیا می‌توانید گیاه و جانوری را که در این دو تصویر مشاهده می‌کنید، نام ببرید؟ به نظر شما این گیاهان و جانوران در کدام نواحی جهان یافت می‌شوند؟ چرا؟ اکنون بگویید تصاویر (۳) و (۴) کدام نواحی جغرافیایی را نشان می‌دهند؟ در هریک از این نواحی، کدام گیاهان و جانوران می‌توانند زندگی کنند؟

زیست بوم (بیوم)

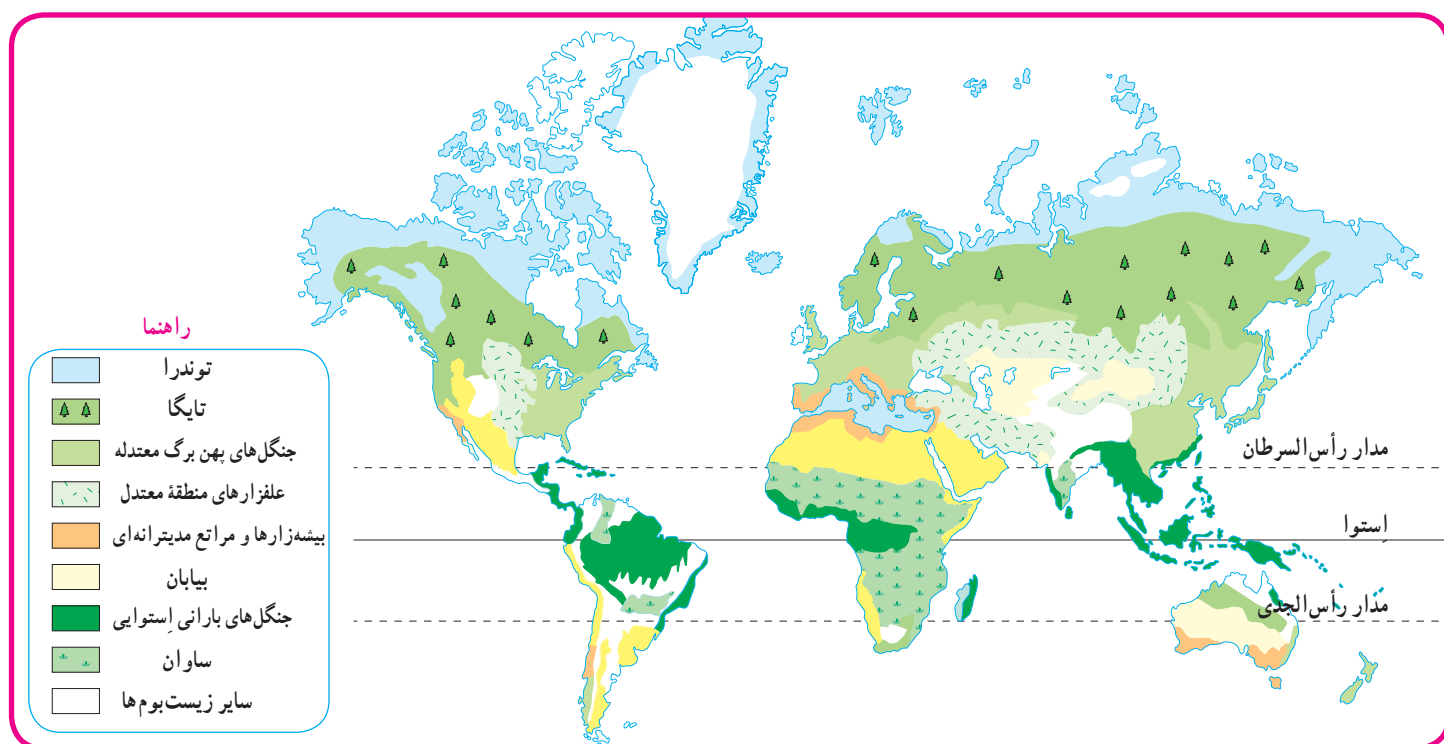
زیست بوم یک ناحیه وسیع جغرافیایی است که در آن، انواع خاصی از گیاهان و جانوران زندگی می‌کنند و ناحیه مشخصی را به وجود می‌آورند. هر زیست بوم از چند بوم سازگان (اکوسیستم) تشکیل شده است. شما در کتاب علوم امسال با مفهوم و اجزا و عناصر بوم سازگان بیشتر آشنا می‌شوید.

تنوع زیست‌بوم‌ها به چه عواملی، بستگی دارد؟

وجود هر زیست‌بوم در یک ناحیه به عوامل مختلفی چون آب و هوا، شکل ناهمواری‌ها، میزان ارتفاع زمین، و جنس خاک بستگی دارد. در میان همه این عوامل، آب و هوا مهم‌ترین و بیشترین تأثیر را دارد. از میان عناصر آب و هوایی، دو عنصر «دما» و «بارش» بر نوع و میزان پوشش گیاهی اثر می‌گذارند؛ به طوری که با تغییر دما و بارش از یک ناحیه به ناحیه دیگر، پوشش گیاهی تغییر می‌کند. دما عامل مهمی در رویش گیاهان است و در مناطقی که دمای هوا بسیار پایین است، گیاهان نمی‌توانند برویند. میزان بارش نیز تأثیر زیادی بر میزان پوشش گیاهی یک منطقه دارد. علاوه بر میزان دما و بارش، عوامل دیگری چون طول مدت فصل خشک و تبخیر نیز در پوشش گیاهی مؤثرند.

پراکندگی زیست‌بوم‌های جهان

به نقشه توجه کنید. در این نقشه، سطح زمین به هشت زیست‌بوم تقسیم شده است. آنها را نام ببرید و قلمروشان را روی نقشه نشان دهید. یک زیست‌بوم ممکن است بخش وسیعی از یک قاره را دربرگیرد و یا ویژگی‌های آن در چند قاره یافت شود.



توجه :

– در جغرافیای زیستی* و بوم‌شناسی* (اکولوژی) تقسیمات مختلفی برای زیست‌بوم‌ها ارائه شده است. یکی از جغرافی دانان زیستی به نام «گودی» تقسیم‌بندی خود را به ۸ زیست‌بوم محدود کرده است که آنها را در نقشه‌های بالا مشاهده می‌کنید.

– این نقشه، پراکندگی زیست‌بوم‌ها را در کل جهان نشان می‌دهد. در نقشه‌های کلی و عمومی، جزئیات نواحی محلی نشان داده نمی‌شود و مرز بین نواحی دقیق نیست.

○ فعالیت

- ۱- با توجه به راهنمای نقشه، نام زیست بوم های توندرا، تایگا، جنگل های بارانی استوایی، ساوان و بیابان را روی نقشه در محل مربوط بنویسید.
- ۲- با توجه به نقشه صفحه پیش و با مراجعه به یک اطلس، بگوئید که جنگل های بارانی استوایی در کدام قاره ها و کشورها، وجود دارند و کدام کشور، بیشترین وسعت جنگل های بارانی استوایی را دارد.
- ۴- کاربرگه شماره (۴) را در کلاس انجام دهید.

اکنون ویژگی های چند نمونه از زیست بوم های جهان را مطالعه کنید و فعالیت مربوط به آن را انجام دهید.

توندرا

توندرا ناحیه ای در نزدیکی قطب شمال و حاشیه اقیانوس منجمد شمالی است. این ناحیه، زمستان های طولانی دارد و سرمای هوا در آن، بسیار شدید است؛ به طوری که به 34°C - نیز می رسد. در این ناحیه، تابستان ها کوتاه و میانگین دما، حداکثر 12° درجه سانتی گراد است.

زمین های توندرا از یخ و برف پوشیده شده است. در تابستان با ذوب شدن یخ ها، در زیر خاک، باتلاق های کم عمق ایجاد می شود. در توندرا فقط گیاهانی چون خزه و گل سنگ می توانند برویند. بزرگ جنه ترین جانور توندرا، خرس قطبی است. در زمستان، برخی از جانوران این منطقه به نواحی گرم تر مجاور مهاجرت می کنند.



روباه قطبی



خزه و گل سنگ



خرس قطبی در حال پریدن




اسکیموها و گوزن شمالی

تایگا



جنگل‌های تایگا، زمستان



عقاب کاکل سفید، آلاسکا



گرگ خاکستری



سمور دریایی، کانادا



حمل الوار، کانادا

زیست‌بوم تایگا از گسترده‌ترین زیست‌بوم‌هاست و در جنوب توندرا و در قاره‌های آسیا، اروپا و آمریکای شمالی گسترش یافته است. در این منطقه، در ۶ ماه از سال میانگین دما کمتر از صفر درجه است. بارندگی بین ۲۵۰ تا ۵۰۰ میلی‌متر و زمین همیشه مرطوب است. ناحیه تایگا به داشتن جنگل‌های مخروطیان و سوزنی‌برگ‌ها معروف است. درختان این ناحیه، مانند کاج و سرو، همیشه سبزند و برگ‌ریزان ندارند. تقریباً تمام جنگل‌های کشور کانادا از نوع تایگاست. این جنگل‌ها بخش عمده‌ای از چوب نرم برای تولید کاغذ را تأمین می‌کنند. در زمستان، برخی از جانوران این منطقه نیز به نواحی گرم‌تر مجاور مهاجرت می‌کنند.

جنگل‌های بارانی استوایی



بامبو



جنگل‌های انبوه استوایی و خزندگان

این زیست‌بوم در مجاورت خط استوا در چند قاره گسترده شده است. در این منطقه، هوا همیشه گرم، رطوبت حدود ۸۰ درصد و میزان بارندگی سالیانه ۲۵۰۰ میلی‌متر است. جنگل‌های بارانی استوایی چند طبقه‌اند. در زیر درختان بلندتر، درختان کوتاه‌تر و علف‌ها، که رشد بسیار سریعی دارند، وجود دارند. ارتفاع درختان بلند گاه به ۲۵ تا ۳۵ متر نیز می‌رسد.

این زیست‌بوم بیشترین تنوع زیستی جهان را دارد و انواع حشره‌ها، پرندگان، خزندگان و پستانداران در آن زندگی می‌کنند. درختان شاه‌پسند (مانگرو)، نارگیل، قهوه سودانی، هویا و بامبو از جمله گیاهان این ناحیه‌اند.



توکا



بابون، یک نوع میمون



مزرعه پالم (نخل روغنی)، مالزی

ساوان

ساوان منطقهٔ علفزارها با درختان تک و منفرد است که در مجاورت جنگل‌های استوایی واقع شده است. بیشترین وسعت ساوان در قارهٔ آفریقا است.

آب و هوای ساوان در تمام طول سال، گرم است و در آن، دو فصل خشک و مرطوب وجود دارد. ساوان از نظر تنوع جانوری بسیار غنی است. در ساوان، علف‌خواران تنومند چون گورخر، فیل، زرافه و کرگدن فراوانند و گوشت‌خواران درنده، چون شیر از این گیاه‌خواران تغذیه می‌کنند. درختان بائوباب از گونه‌های گیاهی مشهور ساوان هستند.



درختان بائوباب



شیر ساوان



گورخر و فیل در علفزارهای ساوان



کلبه‌ای در منطقهٔ ساوان، کنیا

بیابان



لاک پشت صحرایی، جنوب کالیفرنیا



خار پشت گوش بلند



مارمولک خاردار استرالیایی

به سرزمین‌های خشکی که میزان بارندگی سالیانه آنها کمتر از ۵۰ میلی‌متر باشد، بیابان گفته می‌شود. بخش عمده‌ای از بیابان‌های گرم و خشک جهان در مجاورت مدار رأس‌السرطان و رأس‌الجدي واقع شده‌اند؛ مانند صحرا در آفریقا، ربع‌الخلی در عربستان و لوت در ایران. وقتی سخن از بیابان به میان می‌آید، ما به یاد مناطق گرم می‌افتیم؛ در حالی که بیابان‌های سرد نیز در جهان وجود دارند. بیابان گبی که اطراف آن را کوه فرا گرفته است، جزء بیابان‌های سرد جهان است.

بیابان‌ها از نظر پوشش گیاهی فقیرند و فقط درختان یا بوته‌های خاردار، که در مقابل خشکی هوا و تبخیر مقاوم‌اند یا آب را در خود ذخیره می‌کنند، می‌توانند در آنجا زندگی کنند.



روبه صحرای بزرگ آفریقا (Sahara)



حمل و نقل با شتر، بیابان

فعالیت

- ۵- کاربرگه‌های شماره (۵) و (۶) را کامل کنید.
- ۶- فرض کنید قرار است به شما یک سفر رایگان همراه با گروهی از گردشگران طبیعت (اکوتوریست) جایزه بدهند. کدام زیست‌بوم را برای سفر انتخاب می‌کنید؟ چرا؟
- ۷- به طور گروهی، یک برگه تبلیغاتی (پروشور) مسافرتی برای مسافران یکی از زیست‌بوم‌ها تهیه کنید. روی برگه، یک پیام جالب برای ترغیب گردشگران به مسافرت به آنجا بنویسید. چند تصویر جذاب از گیاهان یا جانوران آن ناحیه هم روی آن بچسبانید یا نقاشی کنید.
- در برگه تبلیغاتی خود درباره آب و هوا، جانوران و گیاهان آن منطقه مطالبی بنویسید و به مسافران توصیه کنید که هنگام سفر به آن منطقه، چه وسایل یا لباس‌هایی به همراه داشته باشند.

زیست بوم‌ها در خطرند

در دو قرن اخیر، میزان تغییرات زیست بوم‌های جهان از تغییراتی که در تمام مدت عمرشان بر سیاره زمین داشته‌اند، بیشتر بوده است. در این مدت کوتاه، ده‌ها گونه جانوری و گیاهی منقرض شده و بسیاری از گونه‌ها نیز در معرض خطر انقراض قرار گرفته‌اند. وقتی آخرین عضو یک گونه می‌میرد، دیگر تولید مثلی صورت نمی‌گیرد. در نتیجه، آن گونه برای همیشه منقرض و ناپدید می‌شود. به تصاویر توجه کنید. اکنون به نقشه توجه کنید. این نقشه پراکندگی تعداد گونه‌های در معرض خطر را در نواحی مختلف جهان نشان می‌دهد.



ببر سیبری




خرس پاندا




رافلزیا (یک گونه انگلی) بزرگ‌ترین گلی که قطر آن تا یک متر است و عمری چند روزه دارد.



پرندۀ بهشت



غزال عربی



فیل آفریقایی



کرگدن سفید با بیش از ۲۰۰۰ کیلوگرم وزن



فعالیت

با توجه به نقشه

- ۱- الف) سه کشور نام ببرید که بیش از ۳۰۰ گونه در معرض خطر دارند.
- ب) دو کشور نام ببرید که کمتر از ۵۰ گونه در معرض خطر دارند.
- ۲- نواحی جنوب شرقی آسیا، استرالیا و آمریکای جنوبی را از نظر تعداد گونه‌های در معرض خطر با کانادا و اروپای شمالی مقایسه کنید. علت تفاوت چیست؟
- ۳- چرا در صحرای آفریقا تعداد گونه‌های در معرض خطر بسیار کم است؟



درخت اژدها



وزغ درختی بهاری



لاک پشت مرداب




قورباغه درختی چشم قرمز



گوریل



درختان بانویاب



شامپانزه



تعداد گونه‌های در معرض تهدید



۳۰۰-۷۰۰



۱۰۰-۳۰۰



۵۰-۹۹



کمتر از ۵۰

زیستگاه‌ها چرا و چگونه تخریب می‌شوند؟

در دو سه قرن اخیر، انسان در علوم و فناوری پیشرفت‌های چشمگیری داشته است، اما در مقابل همه این پیشرفت‌ها، به شدت به محیط زیست خود لطمه وارد کرده است.

تنوع زیستی زمانی در معرض خطر قرار می‌گیرد که زیستگاه طبیعی گیاهان و جانوران تخریب شود. با تخریب پوشش گیاهی در یک منطقه، غذا کم می‌شود و شرایط محیطی نامناسب گونه‌های جانوری را نیز از بین می‌برد.

مهم‌ترین عواملی که باعث تخریب زیستگاه‌ها می‌شوند عبارت‌اند از:

- ایجاد و گسترش شهرها و روستاها، ساختن پل، جاده، ساختمان‌ها و سدها بدون برنامه‌ریزی و توجه به جنبه‌های زیست محیطی
- فعالیت‌های صنعتی و تولید انبوه کالاها در کارخانه‌ها
- مصرف‌گرایی و تولید انبوه زباله
- شکار و تجارت اعضای بدن حیوانات.

اکنون بیاید به طور موردی تخریب یکی از مهم‌ترین زیست بوم‌های جهان – یعنی جنگل‌های استوایی – و شکار یکی از گونه‌های جانوری به منظور تجارت را بررسی کنیم:

مطالعه موردی (۱)

اهمیت و ارزش جنگل‌های بارانی استوایی

جنگل‌های بارانی استوایی از پیچیده‌ترین زیست بوم‌های جهان است که غنی‌ترین تنوع گیاهی و جانوری را دارد. $\frac{3}{4}$ تنوع زیستی جهان مربوط به این جنگل‌هاست. جنگل‌های استوایی را «ریه‌های زمین» نامیده‌اند. برخی از دانشمندان معتقدند که این جنگل‌ها حدود ۵۰ درصد اکسیژن سیاره زمین و ۵۰ درصد رطوبت جو را تولید می‌کنند و به همین دلیل، بر آب و هوای کل سیاره زمین اثر می‌گذارند. دی‌اکسید کربن گازی است که در اثر فعالیت‌های انسان و استفاده از سوخت‌های فسیلی وارد جو می‌شود. این جنگل‌های انبوه قابلیت جذب دی‌اکسید کربن و تبدیل آن به اکسیژن را دارند.

جنگل‌های بارانی استوایی خاستگاه اولیه بسیاری از درختان میوه جهان مانند موز، نارگیل و انبه بوده است. امروزه از این جنگل‌ها انواع محصولات غذایی، دارویی و مواد اولیه صنعتی به دست می‌آید. قهوه، کاکائو، انواع روغن‌ها، لوازم آرایشی و عطرها، کائوچو، لاستیک و خمیر دندان از آن جمله‌اند. عصاره گیاهان استوایی در ترکیب بسیاری از داروهای شیمیایی به کار می‌رود. اغلب داروهایی که امروزه از آنها برای معالجه سرطان استفاده می‌شود، از درختان و گیاهان استوایی به دست می‌آیند.

تخریب جنگل‌های بارانی استوایی

تخریب جنگل‌های استوایی در برخی از کشورها مانند برزیل و اندونزی بسیار گسترش یافته و باعث نابودی بسیاری از گونه‌های گیاهی و جانوری شده است. در جنگل‌های آمازون، مدت‌های طولانی تعداد بسیار کمی از قبیله‌ها به صورت پراکنده زندگی می‌کردند. در پنجاه سال اخیر، کشاورزی و دامداری و تجارت الوار و استخراج معادن طلا و بوکسیت (آلومینیم) موجب تخریب یا جنگل زدایی در این منطقه شده است.

جنگل زدایی یعنی از بین بردن کامل جنگل‌ها در یک ناحیه؛ برای این کار، جنگل‌ها را می‌سوزانند، درخت‌ها را با اره‌های برقی می‌برند و زمین‌ها را با هموارساز (بولدوزر) از درختان خالی می‌کنند. وقتی درختان سوزانده یا قطع می‌شوند، کربن دی‌اکسید بیشتری وارد جو می‌شود و اثرات گازهای گلخانه‌ای بیشتر و زمین گرم‌تر می‌شود.



سوزاندن و از بین بردن درختان برای خانه‌سازی و کشاورزی



قطع درختان



احداث راه‌ها موجب دسترسی بیشتر به داخل جنگل‌ها می‌شود.



احداث بزرگراه در جنگل‌های بارانی استوایی

باید توجه داشت که تصمیم‌گیری برای حفاظت از محیط زیست کار چندان آسانی نیست؛ زیرا هر تصمیمی با نظرات موافق و مخالف افراد و گروه‌های مختلف جامعه روبه‌رو می‌شود.



به نظر ما آمازون منطقه ثروتمندی است. نمی‌توانیم این ثروت را نادیده بگیریم... بسیاری از شرکت‌های تجاری به استخراج منابع و معادن آن علاقه‌مندند و سود زیادی نصیب آنها می‌شود. برزیل و سایر کشورها می‌توانند سالانه میلیون‌ها دلار الوار صادر کنند. صنعت الوار و چوب، کشت‌های تجاری و استخراج معادن در این ناحیه صدها شغل ایجاد کرده است؛ آن هم در کشوری که با بیکاری مواجه است...



به نظر من جنگل‌های آمازون به همه ساکنان زمین تعلق دارند و باید حفظ شوند. اگر تخریب جنگل‌ها همچنان ادامه یابد، مشکلات زیادی برای آب و هوای کل کره زمین به وجود می‌آید. همچنین، نابودی تنوع زیستی آن به همه ساکنان جهان صدمه می‌زند. بهتر است کشورهای جهان به حکومت‌های این منطقه فشار بیاورند که با هر گونه قطع درختان مقابله کنند...

- ۴- دو نظر متفاوت دربارهٔ جنگل‌های آمازون را بخوانید. شما با کدام دیدگاه موافقت می‌کنید؟ چرا؟ گفت‌وگو کنید.
- ۵- جدولی با دو ستون رسم کنید. در یک ستون فواید و اهمیت‌های جنگل‌های آمازون و در ستون دیگر، علل تخریب آنها را فهرست کنید.

مطالعهٔ موردی (۲)

عاج‌های خونین (تجارت عاج)



در پنجاه سال اخیر، بسیاری از فیل‌های آفریقایی به‌خاطر عاج‌های گران‌قیمتشان شکار و کشته شدند و به این ترتیب، این گونهٔ جانوری کاهش بسیار زیادی پیدا کرد. عاج به فیل کمک می‌کند که زمین را حفر کند، ریشه‌ها و علف‌ها را در بیاورد یا میوهٔ درختان را برای تغذیه بکند. عاج همچنین وسیلهٔ دفاعی این حیوان برای مقابله با دشمن است اما سودجویان این جانور را برای استفاده از عاج‌هایش می‌کشند.

کنیا از جمله کشورهای آفریقایی است که در

آن شکار گستردهٔ فیل‌ها صورت می‌گیرد. اگرچه امروز مسئولان آن کشور سعی می‌کنند با ایجاد پارک‌های وحش از این گونهٔ در معرض خطر محافظت کنند، شکار غیرقانونی فیل همچنان در این کشور و سایر مناطق ادامه دارد.

چین و تایلند بیشترین میزان عاج قاچاق را در جهان وارد می‌کنند. چین با کنده‌کاری روی عاج و تبدیل آن به محصولات تزئینی گران‌قیمت و پرفروش به جهان‌گردان، سود بسیاری به‌دست می‌آورد. با آنکه امروزه کشتار فیل و فروش عاج در جهان ممنوع شده، تایلند از جمله کشورهایی است که این ممنوعیت را نپذیرفته و خرید و فروش عاج فیل در آن آزاد است و از این راه سود زیادی به‌دست می‌آورد.



مغازهٔ اشیای زینتی ساخته شده از عاج، چین



تجارت غیرقانونی عاج، کنیا

۶- گفت و گو کنید :

واکنش و احساس شما نسبت به تصاویر مربوط به شکار فیل ها و اشیای تزینی چیست؟ آیا ما واقعاً به این اشیاء نیاز داریم؟ برخی از طرفداران محیط زیست، استفاده از وسایل تزینی یا اشیایی مثل عاج را که در آنها از اعضای بدن جانوران استفاده شده است، تحریم کرده اند و آنها را نمی خردند. نظر شما در این باره چیست؟

چه باید کرد؟

استفاده خردمندانه : شکی نیست که انسان برای ادامه حیات مجبور به استفاده از منابع طبیعی است. اما نکته مهم استفاده صحیح و خردمندانه از این منابع است.

برای مثال، در موضوع جنگل های استوایی : ۱- باید بین استفاده اقتصادی از جنگل ها و فرصت بازسازی آنها تعادل به وجود بیاید. میزان قطع درختان باید قاعده و قانونی داشته باشد و وقتی درختان قطع می شوند، با برنامه ریزی مناسب درختانی را جایگزین آنها کنند و فرصت رویش دوباره به درختان بدهند. ۲- کشاورزی و دامپروری با روش های علمی و جدید، را که کمترین آسیب را به محیط زیست می رسانند، به کشاورزان این منطقه آموزش بدهند. ۳- با ایجاد پارک های وحش از گونه های جانوری و گیاهی در معرض خطر مراقبت کنند تا نسل آنها منقرض نشود.

همکاری بین المللی : ما در کشورهای مختلف اما روی یک سیاره زندگی می کنیم و همگی در آب و خاک و هوای این سیاره شریک هستیم. اما متأسفانه اغلب کشورها به دنبال منافع خود هستند و کمتر به تأثیر تصمیم گیری ها و فعالیت هایشان بر محیط زیست سایر مناطق توجه دارند. برای حفاظت از زیست بوم ها و تنوع زیستی، همه جوامع باید باهم همکاری کنند.

اتحادیه بین المللی حفاظت از طبیعت (IUCN)* یک

نهاد بین المللی است که بیش از ۸۰ کشور و از جمله ایران عضو آن هستند. این اتحادیه همکاری بین کشورها برای حفاظت از زیست بوم ها را تشویق و حمایت می کند. از فعالیت های مهم این اتحادیه می توان کمک به کشورها برای حفظ تنوع زیستی، برگزاری اجلاس ها و گردهمایی های بین المللی و تحقیق و بررسی مداوم گونه های گیاهی و جانوری در معرض خطر در سراسر جهان را نام برد. این اتحادیه هر سال «فهرست قرمز» خود را منتشر و در این فهرست گونه های گیاهی و جانوری در معرض خطر در نواحی مختلف جهان را معرفی می کند تا برای محافظت از آنها چاره ای اندیشیده شود.



ساختمان IUCN، ژنو (IUCN به زبان فرانسوی)

* International Union for Conservation of Nature



جغرافیای زیستی: شاخه‌ای از دانش جغرافیا که پراکندگی گونه‌ها و زیست‌بوم‌ها را در سطح زمین و در دوره‌های زمین‌شناسی مطالعه می‌کند. جغرافیای زیستی در مطالعات خود از دانش بوم‌شناسی استفاده می‌کند.

بوم‌شناسی (اکولوژی): دانشی که ارتباط و وابستگی متقابل بین موجودات زنده و موجودات زنده با محیطی را که در آن زندگی می‌کنند، بررسی و مطالعه می‌کند.

ترکیبات آلی: معمولاً به مواد و ترکیبات شیمیایی که دارای دو عنصر کربن و هیدروژن باشند، مواد آلی می‌گویند. در این درس، منظور موادی است که ریشه گیاهی و حیوانی دارند.

توده زیستی (بیوماس): کلیه موادی که از موجودات زنده یا بقایای آنها به دست می‌آیند؛ مانند چوب درختان، اجساد گیاهان و جانوران، پس‌مانده‌های کشاورزی و فضولات دامی، و فاضلاب‌های شهری و صنعتی. توده زیستی از منابع مهم انرژی تجدیدپذیر است.

به کاربندیم

- ۱- فرض کنید قرار است به خودتان، اعضای خانواده و دوستان یا مردمی که در منطقه شما زندگی می‌کنند، پنج پیشنهاد در مورد نحوه انجام دادن فعالیت‌های روزانه بدهید؛ به طوری که این پنج پیشنهاد بتواند به حفاظت از زیست‌بوم منطقه زندگی و یا حتی زیست‌بوم‌های جهان کمک کند. پیشنهادهای شما چیست؟ آنها را روی یک برگ کاغذ بنویسید و در کلاس نصب کنید.
مثال — به جای دستمال کاغذی، بیشتر از دستمال پارچه‌ای استفاده کنیم.
- ۲- فرض کنید به شمال کشور سفر کرده و جنگل‌های ناحیه خزری را دیده‌اید. یک کارت پستال درست کنید و روی آن تصویر یک منظره یا یک گونه گیاهی و جانوری این ناحیه را بچسبانید. کارت را برای یک دوست بفرستید.
- ۳- درباره شگفتی‌های یکی از گونه‌های گیاهی یا یک جانور تحقیق کنید. آنها را روی یک برگه کاغذ بنویسید و در کلاس بخوانید. سپس بگویند این نکات جالب، چه درس‌هایی درباره خالق هستی به ما می‌آموزد.

ساکنان سیاره زمین



فصل

امروزه بیش از ۷ میلیارد نفر بر روی سیاره زمین در شهرها و روستاها سکونت دارند. سطح سیاره زمین میان کشورهای جهان تقسیم شده و مرزهایی آنها را از یکدیگر متمایز کرده است. این کشورها از نظر وسعت، جمعیت، وضع اقتصادی، اجتماعی، فرهنگی و ... شباهت‌ها و تفاوت‌هایی دارند. نگاهی به نقشه جمعیت جهان نشان می‌دهد که جمعیت به‌طور یکنواخت در سطح زمین پراکنده نشده است و از نظر نوع پراکندگی و تراکم جمعیت در نواحی مختلف تفاوت‌های زیادی مشاهده می‌شود.

موضوع مهم‌تر، وجود نابرابری میان کشورهاست؛ به‌طوری که از نظر سطح زندگی و برخورداری از آموزش و بهداشت و رفع نیازهای مادی و معنوی بین مردم کشورها تفاوت‌های چشمگیری مشاهده می‌شود. موضوع نابرابری سال‌هاست مورد مطالعه صاحب‌نظران قرار گرفته است.

شپاس از مطالعه این فصل و انجام دادن فعالیت‌های آن به پاسخ پرسش‌های زیر پی می‌برید:

- ۱- توزیع و تراکم و رشد جمعیت در جهان چگونه است؟
- ۲- چه عواملی بر شکل پراکندگی و جابه‌جایی جمعیت در نواحی مختلف جهان تأثیر می‌گذارند؟
- ۳- شاخص توسعه انسانی چیست و بر پایه چه عواملی قرار دارد؟
- ۴- کشورهای جهان از نظر شاخص توسعه انسانی چه تفاوت‌هایی دارند؟

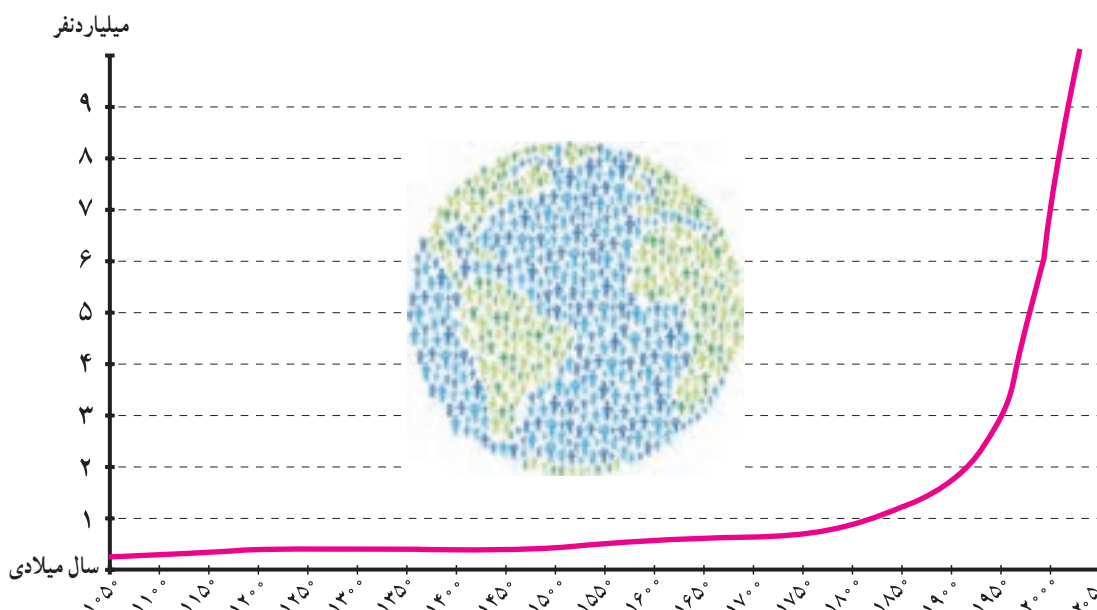


جمعیت جهان



در سال ۲۰۱۷ میلادی، جمعیت جهان از مرز ۷/۵ میلیارد نفر گذشت و پیش‌بینی می‌شود در سال ۲۰۵۰ م. به حدود ۱۱ میلیارد نفر برسد.

به نمودار جمعیت جهان توجه کنید؛ از مطالعه این نمودار چه می‌فهمید؟ همان‌طور که مشاهده می‌کنید، رشد جمعیت جهان طی سال‌های طولانی ثابت یا بسیار ناچیز بوده است. در دو‌یست سال گذشته، رشد جمعیت جهان سیر صعودی پیدا کرد؛ علت اصلی این رشد فوق‌العاده، کاهش میزان مرگ و میرها و به‌ویژه مرگ و میر کودکان بوده است. در گذشته، عده زیادی از مردم بر اثر بیماری‌های واگیردار و عفونی، گرسنگی و قحطی یا جنگ از بین می‌رفتند.



در دو قرن اخیر دو عامل موجب کاهش چشمگیر مرگ و میرها شده است :

- ۱- **بهبود بهداشت** : با پیشرفت در پزشکی و تولید واکسن‌ها و پادزیست‌ها (آنتی بیوتیک‌ها) و مهار بیماری‌های واگیردار چون وبا و طاعون و ... مرگ و میرها کاهش یافت.
 - ۲- **بهبود تغذیه** : با پیشرفت و گسترش کشاورزی صنعتی، تولید مواد غذایی افزایش یافت و با پیشرفت وسایل حمل و نقل، انتقال غذا به نواحی دورتر امکان پذیر شد.
- همان‌طور که در سال هفتم خواندید، رشد طبیعی جمعیت در یک مکان به دو عامل میزان مولید (تولدها) و میزان مرگ و میرها در یک دوره زمانی وابسته است.

مولید	=	جمعیت ثابت می‌ماند	→	مرگ و میر
مولید	>	جمعیت افزایش می‌یابد	→	مرگ و میر
مولید	<	جمعیت کاهش می‌یابد	→	مرگ و میر

تفاوت میان میزان مولید و میزان مرگ و میر، رشد طبیعی جمعیت را نشان می دهد.



محاسبهٔ رشد طبیعی جمعیت

رشد طبیعی جمعیت: از تفاوت میزان مولید و مرگ و میر حاصل می شود.

$۱۰۰ \times (\text{میزان مرگ و میر} - \text{میزان مولید}) = \text{رشد طبیعی جمعیت}$

مثال

۲۱ = ۱۸ در هزار - ۳۹ در هزار

$$\frac{۲۱}{۱۰۰۰} \times \frac{۱۰۰}{۱} = ۲/۱$$

در مثال بالا، میزان رشد طبیعی جمعیت در ناحیهٔ فرضی ۲۱ در هزار یا ۲/۱ درصد است.

رشد جمعیت در کشورهای جهان

به نقشهٔ رشد جمعیت کشورها دقت کنید. همان طور که می بینید، رشد جمعیت در همهٔ کشورها یکسان نیست. جمعیت برخی کشورها رو به افزایش و جمعیت برخی کشورها رو به کاهش است. اگر درصد رشد جمعیت به کمتر از صفر برسد، به آن رشد منفی می گویند. در این حالت، میزان مولید کمتر از مرگ و میرها می شود که برای مثال کشورهای ژاپن، روسیه، آلمان، مجارستان، لهستان و رومانی این گونه اند. کاهش رشد جمعیت و رشد منفی، در این کشورها نگرانی هایی به وجود آورده است. در کشورهای دارای رشد منفی، جمعیت سالخورده و از کار افتاده افزایش می یابد و چون زاد و ولد کم است، جامعه از نیروی جوان برای تحصیل و علم آموزی و کار و پیشرفت محروم می شود و جمعیت کشور نیز کاهش می یابد. به همین دلیل، آیندهٔ این کشورها نگران کننده است. به طور کلی،

راهنما

درصد



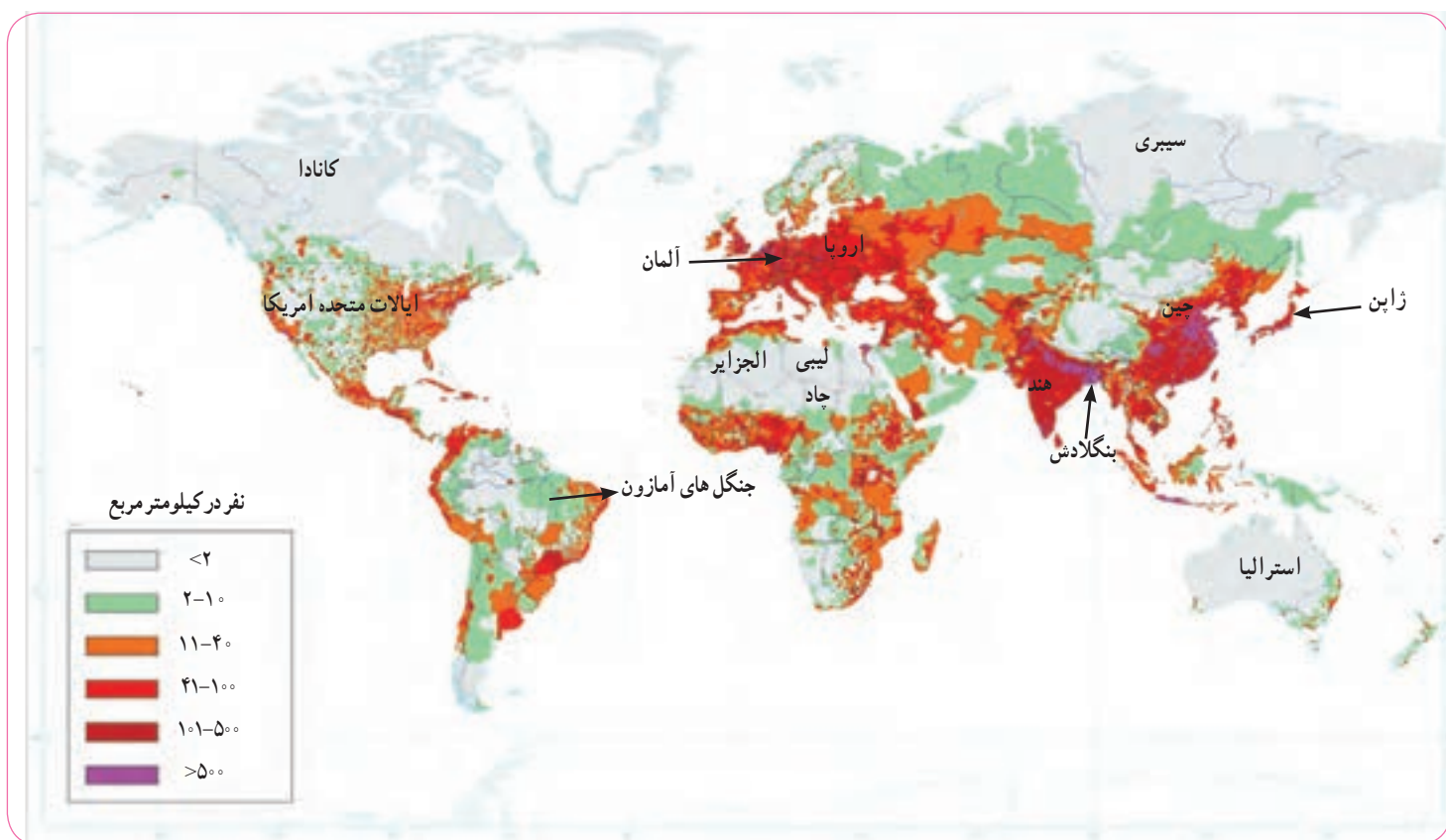
درصد رشد جمعیت کشورهای جهان، برآورد ۲۰۱۳ میلادی

چنانچه در یک کشور برای آموزش صحیح و کار و تأمین شغل جوانان برنامه‌ریزی مناسب و سرمایه‌گذاری صورت بگیرد، رشد جمعیت و افزایش جمعیت جوان یک نعمت بزرگ و مایه پیشرفت خواهد بود.

امروزه در کشورهایی چون ژاپن، سنگاپور، کره جنوبی، روسیه و همچنین اغلب کشورهای اروپایی، دولت‌ها برای جلوگیری از کاهش رشد جمعیت برنامه‌های مهمی برای تشویق به فرزندآوری طراحی و اجرا می‌کنند. از جمله این برنامه‌ها، اعطای جایزه و کمک‌های مالی به خانواده‌هایی که صاحب فرزند می‌شوند، واگذاری مسکن، معافیت از پرداخت مالیات و افزایش مرخصی تحصیلی و کاری مادران است.

پراکندگی جمعیت

به نقشه پراکندگی (توزیع) جمعیت جهان توجه کنید. جمعیت در کره زمین به طور بسیار نامساوی و ناموزون پراکنده شده است. در برخی کشورها تراکم جمعیت کم است؛ در حالی که در برخی کشورهای دیگر تراکم بسیار زیادی مشاهده می‌شود.



آیا می‌توانید دو ناحیه یا کشور بسیار پرتراکم و دو ناحیه بسیار کم‌تراکم جمعیت نام ببرید؟ باید بدانید که به طور کلی، برخی عوامل طبیعی و انسانی موجب جذب جمعیت به یک ناحیه می‌شود. به عکس، برخی عوامل منفی ممکن است از جذب جمعیت به یک ناحیه جلوگیری کند و یا حتی جمعیت را از یک مکان دفع کند.

برای مثال نواحی معتدل با باران کافی یا نواحی دارای آب و هوای موسمی و دشت‌ها و جلگه‌های آبرفتی و حاصلخیز و نواحی دارای منابع آب کافی، جمعیت زیادی را به خود جذب می‌کند. در حالی که جمعیت به نواحی گرم و خشک یا مرتفع و سرد یا مکان‌هایی که آب کافی و خاک حاصلخیز ندارند جذب نمی‌شود. همچنین شهرهای بزرگ و پایتخت‌ها، نواحی صنعتی و مکان‌های گردشگری و زیارتی و یا مکان‌هایی که امکانات مناسب مانند بیمارستان، دانشگاه، وسایل حمل و نقل کافی و... دارند جمعیت را به خود جذب می‌کنند اما به عکس مکان‌هایی که فاقد امکانات و تسهیلات هستند و یا نواحی‌ای که با جنگ و آشوب روبه‌رو هستند، جمعیت را دفع می‌کنند.

○ فعالیت

۱- با استفاده از نقشهٔ پراکندگی جمعیت، ابتدا نوع تراکم جمعیت (زیاد یا کم) را در مکان‌های زیر مشخص کنید و سپس با توجه به دانسته‌های خود از سال گذشته، علت این نوع تراکم را در هر کشور بنویسید.

بنگلادش () ژاپن () لیبی و چاد () سیبری () آلمان () استرالیا ()
کانادا ()

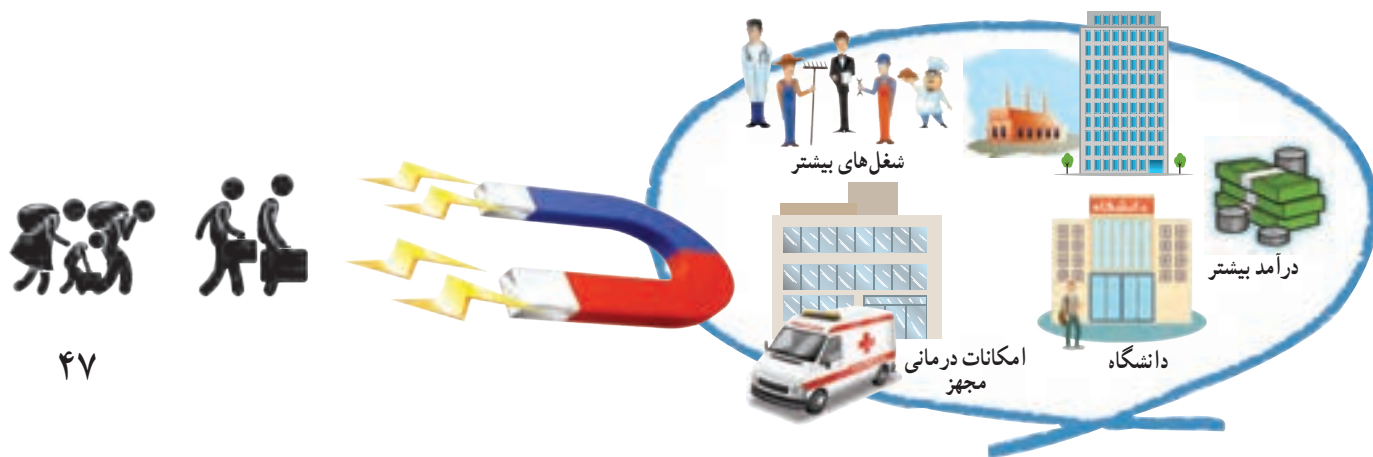
۲- پرس و جو کنید پرجمعیت‌ترین کشورهای جهان به ترتیب از رتبهٔ اول تا هفتم کدام کشورها هستند و چقدر جمعیت دارند؟

جابه‌جایی جمعیت

علاوه بر رشد طبیعی جمعیت، عامل دیگری که موجب افزایش جمعیت یک مکان می‌شود، **مهاجرت** است. مهاجرت یعنی رفتن مردم از جایی به جای دیگر به منظور کار یا زندگی. مهاجرت به دلایل گوناگونی صورت می‌گیرد و انواع مختلف دارد:

● گاهی مهاجرت در داخل مرزهای یک کشور صورت می‌گیرد که به آن **مهاجرت داخلی** می‌گویند؛ مانند مهاجرت روستاییان به شهرها یا مهاجرت کارگران فصلی در داخل یک کشور. گاهی مهاجرت از یک کشور به کشور دیگر صورت می‌گیرد که به آن **مهاجرت خارجی** یا **بین‌المللی** می‌گویند.

● مهاجرت همچنین ممکن است **اختیاری** یا **اجباری** باشد: در مهاجرت اختیاری، افراد با میل و تصمیم خود برای دستیابی به زندگی بهتر به جای دیگری مهاجرت می‌کنند. یکی از عظیم‌ترین مهاجرت‌های بشر در قرن نوزدهم و بیستم مهاجرت اختیاری بیش از ۱۰۰ میلیون نفر از مردم قارهٔ اروپا به سرزمین‌های جدید، یعنی آمریکای شمالی و جنوبی و استرالیا، و سکونت در آنجا برای دستیابی به منابع بیشتر و فرصت‌های بهتر زندگی بوده است. امروزه نیز برخی کشورها به دلیل داشتن امکاناتی چون دانشگاه‌های معتبر یا فرصت‌های شغلی، مهاجران را از سایر کشورها به خود جذب می‌کنند.





یکی از بزرگ‌ترین مهاجرت‌های پناهندگان در سال ۱۹۹۴ میلادی در آفریقا رخ داد که طی آن در مدت چهار روز بیش از ۴۰۰ هزار نفر از مردم رواندا به دلیل جنگ‌های داخلی، کشورشان را ترک کردند و به کشورهای همسایه پناهنده شدند.

در مهاجرت اجباری، افراد بدون میل خود و به دلایلی چون قحطی، خشکسالی و دیگر حوادث طبیعی و یا جنگ‌ها و درگیری‌های سیاسی مجبور به ترک محل زندگی خود می‌شوند؛ مانند مهاجرت اجباری مردم فلسطین از سرزمین‌های اشغالی یا مهاجرت گروهی از افغان‌ها یا عراقی‌ها به کشورهای همسایه به دلیل شرایط جنگ و اشغال نظامی کشورهاشان.



مهاجرت اجباری گروهی از مردم عراق از یک بخش به بخش دیگر کشور به دلیل جنگ دولت با گروه تروریستی (وحشت افکن) داعش

فعالیت

- ۴- همفکری کنید و به‌طور گروهی، جدولی با دو ستون رسم کنید. الف) فهرستی از عواملی را که موجب می‌شود یک مکان مهاجرپذیر باشد، در یک ستون بنویسید. ب) فهرستی از عواملی را که موجب می‌شود یک مکان مهاجرفرست باشد، در ستون دیگر بنویسید.
- ۵- آیا در کلاس شما افرادی هستند که خود یا خانواده‌شان از شهر یا روستای دیگری به شهر یا روستای شما مهاجرت کرده باشند؟ درباره دلایل مهاجرت آنها (چه در مبدأ و چه در مقصد) پرس‌وجو کنید.
- ۶- به نظر شما، چرا بعضی از کشورها مقررات سختی برای ورود مهاجران خارجی به کشورشان وضع می‌کنند؟



افزایش شهرنشینی


در صد سال اخیر، یکی از تغییرات مهم در الگوی سکونت جمعیت جهان، گسترش شهرنشینی بوده است. در سال ۱۹۵۰ میلادی تنها ۲۵ درصد جمعیت جهان در نواحی شهری زندگی می‌کردند اما امروزه بیش از ۵۰ درصد مردم جهان در شهرها زندگی می‌کنند و پیش‌بینی می‌شود که روند افزایش شهرنشینی همچنان ادامه پیدا کند.



در نیم قرن اخیر، تعداد مادرشهر*ها (متروپل) و آبَرشهر*هایی (مگاسیتی) که میلیون‌ها نفر را در خود جای داده‌اند، افزایش یافته است. بیشتر آبَرشهرها، در آسیای جنوب و جنوب شرقی و آمریکای جنوبی پدید آمده‌اند.

توکیو، کراچی، سئول، شانگهای، بمبئی، مکزیکوسیتی و پکن پرجمعیت‌ترین آبَرشهرهای جهان هستند که بیش از ۲۰ میلیون نفر جمعیت دارند.

شهرهای بزرگ، مرکز مهم انواع فعالیت‌ها و مشاغل صنعتی و خدماتی هستند. در این شهرها، برج‌ها و ساختمان‌های سر به فلک کشیده، مراکز تجاری و مالی و فروشگاه‌های چند طبقه و بازارها و مکان‌های تفریحی متعدد ساخته شده است.



شدآمد (ترافیک)، خیابانی در سائوپائولو، برزیل

تقریباً در همه کشورهای، به دلیل مهاجرت گسترده مردم از روستاها به شهرها به دنبال کسب درآمد بیشتر و امکانات بهتر زندگی، رشد سریع شهرنشینی رخ داده است.

از آنجایی که رشد سریع شهرنشینی در بیشتر کشورها بدون برنامه‌ریزی برای سکونت جمعیت زیاد در شهر صورت گرفته است، اغلب شهرهای بزرگ جهان با مشکلاتی چون شدآمد (ترافیک) سنگین و آلودگی هوا، زاغه‌نشینی* در حومه شهرها و افراد بی‌خانمان (کارتن خواب‌ها) روبه‌رو هستند.

امروزه مدیران و برنامه‌ریزان شهری تلاش می‌کنند راه‌حلی برای این مسائل و مشکلات بیابند.



زاغه‌نشینی



بی‌خانمان

جهان نابرابر

امروزه سطح خشکی‌های زمین میان کشورها تقسیم شده است و بیش از ۱۹۰ کشور در دنیا وجود دارد که با مرزهایی از یکدیگر جدا شده‌اند. یکی از موضوعات مهم جهان که طی چند دهه اخیر توجه صاحب‌نظران را به خود جلب کرده، «نابرابری جهانی یا بین‌المللی» است؛ به این معنی که از نظر ثروت و درآمد، کیفیت زندگی مردم و دسترسی به مسکن مناسب، آموزش، بهداشت، اشتغال، گذران اوقات فراغت، و نظایر آن تفاوت‌های زیادی بین کشورها دیده می‌شود.

در طول سال‌ها، برای مقایسه کشورها با یکدیگر، معیارها و ملاک‌های مختلفی به کار رفته است. یکی از عوامل مهمی که همواره در سنجش نابرابری کشورها با یکدیگر مورد توجه قرار گرفته، عامل اقتصادی و عناصری چون میزان تولید، درآمد، اشتغال و مانند آنهاست.

بعدها، برخی صاحب‌نظران مطرح کردند که تنها توجه به عامل اقتصادی کافی نیست. به علاوه، درآمد اقتصادی، هدف نیست بلکه وسیله‌ای است برای آنکه انسان به هدف‌های بالاتر دست پیدا کند. به نظر آنها عوامل زیادی وجود دارند که بر زندگی افراد یک جامعه اثر می‌گذارند و می‌توانند کیفیت زندگی را خوب یا بد کنند؛ عواملی مانند هویت، عزت، امنیت، آزادی، احساس شادی و رضایت از زندگی. اما نکته درخور توجه این است که اولاً اندازه‌گیری بسیاری از این عوامل به صورت کمی (عددی) دشوار یا ناممکن است و دیگر آنکه هر کشوری متناسب با فرهنگ خود این عوامل را می‌شناسد و تفسیر می‌کند و برداشت یکسانی درباره آنها وجود ندارد.

شاخص توسعه انسانی چیست؟

از حدود بیست سال پیش، «شاخص توسعه انسانی» مطرح شد. این شاخص برای پی‌بردن به وضعیت و کیفیت زندگی در کشورها و مقایسه آنها با یکدیگر با توجه به سه عامل اقتصادی، بهداشتی و فرهنگی تعریف می‌شود. ملاک‌های توسعه انسانی عبارت‌اند از:

- ۱- درآمد و رفاه
- ۲- امید به زندگی یا متوسط طول عمر
- ۳- سواد و آموزش



شاخص توسعه انسانی را چگونه محاسبه می‌کنند؟

برای تعیین شاخص توسعه انسانی هر کشور، اعداد و ارقام مربوط به عوامل درآمد، امید به زندگی و سواد و آموزش و شاخص‌های زیر مجموعه هر یک از آنها را محاسبه می‌کنند و از مجموع آنها ضریبی را به دست می‌آورند. ضریب (۱) به معنای کامل بودن توسعه انسانی در نظر گرفته می‌شود. هرچه ضریبی که یک کشور به دست می‌آورد به (۱) نزدیک‌تر باشد، توسعه انسانی در آن کشور بالاتر است.

برای مثال، در سال ۲۰۱۷ میلادی کشور نروژ با ضریب ۰/۹۵۳ رتبه اول توسعه انسانی را در جهان کسب کرد و کشور نیجریه با ضریب ۰/۳۵۴ کمترین توسعه انسانی را در جهان داشت.

البته شاخص‌ها و رتبه‌هایی که کشورها به دست می‌آورند، ثابت نیستند و هر ساله بر مبنای تغییرات یا پیشرفتی که در عوامل مربوط داشته‌اند، تغییر می‌کند و کم و زیاد می‌شود.

سازمان ملل متحد، هر ساله گزارش توسعه انسانی کشورها را بر پایه محاسبه این عوامل تهیه و منتشر می‌کند.



اکنون به نقشه توجه کنید. این نقشه بر مبنای شاخص توسعه انسانی در کشورهای مختلف ترسیم شده است. از نظر شاخص توسعه انسانی، کشورها به چهار گروه تقسیم شده‌اند. در سال ۲۰۱۷ میلادی، میزان شاخص توسعه انسانی در ایران ۰/۷۹۸ بوده است. با این رقم، کشور ما در گروه کشورهای با «توسعه انسانی بالا» قرار می‌گیرد.

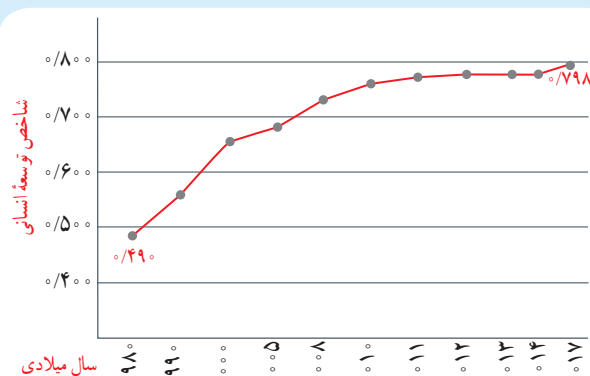


مقایسه شاخص توسعه انسانی ایران و کشورهای همسایه



ب

نمودار افزایش توسعه انسانی ایران در بیست سال اخیر



الف

فعالیت

- ۱- با توجه به نقشه و مراجعه به یک اطلس، از هر یک از چهار گروه شاخص توسعه انسانی (خیلی بالا، بالا، متوسط، و کم) دو کشور نام ببرید.
- ۲- نمودار الف و شکل ب را توضیح دهید.

اکنون بیاید سه عامل مربوط به شاخص توسعه انسانی و نابرابری این عوامل را در کشورهای مختلف بررسی کنیم :

الف) میزان درآمد و رفاه

این عامل جنبه اقتصادی دارد و به معنای سطح مطلوب زندگی و رفاه اجتماعی است. منظور از آن، این است که اعضای یک جامعه به چه میزان از درآمد کافی و شغل مناسب و قدرت خرید برخوردارند و به کالاها و خدمات مورد نیاز چون مسکن، پوشاک، غذا، آموزش، تفریح و فراغت و وسایل زندگی مناسب دسترسی دارند.

امروزه ثروت و درآمد جهان به شدت در دست برخی کشورها متمرکز شده است. تخمین زده می شود که مالکیت ۸۰ درصد درآمد جهان در دست ۲۰ درصد از ساکنان آن است. بیشتر ساکنان کشورهای با درآمد بالا در کشورهای آمریکای شمالی و اروپای غربی از رفاه و سطح زندگی خوبی برخوردارند؛ در حالی که در برخی کشورهای قاره های آسیا، آفریقا و آمریکای لاتین، بخشی از مردم با فقر و کمبود امکانات زندگی مواجه اند. کشورهایی در جهان وجود دارند که تعداد زیادی از مردم آنها در فقر مطلق* زندگی می کنند و به ویژه با مشکل گرسنگی و دسترسی نداشتن به غذا مواجه اند؛ مانند موزامبیک، تانزانیا، اتیوپی و نپال.



کمبود غذا، اتیوپی



توزیع غذا توسط دولت فیلیپین



دسترسی به غذای کافی



معمولاً میزان ثروت مادی و رشد اقتصادی کشورها را با تولید ناخالص داخلی و درآمد سرانه اندازه گیری می کنند.

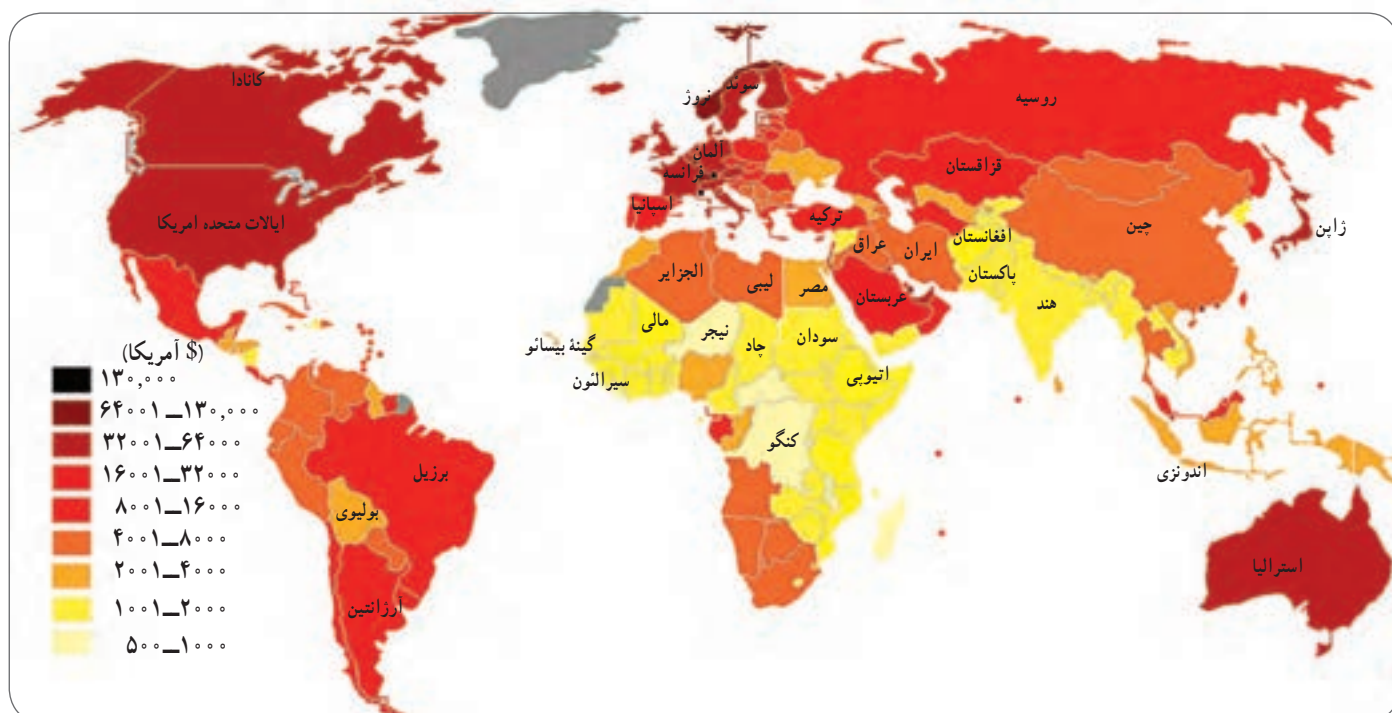


تولید ناخالص داخلی عبارت است از ارزش کلیه محصولات که در یک دوره معین (یک ساله) در داخل یک کشور تولید می شوند. میزان تولید ناخالص داخلی (GDP) کشورهای جهان متفاوت است و طیفی از خیلی زیاد تا متوسط و کم و خیلی کم را دربرمی گیرد.

وقتی میزان تولید ناخالص را به تعداد جمعیت یک کشور تقسیم می کنند، **درآمد سرانه** (به ازای هر نفر در سال) به دست می آید.

باید توجه کرد که رقم درآمد سرانه فقط متوسط درآمد یک جامعه را نشان می دهد و به این معنا نیست که همه افراد آن جامعه به طور یکسان چنین درآمدی دارند. از آنجا که توزیع درآمد در کشورها ناعادلانه است، درآمد عده ای از افراد بسیار بیشتر از این رقم و درآمد عده ای کمتر از این رقم می باشد.





نقشه توزیع درآمد سرانه (اسمی) کشورهای جهان (۲۰۱۴ میلادی)



نام کشور	رتبه	تولید ناخالص داخلی (میلیون دلار آمریکا)
ایالات متحده آمریکا	۱	۱۹,۳۹۰,۶۰۴
چین	۲	۱۲,۲۳۷,۷۰۰
ژاپن	۳	۴,۸۷۲,۱۳۶
آلمان	۴	۳,۶۷۷,۴۳۹
انگلستان	۵	۲,۶۲۲,۴۳۳
هند	۶	۲,۵۹۷,۴۹۱
فرانسه	۷	۲,۵۸۲,۵۰۱
اندونزی	۱۶	۱,۰۱۵,۵۳۹
ترکیه	۱۷	۸۵۱,۱۰۲
ایران	۲۶	۴۳۹,۵۱۳
سریلانکا	۶۴	۸۷,۱۷۵
نیجر	۱۴۱	۸,۱۲۰
بوتان	۱۶۱	۲,۵۱۲

میزان تولید ناخالص داخلی در کشورهای انتخابی، آمار بانک جهانی

فعالیت

۳- الف) با توجه به جدول و نقشه، چند کشور ثروتمند و چند کشور فقیر و چند کشور با درآمد متوسط نام ببرید. ب) در جدول میزان تولید ناخالص داخلی، تعداد ارقام مربوط به میزان تولید کشورها به ترتیب از رتبه ۱ تا ۱۶۱ چه تغییری می‌کند؟ توضیح دهید.

۴- گفت‌وگو کنید: به نظر شما کشورهایی که اقتصاد و درآمد آنها برپایه فروش مواد اولیه و خام مانند نفت است، در حال و آینده با چه مشکلاتی روبه‌رو می‌شوند و چه تغییراتی باید در اقتصاد خود ایجاد کنند؟

آمار و ارقام مربوط به وضعیت و رشد اقتصادی کشورها، در طی زمان ثابت نیست. برای مثال، در نیمه دوم قرن بیستم ژاپن، چین و برخی کشورهای آسیای جنوب شرقی چون سنگاپور، هنگ کنگ، کره جنوبی و مالزی رشد اقتصادی سریعی داشته‌اند و توانسته‌اند با توسعه صنایع و صدور کالا به سایر نواحی جهان، جایگاه مهمی در اقتصاد جهانی به دست آورند. بعضی از کشورها نیز به دلیل بحران‌های سیاسی یا جنگ نه تنها رشد اقتصادی مطلوبی نداشته‌اند بلکه تولید و درآمد در آنها حتی کاهش یافته است؛ مانند سوریه و عراق. در برخی کشورها نیز ارقام بالای درآمد به دلیل وجود ذخایر نفت و گاز حاصل از فروش نفت است.

ب) امید به زندگی یا متوسط طول عمر

امید به زندگی یا متوسط طول عمر در یک کشور یعنی تعداد سال‌هایی که انتظار می‌رود کودکی که در آن کشور به دنیا آمده است، عمر کند و زنده بماند.

میزان طول عمر یا امید به زندگی در یک جامعه نشان‌دهنده وضعیت سلامت و بهداشت در آن جامعه است. در کشورهایی که مردم در محیطی پاک و بدون آلودگی زندگی می‌کنند، به غذای کافی و آب سالم دسترسی دارند و در صورت بیماری یا روبه‌رو شدن با حوادث، از امکانات درمانی و مراقبت‌های پزشکی پیشرفته برخوردارند، متوسط طول عمر بیشتر است. به عکس، در کشورهایی که مردم دسترسی کافی به غذا یا آب آشامیدنی سالم ندارند و با کمبود پزشک و دارو و امکانات درمانی مواجه‌اند و همچنین در کشورهایی که جنگ‌های داخلی و خارجی، گرسنگی و سوء تغذیه* وجود دارد، امید به زندگی یا متوسط طول عمر پایین است.

در گزارش توسعه انسانی سال ۲۰۱۷ میلادی، بیشترین متوسط طول عمر ۸۳/۹ سال و کمترین متوسط طول عمر ۵۲/۲ سال ثبت شده است.



گردآوری آب آشامیدنی غیر بهداشتی، هند



مقایسه تجهیزات و امکانات پزشکی

پ) سواد و آموزش

برای پی بردن به وضع آموزش در کشورها معیارهای مختلفی از جمله میزان باسوادی بزرگسالان، میانگین سال‌های تحصیل در یک کشور و تعداد معلم به ازای دانش‌آموز را در نظر می‌گیرند و بررسی می‌کنند.

منظور از میانگین سال‌های تحصیل، متوسط تعداد سال‌هایی است که دانش‌آموزان یک کشور در مدرسه حضور پیدا کرده و تحصیل کرده‌اند. متأسفانه در برخی کشورهای فقیر جهان امکانات آموزشی بسیار کم است.



اکنون میزان امید به زندگی و میانگین سال‌های تحصیل را در چند کشور مقایسه کنید.
از این مقایسه چه نتیجه‌ای می‌گیرید؟



نام کشور	سال
آلمان	۱۴/۱
نروژ	۱۲/۶
کره جنوبی	۱۲/۱
مالزی	۱۰/۲
آرژانتین	۹/۹
ایران	۹/۸
ترکیه	۸
چین	۷/۸
پاکستان	۵/۲
رواندا	۴/۱
افغانستان	۳/۸
سیرالئون	۳/۵



نام کشور	سال
ژاپن	۸۳/۹
نروژ	۸۲/۳
ایالات متحده آمریکا	۷۹/۵
آرژانتین	۷۶/۷
چین	۷۶/۴
ایران	۷۶/۲
مالزی	۷۵/۵
پاکستان	۶۶/۶
افغانستان	۶۴
موزامبیک	۵۸/۹
نیجریه	۵۳/۹
سیرالئون	۵۲/۲

مقایسه میانگین سال‌های تحصیل در چند کشور انتخابی (۲۰۱۷ میلادی)

مقایسه امید به زندگی یا متوسط طول عمر در چند کشور انتخابی (۲۰۱۷ میلادی)

علل و عوامل نابرابری

درباره علل نابرابری در جهان نظریات گوناگونی وجود دارد و کتاب‌های متعددی در این باره نوشته شده است. به طور کلی، علل و عوامل نابرابری را به دو گروه می‌توان تقسیم کرد: عوامل خارجی و عوامل داخلی.

♦ **عوامل خارجی:** کشورهای قدرتمند و سلطه‌گر از طریق استعمار و به اشکال مختلف از منابع سایر کشورها به سود خود استفاده کرده و مانع پیشرفت آنها شده‌اند. مستعمره کردن کشورها در گذشته، اشغال نظامی کشورها یا دخالت و نفوذ در امور داخلی آنها به شیوه‌های مختلف و جلوگیری از استقلال سیاسی و اقتصادی آنها – که تا امروز نیز ادامه دارد – از جمله علل خارجی نابرابری است.

♦ **عوامل داخلی:** حکومت‌های ستمگر و وابسته که منافع و منابع کشور را در اختیار بیگانگان قرار می‌دهند و برای حفظ منافع خود، به ملت و کشورشان نیز بی‌توجه‌اند، جنگ‌ها و کشمکش‌های داخلی، فرهنگ و باورهای غلط، بی‌سوادی و ناآگاهی مردم، غفلت از استعدادها و فرهنگ خود، نداشتن ایمان و پشتکار و اراده برای تغییر وضع و نبودن وحدت و مشارکت بین مردم، از جمله دلایل داخلی نابرابری به حساب می‌آیند.

فعالیت

۵- سواد و آموزش نقش مهمی در پیشرفت یک کشور دارد. به‌طور گروهی، فهرستی از مشکلاتی را که مردم یک کشور در

اثر پایین بودن سطح سواد و محروم بودن از آموزش با آن مواجه می‌شوند، تهیه کنید و بخوانید.

۶- با توجه به آموخته‌های سال پیش، چند دلیل برای اینکه چرا بیشترین کشورهای دارای متوسط طول عمر پایین در قاره آفریقا هستند، بیان کنید.

۷- درباره علل و عوامل نابرابری توسعه انسانی در جهان گفت‌وگو کنید. به نظر شما کدام عوامل مهم‌ترند؟ چرا؟



مادر شهر (متروپل): شهری اصلی و بزرگ در یک ناحیه یا کشور است که به دلایل سیاسی، اقتصادی یا فرهنگی، مرکزیت مهمی در آن کشور یا ناحیه دارد؛ مانند تهران، مشهد، تبریز و اصفهان در ایران.

ابرشهر (مگاسیتی): ناحیه‌ای شهری که در آن یک مادرشهر بزرگ با حوزه‌های پیرامونی جمعیتی بیش از ده میلیون نفر را در خود جای داده است؛ مانند توکیو، سئول، داکا، قاهره، تهران.

زاغه نشینی: زاغه‌نشینی یا آلودگی ناشینی عبارت است از سکونت بدون مجوز و غیر قانونی افراد کم‌درآمد و فقیر در حاشیه شهرها یا مناطق نامناسب که از خدمات شهری و اجتماعی مانند آب و برق و گاز و درمانگاه محروم‌اند.

فقر مطلق: ناتوانی در رفع نیازهای مادی اصلی و اولیه زندگی (یعنی خوراک، پوشاک و سرپناه) که برای بقای هر فرد لازم است.

گرسنگی و سوء تغذیه: گرسنگی نرسیدن حداقل انرژی لازم (حدود ۱۸۰۰ کیلو کالری در روز) به بدن یک فرد در اثر کمبود مواد غذایی یا دسترسی نداشتن به غذاست اما سوء تغذیه، مصرف ناکافی یا نامناسب غذاست؛ به‌طوری که مواد مورد نیاز مانند پروتئین‌ها، مواد معدنی و ویتامین‌ها به اندازه کافی به بدن نرسد.

به کار بندیم

یکی از فعالیت‌های زیر را انتخاب کنید و انجام دهید.

۱- فرض کنید شما مسئول بالا بردن شاخص توسعه انسانی در کشور هستید و قرار است فهرستی از چند پیشنهاد مناسب در مورد بهبود هر یک از عوامل توسعه انسانی (درآمد، سواد، امید به زندگی) تهیه کنید. با همفکری دوستانتان این پیشنهادها را بنویسید.

۲- درباره جلودگیری از مهاجرت از روستا به شهر چند پیشنهاد و راه حل بنویسید.

۳- به‌طور گروهی، درباره یکی از موضوعات این فصل پوستری طراحی کنید و روی آن پیامی بنویسید. (برای مثال، موضوعاتی چون عدالت و از بین رفتن نابرابری در جهان، جمعیت جوان به عنوان ثروت کشور، توسعه انسانی، امید به زندگی)

عصر یکپارچگی و شکوفایی



فصل

در کتاب مطالعات اجتماعی پایه هشتم خواندید که پس از سقوط ساسانیان، کشور ما حدود ۹ قرن سرزمینی یکپارچه نبود و اتحاد سیاسی و اجتماعی مناسبی نداشت اما در ابتدای قرن دهم هجری، یک خاندان ایرانی به نام صفویان بر سراسر ایران حاکم شد. حکومت صفوی علاوه بر اینکه ایران را از نظر جغرافیایی و سیاسی یکپارچه کرد، وحدت اجتماعی ایرانیان را نیز تقویت کرد. در دوره صفویه روابط سیاسی و تجاری ایران با سایر کشورها گسترش یافت. همچنین با رسمیت یافتن مذهب شیعه و گسترش معارف شیعی تغییرات فرهنگی و اجتماعی مهمی در ایران آغاز شد. در این دوره اقتصاد و فرهنگ ایران رشد و گسترش زیادی یافت.

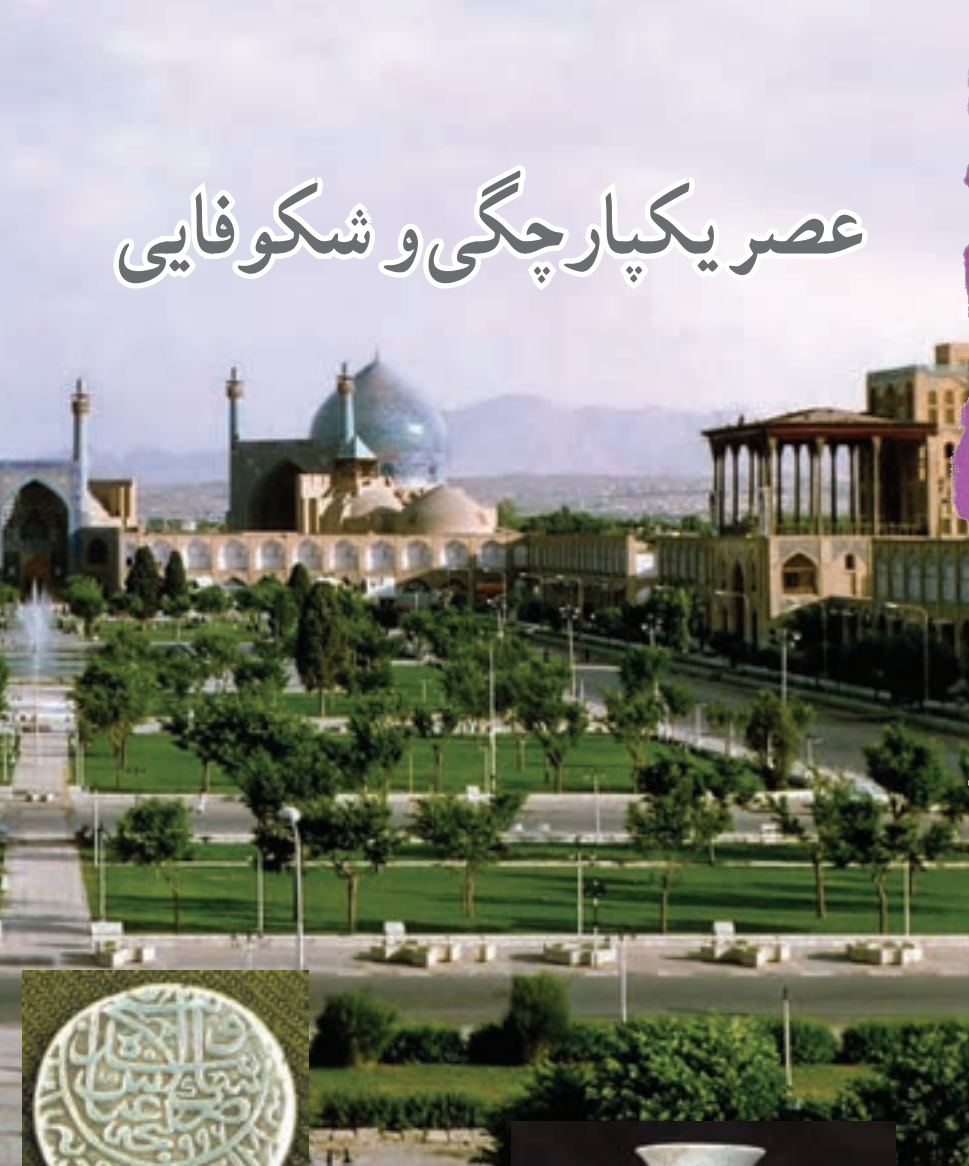
شما با مطالعه این فصل و انجام دادن فعالیت‌های آن به پاسخ پرسش‌های زیر پی می‌برید :

۱- دوره صفویه در تاریخ ایران چه اهمیتی دارد؟

۲- صفویان کشور را چگونه اداره می‌کرده‌اند؟

۳- روابط سیاسی و تجاری ایران با دیگر کشورها در دوره صفویه چگونه بوده است؟

۴- جامعه، اقتصاد و فرهنگ ایران در عصر صفوی چه وضعیتی داشته است؟



ایرانی متحد و یکپارچه

اوضاع سیاسی ایران هنگام تأسیس حکومت صفوی

هنگام به قدرت رسیدن صفویان، کشور ما حکومت واحد و قدرتمندی نداشت و دچار تفرقه و تجزیه شده بود. در آن زمان، حاکمان بخش‌های مختلف ایران با هم در جنگ بودند. به همین دلیل، امنیت و آرامش شهرها و روستاها از بین رفته و امور کشور مختل شده بود. هم‌زمان، در همسایگی ایران حکومت‌هایی وجود داشتند که در فکر گسترش قلمرو خود بودند. از جمله امپراتوری عثمانی که با حمله‌های پیاپی به سرزمین‌های همجوار، بر قلمرو خود می‌افزود. سلطان عثمانی خود را خلیفهٔ مسلمانان می‌دانست و به ایران نیز طمع داشت. در شمال شرق ایران (ماوراءالنهر)، ازبک‌ها قدرت گرفته بودند و به مرزهای ایران می‌تاختند.

فعالیت

۱- کاربرگه شماره (۷) را انجام دهید.



آرامگاه شیخ صفی‌الدین اردبیلی — اردبیل

شکل‌گیری حکومت صفوی

شیخ صفی‌الدین اردبیلی (۷۳۵-۶۵۰ق) از صوفیان معروف زمان خود بود که پیروان و هواداران زیادی داشت و خانقاهش در اردبیل مورد توجه مردم و حاکمان محلی بود. صوفیان بیشتر وقتشان را در خانقاه به ذکر گفتن و انجام دادن مراسم خاص خود می‌گذراندند. پس از مرگ شیخ صفی، ادارهٔ خانقاه در خانوادهٔ او موروثی شد. مهم‌ترین طرفداران خانقاه شیخ صفی ایل‌های مختلف ترک بودند که به قزلباش* شهرت داشتند.



شاه اسماعیل اول صفوی

در ابتدای قرن ۱۰ ق یکی از نوادگان شیخ صفی به نام اسماعیل به قدرت رسید. اسماعیل صفوی به کمک نیروی نظامی قزلباش‌ها، نخست شروانشاهان و آق‌قویونلوها را شکست داد و پس از تسلط یافتن بر تبریز، خود را شاه ایران خواند. او پس از تاج‌گذاری، مذهب شیعه را رسمی کرد. شاه اسماعیل سپس حاکمان مناطق مختلف را یکی پس از دیگری از میان برداشت و با شکست دادن ازبک‌ها در خراسان، بر سراسر ایران مسلط شد. در نتیجه موفقیت‌های سیاسی و نظامی او، حکومت کشور ما یکپارچه و نیرومند شد؛ به طوری که قلمرو آن به حدود قلمرو دوره ساسانیان رسید. حکومت صفوی همچنین همه اقوام ایرانی را زیر حاکمیت خود گرفت و موجب هم‌بستگی و اتحاد بیشتر ایرانیان شد.

فعالیت

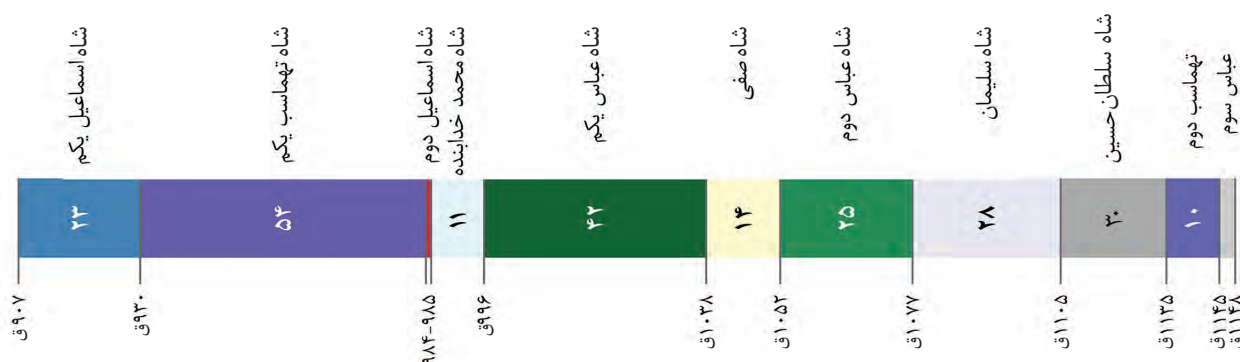
۲- پس از مطالعه متن توضیح دهید که با تأسیس حکومت صفوی، چه تغییرات مهم سیاسی، اجتماعی و مذهبی در ایران ایجاد شد.

صفویان برای دفاع از یکپارچگی جغرافیایی ایران، بارها با دشمنان خارجی رو به رو شدند. ازبک‌ها در شرق و عثمانی‌ها در غرب مهم‌ترین دشمنان آنها بودند. سلطان عثمانی که از شکل‌گیری سلسله قدرتمند و شیعه‌مذهب صفویه ناخشنود بود، با سپاهی عظیم راهی ایران شد. در جنگی که میان سپاهیان دو کشور ایران و عثمانی در چالدران (در نزدیکی شهر خوی امروزی) رخ داد، شاه اسماعیل و سربازانش شجاعت زیادی نشان دادند اما سپاه عثمانی به کمک سلاح‌های آتشین مانند توپ و تفنگ که سپاه ایران از آنها بی‌بهره بود، پیروز شد. پس از جنگ چالدران، تبریز به اشغال عثمانی‌ها درآمد اما مقاومت و مبارزه مردم آنها را وادار به عقب‌نشینی کرد. پس از شاه اسماعیل پسرش، تهماسب، به حکومت رسید. او با سر و سامان دادن به اوضاع داخلی و دفع حمله‌های ازبکان و دولت عثمانی، موفق شد حکومت صفوی را تثبیت و تحکیم کند. شاه تهماسب پایتخت را از تبریز به قزوین انتقال داد؛ زیرا تبریز همواره در معرض هجوم سپاه عثمانی بود.

سلسله صفوی در اوج قدرت: شاه عباس اول (پنجمین شاه صفوی) حکومت صفوی را به اوج قدرت رساند. او ازبک‌ها و عثمانیان را شکست داد و تا پشت مرزهای ایران عقب راند. همچنین، پایتخت را از قزوین به اصفهان — در مرکز ایران — منتقل کرد و برای آبادانی آن بسیار کوشید.



ایران در زمان صفویان (شاه عباس)



حکومت صفوی در سراسیمه سقوط : پس از مرگ شاه عباس اول، چهار پادشاه دیگر روی کار آمدند. بعضی از آنها توانایی و لیاقت اداره کشور را نداشتند. سیاست کشتن و کور کردن شاهزادگان و جلوگیری از حکومت آنها بر ولایت‌ها، باعث شد تا آنان شیوه کشورداری را نیاموزند. در نتیجه چنین سیاستی، سلسله صفوی پس از شاه عباس اول تقریباً از داشتن پادشاهی لایق و توانمند محروم ماند. در نتیجه ضعف و بی‌لیاقتی شاهان، مقام‌های کشوری و لشکری دچار اختلاف و درگیری شدند و از انجام دادن



تندیس امام قلی خان در جزیره قشم: امام قلی خان، فرمانده ای شجاع بود که در زمان شاه عباس، نقش مهمی در آزاد سازی سواحل و جزایر جنوبی ایران از اشغال پرتغالی ها داشت. او همچون پدرش الله وردی خان به فرهنگ و عمران و آبادانی علاقه فراوانی داشت اما بی آنکه خطایی کرده باشد با فرزندانش به دستور شاه صفی به قتل رسید.

مسئولیت های مهم خود بازماندند. بنابراین، امور حکومت مختل شد و هرج و مرج کشور را فراگرفت. در چنین اوضاع نابسامانی، گروهی از افغان ها در قندهار سر به شورش برداشتند و پس از پیروزی بر حاکم آن ولایت، به سوی اصفهان حرکت کردند. سلطان حسین صفوی که نمی توانست با این گروه شورشی کوچک مقابله کند، پس از چند ماه محاصره، به ناچار تسلیم شد و به این ترتیب، محمود افغان، سردسته شورشیان، بر پایتخت و قسمت هایی از ایران مسلط شد.

○ فعالیت


- ۳- الف) کدام شهرها پایتخت صفویان بودند؟ نام ببرید. ب) دلیل تغییر پایتخت صفویان را توضیح دهید.
- ۴- دلایل سیاسی و نظامی ضعف و فروپاشی حکومت صفوی چه بود؟

صفویان کشور را چگونه اداره می کردند؟

در دوره صفویه حکومت مرکزی قدرتمندی در ایران به وجود آمد که در رأس آن شاه قرار داشت. شاهان صفوی، همچون فرمانروایان پیش از خود، اختیارات زیادی داشتند و با استبداد بر کشور حکومت می کردند. همه مقام های کشوری و لشکری مطیع فرمان شاه بودند و اجازه نداشتند مخالف خواست و اراده او عمل کنند. بعد از شاه، وزیر بزرگ قرار داشت که به او اعتمادالدوله نیز می گفتند. او مسئول امور اداری و مالی کشور بود اما در مقابل شاه قدرت و اختیار چندانی نداشت. فرماندهان نظامی نیز در اداره حکومت صفوی نقش بسیار مهمی داشتند و علاوه بر فرماندهی سپاه، معمولاً حاکم ولایت های مهم نیز بودند.



شاه عباس اول صفوی



نمونه‌ای از سلاح‌های دوره صفویه

تا زمان شاه عباس اول، سران ایل قزلباش حاکم ولایت‌های مختلف ایران بودند. شاه عباس اول برای تقویت حکومت مرکزی و جلوگیری از نافرمانی و بی‌نظمی سران ایل قزلباش، حکومت ولایت‌ها را از آنان گرفت و به افرادی غیر از قزلباش‌ها سپرد. همچنین در کنار سپاه قزلباش، سپاه جدیدی از افراد غیر قزلباش تشکیل داد و با کمک گرفتن از اروپاییان، این سپاه را به تفنگ و توپ مجهز کرد.

فعالیت

۵- الف) آثار و نتایج اقدام‌های اداری و نظامی شاه عباس اول را توضیح دهید.
ب) کاربرگ شماره (۸) را انجام دهید.

اروپاییان در راه ایران

هم‌زمان با به قدرت رسیدن سلسله صفوی، کشورهای اروپایی، قرون وسطا یا عصر تاریکی را پشت سر گذاشته و وارد قرون جدید شده بودند. قرن‌های شانزدهم تا نوزدهم میلادی را در تاریخ اروپا قرون جدید می‌نامند. در سال ششم خواندید که اروپائیان با ساختن کشتی‌های بزرگ و مجهز به توپ‌های جنگی به سرزمین‌های دیگر رفتند و بخش‌های وسیعی از قاره‌های آمریکا، آفریقا و آسیا را مستعمره خود کردند. کشورهای پرتغال، اسپانیا، انگلستان و فرانسه پیش‌گامان استعمار بودند.

در آستانه تأسیس سلسله صفوی، پرتغالی‌ها جزایر و سواحل جنوبی ایران را تصرف کرده و تجارت خلیج فارس و دریای عمان را در اختیار گرفته بودند. شاه اسماعیل صفوی به دلیل نداشتن کشتی جنگی نتوانست در برابر پرتغالی‌ها کاری از پیش ببرد اما شاه عباس اول از رقابت انگلیسی‌ها و پرتغالی‌ها استفاده کرد و به کمک کشتی‌های جنگی انگلستان، پرتغالی‌ها را از سواحل و جزایر ایران بیرون راند.



قلعه پرتغالی‌ها در جزیره هرمز

در دوران صفویه، ایران با برخی از کشورهای اروپایی روابط سیاسی و بازرگانی برقرار کرد. در آن زمان اروپاییان شرکت‌های بزرگ تجاری تأسیس کرده بودند و می‌خواستند که روابط تجاری خود را با دیگر کشورها و از جمله ایران افزایش دهند. به همین دلیل، نمایندگانی را برای عقد قراردادهای بازرگانی به کشور ما فرستادند.



در دوره صفویه، جهانگردان زیادی از اروپا به ایران آمدند. تعدادی از آنها در سفرنامه‌های خود، مطالبی درباره جغرافیا، منابع طبیعی، عقاید و آداب و رسوم مردم ایران نوشتند. نوشته‌های جهانگردان اروپایی در شناساندن تاریخ اجتماعی، فرهنگی و اقتصادی ایران عصر صفوی و نیز منابع ثروت ایرانیان ارزش و اهمیت فراوانی دارد.

شاردن، بازرگان فرانسوی، یکی از مشهورترین جهانگردانی است که در عصر صفوی به ایران آمد. او در سفرنامه چندجلدی خود، دیده‌ها و شنیده‌هایش از ایران را شرح داده است.

○ فعالیت

۶- انگیزه‌ها و هدف‌های سیاسی، اقتصادی و فرهنگی اروپاییان از ارتباط با ایران دوره صفوی را از متن درس استخراج و دسته‌بندی کنید.

اوضاع اجتماعی، اقتصادی، علمی و فرهنگی ایران در عصر صفوی

زندگی اجتماعی

در دوران صفویه به دلیل وجود حکومت مرکزی نیرومند و برقراری نظم و امنیت در سراسر کشور، شرایط مناسبی برای رونق زندگی اجتماعی و اقتصادی پدید آمد. جمعیت ایران در آن دوره حدود ۱۰ میلیون نفر تخمین زده می‌شود. روستاییان و کوچ‌نشینان به ترتیب بیشترین ساکنان ایران را تشکیل می‌دادند. آنها به کشاورزی، دامداری و صنایع دستی اشتغال داشتند. به عقیده جهانگردان اروپایی، از جمله شاردن، وضع زندگی دهقانان ایرانی در دوره صفویه به مراتب بهتر از وضع دهقانان در مناطق حاصلخیز اروپا بوده است. یکی از منابع عمده درآمد حکومت صفوی، مالیاتی بود که از کشاورزان و دامداران می‌گرفتند.



زندگی روستایی در عصر صفوی

در دوره صفوی شهرهای بزرگ و آبادی به وجود آمد و شهرنشینی در ایران رونق گرفت. در آن زمان، حدود ۱۰ تا ۱۵ درصد ایرانیان در شهرها زندگی می‌کردند. شهرنشینان بیشتر مقام‌های حکومتی، نظامیان، روحانیون، بازرگانان، پیشه‌وران و صنعتگران بودند.



شهرنشینان عصر صفوی

شکوفایی صنعت

در دوره صفوی نه تنها کشاورزی و دامداری بلکه صنایع ایران نیز شکوفا و پر رونق بودند. در آن زمان، پیشه‌وران و صنعتگران ماهر و توانمند ایرانی، نیازهای گوناگون جامعه را به خوبی برطرف می‌کردند. حتی بخشی از محصولات ایران مانند خشکبار، پارچه‌های مخملی، ابریشمی و حریر و نیز قالی‌های نفیس به کشورهای همسایه و برخی کشورهای اروپایی صادر می‌شد.

صنعت بافندگی یکی از صنایع پررونق ایران دوره صفوی بود که با صنعت نساجی اروپا رقابت می‌کرد. در دوره شاه عباس اول، کارگاه‌های بافندگی متعددی در اصفهان، کاشان، یزد، مشهد، استرآباد (گرگان)، گیلان وجود داشت.

شاه و اعضای خاندان او مالک بیشتر این کارگاه‌ها بودند.



قالیچه نفیس متعلق به عصر صفوی

کاشان، شهر کارگاه‌های بافندگی

«منشأ و منبع درآمد مردم کاشان کارگاه‌های ابریشم‌بافی و هنر نقره‌کاری آنهاست. در هیچ‌یک از شهرهای ایران به قدر کاشان صنعت مخمل‌بافی، بافتن ساتن و پارچه‌های زربفت و زری ساده و گل‌دار رواج ندارد. تنها در یکی از ده‌های اطراف شهر، هزار کارگر ابریشم‌کار به بافتن انواع پارچه‌های ابریشمی اشتغال دارند. این ده که آران (شهرستان آران و بیدگل امروزی) نامیده می‌شود... دو هزار خانه و ششصد باغ بزرگ و دلگشا دارد».

(سفرنامه شاردن، ۱۳۷۴، ج ۲: ص ۵۳۷)



صنعتگران ایرانی در صنایع کاشی، چینی، چرم، جواهر، رنگ، صابون و جنگ افزارهای سنتی از قبیل شمشیر و کمان نیز پیشرفت کرده بودند و می توانستند کالاهای مرغوبی بسازند.



پایه فانوس برنجی



اسطرلاب افلاک نما



کوزه سفالی لعابدار

رونق تجارت

در عصر صفوی به دلیل یکپارچه بودن سرزمین ایران و وجود نظم و امنیت در سراسر کشور، تجارت داخلی و خارجی پررونق بود. شاهان صفوی، به خصوص شاه عباس اول، برای گسترش تجارت کوشش بسیار کردند. در آن دوره، شبکه وسیعی از راهها و کاروانسراها در سراسر ایران ایجاد شد. بازرگانان و مسافران رایگان در کاروانسراها اقامت می کردند. جهانگردان اروپایی درباره امنیت راههای ایران و رفتار پسندیده مأموران راهنمایی با مسافران بسیار نوشته اند. در آن دوره بازارهای بزرگی نیز در شهرها ساخته شد که یکی از باشکوه ترین آنها، بازار قیصریه اصفهان در شمال میدان نقش جهان بود. یکی از منابع درآمد حکومت صفوی، عوارضی بود که از کاروانهای تجاری گرفته می شد.



کاروانسرای ایزدخواست در آباده،
به جا مانده از دوره شاه عباس اول

شاهان صفوی، مخصوصاً شاه عباس اول، برای گسترش تجارت خارجی به شرکت‌های تجاری اروپایی اجازه دادند که در ایران فعالیت کنند. به گفته جهانگردان خارجی، صدها بازرگان از کشورهای مختلف آسیایی و اروپایی در پایتخت صفویه مشغول تجارت بودند. صادرات ابریشم، که پرسودترین کالای صادراتی بود، در انحصار شاه عباس قرار داشت.

○ فعالیت

۱- متن را مطالعه کنید :

الف) سه عامل گسترش تجارت در عصر صفوی را بیان کنید.

ب) سه منبع عمده درآمد حکومت صفوی را ذکر کنید.

شکوفایی علمی و فرهنگی

در دوران حکومت صفویان، ایرانیان بار دیگر توانستند استعدادها و توانایی‌های علمی، فرهنگی و هنری خود را آشکار کنند. در آن دوران، معماران و مهندسان شهرساز ایرانی مسجدها، مدرسه‌ها، کاخ‌ها، پل‌ها و کاروان‌سراهای عظیم و باشکوهی ساختند و در تزئین آنها انواع هنرها را به کار بردند. در کتاب مطالعات اجتماعی ششم با برخی از جلوه‌های هنر و معماری ایران در عصر صفوی آشنا شدید. در این درس به جنبه‌های دیگری از پیشرفت‌های علمی و فرهنگی ایرانیان در آن دوره می‌پردازیم.



کاخ چهلستون در قزوین



مدرسه چهارباغ در اصفهان

علم و آموزش: در دوره صفوی، تعلیم و تربیت مورد توجه بسیار بود و فعالیت‌های زیاد و مؤثری در این زمینه صورت گرفت. پادشاهان و مقام‌های کشوری و لشکری، مدرسه‌ها و کتابخانه‌های عظیمی به ویژه در پایتخت‌های صفوی ساختند و اموال و املاک بسیاری را وقف آنها کردند. در آن زمان، به علوم و معارف دینی مانند تفسیر، فقه و حدیث بسیار توجه می‌شد. دیگر شاخه‌های علوم مانند طبیعیات (علوم تجربی)، ریاضیات، ادبیات، فلسفه، طب و نجوم نیز تدریس می‌شدند اما چندان فراگیر و مورد توجه نبودند. در عصر صفوی، عالمان و اندیشمندان بزرگی پرورش یافتند و آثار ارزشمندی در موضوع‌های مختلف علمی و مذهبی نوشتند. میرداماد، ملاصدرا، شیخ بهایی و علامه محمدباقر مجلسی از فیلسوفان و عالمان بزرگ آن روزگار بودند.



تندیس شیخ بهایی

بهاءالدین محمد، معروف به شیخ بهایی از دانشمندان مشهور سده‌های ۱۰ و ۱۱ ه.ق است. او که از شیعیان بعلبک بود، برای رهایی از آزار و اذیت حاکم آن سرزمین، در خردسالی همراه پدر به ایران مهاجرت کرد. بهاءالدین علوم رایج و معارف دینی را نزد پدر و دیگر مدرسان معروف فراگرفت و در علوم مختلف تبحر یافت. او کتاب‌های ارزشمند متعددی در موضوع‌های علمی گوناگون نوشت و شاگردان بسیاری تربیت کرد که ملاصدرا، فیلسوف مشهور، از جمله آنان است. شیخ بهایی خدمات علمی و مهندسی متعددی داشته است که معروف‌ترین آنها عبارت‌اند از: طرح محاسبه دقیق آب زاینده‌رود و تقسیم آن میان محله‌های اصفهان و روستاهای مجاور، ساخت گرمابه‌ای در اصفهان که آب آن با یک شمع گرم می‌شد، طراحی و معماری مسجد چهارباغ، و طرح‌ریزی قنات زرین‌کمر نجف‌آباد. سازمان علمی و فرهنگی ملل متحد (یونسکو) به پاس خدمات او به علم ستاره‌شناسی، سال ۲۰۰۹ م را سال «نجوم و شیخ بهایی» نام‌گذاری کرد.



در دوره صفوی به سبب کم‌توجهی پادشاهان به شاعران، شعر و ادب فارسی مانند دیگر رشته‌ها پررونق نبود اما علم تاریخ مورد توجه قرار داشت و افراد زیادی به ثبت و نگارش وقایع تاریخی می‌پرداختند. کتاب‌های تاریخی ارزشمندی از این دوره به جا مانده است.

هنر : در زمان صفویان، ذوق و استعداد هنری ایرانیان شکوفا شد و هنرمندان بزرگی در رشته‌های مختلف هنری از جمله نقاشی، خوشنویسی، کتاب‌آرایی* و خاتم‌کاری شهرت یافتند. این هنرمندان خوش‌ذوق، آثار بسیار زیبا و نفیسی از خود به یادگار گذاشته‌اند.



نمونه‌ای از خط نستعلیق میرعماد حسنی
قزوینی، خوشنویس مشهور عصر صفوی



تندیس میرعماد در میدانی به نام او در شهر قزوین

جشن‌ها و آیین‌ها : در زمان حکومت صفوی، جشن‌ها و آیین‌ها با شکوه و عظمت برگزار می‌شدند. در آن زمان، مردم علاوه بر نوروز و دیگر جشن‌های باستانی، اعیاد اسلامی مانند قربان، فطر و غدیر را نیز گرامی می‌داشتند. آیین سوگواری امام حسین علیه السلام هم به‌طور گسترده در سراسر کشور به شیوهٔ روضه‌خوانی، سینه‌زنی و تعزیه* برگزار می‌شد. برای این جشن‌ها و آیین‌ها، تأثیر مهمی در افزایش همدلی و هم‌بستگی مردم داشت.

مراسم جشن نوروز

«مقدمهٔ نوروز چنین است که در میدان‌های عمومی با نقاره، شیپور و سنج از نیمه‌شب تا ظهر نوازندگی می‌کنند. پس از آن مردم... با هیاهو و خوشحالی به مساجد، میدان‌ها و ساختمان‌های عمومی روی می‌آورند؛ همه به هم تبریک می‌گویند، همه جا پر از شادی و سرزندگی است؛ بازی می‌کنند، سر به سر هم می‌گذارند، صحبت می‌کنند... شعرا و هنرپیشگان عرض هنر می‌نمایند؛ در جلسات و دسته‌های مذهبی شرکت می‌جویند تا اینکه روز به پایان می‌رسد و آنگاه، هرکس در چهاردیواری خود دنبال جشن و شادی را می‌گیرد و بخشی از شب را به شادی و خوشی در جمع خویشان و کسان خود می‌گذرانند.»

منبع : سفرنامه گمپفر، ۱۳۶۳، ص ۱۸۴

فعالیت

۲- متن را بخوانید. مراسم جشن و شادی در عصر صفوی را با روزگار کنونی از جنبه‌های مختلف (شیوهٔ برگزاری، محل جشن و ...) مقایسه کنید.



قزلباش: واژه‌ای ترکی به معنای سرخ‌سر (سر سرخ)، لقب اعضای ایل‌های ترک که طرفدار خانقاه شیخ‌صفی بودند و به شاه اسماعیل صفوی برای رسیدن به حکومت کمک کردند. این افراد کلاه‌های سرخ‌رنگی بر سر می‌گذاشتند و به همین دلیل، به قزلباش معروف شدند. آنان با جان و دل از رهبر خود، شاه اسماعیل، فرمان می‌بردند و اعتقاد داشتند که او برای انجام یک وظیفه مقدس جهاد کرده است.

کتاب‌آرایی: هنر کتاب‌آرایی از چند هنر تحریر (خط)، تذهیب، تصویرگری و جلدآرایی کتاب ترکیب شده و از گذشته دور در ایران رواج داشته است.

تعزیه: نمایشی مذهبی که سنت آن به شیعیان ایران متعلق است. محور اصلی این نمایش واقعه کربلا و مصیبت‌های اهل بیت علیهم‌السلام است.

به کار بندیم

- ۱- تصاویر و کارت‌پستال‌هایی از میدان نقش جهان اصفهان تهیه کنید و با خود به کلاس بیاورید. بناهای اصلی این مجموعه تاریخی را مشخص کنید و کارکرد هر یک از بناها و خود میدان را توضیح دهید.
- ۲- با رجوع به پایگاه اینترنتی شبکه رشد به نشانی www.roshd.ir درباره جشن نوروز و عزاداری امام حسین علیه‌السلام در دوره صفویه اطلاعاتی گردآوری کنید و آنها را به شکل یک روزنامه دیواری ارائه دهید.

ایران از عهد نادرشاه تا ناصرالدین شاه



فصل

پس از سقوط صفویان، تغییرات زیادی در اوضاع سیاسی و اجتماعی ایران پدید آمد. در دوره نادرشاه افشار، دوباره وحدت سیاسی در ایران شکل گرفت اما پس از او، بار دیگر کشور ما به صحنه جنگ مدعیان حکومت تبدیل شد. در دوره کریم خان زند مدتی امنیت و آرامش برقرار بود اما پس از مرگ او جنگ و ستیز برای به دست گرفتن قدرت آغاز شد. پس از روی کار آمدن قاجاریه، آقا محمدخان کوشید ایران را متحد و یکپارچه کند اما جانشینان او نتوانستند در برابر هجوم کشورهای قدرتمند، از کشور ما حفاظت و دفاع کنند. مردم ایران برای رهایی از این اوضاع به مبارزه دست زدند و کارهایی انجام دادند.



شما با مطالعه این فصل و انجام دادن فعالیت‌های آن به پاسخ پرسش‌های زیر پی می‌برید :

- ۱- اوضاع سیاسی ایران در دوران سلسله‌های افشاریه، زندیه و قاجاریه چگونه بوده است؟
- ۲- هجوم نظامی روسیه و انگلستان به ایران در دوره قاجار چه آثار و نتایجی داشته است؟
- ۳- پیامدهای مداخله و نفوذ سیاسی و اقتصادی روسیه و انگلستان در ایران چه بوده است؟
- ۴- مردم ایران برای مقابله با مشکلات داخلی و رهایی از نفوذ و دخالت سیاسی و اقتصادی بیگانگان چه کارهایی انجام داده‌اند؟



تلاش برای حفظ استقلال و اتحاد سیاسی ایران

در پی تسلط افغان‌ها بر اصفهان و برکناری و قتل شاه سلطان حسین صفوی، ایران گرفتار تجزیه و تفرقه شد. افغان‌ها توان حکومت بر سراسر ایران را نداشتند. به همین دلیل، در گوشه و کنار کشور افرادی مدعی حکومت شدند. روسیه و عثمانی نیز با استفاده از آشفتگی اوضاع، قسمت‌هایی از شمال و غرب ایران را اشغال کردند.

افشاریه : حکومت ناپایدار

در چنین شرایطی، نادر که سرداری از ایل افشار بود با سپاهیان، نخست افغان‌ها را سرکوب و تار و مار کرد و سپس نیروهای روسیه و عثمانی را از ایران بیرون راند. نادر پس از این پیروزی‌ها، بر تخت شاهی نشست. بدین ترتیب، سلسله افشاریه پایه‌گذاری شد.



صحنه رزم نادر با دشمنان

بیشتر دوره دوازده ساله پادشاهی نادر به نبرد با بیگانگان و فرونشاندن شورش‌های داخلی گذشت. نادرشاه در تعقیب گروهی از افغان‌های شورشی که به هندوستان گریخته بودند، به آن کشور لشکر کشید. او تا دهلی پیش رفت و با غنیمت‌های بسیار به کشور بازگشت. نادرشاه کوشید ایران را به کشوری یکپارچه و قدرتمند تبدیل کند، کشوری که بتواند از استقلال خود در برابر دشمنان دفاع کند. وی از موقعیت حساس خلیج فارس و اهمیت نیروی دریایی آگاه بود؛ از این رو، برای تأسیس نیروی دریایی ایران در خلیج فارس، کارهایی انجام داد اما این کارها با مرگ او متوقف شد.

در سال‌های پایانی حکومت نادر، نافرمانی‌ها و شورش‌های پیاپی تأثیر روانی نامطلوبی بر او گذاشت. او که به اطرافیان و سرداران خود بدگمان شده بود، به رفتارهای خشونت‌آمیز و بی‌رحمانه روی آورد. در نتیجه، فرماندهان سپاه نادرشاه که از جان خود می‌ترسیدند، او را به قتل رساندند. به دنبال قتل نادرشاه، ایران بار دیگر به صحنه جنگ حاکمان محلی و سران ایل‌ها تبدیل شد.



قلمرو ایران در زمان نادر شاه افشار

○ فعالیت

۱- با مطالعه درس و راهنمایی دبیر خود، دلایل و عوامل مهم نابسامانی اوضاع اجتماعی و اقتصادی ایران در دوران افشاریه را بررسی و تحلیل کنید.

زندیه : آرامش و آسایش گذرا



کریم خان زند؛ وکیل الزعایا

سرانجام، کریم‌خان از ایل زندیه، با پیروزی بر دیگر مدعیان حکومت، برای مدتی به درگیری‌ها و نزاع‌های داخلی پایان بخشید. او حکومت بخش بزرگی از ایران به جز خراسان را به دست گرفت و سلسله زندیه را بنیان گذاشت. کریم‌خان به جای عنوان شاه، لقب وکیل‌الزعمایا، یعنی نماینده مردم، را برای خود برگزید. او با ملایمت و مهربانی با مردم رفتار می‌کرد، به صلح، آسایش و آرامش عمومی اهمیت می‌داد و می‌کوشید از بروز ناامنی و شورش‌های داخلی جلوگیری کند.

دوران فرمانروایی کریم خان سی سال طول کشید. در این دوران، ثبات و آرامش نسبی در سراسر کشور به وجود آمد و در نتیجه، اوضاع اجتماعی و اقتصادی بهتر شد. بناهای مهمی مانند بازار وکیل، مسجد وکیل، حمام وکیل و ارگ کریم خان در شیراز، پایتخت زندیه، ساخته شد و فعالیت‌های علمی و فرهنگی در آن شهر رونق گرفت. با مرگ کریم خان زند، افراد خاندان او برای کسب قدرت با یکدیگر درگیر شدند و بار دیگر جنگ داخلی کشور را فرا گرفت.



قلمرو ایران در زمان زندیه



آقامحمدخان

قاجاریه : گسترش نفوذ و دخالت کشورهای استعمارگر

ایل قاجار یکی از ایل‌های ترک تبار ایران بود. آقامحمدخان، پسر یکی از رؤسای این ایل، پس از مرگ کریم خان تلاش برای رسیدن به حکومت را آغاز کرد. او پس از مدتی جنگ و گریز، لطفعلی خان زند، آخرین فرمانروای زندیه را شکست داد و به قتل رساند. همچنین، مردم کرمان را به دلیل پناه دادن به لطفعلی خان، بی‌رحمانه مجازات کرد. آقامحمدخان با لشکرکشی‌های پیاپی بر سراسر ایران مسلط شد و حکومت قاجار را بنیان گذاشت و تهران را به پایتختی خود انتخاب کرد.

○ فعالیت

- ۲- شیوه به قدرت رسیدن سلسله‌های افشاریه، زندیه و قاجاریه چه شباهتی به هم دارد؟
- ۳- به نظر شما، آقا محمدخان در انتخاب تهران به پایتخت به چه نکته‌هایی توجه داشته است؟



قلمرو ایران در اوایل حکومت قاجاریه



فتحعلی شاه

آقامحمدخان مردی تندخو و بی رحم بود و سرانجام به دست خدمتکارانش کشته شد. پس از او برادرزاده اش فتحعلی شاه، به قدرت رسید. دوره حکومت فتحعلی شاه، هم زمان با آغاز نفوذ و دخالت گسترده کشورهای روسیه، انگلستان و فرانسه در ایران بود.



با انقلاب صنعتی، نیروی ماشین جایگزین نیروی انسان در تولید و حمل و نقل شد.

اوضاع اروپا: در فاصله سقوط صفویه تا روی کار آمدن

قاجاریه، اوضاع کشورهای اروپایی تغییر کرده بود. یکی از دلایل عمده این تغییر، انقلاب صنعتی بود که از انگلستان آغاز شد و در دیگر کشورهای اروپایی گسترش یافت. در نتیجه این انقلاب، نیروی ماشین و ابزارهای صنعتی جای نیروی انسان و ابزارهای دستی را در تولید گرفت. از این رو، سرعت و میزان تولید افزایش یافت. انقلاب صنعتی موجب شکوفایی اقتصادی و افزایش قدرت نظامی و سیاسی کشورهای اروپایی شد و توجه آنها را به کشورهایی که مواد اولیه یا بازار مصرف مناسبی داشتند، جلب کرد. به این ترتیب، بیشتر این کشورها فعالیت‌ها و رقابت‌های استعماری خود را افزایش دادند.

فعالیت

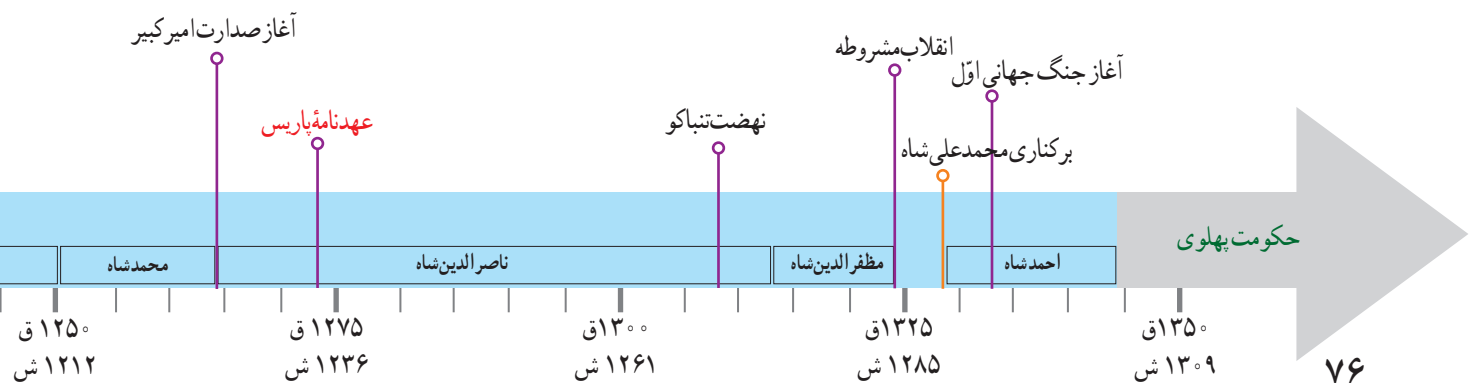
۴- درباره چگونگی تأثیر انقلاب صنعتی بر افزایش قدرت نظامی و سیاسی کشورهای اروپایی، در کلاس بحث و گفت‌وگو کنید.

حمله روسیه به ایران: روسیه تا پیش از فرمانروایی پترکبیر* کشوری ضعیف و عقب‌مانده بود اما در نتیجه برنامه‌ها و

فعالیت‌های او به کشوری قدرتمند و استعمارگر تبدیل شد. پس از آن نیز با حمله به کشورهای همسایه، قلمرو خود را گسترش داد. یکی از اهداف استعماری این کشور، رسیدن به آب‌های خلیج فارس و اقیانوس هند بود.

در زمان فتح‌علی‌شاه، روسیه با ارتشی مجهز به سلاح‌های جدید و آشنا با فنون جنگی تازه به قلمرو ایران در قفقاز حمله کرد. سپاه ایران که از جنگاوران ایل‌های مختلف تشکیل شده بود، با سلاح‌های ابتدایی به مقابله با نیروهای متجاوز روس پرداخت. سرانجام پس از ده سال جنگ نابرابر، روسیه پیروز شد و عهدنامه گلستان را به ایران تحمیل کرد. به موجب این عهدنامه، ایالت‌های گرجستان و داغستان و شهرهای باکو و گنجه از حاکمیت ایران خارج شدند و تحت حاکمیت روسیه قرار گرفتند.

مردم ایران که از عهدنامه گلستان ناخشنود بودند، با فتوای علما برای آزاد کردن سرزمین‌های اشغالی بسیج شدند. سپاه ایران که از جنگاوران ایل‌ها و نیروهای داوطلب مردمی تشکیل شده بود، به سرعت مناطق اشغال شده را آزاد کرد. روسیه با تمام قوا و تجهیزات





نبت نام داوطلبانه ایرانیان برای دفاع از میهن خود

خود وارد جنگ شد و با شکست دادن سپاه ایران، **عهدنامه ترکمان چای** را — که ننگین تر از قرارداد گلستان بود — به کشور ما تحمیل کرد. بر اساس این قرارداد، سرزمین‌های ایرانی شمال رود ارس به تصرف روسیه درآمد و همچون معاهده گلستان، ایران از داشتن کشتی جنگی در دریای مازندران محروم گردید و مجبور به پرداخت غرامت شد.

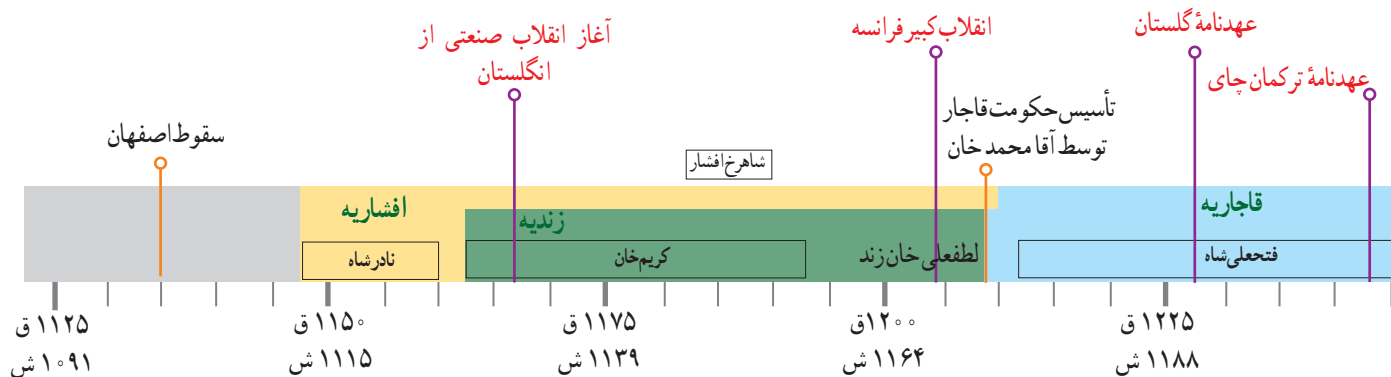
اهداف و برنامه‌های استعماری انگلستان در ایران

در اوایل دوره قاجار، مهم‌ترین مستعمره انگلستان یعنی هندوستان، با ایران همسایه بود. حفظ این مستعمره برای انگلستان اهمیت حیاتی داشت؛ بنابراین، یکی از هدف‌های اصلی انگلستان از برقراری ارتباط با حکومت قاجار این بود که نگذارد کشورهای رقیب از طریق ایران به هندوستان دسترسی پیدا کنند.

در زمان فتحعلی‌شاه، چند عهدنامه میان ایران و انگلستان بسته شد و در آنها حکومت قاجار تعهد کرد که به هیچ کشوری اجازه ندهد از خاک ایران به هندوستان لشکرکشی کند. در عوض، انگلیسی‌ها نیز متعهد شدند که در صورت حمله کشورهای دیگر به ایران، به حکومت قاجار کمک‌های مالی و نظامی کنند. البته، انگلستان در طول جنگ‌های روسیه با ایران، به تعهدات خود عمل نکرد. حتی در دوران محمدشاه و ناصرالدین‌شاه با لشکرکشی به خلیج فارس و حمله به جزایر و بنادر ایران، حکومت قاجار را مجبور کرد که به جدایی افغانستان از ایران رضایت دهد. انگلیسی‌ها ناصرالدین‌شاه را نیز وادار کردند که با جدایی قسمت شرقی سیستان و بلوچستان از ایران موافقت کند. علاوه بر اینها، تعدادی از جزایر ایرانی خلیج فارس را اشغال و به پایگاه نظامی خود تبدیل کردند.

فعالیت

- ۵- با مطالعه درس، دلایل شکست‌های ایران از روسیه را استخراج کنید.
- ۶- هدف دولت انگلستان از جدا کردن افغانستان و بخش شرقی سیستان و بلوچستان از ایران چه بود؟
- ۷- کاربرگه شماره (۹) را انجام دهید.



در جست و جوی پیشرفت و رهایی از سلطه خارجی

شکست‌های نظامی و سیاسی از روسیه و انگلستان در دوره قاجار نتایج زیانباری برای کشور ما داشت اما ایرانیان را متوجه پیشرفت‌های علمی و صنعتی کشورهای اروپایی کرد. به علاوه برخی از سیاستمداران، اندیشمندان و عالمان دینی برای جبران عقب‌ماندگی ایران به چاره‌جویی پرداختند و برای حفظ استقلال و پیشرفت کشور خود کارهایی انجام دادند.

تلاش برای نوسازی و اصلاح امور کشور

عباس میرزا، ولیعهد فتحعلی‌شاه و فرمانده سپاه ایران، در جریان جنگ با روسیه متوجه پیشرفت‌های علمی، صنعتی و نظامی آن کشور و دیگر کشورهای اروپایی شد. او پی برد که با وجود تعداد زیاد سپاهیان ایران و دلاوری و فداکاری آنها، روس‌ها به دلیل برخورداری از دانش و تجهیزات پیشرفته نظامی پیروز شدند. عباس میرزا سپس، به این نتیجه رسید که باید تغییراتی در کشور ایجاد کند. یکی از اقدامات عباس میرزا برای پیشرفت ایران، فرستادن افرادی به انگلستان برای فراگیری علوم و فنون جدید بود. این افراد برای تحصیل در رشته‌های فنی، نظامی و پزشکی به اروپا رفتند و به تدریج زمینه آشنایی ایرانیان را با دستاوردهای تمدن اروپا فراهم آوردند. عباس میرزا همچنین برای آگاهی از اوضاع کشورهای اروپایی، دستور داد کتاب‌هایی را در موضوع تاریخ آن کشورها به فارسی ترجمه کنند. در آن دوره صنعت چاپ تازه به ایران راه یافته بود. عباس میرزا پیش از آنکه بر تخت شاهی بنشیند، از دنیا رفت و فتحعلی‌شاه، پسر عباس میرزا - محمد میرزا - را به ولیعهدی برگزید.



عباس میرزا



روزنامه کاغذ اخبار اولین روزنامه ایرانی

بود که توسط میرزا صالح شیرازی منتشر شد.

میرزا صالح شیرازی از جمله افرادی بود که

به دستور عباس میرزا در انگلستان تحصیل کرده

بود.

۱- الف) چرا عباس میرزا به فکر نوسازی و اصلاح کشور افتاد؟
ب) عباس میرزا برای پیشرفت ایران چه کارهایی انجام داد؟

میرزا تقی‌خان امیرکبیر یکی دیگر از کسانی بود که در دوره قاجار، کارهای جدی و مؤثری برای نوسازی و اصلاح امور ایران انجام داد. ناصرالدین‌شاه در ابتدای سلطنتش، امیرکبیر را به صدراعظمی منصوب کرد و در اداره کشور به او اختیار کامل داد. در آن زمان، حکومت قاجار با مشکلات بزرگی از قبیل شورش در ایالت‌ها، دخالت‌های خارجی، بی‌نظمی و اختلال امور کشوری و لشکری و خالی بودن خزانه روبه‌رو بود.

امیرکبیر پس از برقرار کردن امنیت و آرامش، اقداماتی را برای نوسازی تشکیلات حکومتی و مبارزه با مفاسد اداری و اقتصادی آغاز کرد. او در سیاست خارجی، توجه ویژه‌ای به حفظ استقلال کشور داشت و درصدد قطع نفوذ روسیه و انگلستان در ایران بود. یکی از مهم‌ترین اقدامات امیرکبیر، تأسیس مدرسه دارالفنون بود. او که فرستادن دانشجویان به اروپا را کافی نمی‌دانست، تصمیم گرفت مدرسه‌ای به سبک مدرسه‌های اروپایی در ایران تأسیس کند تا تعداد بیشتری از ایرانیان علوم و فنون جدید را بیاموزند. او همچنین معلمانی را از کشورهای جز روسیه و انگلیس (مثلاً از اتریش) برای تدریس در مدرسه دارالفنون استخدام کرد. مدرسه دارالفنون مدتی پس از برکناری امیرکبیر و چند روز پیش از قتل او شروع به کار کرد.



امیرکبیر



ناصرالدین شاه قاجار


سرانجام، ناصرالدین‌شاه بر اثر توطئه درباریان و افراد سودجو، دستور قتل امیرکبیر را داد و ایران را از خدمات ارزشمند او محروم کرد.



میرزا تقی‌خان امیرکبیر به سال ۱۲۲۲ق در فراهان از توابع اراک متولد شد. او به خاطر هوش و استعداد کم‌نظیرش از همان دوران نوجوانی مورد توجه ابوالقاسم قائم‌مقام فراهانی (وزیر عباس میرزا و صدراعظم محمدشاه) قرار گرفت و به خدمت دولت درآمد. میرزا تقی‌خان در دوران حکومت محمدشاه، چندین مأموریت سیاسی را در کشورهای روسیه و عثمانی انجام داد و از نزدیک با کارهایی که دولت‌های روسیه و عثمانی برای نوسازی و اصلاح امور کشورهای خود انجام داده بودند، آشنا شد.

سایر اصلاحات امیرکبیر :

- * منع رشوه‌خواری و پیشکش گرفتن توسط مقام‌ها و کارکنان دولت و تعیین حقوق برای آنان؛
- * منع فروش حکومت ایالت‌ها (پیش از آن، حکومت ایالت‌ها را به کسانی که پول بیشتری پرداخت می‌کردند، می‌فروختند)؛
- * کاهش حقوق و مستمری شاه، شاهزادگان، درباریان و...؛
- * اصلاح قوانین مالیاتی و وادار کردن زمین‌داران بزرگ (درباریان و صاحب‌منصبان برجسته دولتی) به پرداخت مالیات؛
- * تلاش برای ایجاد سپاه منظم و تأسیس کارخانه اسلحه‌سازی؛
- * اعزام عده‌ای به اروپا برای فراگرفتن فنون و حرفه‌های نو و احداث کارخانه‌های جدید؛
- * اصلاح امور قضایی و توجه جدی به برقراری عدالت و رعایت حقوق مردم؛
- * منع شکنجه متهمان؛
- * احترام به حقوق اقلیت‌های دینی؛
- * انتشار روزنامه و قایع‌اتفاقیه؛
- * ترجمه کتاب‌های اروپایی و توسعه چاپخانه؛
- * ساختن بیمارستان؛ مقابله با بیماری‌های مُسری مانند آبله و وبا؛
- * سنگفرش کردن خیابان‌ها؛
- * راه‌اندازی چاپارخانه و پست جدید؛
- * ایجاد تذکره‌خانه (اداره گذرنامه)؛ بنای بازار و تیمچه و سرای امیر در تهران.



مدرسه دارالفنون در تهران، نخستین مدرسه عالی یا دانشگاه ایرانی است که در سال ۱۲۶۸ق افتتاح شد و بیش از صد دانشجو در رشته‌های مهندسی، پزشکی و جراحی، فیزیک، شیمی، داروسازی، معدن‌شناسی، توپخانه، پیاده‌نظام و سواره نظام در آن مشغول تحصیل شدند. تاریخ و جغرافیا از جمله درس‌های عمومی این رشته‌ها بود.

- ۲- الف) انگیزه و اهداف امیرکبیر از اقدامات اصلاحی چه بود؟
- ب) چرا امیرکبیر مدرسه دارالفنون را تأسیس کرد؟
- پ) به نظر شما، چرا امیرکبیر بر استخدام نکردن معلمان و استادان روسی و انگلیسی در مدرسه دارالفنون، اصرار می‌کرد؟
- ۳- چند مورد از اقدامات امیرکبیر را در زمینه حقوق شهروندی و توسعه علمی و فرهنگی بنویسید.
- ۴- به نظر شما با توجه به اصلاحات امیرکبیر، چرا شاهزادگان و درباریان قاجار برای برکناری و قتل امیرکبیر توطئه کردند؟

گسترش مدرسه‌های جدید: یکی از نتایج آشنایی ایرانیان با تمدن اروپایی در دوره قاجار، ایجاد مدرسه‌های جدید بود. تا اواخر حکومت ناصرالدین‌شاه، سوادآموزی در مکتب‌خانه‌ها انجام می‌گرفت، اما به تدریج، افرادی پیش‌گام تأسیس مدرسه‌هایی به سبک اروپایی در ایران شدند؛ از جمله میرزا حسن رشیدی که در بیروت و استانبول با این نوع آموزشگاه‌ها و شیوه فعالیت آنها آشنا شده بود. او در زادگاهش تبریز و شهرهای مشهد، تهران و قم چندین مدرسه جدید تأسیس کرد. پس از آن بر تعداد این مدرسه‌ها در ایران افزوده شد.



عکسی از کلاس مدارس جدید در دوره قاجار

در مدارس جدید، دانش‌آموزان در دوره ابتدایی درس‌هایی از قبیل قرآن، شرعیات، فارسی، دیکته، حساب، نصاب (مقدمه زبان عربی) و هندسه می‌آموختند. در دوره متوسطه نیز همین دروس به اضافه فیزیک، شیمی، ریاضی، جبر، مثلثات، طب، زبان فرانسه، تاریخ و جغرافیا توسط معلمان که اغلب فارغ‌التحصیل دارالفنون و یا تحصیل‌کرده اروپا بودند، تدریس می‌شدند.



عکسی از مکتب‌خانه‌ای در اصفهان، در دوره قاجار

در مکتب‌خانه، شاگردان پس از آموختن الفبای عربی به روخوانی قرآن می‌پرداختند. سپس کتاب‌های گلستان و بوستان سعدی و دیگر آثار ادبی و تاریخی را می‌خواندند و نوشتن را می‌آموختند. مکتب‌دار، اصول و فروع دین و احکام دینی را نیز به کودکان یاد می‌داد.

مبارزه با نفوذ و سلطه اقتصادی بیگانگان

کشورهای روسیه و انگلستان علاوه بر اینکه بخش‌های پهنای ایران را از آن جدا کردند، برای نفوذ اقتصادی در کشور ما به رقابت پرداختند. آنها در دوره ناصرالدین‌شاه به امتیازهای اقتصادی* مهمی مانند تأسیس بانک، استخراج معادن نفت، بهره‌برداری از جنگل و شیلات در ایران دست یافتند. صنعت و بازرگانی کشور ما با واگذاری این امتیازها آسیب‌های فراوانی دید. شرکت‌های بازرگانی خارجی در بیشتر شهرهای ایران شعبه‌هایی تأسیس کردند و به خرید و فروش مشغول شدند. این شرکت‌ها معمولاً کالاهای اروپایی را بدون پرداخت حقوق گمرکی و یا با حقوق گمرکی بسیار ناچیزی وارد کشور می‌کردند. تولیدکنندگان و بازرگانان ایرانی چون نمی‌توانستند با این شرکت‌ها رقابت کنند، روزبه‌روز ضعیف‌تر و دچار ورشکستگی شدند. فعالیت شماره ۳ به کار بیندیم را انجام دهید.

امتیازهای واگذار شده به انگلیسی‌ها	امتیازهای واگذار شده به روس‌ها
۱- احداث تلگراف، ۲- روتر: بهره‌برداری از جنگل‌ها و منابع و معادن ایران به جز طلا و نقره، ۳- کشتی‌رانی در کارون، ۴- بخت‌آزمایی (لاتاری)، ۵- تأسیس بانک شاهنشاهی، ۶- خرید و فروش انحصاری توتون و تنباکو، ۷- دارسی: استخراج معادن نفت	۱- شیلات شمال، ۲- بانک استقراضی روس، ۳- تشکیل نیروی قزاق، ۴- احداث راه شوسه بین آتزی و قزوین، ۵- قرارداد گمرکی



یکی از شخصیت‌های مذهبی که نقش مؤثری در بیداری مردم ایران و دیگر مسلمانان جهان داشت، سیدجمال‌الدین اسدآبادی بود. سید جمال از فقر و عقب‌ماندگی کشورهای مسلمان و دخالت بیگانگان در امور مسلمانان رنج می‌برد و تلاش زیادی کرد که ملت‌های مسلمان را در برابر استبداد داخلی و استعمار خارجی بسیج کند. از جمله اقداماتی که برای بیداری امت اسلامی انجام داد، انتشار روزنامه عروة الوثقی بود.

مردم مسلمان ایران می‌دانستند که واگذاری امتیازهای اقتصادی به روسیه و انگلستان موجب تسلط هرچه بیشتر بیگانگان بر منابع ثروت و بازار کشورشان می‌شود. بنابراین، با واگذاری برخی از این امتیازها، مخالفت کردند. روحانیون که از گروه‌های مورد احترام و اعتماد جامعه ایران در عصر قاجار بودند، رهبری اعتراض‌ها را به عهده داشتند.

نهضت* تنباکو: نهضت تنباکو یکی از گسترده‌ترین جنبش‌های اجتماعی بود که در اعتراض به واگذاری امتیازهای اقتصادی به بیگانگان شکل گرفت.



در دوره ناصرالدین‌شاه، توتون و تنباکو از عمده‌ترین محصولات کشاورزی ایران بود. در آن زمان یک نفر انگلیسی به نام تالبوت با پرداخت رشوه به درباریان، امتیاز انحصاری خرید و فروش توتون و تنباکوی ایران را به مدت پنجاه سال به دست آورد. براساس این امتیاز، ایرانیان نمی‌توانستند محصول توتون و تنباکوی خود را به کسی غیر از او بفروشند. در مقابل، تالبوت نیز تعهد کرده بود که هر سال ۱۵۰۰۰ لیره انگلیس به همراه یک چهارم سود سالانه خود را به حکومت ایران پرداخت کند.

مردم و به ویژه بازرگانان با آگاهی از نتایج زیانبار این امتیاز، در شهرهای مختلف شروع به اعتراض و مخالفت آیت‌الله میرزا حسن شیرازی کردند. روحانیان در صف مقدم این اعتراض قرار گرفتند و خواهان لغو امتیاز تنباکو شدند. ناصرالدین‌شاه به خواسته مخالفان اعتنایی نکرد و آیت‌الله میرزا حسن شیرازی، مرجع تقلید شیعیان در سامرا، در حمایت از نهضت، استفاده از توتون و تنباکو را حرام اعلام کرد. این حکم شرعی سبب شد که مردم و حتی کارکنان کاخ ناصرالدین‌شاه، قلیان‌ها را بشکنند و از مصرف توتون و تنباکو خودداری کنند. با اوج گرفتن نهضت، ناصرالدین‌شاه مجبور شد امتیاز را لغو کند و غرامت و خسارت نیز به تالبوت بپردازد. نهضت تنباکو نخستین حرکت جدی مردم ایران برای رهایی از نفوذ و سلطه خارجی و ایستادگی در برابر ستم داخلی بود و پیروزی آن حس اعتماد به نفس و روحیه مقاومت و مبارزه را در مردم تقویت کرد.

○ فعالیت

۵- الف) دلیل اصلی شکل‌گیری نهضت تنباکو چه بود؟
 ب) موفقیت نهضت تنباکو از نظر سیاسی و اجتماعی چه اهمیتی داشت؟

فرمان لغو امتیاز توتون و تنباکو



واژگان سند

قَدَر قَدَر : بلند مرتبه
 ممالک محروسه : سرزمین‌های حفاظت و
 حراست شده یک پادشاه
 شاق : کار دشوار و سخت
 مستدعی : درخواست شده
 منوبل : انحصاری
 معافی : عفو کردن، لغو کردن
 موقوفی : بازداشتن، لغو کردن
 مَمَر : محل درآمد
 بیع و شری : خرید و فروش



از طهران به اصفهان
 نمره
 عدد کلمات
اداره تلگرافی دولت علیه ایران

بر حسب امر قَدَر قَدَر بندگان اعلیحضرت اقدس همایون شاهنشاهی روحنا و روح العالمین فداء ابلاغ می‌شود. بنا به مرحمت و رأفت همایونی نسبت به عموم ممالک محروسه بعد از اینکه معلوم شد که عمل انحصار تنباکو و منوبل آن بر عموم اهالی قدری شاق است و از خاکپای اقدس همایون مستدعی معافی و موقوفی آن شدند برای آسایش خاطر عموم اهالی و رعایا و تکمیل مزید دعاگویی وجود مبارک این انحصار را در تمام ممالک محروسه ایران از امروز موقوف و متروک فرمودند و ضرر و خسارت کمپانی را از مَمَر دیگری معین و مقرر خواهند فرمود که به مرور به کمپانی پرداخته خواهد شد. از تاریخ این تلگراف به بعد عموم اهالی از علما و اعیان و تجار و عموم اطلاع می‌دهد که تنباکو و توتون و عموم اجناس دخانیه خودشان را به هر کس و به هر قیمت و هر نحو که میل خودشان باشد بیع و شری نمایند و ابتدا به مأمورین و کسان اداره دخانیه اگر چه رئیس آنها یقیناً اطلاع داده است شما هم اطلاع بدهید که حکم از این قرار است و ضمناً به موجب امر همایونی روحنا فدا تأکید می‌شود مبدا نسبت به مأمورین آنها خلاف قاعده و خلاف احترامی شود که موجب تنبیه و سیاست شدید خواهد شد. مردم هم خودشان را از این زحمت و تحمیل آسوده دانسته به دعاگویی وجود مسعود همایونی و به شکرگزاری مراجع کامله همایون خسروانه بیفزایند و بعضی حرکات جاهلانه را به کلی موقوف نمایند و عرایض شکرانه علمای اعلام به خاکپای مبارک برسند. به تاریخ ۱۷ شهر جمادی الاولی ۱۳۰۹ امین السلطان [صدراعظم]

○ فعالیت

۶- با راهنمایی دبیر خود متن سند را در کلاس بخوانید و به پرسش‌های زیر پاسخ دهید :
 الف) این فرمان توسط چه کسی صادر و توسط چه کسی به مردم ابلاغ شد؟
 ب) چرا ناصرالدین شاه امتیاز توتون و تنباکو را لغو کرد؟
 پ) لغو این امتیاز چه سودی برای مردم داشت؟
 ت) در چه تاریخی امتیاز لغو شد؟
 ث) وقتی متن این سند را می‌خوانید چه نکته‌هایی شما را بیشتر به فکر و می‌دارد یا توجه شما را جلب می‌کند؟



پتر کبیر : پتر اوّل امپراتور (تزار) نامدار و معروف روسیه که از ۱۶۸۲ تا ۱۷۲۵ م/ ۱۰۹۳-۱۱۳۷ ق (هم‌زمان با سال‌های پایانی سلسله صفوی) بر آن کشور حکومت می‌کرد. او با نوسازی ارتش روسیه به سبک ارتش‌های اروپایی، روسیه را به کشوری قدرتمند و پهناور تبدیل کرد.

امتیاز اقتصادی : اجازه فعالیت اقتصادی و یا واگذاری حق بهره‌برداری از منابع طبیعی و معدنی به افراد یا شرکت‌های داخلی یا خارجی.

نهضت : برخاستن، به حرکت درآمدن و قیام برای رسیدن به مقاصد سیاسی، اجتماعی، اقتصادی و فرهنگی معین.

به کاربندیم

- ۱- با مراجعه به پایگاه اینترنتی شبکه رشد به نشانی www.roshd.ir و یا کتاب‌هایی درباره زندگی و خدمات میرزا ابوالقاسم قائم مقام فراهانی، خلاصه‌ای از زندگی‌نامه او را تهیه کنید و در کلاس بخوانید.
- ۲- پرس‌وجو کنید که آیا در شهر یا روستای محل زندگی شما آثاری از دوره قاجار باقی مانده است. در صورت وجود چنین آثاری، درباره یکی از آنها گزارشی به همراه عکس تهیه و به کلاس ارائه کنید.
- ۳- با مطالعه متن به پرسش‌های زیر پاسخ دهید.

«تعداد دستگاه‌های بافندگی دستی شیراز که در اوایل حکومت قاجار ۵۰۰ واحد بود، حدود ۶۰ سال بعد به ۱۰ واحد کاهش یافت که آنها هم پارچه‌های زیر و خشن می‌بافتند. در همان دوره، تعداد کارگاه‌های حریربافی اصفهان نیز از ۱۲۵۰ واحد به ۱۲ واحد رسید و مردم آن شهر، مصرف کننده پارچه‌های نخی کارخانه‌های انگلستان شدند».

منبع : مقاومت شکننده، تاریخ تحولات اجتماعی ایران از صفویه تا انقلاب اسلامی، تألیف جان فوران، ترجمه احمد تدین، ناشر : رسا،

۱۳۷۷ ش، ص ۱۹۶.

- الف) دلیل کاهش تعداد کارگاه‌های بافندگی در دو شهر شیراز و اصفهان چه بوده است؟
- ب) به نظر شما، کاهش تعداد کارگاه‌های بافندگی در دوره قاجار، از نظر اقتصادی چه آثار و نتایجی برای مردم ایران داشت؟
- ج) از این موضوع تاریخی برای اقتصاد کشور در شرایط کنونی چه پندی می‌توان گرفت؟

ایران در عصر مشروطه



فصل

در دوره پادشاهی مظفرالدین شاه قاجار، اوضاع سیاسی، اجتماعی و اقتصادی ایران به دلیل مشکلات داخلی و افزایش نفوذ و دخالت روسیه و انگلستان آشفته‌تر شد. مردم ایران که در آن زمان در نتیجه روشنگری‌ها و هدایت علما و اندیشمندان آگاه‌تر و بیدارتر شده بودند، برای رهایی از آن وضع نابسامان، جنبش عظیمی به پا کردند. هدف این جنبش - که به انقلاب مشروطیت معروف شد - تغییر شیوه حکومت به منظور ایجاد امنیت، عدالت، آزادی، پیشرفت کشور و رهایی از استبداد داخلی و سلطه خارجی بود. انقلاب مشروطیت در سال ۱۲۸۵ ش/۱۳۲۴ ق به پیروزی رسید و نظام پادشاهی استبدادی در ظاهر به حکومت مشروطه تبدیل شد. اما به سبب موانع و مشکلات داخلی، دخالت‌های کشورهای خارجی و وقوع جنگ جهانی اول، انقلاب به هدف‌های اساسی خود نرسید و اوضاع ایران بدتر شد. نتیجه این حوادث، سقوط سلسله قاجار، روی کار آمدن سلسله پهلوی و آغاز دوره جدیدی در تاریخ ایران بود.



شما با مطالعه این فصل و انجام دادن فعالیت‌های آن به پاسخ پرسش‌های زیر پی می‌برید :

- ۱- انقلاب مشروطه چرا و چگونه در ایران به وجود آمد؟
- ۲- موانع و مشکلات داخلی و خارجی حکومت مشروطه در ایران چه بود؟
- ۳- تغییر حکومت قاجاریه به پهلوی چرا و چگونه صورت گرفت؟
- ۴- هدف‌ها و نتایج نهضت ملی شدن نفت ایران چه بود؟

درس ۱۳ انقلاب مشروطیت؛ موانع و مشکلات



مظفرالدین شاه

در دوره حکومت مظفرالدین شاه رویدادی بزرگ در ایران رخ داد. این رویداد انقلاب مشروطیت بود که به دنبال آن، نظام پادشاهی مشروطه جایگزین نظام پادشاهی استبدادی شد.

در نظام پادشاهی استبدادی، پادشاه از قدرت و اختیارات فراوانی برخوردار است، خواست وی در حکم قانون است و او براساس میل و اراده خود حکومت می‌کند. در مقابل، در نظام پادشاهی مشروطه قدرت و اختیارات پادشاه بر اساس قانون محدود می‌شود و اداره کشور تنها در اختیار شاه نیست و نهادهایی مانند مجلس شورا و هیئت وزیران (دولت) در اداره کشور مشارکت و دخالت دارند.

چرا انقلاب مشروطه به وقوع پیوست؟

الف) زمینه‌های سیاسی و اقتصادی: در فصل پیش خواندید که به دلیل عقب ماندگی ایران و ناتوانی حکومت قاجار در برابر روسیه و انگلستان، سرزمین‌های پهناوری از خاک کشور ما جدا شدند. از سوی دیگر، واگذاری امتیازهای بسیار به انگلیسی‌ها و روس‌ها، علاوه بر اینکه باعث تسلط بیگانگان بر منابع ثروت اقتصادی کشور شد، ضربه شدیدی به صنعت، کشاورزی و بازرگانی ایران وارد کرد و بیکاری را در سراسر کشور گسترش داد. در این دوره با وجود فقر و بیکاری مردم، مأموران مالیاتی حکومت با بی‌رحمی از آنها مالیات طلب می‌کردند.

ب) زمینه‌های فکری و فرهنگی: عوامل فکری و فرهنگی نقش مهمی در وقوع انقلاب مشروطه داشتند.

۱- داخلی: آموزه‌های دین اسلام و مذهب شیعه مردم را به مبارزه با ظلم و تلاش برای برقراری عدالت فرا می‌خواند. مردم مسلمان ایران با درس گرفتن از قیام امام حسین (علیه السلام) - و واقعه کربلا، همواره آماده بودند که در برابر ظلم و بی‌عدالتی بایستند.



صحنه‌ای از مراسم عزاداری ماه محرم در دوره قاجار



تصویری یکی از روزنامه‌های دوره مشروطیت

۲- خارجی: یکی دیگر از علل مهم انقلاب مشروطه، آشنایی

ایرانیان با افکار و دستاوردهای تمدن جدید اروپا بود. هم‌زمان با تأسیس حکومت قاجار، انقلاب کبیر فرانسه رخ داد. این انقلاب، باعث گسترش اندیشه آزادی‌خواهی و حکومت مشروطه در سراسر اروپا شد. در نتیجه، عده‌ای از ایرانیان که در جست‌وجوی دلایل عقب‌ماندگی ایران و پیشرفت کشورهای اروپایی بودند، متوجه نظام مشروطه و حکومت قانونمند در آن کشورها شدند. آنان سرانجام به این نتیجه رسیدند که ایران نیز با داشتن حکومت مشروطه می‌تواند در مسیر پیشرفت و ترقی قرار گیرد. این عده که اغلب تحصیل‌کردگان اروپا و مدرسه دارالفنون بودند، و به روشنفکران معروف شدند، تلاش می‌کردند که از طریق کتاب و روزنامه، مردم را با محاسن حکومت قانون (حکومت مشروطه) و معایب حکومت استبدادی آشنا کنند.

فعالیت

۱- کاربرگه شماره (۱۰) را انجام دهید.

انقلاب مشروطه چگونه رخ داد؟

موفقیت نهضت تنباکو و در پی آن، قتل ناصرالدین‌شاه به دست میرزا رضا کرمانی، انگیزه مردم را برای مبارزه با استبداد و سلطه خارجی بیشتر کرد. مظفرالدین‌شاه، فرمانروایی نرم‌خو و ناتوان بود. در دوره پادشاهی او، سوءاستفاده و ستمگری مأموران حکومت و دخالت بیگانگان در امور کشور ادامه یافت و بر خشم و نارضایتی مردم افزود. در آن زمان، دو نفر از روحانیان مشهور تهران، آیت‌الله سید محمد طباطبایی و آیت‌الله سید عبداللّه بهبهانی، انجمنی از آزادی‌خواهان تشکیل دادند و به فکر ایجاد تغییراتی به نفع مردم افتادند.



آیت‌الله بهبهانی



آیت‌الله طباطبایی

از سوی دیگر، شرایط و زمینه‌های انقلاب مشروطیت، پیش از آن فراهم شده بود و وقوع چند حادثه نیز به آن سرعت بخشید. یکی از مهم‌ترین این حوادث، ماجرای چوب و فلک کردن بازرگانان بود. عین‌الدوله، صدراعظم مستبد مظفرالدین‌شاه، برای ترساندن مخالفان و جلوگیری از گسترش اعتراض‌ها دست به کار شد و از جمله به حاکم تهران (علاءالدوله) دستور داد به بهانه گران شدن قند، تعدادی از بازرگانان را به چوب ببندد. به دنبال این واقعه، بازار بسته شد و گروهی از علما به رهبری آیت‌الله طباطبایی به نشانه اعتراض در حرم حضرت شاه‌عبدالعظیم بست نشستند*. از جمله خواسته آنان، تأسیس عدالت‌خانه برای رسیدگی به شکایت‌های مردم و اجرای عدالت بود.

مظفرالدین‌شاه قول داد که به خواسته‌های بست‌نشینان رسیدگی کند اما چون به وعده‌های خود عمل نکرد، اعتراض‌های مردمی دوباره شروع شد. در جریان این اعتراض‌ها، طلبه جوانی به شهادت رسید و در نتیجه، تعدادی از علما این بار به نشانه اعتراض به قم مهاجرت کردند. هم‌زمان، تعدادی از مردم تهران در اعتراض به حکومت قاجار در سفارت انگلستان بست نشستند. مهم‌ترین خواسته معترضان، تشکیل مجلس شورا بود.



گروهی از معترضان که در سفارت انگلستان بست نشسته بودند.

علاوه بر علما و روشنفکران که رهبری انقلاب مشروطیت را عهده‌دار بودند، گروه‌ها و قشرهای اجتماعی مختلف مانند تجار، پیشه‌وران و کارگران نیز در این انقلاب نقش مؤثری داشتند.

سرانجام، مظفرالدین‌شاه تسلیم خواسته‌های ملت شد و در ۱۴ مرداد ۱۲۸۵ ش. فرمان مشروطه را صادر کرد. پس از آن، مجلس شورای ملی تشکیل شد و قانون اساسی مشروطه نیز تدوین و تصویب گردید. بدین ترتیب برای اولین بار کشور ما دارای قانون اساسی شد.



نمایندگان مجلس شورای ملی در اوایل عصر مشروطه

۲- الف) پس از مطالعه متن و همفکری با یکدیگر، دو مورد از عوامل موفقیت انقلاب مشروطیت را بیان کنید.
ب) چه گروه‌ها یا قشرهایی در انقلاب مشروطیت نقش مؤثری داشتند؟



محمدعلی شاه

موانع و مشکلات حکومت مشروطه

انقلاب مشروطیت با هدف برقراری حکومت قانون و رها کردن کشور از جنگ استبداد داخلی و سلطه خارجی شکل گرفت. مردم امیدوار بودند که با پیروزی این انقلاب، امنیت، عدالت، آزادی، رونق اقتصادی و رفاه عمومی فراهم شود اما حکومت مشروطه از همان ابتدای پیروزی با مشکلات مختلف داخلی و خارجی رو به رو شد و هدف‌های اصلی آن تحقق نیافت. مهم‌ترین این مشکلات عبارت بودند از:

الف) مخالفت طرفداران حکومت استبدادی: مظفرالدین‌شاه مدت

کوتاهی پس از صدور فرمان مشروطه درگذشت. محمدعلی‌شاه، جانشین او، پادشاهی مستبد بود. او با پشتیبانی دولت روسیه و حمایت طرفداران حکومت استبدادی تصمیم گرفت حکومت نوپای مشروطه را نابود سازد و نظام پادشاهی استبدادی را دوباره برقرار کند. پس از چند ماه اختلاف و درگیری موافقان و مخالفان مشروطه، به دستور محمدعلی‌شاه، مجلس به توپ بسته شد و منحل گردید.

مجاهدان مشروطه‌خواه در تبریز به رهبری ستارخان و باقرخان در برابر حکومت استبدادی محمدعلی‌شاه به پا خاستند. علمای مشروطه‌خواه نجف نیز آنان را به مقاومت در برابر شاه مستبد دعوت کردند. طرفداران مشروطه در گیلان و اصفهان با مشاهده ایستادگی مردم تبریز، روحیه گرفتند و راهی پایتخت شدند و تهران را فتح کردند. آنها پس از فتح تهران، محمدعلی‌شاه را برکنار کردند و پسر خردسالش، احمد میرزا، را به جانشینی او برگزیدند.



ستارخان و باقرخان در میان گروهی از مجاهدان مشروطه‌خواه



(شهید شیخ فضل‌الله نوری) پیش از دستگیری، به شیخ فضل‌الله پیشنهاد شد که به سفارت روسیه پناهنده شود اما او نپذیرفت و گفت: «آیا رواست که پس از هفتاد سال که محاسنم را برای اسلام سفید کرده‌ام، بیایم و به زیر پرچم کفر بروم؟»

ب) اختلاف و دودستگی میان مشروطه‌خواهان: هنوز جوهر فرمان

مشروطه خشک نشده بود که میان رهبران مشروطه اختلاف افتاد. آیت‌الله شیخ فضل‌الله نوری که در آغاز پشتیبان مشروطه بود، به انتقاد از آن پرداخت. وی معتقد بود افرادی که رهبری انقلاب مشروطه را به دست گرفته‌اند، به اسلام اعتقادی ندارند و می‌خواهند افکار و فرهنگ کشورهای اروپایی را در ایران گسترش دهند. منظور او برخی از روشنفکران بودند که در تقلید از اروپاییان زیاده‌روی می‌کردند. به تدریج، اختلافات شیخ فضل‌الله و همفکرانش با مشروطه‌خواهان بیشتر شد. سرانجام برخی از مشروطه‌خواهان بعد از برکناری محمدعلی شاه، با فرصت‌طلبی شیخ را به اتهام مخالفت با نظام مشروطه محاکمه کردند و به شهادت رساندند. شهادت او تأثیر نامطلوبی بر اوضاع ایران داشت و موجب اختلاف و دشمنی بیشتر در داخل کشور شد.

فعالیت

۳- مهم‌ترین موانع و مشکلات داخلی نظام مشروطه را توضیح دهید.

پ) افزایش دخالت‌های خارجی: هم‌زمان با وقوع

انقلاب مشروطیت در ایران، آلمان و متحدانش، یعنی ایتالیا، اتریش و مجارستان، به یک قدرت بزرگ اروپایی تبدیل شده و در صدد دست‌اندازی بر مستعمرات دیگر کشورها بودند. انگلستان و روسیه برای مقابله با قدرت روزافزون آلمان و متحدانش، تصمیم گرفتند به جای رقابت، با یکدیگر همکاری کنند. به همین دلیل، این دو کشور طی قرارداد ۱۹۰۷ ایران را میان خود تقسیم کردند. پس از آن، روسیه با خیالی آسوده در امور داخلی ایران مداخله می‌کرد و اجازه نمی‌داد که دولت و مجلس اوضاع آشفته کشور را سر و سامان دهند. علاوه بر این، نیروهای روسیه وارد خاک ایران شدند. آنها در تیریز تعدادی از مشروطه‌خواهان را کشتند و در مشهد نیز حرم امام رضا (ع) را به گلوله بستند.



نقشه تقسیم ایران در قرارداد ۱۹۰۷

فعالیت

۴- پس از مطالعه متن، به نقشه دقت کنید و بگویید: الف) روسیه و انگلستان در قرارداد ۱۹۰۷ تقریباً کدام نواحی ایران را تحت نفوذ خود گرفتند؟

ب) هدف انگلستان و روسیه از امضای قرارداد ۱۹۰۷ چه بود؟ پ) قرارداد ۱۹۰۷ چه نتایجی برای ایران داشت؟



نظامیان انگلیسی مستقر در ایران در دوران جنگ جهانی اول



تندیس رئیس‌علی دلواری در بندر دلواری (استان بوشهر)



مردم ایران برای جنگی که خود نقشی در ایجاد آن نداشتند، بهای سنگینی پرداختند.

ت) وقوع جنگ جهانی اول: جنگ جهانی اول

در سال ۱۹۱۴م/۱۲۹۳ش آغاز شد. در یک سوی این جنگ، کشورهای قرار داشتند که به متحدین معروف بودند و در سوی دیگر آن، کشورهایی که به متفقین مشهور شدند؛ جنگ جهانی اول پس از چهار سال با پیروزی متفقین به پایان رسید. بر اثر این جنگ، میلیون‌ها نفر کشته، زخمی و آواره شدند و خسارت‌ها و ویرانی‌های زیادی به بار آمد.

جنگ جهانی اول

متحدین	آلمان، ایتالیا، اتریش، مجارستان، عثمانی
متفقین	انگلستان، روسیه، فرانسه، در اواخر جنگ (امریکا)

دولت ایران در ابتدای جنگ جهانی اول بی‌طرفی کامل خود را اعلام کرد اما انگلستان، روسیه و عثمانی این بی‌طرفی را نادیده گرفتند و نیروهای خود را وارد ایران کردند. پس از آن، برخی مناطق ایران صحنه نبرد نیروهای روسیه و انگلستان با قوای عثمانی شد. در برخی از نواحی ایران مانند بوشهر، فارس و خوزستان، نیروهای مردمی از جمله عشایر غیور به مقابله با قوای اشغالگر انگلیسی برخاستند. از جمله دلیرمردان تنگستانی به فرماندهی رئیس‌علی دلواری با اיתار جان خویش ضربه سنگینی به اشغالگران وارد آوردند.

جنگ جهانی اول موجب بی‌ثباتی و آشفتگی بیشتر اوضاع ایران شد. به دلیل حضور نیروهای اشغالگر و درگیری‌های نظامی، دولت مرکزی به نهایت ضعف رسید و تسلط خود را بر امور کشور از دست داد. نافرمانی و سرپیچی از فرمان دولت مرکزی گسترش یافت و امنیت و آسایش مردم از بین رفت. در آن سال‌ها، ایرانیان دچار مصیبت‌های بزرگی مانند قحطی، فقر، گرسنگی و شیوع بیماری‌های واگیردار شدند و افراد زیادی جان خود را از دست دادند.

○ فعالیت

۵- آثار و پیامدهای سیاسی و اجتماعی جنگ جهانی اول در ایران را از متن درس استخراج و فهرست کنید.

ایران در دوران حکومت پهلوی

هنگامی که جنگ جهانی اول پایان یافت، کشور ما درگیر انبوهی از مشکلات سیاسی، اقتصادی و اجتماعی بود. این مشکلات به علاوه برنامه‌ها و سیاست‌های انگلستان در ایران، زمینه را برای انتقال حکومت از قاجاریه به پهلوی فراهم آورد.

زمینه‌های تغییر حکومت از قاجاریه به پهلوی

قرارداد ۱۹۱۹: در اواخر جنگ جهانی اول، حکومت تزاری روسیه بر اثر وقوع انقلابی عظیم سرنگون شد. پس از آن، نام این کشور به *اتحاد جماهیر شوروی* تغییر یافت. دولت جدید شوروی نیروهایش را از ایران فرا خواند و سرگرم مسائل داخلی خود شد. انگلستان با استفاده از این موقعیت، کوشید نفوذ و سلطه خود را در کشور ما تثبیت کند. از این رو، با وثوق‌الدوله، نخست‌وزیر ایران، قراردادی بست که به «قرارداد ۱۹۱۹» معروف شد. بر اساس این قرارداد، اداره امور نظامی و مالی ایران در اختیار کارشناسان (مستشاران) نظامی و مالی انگلستان قرار می‌گرفت. این قرارداد در ایران با مخالفت گسترده‌ای روبه‌رو شد و بسیاری از شخصیت‌های مبارز و آزادی‌خواه مانند آیت‌الله مدرس و شیخ محمد خیابانی با آن به مخالفت برخاستند و حتی احمد شاه قاجار نیز از تأیید آن خودداری کرد.

فعالیت

۱- دلیل مخالفت گسترده آزادی‌خواهان با قرارداد ۱۹۱۹ چه بود؟

کودتای *۱۲۹۹: انگلستان پس از ناکامی در اجرای قرارداد ۱۹۱۹، در صدد برآمد که از طریق کودتا اهداف استعماری خود را در ایران پیگیری کند. انگلیسی‌ها یکی از فرماندهان نیروی قزاق به نام *رضاخان* را به عنوان مهره نظامی و سیدضیاءالدین طباطبایی را به عنوان مهره سیاسی کودتا برگزیدند. طباطبایی از سیاستمداران طرفدار انگلستان بود. در سوم اسفند ۱۲۹۹ نیروهای تحت فرمان رضاخان مراکز مهم پایتخت را اشغال کردند و احمدشاه مجبور شد سیدضیاء را به نخست‌وزیری و رضاخان را به فرماندهی کل قوا منصوب کند.



احمد شاه، رضاخان و تعدادی از مقام‌های حکومتی



انتقال حکومت از قاجاریه به پهلوی: کودتای ۱۲۹۹

مقدمه‌ای برای تغییر حکومت در ایران بود. رضاخان پس از کودتا با سرسختی برای گسترش و تثبیت قدرت خود به تکاپو افتاد. او و نیروهای نظامی‌اش با خشونت تمام، در بین مردم رعب و وحشت ایجاد کرد و فضای حکومت نظامی را بر جامعه حاکم کرد و نظم و آرامش ظاهری به وجود آورد. از این‌رو، طرفدارانش با تبلیغات فراوان او را شایسته‌تر از احمدشاه قاجار برای حکومت معرفی می‌کردند. رضاخان در آن زمان برای جلب نظر مردم، خود را فردی مذهبی و پایبند به احکام و ارزش‌های دینی نشان می‌داد. به همین دلیل، در مراسم و مجالس مذهبی حضور می‌یافت و با علما دیدار و مشورت می‌کرد. او با استفاده از موقعیت خود به عنوان وزیر جنگ رضا شاه در میان گروهی از فرماندهان نظامی

و نخست‌وزیر، طرفداران خود را وارد مجلس شورای ملی کرد. در سال ۱۳۰۴ ش مجلس شورای ملی با وجود مخالفت جدی تعدادی از نمایندگان، مانند آیت‌الله مدرس، احمدشاه قاجار را از قدرت برکنار کرد و حکومت موقت را به رضاخان سپرد. سپس، مجلس مؤسسان* به طور رسمی حکومت را به رضاخان و خانواده او واگذار کرد.

فعالیت

۲- الف) علت کودتای ۱۲۹۹ چه بود؟

ب) کدام شرایط و عوامل داخلی به رضاخان در دستیابی به قدرت کمک کرد؟

شیوه حکومت و اقدامات رضاشاه



تصویر میرزا کوچک خان جنگلی و دو تن از هم‌رزمانش

● **استبداد:** رضاشاه از ابتدای حکومت به استبداد (دیکتاتوری*) روی آورد. در دوران حکومت او، هیئت وزیران و نمایندگان مجلس شورای ملی اختیار و استقلال چندانی نداشتند و تابع دستورات شاه بودند.

● **سرکوب آزادی خواهان:** حکومت رضاشاه به احزاب و روزنامه‌های مستقل اجازه فعالیت نمی‌داد و با زور و خشونت، فضای خفقان، ترس و سرکوب را بر جامعه حاکم کرد. در چنین شرایطی، مخالفان سرنوشتی جز تبعید، زندان، شکنجه و اعدام نداشتند. آیت‌الله سیدحسن مدرس یکی از مخالفان سرسخت شیوه حکومت رضاشاه بود که به دست مأموران این حکومت به شهادت رسید. همچنین رضاخان به بهانه برقراری امنیت، برخی از قیام‌های آزادی خواهانه و استقلال طلبانه، مانند نهضت جنگل، به رهبری میرزا کوچک خان جنگلی را با خشونت زیاد، سرکوب کرد.



«آن یک رای خودم، چه شد؟»

آیت‌الله سید حسن مدرس از جمله عالمان مبارزی بود که در مجلس همواره از حقوق ملت دفاع و با استبداد داخلی و نفوذ و سلطهٔ بیگانگان مبارزه می‌کرد. او یکی از مخالفان سرسخت رضاخان بود. آیت‌الله مدرس در انتخابات ششمین دورهٔ مجلس به عنوان نمایندهٔ اول تهران به مجلس راه یافت اما در انتخابات دورهٔ هفتم، که در زمان حکومت رضاشاه برگزار شد، اعلام کردند که مدرس حتی یک رای هم نداشته است. وی در پاسخ این ادعا، در جمله‌ای تاریخی و طنزآمیز گفت: «دست‌کم آن یک رأیی که بنده به خودم دادم، چه شد؟» مدرس به مبارزهٔ خود با رضاشاه ادامه داد و به همین دلیل دستگیر و تبعید شد. او پس از تحمل سال‌ها تبعید و زندان، در سال ۱۳۱۶ در کاشمر به شهادت رسید.

● **ایجاد ارتش منظم:** به‌وجود آوردن ارتش منظم در ایران از جمله برنامه‌های اساسی انگلیسی‌ها بود. این ارتش ضمن اینکه تمرکز قدرت سیاسی را در کشور ممکن می‌ساخت، قیام‌های مردمی را سرکوب می‌کرد و در مواقع ضروری، به‌عنوان تأمین‌کنندهٔ اهداف نظامی انگلستان مورد استفاده قرار می‌گرفت. رضاشاه نیروهای سه‌گانهٔ ارتش را با هدایت انگلیسی‌ها به‌وجود آورد و در سال ۱۳۰۴ قانون نظام وظیفهٔ عمومی را به تصویب رساند.

● **احداث خط آهن سراسری:** احداث این راه با تبلیغات فراوان انجام گرفت و درواقع، هدف آن ایجاد راهی سراسری برای انتقال سریع نیروهای انگلیسی از جنوب به شمال بود. در صورت پیشروی روس‌ها، انگلیسی‌ها با استفاده از این راه می‌توانستند نیروهای خود را به سرعت به شمال بفرستند و مانع نفوذ آنها به هندوستان شوند. در جنگ جهانی دوم همین راه به مهم‌ترین عامل ارتباطی نیروهای متفقین مبدل شد.

● **تضعیف ارزش‌های اسلامی و تخریب فرهنگ ایرانی:** حکومت رضاشاه به بهانه پیشرفت و نوسازی فرهنگی و اجتماعی، کارهایی انجام داد که نتیجه آنها تضعیف ارزش‌های دینی و رواج فرهنگ غیرایرانی بود. یکی از این کارها، مجبور کردن مردم به این بود که لباس یکسانی به تن کنند و کلاه لبه‌داری (مشهور به کلاه پهلوی) بر سر بگذارند. پس از آن، محدودیت‌هایی برای برگزاری مراسم مذهبی از جمله عزاداری امام حسین (علیه السلام) - به وجود آمد و زمزمه برداشتن (کشف) حجاب مطرح شد. مردم مشهد در اعتراض به این کارها در مسجد گوهرشاد گرد هم آمدند. نیروهای نظامی مردم را در کنار حرم حضرت امام رضا (علیه السلام) - به گلوله بستند و عده‌ای را شهید و مجروح کردند. حکومت رضاشاه که بسیار شیفته ظاهر فرهنگ اروپایی بود، اندکی پس از سرکوب قیام گوهرشاد، دستور داد حجاب را با زور و خشونت از سر زنان و دختران ایرانی بردارند.

آثار جنگ جهانی دوم (۱۹۴۵-۱۹۳۹م/۱۳۲۴-۱۳۱۸ش) بر ایران

جنگ جهانی دوم با حمله ناگهانی آلمان به لهستان آغاز شد. ایتالیا و ژاپن به آلمان پیوستند و دولت‌های محور را تشکیل دادند. در جبهه مقابل، انگلستان، فرانسه، شوروی و آمریکا قرار داشتند که متفقین خوانده می‌شدند.

جنگ جهانی دوم

دولت‌های محور	آلمان، ایتالیا، ژاپن
متفقین	انگلستان، فرانسه، شوروی (روسیه)، آمریکا

در جنگ جهانی دوم، دولت ایران اعلام بی‌طرفی کرد، اما در شهریور ۱۳۲۰، متفقین به بهانه حضور تعدادی از کارشناسان آلمانی، کشور ما را به اشغال خود درآوردند. هدف اصلی آنها از این اقدام، استفاده از موقعیت و منابع و امکانات ایران به سود خویش بود. متفقین پس از اشغال ایران، رضاشاه را مجبور کردند که به نفع پسرش، محمدرضا، از قدرت کناره‌گیری کند و سپس او را از ایران تبعید کردند.



رژه نظامیان انگلیسی در خیابان‌های تهران (جنگ جهانی دوم)



نظامیان شوروی در خیابان‌های تبریز (جنگ جهانی دوم)

در جنگ جهانی دوم، متفقین با شکست دادن آلمان و بمباران اتمی ژاپن (توسط آمریکا)، پیروز شدند. کشور ما تا پایان جنگ جهانی دوم در اشغال بیگانگان بود. جنگ جهانی دوم نیز همچون جنگ جهانی اول، به اقتصاد و جامعه ایران خسارت‌ها و آسیب‌های زیادی وارد کرد. مردم ایران طی آن سال‌ها با کمبود و گرانی شدید مواد غذایی، مخصوصاً نان، روبه‌رو بودند و عده زیادی بر اثر گرسنگی و سوءتغذیه جان سپردند.

○ فعالیت

۳- الف) کشور مادر دو جنگ جهانی اول و دوم «پل پیروزی متفقین» لقب گرفت. با راهنمایی دبیر خود و با همفکری یکدیگر، بگویید چرا این لقب به ایران داده شد. ب) آثار و پیامدهای سیاسی، اقتصادی و اجتماعی جنگ جهانی دوم بر ایران چه بود؟

نهضت ملی شدن نفت

محمدرضا شاه در سال‌های نخست سلطنت خود این امکان را نداشت که همچون پدرش با استبداد (دیکتاتوری) حکومت کند. بنابراین، برای نمایندگان مجلس شورای ملی و هیئت وزیران فرصتی به‌وجود آمد که در اداره امور کشور نقش مؤثری داشته باشند. همچنین در این دوره احزاب سیاسی و مطبوعات فعالیت خود را دوباره آغاز کردند. البته رقابت‌های انگلستان، شوروی و آمریکا برای کسب نفوذ سیاسی و اقتصادی هرچه بیشتر در کشور ما به ثبات و آرامش سیاسی کشور آسیب می‌رساند. در چنین شرایطی بود که زمینه برای نهضت ملی شدن نفت به‌وجود آمد.

این نهضت یکی از رویدادهای مهم تاریخ معاصر ایران است. امتیاز بهره‌برداری از منابع نفت ایران در زمان مظفّرالدین‌شاه به انگلیسی‌ها واگذار شده بود. رضاشاه امتیاز مذکور را لغو کرد اما خیلی زود طی قرارداد دیگری، دوباره منابع نفت ایران را به انگلستان واگذار کرد. در سال‌های بعد از جنگ جهانی دوم، مردم ایران خواهان لغو آن قرارداد و ملی شدن صنعت نفت بودند. آیت‌الله کاشانی و دکتر محمد مصدق رهبری نهضت ملی شدن صنعت نفت را به عهده گرفتند. مجلس شورای ملی نیز با مشاهده اتحاد و یکدلی مردم، قانون ملی شدن نفت را در اسفند ۱۳۲۹ تصویب کرد. پس از آن، دکتر مصدق نخست‌وزیر شد تا آن قانون را به اجرا درآورد و دست بیگانگان را از منابع و صنعت نفت کوتاه کند. دولت انگلیس برای جلوگیری از اجرای قانون ملی شدن صنعت نفت، کارهای مختلفی انجام داد اما به دلیل وحدت ملت و همدلی رهبران نهضت، ناکام ماند.



آیت‌الله کاشانی و مصدق



تصویری از یکی از راهپیمایی‌های مردم در حمایت از نهضت ملی شدن نفت



گروهی از افسران کودتای در جریان کودتای ۲۸ مرداد

کودتای ۲۸ مرداد ۱۳۳۲ و بازگشت استبداد (دیکتاتوری)

پس از مدتی، میان رهبران و گروه‌های سیاسی پشتیبان نهضت ملی شدن نفت اختلاف بروز کرد و اتحاد و همدلی به تفرقه و دشمنی تبدیل شد. این وضعیت، ملت را دلسرد و دشمنان نهضت را امیدوار کرد. دولت‌های انگلستان و آمریکا از این شرایط برای سرنگونی دولت دکتر مصدق از طریق کودتا استفاده کردند. طبق برنامه‌ای که این دو کشور طراحی کردند، در روز ۲۸ مرداد ۱۳۳۲ واحدهایی از ارتش به فرماندهی سرلشکر فضل‌الله زاهدی به خیابان‌ها ریختند و با اشغال مراکز مهم پایتخت، دولت دکتر مصدق را سرنگون کردند.



محمدرضا شاه هنگام دیدار با هویدا نخست وزیر و اعضای دولت او

پس از موفقیت کودتای ۲۸ مرداد، منابع نفت ایران دوباره در اختیار بیگانگان قرار گرفت و نفوذ و سلطه آمریکا بر کشور ما به تدریج افزایش یافت. چند ماه پس از کودتای ۲۸ مرداد، حکومت پهلوی با نادیده گرفتن قانون ملی شدن صنعت نفت، امور اکتشاف، استخراج و فروش نفت را طی قراردادی به چندین شرکت نفتی انگلیسی، آمریکایی، هلندی و فرانسوی واگذار کرد. این شرکت‌ها متعهد شدند ۵۰ درصد درآمد فروش نفت را به ایران بپردازند.

محمدرضاشاه پس از کودتا، به شاهی مستبد و ستمگر تبدیل شد که اصول قانون اساسی را آشکارا نادیده می‌گرفت. او همچنین با تأسیس سازمان اطلاعات و امنیت کشور (ساواک) به سرکوب شدید مخالفان پرداخت و دوباره فضای ترس و خفقان بر ایران حاکم شد.

○ فعالیت

۴- همفکری کنید و بگویید به نظر شما، چه شباهت‌ها و تفاوت‌هایی در اهداف نهضت تنباکو و نهضت ملی شدن نفت وجود دارد؟

۵- الف) مهم‌ترین دلیل موفقیت کودتای ۲۸ مرداد چه بود؟
ب) کودتای ۲۸ مرداد ۱۳۳۲ چه تفاوت و شباهتی با کودتای ۱۲۹۹ داشت؟



بست نشستن: پناه بردن به مکان‌های مقدس یا خانه بزرگان به منظور حفظ جان یا دادخواهی؛ در دوره قاجار و حتی پیش از آن رسم بود که اشخاص برای اعتراض یا دادخواهی به مکان‌هایی مانند زیارتگاه‌ها، خانه علما و دیگر بزرگان پناه می‌بردند و تا خواسته‌هایشان برآورده نمی‌شد، آنجا را ترک نمی‌کردند. در این مدت، کسی حق نداشت پناهندگان را از پناهگاهشان بیرون کند. به این رسم، بست‌نشینی یا تحصن می‌گفتند.

کودتا: برانداختن دولت یا حکومت موجود و به دست گرفتن قدرت با استفاده از قوای نظامی.

مجلس مؤسسان: مجلسی شامل نمایندگان انتخابی مردم که برای تغییر یا اصلاح موادی از قانون اساسی تشکیل می‌شد.

استبدادی (دیکتاتوری): خودرأیی و استبداد؛ فرمانروایی یک فرد یا گروه بر یک کشور با زور و از طریق تحمیل افکار و عقاید خود بر جامعه و سرکوب منتقدان و مخالفان.

به کار بندیم

۱- به چند گروه تقسیم شوید و هر گروه درباره زندگی و اقدامات یکی از این شخصیت‌ها تحقیق کند: میرزا کوچک خان جنگلی، آیت‌الله سید ابوالقاسم کاشانی، دکتر محمد مصدق؛ شهید سید مجتبی نواب صفوی.

۲- با توجه به دانسته‌های خود، یک مورد از عملکردهای شاهان زیر را که نشان بدهد آنها به قانون اساسی مشروطه پایبند بوده یا نبوده‌اند، بنویسید.

محمد علی شاه ←

احمد شاه ←

رضا شاه ←

محمد رضا شاه ←

سقوط حکومت شاهنشاهی و شکل‌گیری نظام جمهوری اسلامی



فصل

تلاش‌ها و جان‌فشانی‌های ایرانیان برای رهایی از استبداد داخلی و سلطه خارجی در انقلاب مشروطیت و نهضت ملی شدن نفت به نتیجه مطلوب نرسید. مردم مسلمان ایران که خواهان احیای ارزش‌های اسلامی و به‌ویژه برقراری عدالت و آزادی بودند، در برابر استبداد، ستمگری و فساد حکومت پهلوی به پا خاستند. این بار، رهبری نهضت اسلامی ایران را عالمی شجاع و مبارز به نام امام خمینی به عهده گرفت. امام با تکیه بر باورها و ارزش‌های دینی، مردم را به ایستادگی در برابر ظلم و سلطه بیگانگان بر کشور فراخواند. سرانجام، مبارزه ملت برای استقلال، آزادی و جمهوری اسلامی با تقدیم هزاران شهید در ۲۲ بهمن ۱۳۵۷ انقلاب اسلامی به نتیجه رسید و رژیم مستبد و وابسته پهلوی سرنگون شد. پس از آن، نظام جمهوری اسلامی با پشتیبانی و مشارکت مؤثر مردم در کشور مستقر شد و با وجود توطئه‌ها و اقدام‌های گسترده دشمنان انقلاب به مسیر خود ادامه داد.

شما با مطالعه این فصل و انجام دادن فعالیت‌های آن به پاسخ پرسش‌های زیر پی می‌برید:

- ۱- نهضت اسلامی مردم ایران به رهبری امام خمینی (ره) چرا و چگونه آغاز شد؟
- ۲- علل وقوع انقلاب اسلامی چه بود و چه عواملی در پیروزی آن نقش داشت؟
- ۳- نظام جمهوری اسلامی چگونه برقرار شد؟
- ۴- دلایل و پیامدهای دشمنی و توطئه‌های ضد انقلاب داخلی و خارجی چه بود؟



نهضت اسلامی به رهبری امام خمینی

پس از کودتای ۲۸ مرداد و بازگشت محمدرضا شاه به سلطنت، به تدریج نفوذ و سلطه آمریکا بر ایران بیشتر شد. در آن زمان، مردم ایران از شکست نهضت ملی شدن نفت و تسلط دوباره بیگانگان بر کشورشان ناراحت بودند. آمریکایی‌ها برای جلوگیری از وقوع قیام‌های مردمی و حفظ حکومت پهلوی، به شاه توصیه کردند که در امور مختلف اجتماعی و اقتصادی کشور تغییراتی ایجاد کند. برخی از این تغییرات عبارت بودند از:

الف) تصویب نامه* انجمن‌های ایالتی و ولایتی: حکومت



افشاگری امام خمینی (قُدس سرّه) درباره اقدامات و جنایات حکومت پهلوی

پهلوی در سال ۱۳۴۱ ش، قانون انجمن‌های ایالتی و ولایتی (شوراها) را تغییر داد. از جمله این تغییرات این بود که شرط مسلمان بودن برای انتخاب‌کنندگان و انتخاب‌شوندگان لغو گردید و دیگر آنکه شرط سوگند به قرآن یاد کردن انتخاب‌شوندگان به سوگند به کتاب آسمانی تبدیل شد.

حکومت پهلوی به ظاهر وانمود می‌کرد که با این تغییرات قانونی قصد دارد مردم را در فعالیت‌های اجتماعی مشارکت بدهد. اما در واقع هدف او تضعیف هویت اسلامی جامعه ایران بود. به همین دلیل، علما با این تغییر قانون مخالفت کردند. برجسته‌ترین مخالفان، عالمی شجاع به نام آیت‌الله سیدروح‌الله خمینی بود که در قم اقامت داشت. امام خمینی می‌دانست که هدف حکومت از این تغییرات، مخالفت با اسلام و تخریب ارزش‌های اسلامی است.

سرانجام در نتیجه مخالفت جدی امام و سایر علما، دولت مجبور شد این تصویب‌نامه را لغو کند.

ب) اصول شش‌گانه*: محمدرضا شاه پیروی از سیاست‌های آمریکا را برای حفظ حکومت خود ضروری می‌دانست. به همین دلیل، مدت کوتاهی پس از لغو تصویب‌نامه انجمن‌های ایالتی و ولایتی، اعلام کرد که اصول شش‌گانه‌ای را با عنوان «انقلاب سفید» به همه‌پرسی (رفراندوم) خواهد گذاشت.

اصول شش‌گانه در ظاهر برای کشور خوب و لازم به نظر می‌رسید، اما امام خمینی و سایر علمای مبارز از اهداف و پیامدهای واقعی این اصول آگاه بودند و یقین داشتند که اجرای این اصول، موجب افزایش سلطه آمریکا بر ایران و وابستگی بیشتر سیاسی و اقتصادی کشور ما به بیگانگان می‌شود. به همین دلیل، امام ضمن غیرقانونی شمردن همه‌پرسی اصول شش‌گانه، از مردم خواست که در آن شرکت نکنند. در برخی از شهرها مانند تهران و قم، مردم تظاهرات کردند و مخالفت خود را با اصول شش‌گانه و همه‌پرسی آن نشان

دادند. اما همه‌پرسی اصول شش‌گانه با وجود اعتراض‌های مردمی، در بهمن ۱۳۴۱ برگزار شد و حکومت پهلوی نیز اعلام کرد که بیشتر مردم با اصول شش‌گانه موافق‌اند.

○ فعالیت

- ۱- هدف آمریکا از ایجاد تغییرات در امور اجتماعی و اقتصادی ایران چه بود؟
- ۲- به نظر شما هدف شاه از برگزاری همه‌پرسی اصول شش‌گانه چه بود؟

پ) قیام ۱۵ خرداد ۱۳۴۲: با فرا رسیدن ماه محرم، که مقارن با خرداد ۱۳۴۲ بود، امام خمینی به مداحان و سخنرانان مذهبی یادآوری کرد که سکوت در برابر حکومت ستمگر، کمک به دشمنان اسلام است و از آنان خواست که خطر اسرائیل را به مردم گوشزد کنند. در آن زمان، حکومت پهلوی با اسرائیل رابطه برقرار کرده بود.

امام خمینی، خود نیز در عصر عاشورا (۱۳ خرداد) در سخنانی تاریخی در مدرسه فیضیه قم، شاه را به دلیل ستمگری، همکاری با اسرائیل و وابستگی به آمریکا به شدت محکوم کرد. دو روز بعد، مأموران رژیم شاه شبانه به خانه امام ریختند و ایشان را دستگیر و پس از انتقال به تهران، در یکی از پادگان‌های نظامی زندانی کردند. دستگیری امام، موجب خشم و اعتراض گسترده مردم مسلمان ایران در شهرهای مختلف شد. شدیدترین اعتراض‌ها در شهرهای قم، تهران و ورامین صورت گرفت. رژیم شاه که از حرکت سریع و فراگیر مردم به وحشت افتاده بود، به مأموران خود دستور داد که تظاهرکنندگان را به گلوله ببندند و قیام را سرکوب کنند. قیام ۱۵ خرداد اگرچه به زور اسلحه و با خشونت مأموران رژیم سرکوب شد، بر خشم و نفرت مردم انقلابی نسبت به شاه و عوامل حکومت او افزود و انگیزه آنان را برای مبارزه تا سرنگونی حکومت پهلوی تقویت کرد.



تهران، ۱۵ خرداد ۱۳۴۲



امام خمینی (قدس سره) در مدرسه فیضیه قم، ۱۳۴۲



گروهی از مأموران نظامی آمریکا در ایران



محمدرضا شاه در ملاقات با نیکسون، رئیس‌جمهور آمریکا

ت) مخالفت امام خمینی با لایحه کاپیتولاسیون

(قضاوت سپاری)*: امام خمینی پس از تحمل چند ماه بازداشت، در فروردین ۱۳۴۳ اجازه یافت که به قم بازگردد. مدتی بعد، آمریکا دولت ایران را مجبور کرد که به مأموران نظامی آمریکا مصونیت قضایی یا حق کاپیتولاسیون (قضاوت سپاری) بدهد. بر اساس این مصونیت، اگر آمریکایی‌ها در ایران مرتکب جرمی می‌شدند، دادگاه‌های ایران حق رسیدگی به جرم آنها را نداشتند.

امام خمینی در یک سخنرانی مهم، دادن مصونیت قضایی به آمریکاییان را اقدامی ذلت‌بار و خلاف استقلال کشور شمرد و شاه را به سبب وابستگی به آمریکا به شدت سرزنش کرد.

به این ترتیب، حکومت پهلوی دریافت که امام اهل سازش و سکوت نیست. بنابراین، در ۱۳ آبان ۱۳۴۳ ایشان را به ترکیه تبعید کرد. حدود یک سال بعد، تبعیدگاه امام از ترکیه به عراق تغییر یافت و تا مهر ۱۳۵۷ امام در شهر نجف ساکن بود.

امام خمینی در تبعید نیز به مبارزه ادامه داد و با صدور اعلامیه و فرستادن پیام، مردم و گروه‌های سیاسی را به مبارزه با حکومت پهلوی دعوت می‌کرد.

○ فعالیت

۳- الف) کاربرگه شماره (۱۱) را انجام دهید.

ب) با مطالعه دقیق درس، اقدامات امام خمینی را در مبارزه با حکومت پهلوی به ترتیب روی نمودار بنویسید.

مخالفت با تصویب‌نامه
انجمن‌های ایالتی و ولایتی

ادامه مبارزه در دوران تبعید

ادامه مبارزه ملت پس از تبعید امام خمینی: قشرهای مختلف مردم به ویژه روحانیان، فرهنگیان، دانشجویان و بازاریان پس

از تبعید رهبر نهضت، به مبارزه ادامه دادند. آنها به پیروی از امام، مبارزه را وظیفه‌ای دینی و شرعی می‌دانستند. علاوه بر یاران و پیروان امام خمینی، گروه‌های دیگری نیز با عقاید سیاسی متفاوت در مبارزه با حکومت پهلوی شرکت داشتند.

برخی از عالمان و اندیشمندان مانند استاد شهید آیت الله مطهری، مرحوم آیت الله طالقانی و دکتر علی شریعتی می‌کوشیدند با سخنرانی، نوشتن کتاب و مقاله و برگزاری کلاس‌های تفسیر قرآن و نهج‌البلاغه در مساجد، حسینیه‌ها و دانشگاه‌ها، اسلام انقلابی را به جوانان معرفی کنند.



مرحوم دکتر علی شریعتی



مرحوم آیت الله سید محمود طالقانی، عالم مبارزی که مدت‌های طولانی در زندان‌های شاه، شدیدترین شکنجه‌ها را تحمل کرد و سال‌ها در تبعید به سر برد.



استاد شهید آیت الله مرتضی مطهری، سخنرانی در حسینیه ارشاد

اوضاع ایران در آستانه انقلاب اسلامی

در سال ۱۳۵۶، چنین به نظر می‌رسید که حکومت پهلوی در اوج قدرت است. در آن زمان، شاه اکثر مخالفان خود را سرکوب کرده بود. آمریکا و بسیاری از کشورهای قدرتمند نیز از حکومت او پشتیبانی می‌کردند. با این حال، مردم ایران به دلیل مسائل و مشکلات مختلف فرهنگی، سیاسی و اقتصادی از شاه و سیاست‌های او ناراضی بودند:



زندان کمیته مشترک ضد خراب‌کاری که هم اکنون به موزه عبرت تبدیل شده است.

در دوران محمدرضا پهلوی در این زندان، آویزان کردن از سقف، دستبند قهانی، آویزان کردن صلیبی، شوک الکتریکی، سوزاندن نقاط حساس بدن با فندک و شعله شمع و شلاق با کابل برقی از رایج‌ترین شکنجه‌های مأموران ساواک بود.

- حکومت پهلوی به فرهنگ و ارزش‌های اسلامی توجهی نداشت و برنامه‌های رادیو و تلویزیون و سینما در جهت بی‌بندوباری و تخریب ارزش‌های اسلامی بود.
- حکومت پهلوی به بیگانگان وابسته بود و نفوذ و دخالت کشورهای خارجی به ویژه آمریکا در امور ایران، بر نارضایتی مردم افزوده بود.

● استبداد و سرکوب عامل دیگری بود که خشم و نفرت ایرانیان را علیه حکومت شاه برمی‌انگیخت. رژیم پهلوی حقوق ملت و اصول قانون اساسی مشروطه را نادیده می‌گرفت. نمایندگان مجلس شورای ملی و هیئت وزیران در برابر شاه هیچ اختیاری نداشتند و کاملاً مطیع او بودند.

روزنامه‌ها نیز آزادی نداشتند و نمی‌توانستند از شاه و مقام‌های حکومتی انتقاد کنند. ساواک و مأموران نظامی با انواع شکنجه‌ها، مخالفان را سرکوب می‌کردند و عده زیادی از مخالفان به اعدام، زندان و تبعید محکوم شده بودند.

● حیف و میل و غارت ثروت و سرمایه‌های ملی کشور توسط خاندان پهلوی و مقام‌های حکومتی از جمله موارد دیگری بود که به گوش مردم می‌رسید و آنان را خشمگین‌تر می‌کرد. این در حالی بود که بیشتر مردم، به ویژه در روستاها و شهرهای کوچک، در فقر و محرومیت به سر می‌بردند.



خانم مرضیه حدیدچی (دباغ) یکی از زنان مبارز و انقلابی است. او در اوج مبارزات دوران انقلاب در زندان کمیته مشترک ضد خرابکاری به سختی شکنجه شد.

... در بخشی از خاطرات او از دوران مبارزه چنین آمده است: «آیت الله سعیدی [یکی از روحانیون مبارز که به دست مأموران شاه به شهادت رسید] فتوای حضرت امام را در اختیار ما می‌گذاشت تا روی کاغذهای کوچک بنویسیم و هنگام خرید از مغازه‌های مختلف آنها را پخش کنیم. روزی شهید سعیدی کتاب ولایت فقیه حضرت امام را که دست‌نویس بود به من داد گفت این کتاب را ببرید و از رویش بنویسید تا چند نسخه شود. وقتی کامل شد آن را بیاورید.»

مأخذ: خاطرات مرضیه حدیدچی (دباغ)، ص ۴۵

مرضیه حدیدچی (دباغ) از زنان مبارز و انقلابی که در دوره حکومت پهلوی، زندانی و شکنجه شد.

فعالیت

- ۴- جدولی با سه ستون رسم کنید. دلایل سیاسی، فرهنگی - اجتماعی و اقتصادی نارضایتی مردم از حکومت شاه را به تفکیک در آن بنویسید.
- ۵- با توجه به آنچه در کتاب «آمادگی دفاعی» خوانده‌اید درباره زندگی یکی از شخصیت‌هایی که با حکومت پهلوی مبارزه نمود، تحقیق کنید و اهداف وی را در کلاس توضیح دهید.

انقلاب اسلامی از آغاز تا پیروزی



در سال ۱۳۵۶، چند حادثه موجب شد که آتش خشم ملت شعله‌ور شود. یکی از آنها درگذشت مشکوک حاج آقا مصطفی خمینی فرزند امام (آبان ۱۳۵۶) در نجف بود که گفته می‌شد به دست مأموران شاه به شهادت رسیده است. مجالس ختم حاج آقا مصطفی در برخی شهرها برگزار شد و مردم ضمن ابراز ارادت و احترام به امام خمینی رهبر، خشم خود را نسبت به حکومت شاه نشان دادند. حادثه دیگر انتشار یک مقاله توهین‌آمیز بود. شاه و درباریان که از اقدام ملت در گرامی‌داشت یاد و نام امام و فرزندش خشمگین شده بودند، مقاله توهین‌آمیزی نسبت به ایشان در روزنامه اطلاعات منتشر کردند. این مقاله همچون کبریتی بر انبار باروت انقلاب بود.

قیام ۱۹ دی قم : مردم قم در ۱۹ دی ۱۳۵۶ در اعتراض به انتشار مقاله توهین آمیز نسبت به امام روزنامه اطلاعات، به تظاهرات پرداختند. مأموران حکومت این تظاهرات را به خاک و خون کشیدند.

قیام ۲۹ بهمن تبریز : مردم تبریز به مناسبت چهارم شهدای ۱۹ دی قم، در روز ۲۹ بهمن قیام کردند و تعداد زیادی از آنها شهید و زخمی شدند.

گسترش تظاهرات و اعتصاب‌ها در کشور : اعتراض‌های خیابانی مردم در سال ۱۳۵۷، ادامه یافت و شهرهای مختلف ایران صحنه راهپیمایی علیه حکومت شد. هرچه زمان می‌گذشت، افراد بیشتری در تظاهرات حضور می‌یافتند و خواستار نابودی حکومت شاه می‌شدند. همچنین در این دوره کارکنان و کارگران شرکت نفت دست به اعتصاب زدند و کارکنان کارخانه‌های دیگر و مراکز آموزشی، رادیو، تلویزیون، روزنامه‌ها و ... دست از کار کشیدند.

یکی از خونین‌ترین رویدادهای دوران انقلاب اسلامی در روز ۱۷ شهریور ۱۳۵۷ در تهران به وقوع پیوست. در آن روز که به جمعه سیاه معروف شد، مأموران رژیم به طرز بی‌رحمانه‌ای تظاهرات مردم را در میدان ژاله (شهدای کنونی) به خاک و خون کشیدند و عده زیادی را شهید و زخمی کردند.



راه‌پیمایی عظیم مردم تهران در روز عاشورا سال ۱۳۵۷

عکس‌العمل شاه در برابر اعتراض و تظاهرات ملت، متفاوت بود؛ از یک‌سو برای فریب ملت، پی‌درپی نخست‌وزیران خود را عوض می‌کرد و مدعی آن بود که پیام انقلاب آنان را شنیده است و به خواسته‌هایشان توجه خواهد کرد. از سوی دیگر، به مأموران خود دستور می‌داد که تظاهرکنندگان را سرکوب کنند. امام خمینی ره، رهبر انقلاب، با هوشیاری اقدامات شاه و حامیان خارجی او را خنثی کرد و مانع توقف و یا انحراف انقلاب از مسیر خود شد.



امام خمینی ره در پاریس

هجرت امام از نجف به پاریس : پس از آنکه قیام ملت علیه حکومت پهلوی، گسترش یافت، دولت عراق امام را وادار کرد که آن کشور را ترک کند. امام ناچار به فرانسه رفت و در محله «نوفل لوشاتو» در حومه شهر پاریس اقامت گزید. با حضور امام در پاریس، بسیاری از مبارزان توانستند با ایشان ملاقات و گفت‌وگو کنند. همچنین این امکان برای خبرنگاران سراسر جهان فراهم آمد تا پیام امام را به گوش مردم ایران و جهان برسانند.



سرنگونی نظام شاهنشاهی در ایران



سخنرانی امام خمینی رهبر پس از بازگشت به ایران در بهشت زهرای تهران و غیرقانونی اعلام کردن دولت بختیار، ۱۲ بهمن ۱۳۵۷ (عکاس: علی کاوه)

بازگشت امام خمینی رهبر به ایران و پیروزی انقلاب: سرانجام، در نتیجه مبارزه مردم ایران، شاه در روز ۲۶ دی ماه مجبور به فرار از کشور شد و رهبر انقلاب اسلامی در ۱۲ بهمن ۱۳۵۷ با استقبال بی نظیر و با شکوه مردم به میهن عزیز بازگشت. انقلاب اسلامی در ۲۲ بهمن ۱۳۵۷ به پیروزی رسید و عصر جدیدی در تاریخ ایران آغاز شد. انقلاب اسلامی ایران، با شعار اصلی «استقلال، آزادی، جمهوری اسلامی» به پیروزی رسید و هدف آن از بین بردن وابستگی کشور به بیگانگان و تأمین حقوق ملت در چارچوب قوانین و ارزش های اسلامی بود. «ایمان به اسلام»، «وحدت ملت» و «رهبری قاطع امام خمینی رهبر» سه عامل مؤثر در موفقیت انقلاب اسلامی بودند. مهم ترین رویدادهای انقلاب در سال ۱۳۵۷ را در جدول زیر مرور کنید.



<p>۵: دولت شریف امامی به منظور آرام کردن ملت با شعار «آشتی ملی» روی کار آمد؛ اما مردم با هدایت امام فریب این شعار را نخوردند و در مقابل شعار دادند: «ما می گیم شاه نمی خوایم، نخست وزیر عوض می شه»</p> <p>۱۳: تظاهرات صدها هزار نفری مردم تهران پس از نماز عید فطر در قیطریه</p> <p>۱۷: جمعه سیاه و کشتار تظاهرکنندگان در میدان زاله (شهدای) تهران</p>	شهریور
<p>۱۳: مهاجرت امام از نجف به پاریس به سبب مشکلات و محدودیت هایی که دولت عراق برای ایشان ایجاد کرد.</p>	مهر
<p>۱۳: کشتار دانش آموزان در مقابل دانشگاه تهران توسط مأموران نظامی حکومت؛ از این رو پس از پیروزی انقلاب اسلامی، ۱۳ آبان «روز دانش آموز» نام گذاری شد.</p> <p>۱۵: روی کار آمدن دولت نظامی اظهاری برای ترساندن مردم و جلوگیری از ادامه تظاهرات</p>	آبان
<p>۱۹ و ۲۰: راه پیمایی آرام و میلیونی مردم تهران در تاسوعا و عاشورا؛ این راه پیمایی به جهانیان ثابت کرد که شاه رفتنی است.</p>	آذر
<p>۱۵: روی کار آمدن دولت بختیار برای فریب مردم و جلوگیری از سقوط حکومت شاه</p> <p>۲۲: تشکیل شورای انقلاب به فرمان امام؛ در این شورا تعدادی از شخصیت های مبارز حضور داشتند.</p> <p>۲۶: فرار شاه به مصر</p>	دی
<p>۱۲: بازگشت امام خمینی <small>رهبر</small> به میهن پس از ۱۴ سال تبعید در میان استقبال گرم مردم؛ آغاز دهه فجر انقلاب اسلامی</p> <p>۱۵: معرفی مهندس مهدی بازرگان از سوی امام به عنوان نخست وزیر دولت موقت</p> <p>۲۲: پیروزی انقلاب اسلامی و سقوط حکومت پهلوی پس از تصرف پادگان ها و سایر مراکز دولتی توسط مردم</p>	بهمن

ایران در دوران پس از پیروزی انقلاب اسلامی



همه‌پرسی تعیین نظام سیاسی ایران در فروردین ۱۳۵۸

از فردای پیروزی انقلاب اسلامی، تلاش برای تحقق شعار «استقلال، آزادی، جمهوری اسلامی» که خواسته اصلی و اساسی ملت در جریان انقلاب اسلامی بود، آغاز شد.



تدوین و تصویب قانون اساسی

در مرداد ۱۳۵۸، مردم، نمایندگان مجلس خبرگان قانون اساسی را انتخاب کردند. این مجلس که از ۷۵ نماینده از سراسر کشور تشکیل شده بود، قانون اساسی جدید را تدوین و تصویب کرد. با تأکید امام خمینی (ره)، قانون اساسی جدید در آذر ماه ۱۳۵۸ به همه‌پرسی گذاشته شد و ۹۹/۵ درصد ملت آن را تأیید کرد.

برپایی نظام جمهوری اسلامی

همه‌پرسی تعیین نظام سیاسی: امام خمینی (ره) به دولت

موقت انقلاب مأموریت داد که ضمن اداره امور کشور، اقدامات لازم را برای تأسیس نظام سیاسی جدید انجام دهد. مقدمات برگزاری همه‌پرسی برای تعیین نظام سیاسی خیلی زود فراهم شد. مردم ایران در روزهای ۱۰ و ۱۱ فروردین ۱۳۵۸ برای تعیین سرنوشت سیاسی خود به پای صندوق‌های رأی رفتند تا از میان دو گزینه «جمهوری اسلامی: آری یا خیر» یکی را برگزینند. در این همه‌پرسی، ۹۸/۲ درصد مردم به جمهوری اسلامی رأی

مثبت دادند. نتیجه همه‌پرسی در ۱۲ فروردین اعلام گردید و پس از آن، این روز به عنوان روز جمهوری اسلامی نام‌گذاری شد.

تدوین و تصویب قانون اساسی جدید: بلافاصله پس از همه‌پرسی تعیین نظام سیاسی، مقدمات تدوین قانون اساسی

جمهوری اسلامی فراهم آمد.

انتخابات ریاست جمهوری و مجلس شورای اسلامی: پس از تصویب قانون اساسی، انتخابات اولین دوره ریاست جمهوری (بهمن

۱۳۵۸) و سپس اولین دوره مجلس شورای اسلامی (اسفند ۱۳۵۸) برگزار شد. پس از انتخاب رئیس جمهوری و تشکیل مجلس شورای

اسلامی، هیئت دولت نیز تعیین شد و نظام جمهوری اسلامی به طور رسمی شکل گرفت.

شکل‌گیری نهادهای انقلابی: پس از پیروزی انقلاب اسلامی به فرمان امام خمینی، برخی نهادهای انقلابی بر اساس ضرورت و نیازهای کشور به وجود آمدند. از جمله مهم‌ترین این نهادها، سپاه پاسداران انقلاب اسلامی و بسیج مستضعفان با هدف دفاع از آرمان‌های انقلاب اسلامی و مرز و بوم کشور شکل گرفتند. نام و وظیفه سایر نهادهای انقلابی را در جدول زیر مطالعه کنید.



جهد سازندگی در سال ۱۳۵۸ ایجاد شد. دانشجویان و سایر اقشار مردم به طور داوطلبانه به مناطق محروم و دورافتاده و به ویژه روستاها می‌رفتند و برای عمران و آبادانی این نواحی و تأمین آب، جاده، امکانات بهداشتی و نظایر آن فعالیت می‌کردند.

نهاد‌های انقلابی	مسئولیت و وظایف
کمیته انقلاب اسلامی	برقراری نظم و امنیت؛ (بعدها با شهربانی و ژاندارمری ادغام شدند و نیروی انتظامی را تشکیل دادند.)
جهد سازندگی	عمران و آبادانی روستاها و مناطق محروم؛ (جهد سازندگی بعدها با وزارت کشاورزی ادغام شد.)
کمیته امداد امام خمینی (ره)	حمایت از قشرهای محروم جامعه
نهضت سوادآموزی	گسترش سواد و کاهش بی‌سوادی در کشور
سازمان تبلیغات اسلامی	تبلیغ و ترویج فرهنگ و ارزش‌های اسلامی در کشور

فعالیت

۱- با مطالعه متن:

الف) نمودار روند تأسیس حکومت جمهوری اسلامی را تکمیل کنید.

تعیین هیئت دولت				همه‌پرسی تعیین نظام سیاسی
-----------------	--	--	--	---------------------------

ب) با توجه به نمودار، نقش مردم را در تأسیس نظام جمهوری اسلامی توضیح دهید.

توطئه‌ها و دسیسه‌های دشمنان

به دنبال پیروزی انقلاب اسلامی، رژیم وابسته پهلوی سقوط کرد و حکومت جمهوری اسلامی تأسیس شد. نظام جمهوری اسلامی ایران از همان ابتدای شکل‌گیری به حمایت از نهضت‌های آزادی‌بخش در سراسر جهان برخاست. به همین دلیل، روابط خود را با دولت اشغالگر قدس (اسرائیل) قطع کرد و از قیام مردم فلسطین برای آزادی سرزمین خود پشتیبانی نمود. از این رو، دولت‌های سلطه‌گر و زورگو، که در رأس آنها آمریکا بود، فعالیت‌های گسترده‌ای را برای انحراف و نابودی نظام نوپای اسلامی آغاز کردند.

(الف) ایجاد شورش و ناامنی: در سال‌های نخست پیروزی انقلاب اسلامی، گروه‌های ضد انقلاب داخلی با حمایت دشمنان خارجی انقلاب اسلامی در بخش‌هایی از کشور، به ویژه در مناطق مرزی، به ایجاد ناامنی و اغتشاش پرداختند. این گروه‌ها قصد داشتند با به راه انداختن جنگ داخلی، اقوام ایرانی را در مقابل هم قرار دهند. آنها حتی به اموال عمومی و دارایی‌های مردم نیز خسارت‌های فراوانی وارد کردند.

(ب) ترور شخصیت‌ها و مردم انقلابی: یکی از اقدام‌های جنایت‌کارانه گروه‌های ضد انقلاب که با حمایت دشمنان خارجی انجام گرفت، ترور گسترده شخصیت‌های انقلابی، مسئولان سیاسی و فرهنگی و مردم عادی بود. در نتیجه این اقدام‌های تروریستی، تعداد زیادی از شخصیت‌های نظام جمهوری اسلامی و یاران نزدیک امام به شهادت رسیدند. آیت‌الله سیدعلی خامنه‌ای نیز از جمله شخصیت‌هایی بودند که بر اثر اقدام‌های تروریستی (وحشت‌افکنی) ضدانقلاب به شدت مجروح شدند.



محمدعلی رجایی، دومین رئیس‌جمهور اسلامی ایران، و حجت‌الاسلام دکتر محمد جواد باهنر، نخست‌وزیر، در ۸ شهریور ۱۳۶۰ بر اثر انفجار دفتر نخست‌وزیری توسط منافقین (گروه مجاهدین خلق) به شهادت رسیدند.

آیت‌الله دکتر بهشتی و ۷۲ تن از یارانش بر اثر انفجار دفتر مرکزی حزب جمهوری اسلامی توسط منافقین (گروه مجاهدین خلق) در ۷ تیر ۱۳۶۰ به شهادت رسیدند.

استاد آیت‌الله مرتضی مطهری، رئیس شورای انقلاب، که در ۱۲ اردیبهشت ۱۳۵۸ توسط گروه‌های ضدانقلاب به شهادت رسید.



(پ) اقدامات نظامی : در ابتدای پیروزی انقلاب، سفارت آمریکا

در ایران به مرکزی برای حمایت از گروه‌های ضد انقلاب تبدیل شده بود. به همین دلیل، در ۱۳ آبان ۱۳۵۸ دانشجویان پیرو خط امام آنجا را تسخیر کردند و تعدادی از مأموران دولت آمریکا را به گروگان گرفتند. دانشجویان اعلام کردند که چنانچه آمریکا شاه را تحویل دهد و متعهد شود که در امور داخلی ایران دخالت نکند، گروگان‌ها را آزاد خواهند کرد. آمریکا برای رهایی گروگان‌ها اقدام به حمله نظامی کرد، اما هواپیما و بالگردهای آن کشور

در صحرای طبس دچار طوفان شن شدند و نیروهای آمریکایی با تحمل تلفات و خسارت گریختند. سرانجام با میانجیگری دولت الجزایر، دانشجویان پس از یک سال و چند ماه گروگان‌های آمریکایی را آزاد کردند. **جنگ تحمیلی :** در همان زمانی که کشور ما درگیر آشوب‌های وسیع ضدانقلاب داخلی بود، دشمنان خارجی انقلاب اسلامی، جنگی خانمان‌سوز را به ملت ایران تحمیل کردند.

در سال ششم خواندید که در ۳۱ شهریور ۱۳۵۹، صدام، رئیس حکومت بعثی عراق، با فرمان حمله به خرمشهر جنگ علیه ایران را آغاز کرد و بخش‌هایی از خاک میهن ما را به اشغال خود درآورد.



بازگشت آزادگان به میهن



رزمندگان در جبهه‌های جنگ تحمیلی

جنگ تحمیلی سرانجام پس از هشت سال پایداری ملت و ایثار رزمندگان به پایان رسید. این در حالی بود که صدام به هیچ یک از هدف‌های خود نرسید و حتی نتوانست یک وجب از خاک کشور عزیز ما را جدا کند. دو سال بعد از اعلام آتش‌بس، ایران و عراق برای تبادل اسرا به توافق رسیدند. پس از آن آزادگان (رزمندگان دربند) ایرانی از اسارت رژیم عراق آزاد شدند و در میان استقبال گرم و با شکوه مردم به میهن اسلامی بازگشتند.



احداث پل وحدت در منطقه کردستان از اقدامات جهاد سازندگی در دوران دفاع مقدس



احداث بیمارستان صحرایی در مناطق عملیاتی دفاع مقدس توسط جهاد سازندگی


- ۲- با راهنمایی دبیر خود، همفکری کنید و بگویید که انقلاب اسلامی با وجود ترور گسترده شخصیت‌های نظام جمهوری اسلامی، چرا و چگونه به حرکت خود ادامه داده است؟
- ۳- با مطالعه متن و مراجعه به دانسته‌های قبلی خود، درباره حمایت گسترده مردم از انقلاب اسلامی در سال‌های پس از پیروزی چند دلیل بیاورید.

رحلت امام خمینی و انتخاب حضرت آیت‌الله خامنه‌ای به رهبری

امام خمینی پس از عمری مجاهدت علمی و مبارزه برای تعالی اسلام و سرپنداری ایران اسلامی، سرانجام در شامگاه ۱۳ خرداد ۱۳۶۸ در تهران درگذشت. پیکر او را میلیون‌ها عزادار پس از یک تشییع بی‌نظیر تاریخی در نزدیکی بهشت زهرا تهران به خاک سپردند.



وداع تاریخی مردم با امام خمینی (قدس سرّه)



عظیم‌ترین ثمره زندگی ایشان، رهبری انقلابی بزرگ بود. همچنان که آیت‌الله خامنه‌ای در این باره فرمود: «این انقلاب در هیچ کجای جهان بی نام او شناخته نیست».

یک روز پس از ارتحال امام، مجلس خبرگان رهبری، آیت‌الله خامنه‌ای را به رهبری انقلاب برگزید. آیت‌الله خامنه‌ای همواره بر حفظ و تداوم آرمان‌های انقلاب اسلامی و راه امام خمینی تأکید داشته و در این زمینه گام‌های مؤثری برداشته‌اند.



تصویب‌نامه: قوانینی که هیئت دولت آنها را تصویب می‌کند.

اصول شش‌گانه: ۱- اصلاحات ارضی و الغای رژیم ارباب رعیتی؛ ۲- تصویب لایحه قانون ملی کردن جنگل‌ها؛ ۳- فروش سهام کارخانه‌های دولتی به عنوان پشتوانه اصلاحات ارضی؛ ۴- سهم کردن کارگران در سود کارخانه‌ها؛ ۵- اصلاح قانون انتخابات؛ ۶- ایجاد سپاه دانش.

کاپیتولاسیون: به معنای قضاوت‌سپاری؛ به موافقت‌نامه‌ای گفته می‌شود که طبق آن، دولت حق رسیدگی قضایی به جرایم اتباع خارجی یک کشور در خاک خود را به نماینده حقوقی آن کشور واگذار می‌کند. به همین دلیل به آن «حق قضاوت کنسولی» می‌گویند.

تاریخ شفاهی: یکی از شیوه‌های پژوهش در تاریخ که در آن رویدادهای تاریخی را با استفاده از دیدگاه‌ها و سخنان و عملکرد کسانی که شاهد و ناظر آن رویدادها بوده‌اند، شناسایی می‌کنند.

به کاربندیم

به دو گروه الف و ب تقسیم شوید و مجله تاریخ شفاهی* کلاس خود را به ترتیب زیر طراحی و تولید کنید.

۱- اعضای گروه الف با پدر، مادر، پدربزرگ، مادربزرگ و یا یکی از بستگان خود که در تظاهرات دوران انقلاب یا یکی از نهادهای مردمی و انقلابی مانند نهضت سوادآموزی و جهادسازندگی و... حضور داشته‌اند، گفت‌وگو کنند و خاطرات آنان را از روزهای انقلاب و فعالیت مردمی نهادها پس از پیروزی بنویسند.

۲- اعضای گروه ب با یکی از بستگان یا آشنایان خود که در جبهه‌های جنگ تحصیلی حضور داشته‌اند، گفت‌وگو کنند و گزارش آن را به صورت کتبی ارائه دهند.

مطالب گردآوری شده را در قالب مجله تاریخ شفاهی ارائه کنید و پس از همفکری، عنوانی برای آن انتخاب نمایید.

فرهنگ و هویت

۹

فصل

همان‌طور که هر فردی، شناسنامه، ویژگی‌هایی دارد که «هویت» یا «کیستی» او را نشان می‌دهند، هر کشوری نیز هویتی دارد.

هویت هر کشور که آن را از کشورهای دیگر متمایز می‌کند، فرهنگ آن است. موجودیت یک کشور با فرهنگ آن شناخته می‌شود.

فرهنگ یک جامعه را مردم آن جامعه به‌وجود می‌آورند. فرهنگ، همه بخش‌های زندگی یک جامعه را دربرمی‌گیرد. به همین دلیل، در دنیای امروز موضوع فرهنگ و هویت به یکی از مهم‌ترین موضوعات اجتماعی تبدیل شده است.



شما با مطالعه این فصل و انجام دادن فعالیت‌های آن به پاسخ پرسش‌های زیر پی می‌برید :

- ۱- فرهنگ چیست و لایه‌ها و اجزای مختلف آن کدام‌اند و چگونه با هم ارتباط دارند؟
- ۲- ابعاد مختلف هویت فردی و اجتماعی کدام‌اند و چه تأثیری بر هم دارند؟
- ۳- منظور از هویت ملی چیست؟
- ۴- ویژگی‌های هویت ایرانی کدام‌اند؟

فعالیت

۱- فرهنگ چیست؟ شما چه برداشتی از واژه فرهنگ دارید؟
 برداشت خود را از واژه فرهنگ بنویسید و به نوبت در کلاس بخوانید. معلم نکات مشترک را روی تخته بنویسد.
 پس از پایان درس، یکبار دیگر نوشته خودتان و نکات روی تخته را مرور کنید و بگویید برای تکمیل توضیح فرهنگ، چه نکات دیگری را اضافه می کنید.

فرهنگ، شیوه زندگی

به طور کلی، فرهنگ یک جامعه* شیوه زندگی آن جامعه است. آیا تاکنون به شیوه زندگی جوامع مختلف دقت کرده اید؟ افراد یک جامعه برای زندگی در کنار هم از شیوه های مشترکی استفاده می کنند. آنها در چگونگی برقراری ارتباط با یکدیگر، آداب و رسوم و پوشاک و تغذیه، باورها و اعتقادات، قوانین و مقررات، نحوه استفاده از محیط طبیعی و ... اشتراکاتی با هم دارند. جامعه بدون فرهنگ وجود ندارد و فرهنگ هم بدون جامعه به وجود نمی آید.



قند ساییدن در مراسم ازدواج، ایران



جشن برنج، ژاپن



بازار شناور، تایلند



خیابانی در بمبئی، هند



غذا (فروش سمبوسه) و پوشاک، پاکستان

- ۲- اگر اعضای خانواده‌تان برای زیارت یا سیاحت به کشورهای همسایه یا سایر کشورها سفر کرده‌اند، بگویید در هنگام گفت‌وگو از خاطرات سفر به چه نکاتی دربارهٔ شیوهٔ زندگی مردم آن کشورها اشاره می‌کنند؟
- ۳- اگر دربارهٔ شیوهٔ زندگی یک جامعه در سایر مناطق جهان کتابی خوانده‌اید یا فیلمی دیده‌اید، نکته‌هایی از آن را برای هم کلاسی‌هایتان توضیح دهید.

فرهنگ آموختنی است



فرهنگ پدیده‌ای آموختنی است؛ یعنی از طریق زن به ارث نمی‌رسد بلکه از راه آموزش و تربیت از نسلی به نسل دیگر منتقل می‌شود. به همین دلیل، فرهنگ را آگاهی و اندیشهٔ مشترک اعضای یک جامعه نیز می‌گویند.

مورچه‌ها و زنبورها نیز با هم زندگی می‌کنند اما فرهنگ ندارند؛ چرا؟
فرهنگ در جریان (فرایند) اجتماعی شدن آموخته می‌شود.

اجتماعی شدن یا جامعه‌پذیری: اجتماعی شدن فرایندی طولانی مدت از تولد تا آخر عمر است که افراد از طریق آن، زندگی در جامعه را می‌آموزند و خود را با آن منطبق می‌کنند. اجتماعی شدن فرایندی بسیار مهم در زندگی است؛ زیرا بدون آن، افراد نمی‌توانند به زندگی در جامعه ادامه دهند. در یک جامعه، هر فرد عقاید و باورها، رسوم، قوانین و حتی چگونگی پاسخ دادن به غرایز را از دیگران می‌آموزد و به افراد دیگر یاد می‌دهد.

فرایند اجتماعی شدن، نخست در خانواده رخ می‌دهد. خانواده اولین و مهم‌ترین کانون اجتماعی شدن فرد است.



پدر و مادر به کودک یاد می‌دهند که چطور صحبت کند، چگونه غذا بخورد و در نشست و برخاست چه آداب را رعایت کند، چگونه به مهمان‌ها سلام و تعارف کند، در موقع خمیازه کشیدن دست را جلوی دهانش بگیرد یا پاهایش را جلوی افراد بزرگ‌تر دراز نکند و موقع غذا خوردن، دهانش صدا ندهد. چگونه در مراسم مختلف، مثل جشن‌ها یا عزاداری‌ها شرکت کند و چه بپوشد و چگونه رفتار کند.

کودک در خانواده، علاوه بر چگونگی برطرف کردن نیازهایش، شیوهٔ ابراز احساسات و هیجان‌ها را نیز یاد می‌گیرد و تقلید می‌کند. برای مثال، یاد می‌گیرد که با چه کلمات یا رفتارهایی محبت یا خشم خود را به دیگران ابراز کند. خانواده با به‌کارگیری شیوه‌های مختلف تشویق و تنبیه مانند آفرین گفتن، اخم کردن، به فرزند خود می‌آموزد که چه چیزهایی را تحسین و تأیید کند و به آنها ارزش بگذارد، چه کارهایی را بد و ناپسند بشمارد، چه اعتقاداتی داشته باشد و چگونه عبادت یا دعا کند. با بزرگ‌تر شدن فرد، علاوه بر خانواده، رسانه‌های جمعی، دوستان و گروه‌های همسالان و برنامه‌های آموزشی و تربیتی مدرسه نیز چگونگی زندگی در جامعه و سازگاری با آن را به تدریج به او می‌آموزند. این فرایند بعدها با رفتن به دانشگاه، خدمت سربازی، محل کار و... ادامه پیدا می‌کند. در فرایند اجتماعی شدن، اجزا یا لایه‌های فرهنگ یعنی نمادها، هنجارها، ارزش‌ها و عقاید آموخته می‌شوند و به افراد دیگر انتقال می‌یابند.

لایه‌های فرهنگ

جنبه‌های مختلف یک فرهنگ را می‌توان به لایه‌های یک پیاز تشبیه کرد. برخی از این لایه‌ها خارجی یا بیرونی هستند؛ مانند نمادها و هنجارها. معمولاً وقتی با جامعه‌ای روبه‌رو می‌شویم، نخست آشکال ظاهری فرهنگ آن را درمی‌یابیم، اما اگر زندگی مردم آن جامعه را بیشتر و دقیق‌تر بررسی کنیم، به جنبه‌های عمیق‌تری از فرهنگ آنها پی می‌بریم. ارزش‌ها و عقاید، لایه‌های عمیق‌تر فرهنگ هستند.

نمادها

نماد، نشانه یا نمایندهٔ یک پدیدهٔ دیگر است. برای مثال، علامت «؟» نماد پرسش و علامت «!» نماد تعجب است. نمادها در جریان روابط اجتماعی به وجود می‌آیند. هر جامعه‌ای برای انتقال معانی مورد نظر خود از انواع معینی از نمادها استفاده می‌کند.



زبان گفتاری و نوشتاری، تصاویر، بناها، نوع پوشاک و همهٔ اشیاء دست ساخته‌های انسان و همچنین برخی رفتارهای او نقش نمادین دارند.



○ فعالیت

- ۴- فرض کنید کودکی از هر نوع ارتباط با آدم‌های دیگر محروم باشد و فقط نیازهای زیستی* اش برطرف شود تا زنده بماند. به نظر شما این کودک چه ویژگی‌هایی خواهد داشت؟
- ۵- با توجه به تصاویر این دو صفحه، معنای هریک از نمادها و رفتارهای نمادین را بیان کنید.

هنجارها

هنجارها، رفتارهای معینی هستند که در یک گروه یا جامعه پذیرفته شده و متداول اند. به عبارت دیگر، به قواعد و شیوه‌های مورد قبول یک جامعه برای انجام دادن کارهای مختلف، هنجار می‌گویند. هنجارها در واقع همه عادت‌ها، آداب و رسوم اجتماعی، مناسک مذهبی، قواعد، قوانین و مقررات (قوانین ازدواج، قوانین خرید و فروش، قوانین عبور و مرور و ...) را در برمی‌گیرد.

در هر جامعه مجموعه‌ای از هنجارها وجود دارند که عموم افراد از آنها پیروی می‌کنند. برای مثال، ما وقتی به هم می‌رسیم سلام می‌کنیم، وقتی می‌خواهیم غذا بخوریم یا وارد جایی شویم، به هم تعارف می‌کنیم، وقتی کسی موفقیتی به دست می‌آورد به او تبریک می‌گوییم، وقتی خانه نو می‌خرد برای او هدیه می‌بریم. رفتار ما در خانواده، مهمانی، محله، مسجد، مدرسه، دانشگاه، اداره و ... در هریک از این موقعیت‌ها تحت پوشش هنجار خاصی قرار دارد.

زندگی اجتماعی بدون وجود هنجارها ادامه پیدا نمی‌کند و هنجارها به روابط اجتماعی سامان می‌بخشند. افراد یک جامعه خود را ملزم می‌بینند از هنجارها پیروی کنند تا جامعه آنها را به عضویت بپذیرد.

مهم‌ترین دلایل پیروی از هنجارها، اعتقاد به آنها یا حفظ آبرو و احترام یا ترس از مجازات است. اگر افراد از هنجارها یا شیوه‌های مورد قبول گروه یا جامعه پیروی نکنند، مجازات می‌شوند. این مجازات ممکن است به صورت سرزنش خود یا دیگران، پوزخند، تمسخر، طرد کردن و محروم نمودن، متلک گفتن یا مجازات‌های رسمی و قانونی باشد.

برای مثال، فرض کنید در کشور ما فردی در مجلس عزای لباس قرمز بپوشد و بخواهد لطیفه بگوید یا در یک مهمانی، یک نفر پیش از ورود سایر مهمان‌ها و میزبان سر سفره یا میز بنشیند و با عجله شروع به غذا خوردن کند یا دانش‌آموزی هر وقت بخواهد وارد مدرسه شود و از آنجا بیرون برود یا فردی در ایام ماه مبارک رمضان تظاهر به روزه‌خواری کند یا فردی اتومبیل خود را در پیاده‌رو پارک کند. به نظر شما، در هر یک از این موارد، برخورد جامعه با فرد چگونه است و چگونه او را مجازات می‌کند؟

○ فعالیت

۶- دربارهٔ نمادها و هنجارهای مربوط به سلام و احوالپرسی و تعارفات در چند منطقه کشور متفاوت پرس و جو کنید و نتیجه را در کلاس بیان کنید.

ارزش‌ها و عقاید

نمونه‌هایی از ارزش‌ها



ارزش‌های افراد با هم تفاوت دارند.

● ارزش یعنی اینکه ما، اموری را خوب، مطلوب و مثبت تلقی کنیم. هر فرد یا اعضای هر گروه و جامعه، اموری را با ارزش می‌دانند و امور دیگری را ناپسند تلقی می‌کنند.

به نمونه‌هایی از ارزش‌ها در جدول روبه‌رو توجه کنید.

ارزش‌ها به هنجارها جهت می‌دهند یعنی افراد بر مبنای ارزش‌هایی که به آنها معتقدند رفتار و عمل می‌کنند. برای مثال فردی که حفظ محیط زیست برایش یک ارزش است، تلاش می‌کند در عمل به حفظ محیط زیست کمک کند. چنین فردی در مصرف منابع آب و برق صرفه جویی می‌کند، زباله‌ها را از هم تفکیک می‌کند، در هنگام سفر به همراهانش تأکید می‌کند از پخش کردن زباله و پلاستیک در طبیعت خودداری کنند و حتی ممکن است با گروهی — که آنها نیز حفظ محیط زیست را ارزش می‌دانند — به جمع‌آوری زباله‌ها در طبیعت بپردازد.

ارزش‌های انسانی و اجتماعی آن دسته از ارزش‌ها هستند که همهٔ انسان‌ها یا اغلب افراد یک جامعه آن را خوب و مطلوب می‌دانند مانند شجاعت، صداقت، کمک به دیگران، احترام به سالمندان و دفاع از کشور.

● یکی از عوامل مهمی که در شکل‌گیری ارزش‌ها مؤثر است، عقاید دینی است. برای مثال صدقه دادن و انفاق برای فرد مسلمان یک ارزش است و این ارزش ناشی از اعتقادی است که آن فرد به جلب خشنودی خداوند و اطاعت از او دارد.

برای ما که مسلمان هستیم، اعتقادات اسلامی ملاکی است که با آن هنجارها و ارزش‌ها را می‌سنجیم و هر کدام را که با این اصول اعتقادی سازگاری ندارند، طرد می‌کنیم.

○ فعالیت

گفت‌وگو کنید

۷- هر یک از هنجارهای زیر مبتنی بر کدام ارزش‌ها و عقاید است؟ توضیح دهید.

(الف) برخی نانوایان، شب‌های جمعه یک یا چند تنور نان خود را به صورت رایگان و صلواتی به مردم می‌دهند.

(ب) مردها در هنگام ورود به خانهٔ دیگران با صدای بلند «یا الله» می‌گویند.

(ج) افراد در موقع دیدن کودک، «ماشاءالله» می‌گویند.

۸- همه ارزش‌ها و هنجارها، مفید و خوب نیستند. برای مثال، ممکن است در یک گروه دوستان، یک مدل نامناسب لباس به هنجار تبدیل شود یا در بین عده‌ای، فال‌گیری رواج پیدا کند یا یک گروه عادت کنند تیم ورزشی رقیب را با نام‌های زشت خطاب کنند یا در بعضی خانواده‌ها خودنمایی و خرید اسباب و اثاثیه گران قیمت متداول شود. آیا پیروی کورکورانه از همه هنجارها درست است؟ ملاک تشخیص درست و مفید بودن ارزش‌ها و هنجارها چیست؟

۹- عوامل مختلفی می‌توانند نمادها، ارزش‌ها و هنجارهای یک جامعه را تغییر دهند و در فرهنگ آن جامعه تغییر و دگرگونی پدید آورند. درباره این عوامل و چگونگی تأثیر آنها بر فرهنگ گفت‌وگو کنید و مثال‌هایی بیاورید.

عوامل	مصادق	تغییر در نمادها، ارزش‌ها و هنجارها
پیشرفت‌های صنعتی و فناوری	زندگی کاشانه‌نشینی (آپارتمان‌نشینی) پیشرفت وسایل حمل و نقل و افزایش مسافرت	خانه‌های چند طبقه، فضای کمتر برای بازی بچه‌ها و ...
رسانه‌های جمعی		
نفوذ فرهنگی بیگانگان و کشورهای سلطه‌گر		

۱۰- کاربرگه شماره (۱۳) را انجام دهید.



خرده فرهنگ



فرهنگ عمومی هر جامعه، خرده‌فرهنگ*هایی را در دل خود جا داده است. هریک از این خرده‌فرهنگ‌ها، نمادها و هنجارهای خاص خود را دارد. برای مثال، هریک از جامعه‌های روستایی، شهری و عشایری ایران هنجارهایی دارند که مخصوص آن جامعه هستند و با هنجارهای جوامع دیگر تفاوت دارند یا در اقشار مختلف مانند روحانیون، ورزشکاران، تاجران، نظامیان و ... می‌توان هنجارهای ویژه‌ای را مشاهده کرد. اقوام مختلف ایرانی نیز علاوه بر داشتن اشتراکات فرهنگی با کل جامعه ایران، نمادها و هنجارهای مخصوص به خود دارند.



موزه لباس محلی، خراسان جنوبی



مراسم سنتی عروسی در یک روستا، گیلان



بازی‌های سنتی، کهگیلویه و بویراحمد



مراسم سینه‌زنی سنتی، بوشهر

منظور از هویت چیست؟

○ فعالیت

۱- داوطلبانه جلو کلاس بایستید و خودتان را با صفات و ویژگی‌هایی که دارید معرفی کنید. شما می‌توانید مشخصات شناسنامه‌ای و خانوادگی، ویژگی‌های ظاهری، خصوصیات اخلاقی، سلیقه‌ها و علایق و مانند آنها را بیان کنید.

افراد در موقعیت‌های گوناگون با پرسش از «کیستی» یا هویتشان مواجه می‌شوند. برای مثال، وقتی به جایی تلفن می‌کنند، در یک مؤسسه آموزشی یا ورزشی ثبت نام می‌کنند، برای استخدام شدن به مؤسسه‌ای می‌روند یا در مراسم خواستگاری از آنها خواسته می‌شود به این پرسش پاسخ دهند. آنها نیز با توجه به شرایط و موقعیت، برخی ویژگی‌های خود را بیان می‌کنند.



موضوع هویت در واقع همان پاسخ به پرسش «کیستی» است. هویت عبارت است از احساس و آگاهی و شناخت از خود. آگاهی انسان از وجود و شخصیت و ویژگی‌های خود از جمله تفاوت‌های او با سایر موجودات زنده است و خداوند این امتیاز را به انسان عطا کرده است.

ابعاد فردی و اجتماعی هویت

اکنون که فعالیت شماره ۱ را انجام دادید، آیا می‌توانید ویژگی‌های خود را دسته‌بندی کنید؟

برای مثال، ممکن است گفته باشید من ۱۵ سال دارم و فردی بلند قد، گندمگون با چشمان قهوه‌ای هستم، به ورزش والیبال علاقه مندم و جزء گروه حافظان محیط زیست هستم و فعالیت‌هایی در این زمینه انجام می‌دهم.

در اینجا شما به برخی از ویژگی‌های فردی و اجتماعی خود اشاره کرده‌اید. پس ما دارای هویت فردی و هویت اجتماعی هستیم.



هویت فردی : هویت فردی شامل دو بخش ویژگی های جسمانی و روانی است.

ویژگی هایی مانند جنسیت، قد، وزن، سن و گروه خونی هویت جسمانی را تشکیل می دهند. این ویژگی ها مربوط به بدن و خلقت طبیعی ما هستند. ویژگی های اخلاقی و روانی همان ویژگی های غیر جسمانی هستند؛ مانند صبور بودن، زودرنج بودن، داشتن پشتکار و اراده، امیدوار بودن، لجوج بودن و به هنر علاقه داشتن.

● ویژگی های جسمانی افراد بر خصوصیات روانی آنها اثر می گذارد. برای مثال، بیماری ها یا اختلالات جسمی تأثیرات نامطلوبی بر سلامتی روانی انسان دارند. حتماً در درس علوم خوانده اید که مثلاً ترشح زیاد یا کم برخی غده ها در بدن، مانند تیروئید، بر خلق و خوی افراد تأثیر می گذارد.

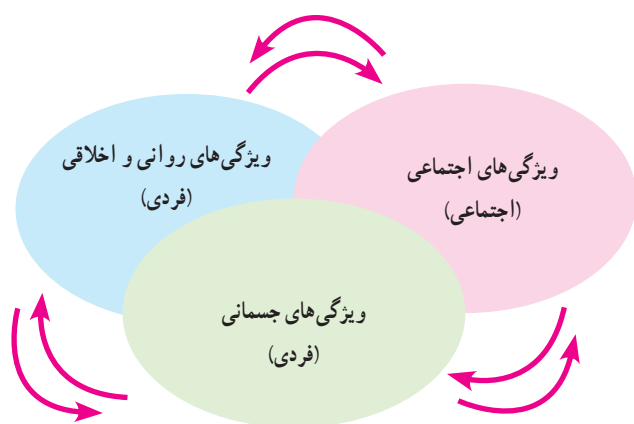
● از سوی دیگر، ویژگی های اخلاقی و روانی نیز می توانند بر جسم ما تأثیر بگذارند. برای مثال، افراد خوش بین و امیدوار و پرتلاش نسبت به آدم های بدبین و منفی باف یا تنبل، سلامت جسمانی بیشتری دارند.

هویت اجتماعی : افراد با عضویت در گروه های مختلف اجتماعی هویت اجتماعی به دست می آورند.

ما با عضویت در خانواده، فرزند به حساب می آییم، با عضویت در مدرسه دانش آموز هستیم و با عضویت در جامعه ایران، ایرانی محسوب می شویم. به عبارت دیگر، هویت اجتماعی ما از طریق ارتباط با جامعه شکل می گیرد. ما عضو گروه های متفاوتی مانند خانواده، دوستان، هم کلاسی ها، همسایه ها و همکاران هستیم و در هر گروه نقش هایی را برعهده می گیریم. وقتی خود را عضو یک گروه معرفی می کنیم به هویت اجتماعی خود اشاره می کنیم.



هر فرد ابتدا در خانواده و سپس در مدرسه و محله و سایر مؤسسات و نهادهای اجتماعی با عقاید و ارزش های جامعه آشنا می شود. بدین ترتیب، هویت اجتماعی او بر اساس عقاید و ارزش های جامعه شکل می گیرد.



هویت فردی (جسمانی و روانی) و هویت اجتماعی بر یکدیگر تأثیر می‌گذارند.

○ فعالیت

۲- همفکری کنید و چند مثال دربارهٔ تأثیر هویت اجتماعی و هویت فردی بر یکدیگر بیان کنید.

آیا ویژگی‌های هویتی ما تغییر می‌کنند؟

برخی از ویژگی‌های هویتی تغییر نمی‌کنند و همیشه ثابت‌اند؛ برای مثال، ما نمی‌توانیم سن و تاریخ تولد یا مکان تولد خود را تغییر بدهیم اما برخی از ویژگی‌های هویتی همواره در حال تغییرند. برای مثال، یک فرد فقیر ممکن است به فردی پر درآمد، و یک فرد بی‌سواد به آدمی باسواد و تحصیل کرده مبدل شود یا فردی که چندان به اخلاق دینی پایبند نیست با تلاش و کوشش به فردی باتقوا تبدیل گردد.

ویژگی‌های انتسابی و اکتسابی

ما در شکل‌گیری بعضی از ویژگی‌های هویتی خود نقشی نداریم؛ برای مثال، جنسیت، مکان تولد، پدر و مادر و شکل و قیافهٔ خود و مواردی از این قبیل را انتخاب نمی‌کنیم. به این ویژگی‌های هویتی که ما در پیدایش آنها نقشی نداریم، ویژگی‌های انتسابی می‌گویند. از سوی دیگر، ما در بسیاری از ویژگی‌های هویتی خود نقش داریم. برای مثال، برخی صفات اخلاقی یا ویژگی‌های اجتماعی را خود انتخاب می‌کنیم و به آنها شکل می‌دهیم. به ویژگی‌هایی که ما در به‌دست آوردن آنها نقش داریم، ویژگی‌های اکتسابی می‌گویند.

○ فعالیت

گفت و گو کنید

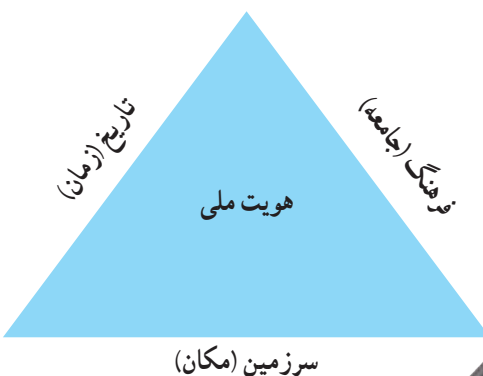
- ۳- چرا شناخت هویت خود و ویژگی‌های آن اهمیت دارد؟
- ۴- به نظر شما آیا صحیح است که خود یا دیگران را به دلیل ویژگی‌های انتسابی سرزنش کنیم؟ چرا؟
- ۵- آیا ما در تغییر هویت خود نقش داریم؟ چگونه؟

هویت ملی

یکی از مراتب هویت اجتماعی، هویت ملی* است که به یک ملت مربوط می‌شود. **ملت** جمعیتی است که در قلمرو یک سرزمین مشخص مستقر شده و دارای اشتراکات تاریخی، زبانی، مذهبی، اقتصادی و آرمان‌های مشترک است.

فرهنگ، تاریخ (زمان) و سرزمین (مکان) عمده‌ترین عناصر هویت یک ملت هستند.

هویت ایرانی



اگر از ما بپرسند «کیستی»، ویژگی‌های فردی و اجتماعی خود را بیان می‌کنیم. حال اگر از هویت ملی ما سؤال کنند، مهم‌ترین ویژگی‌های مشترک جامعه ایرانی را که با آنها شناخته می‌شویم، برمی‌شماریم.

این ویژگی‌ها عبارت‌اند از:

۱- ما در سرزمین ایران زندگی می‌کنیم



سرزمین از مهم‌ترین عناصر شکل‌دهنده هویت ملی است. برای مردمی که در یک سرزمین زندگی می‌کنند سرزمین یا وطن ارزشی متفاوت با سایر مکان‌ها دارد و احساس خاصی در آنها به وجود می‌آورد؛ به گونه‌ای که وظیفه خود می‌دانند از آن تا پای جان دفاع کنند. از نظر جغرافیای تاریخی،* مردم ایران از گذشته‌های دور در سرزمینی که فلات ایران نامیده می‌شود و ایران امروزی قسمت عمده آن است، ساکن شده‌اند و ملت ایران را شکل داده‌اند. در متون کهن ایران باستان، از سرزمین ما به «ایران شهر» و «ایران زمین» یاد شده است. براساس آثار تاریخی، برای مردمی که در سرزمین ایران زندگی می‌کرده‌اند، همواره حفظ مرزها و محدوده جغرافیایی اهمیت داشته و این موضوع را در آثار ادبی و هنری بسیاری نیز می‌توان یافت.

همه عالم تن است و ایران دل
نست کونده زین قیاس نخل
چون که ایران دل زمین باشد
دل ز تن به بود، یقین باشد
«نظامی گنجوی»

۲- ما مسلمانیم



دین از ارکان مهم هویت است. بیش از ۹۸ درصد مردم ایران مسلمان‌اند. فرهنگ مردم ما براساس دین اسلام است و عقاید و ارزش‌ها و حتی نظام سیاسی و قوانین امروز ما از دین اسلام نشئت می‌گیرد. زندگی ما ایرانیان با دین اسلام عجین شده است. دین اسلام همچنین موجب پیوند ما با جهان اسلام یعنی مسلمانانی است که در سایر نقاط جهان زندگی می‌کنند.

البته اقلیت‌های دینی زردشتی، مسیحی و کلیمی هم در کشور ما ضمن پیروی از دین خود، هویت و فرهنگ

ایرانی را حفظ نموده و همواره از سرزمین ایران در برابر هجوم بیگانگان دفاع کرده‌اند.

۳- ما تاریخ کهن و میراث فرهنگی غنی داریم

تاریخ و سرنوشت مشترک از دیگر عناصر مهم هویت ملی است. ایران جایگاه تمدن‌های باستانی بوده است و بیش از چند هزار سال قدمت دارد. در دوره باستان، حکومت‌های قدرتمندی در این سرزمین به وجود آمده‌اند و قلمرو پهناوری را در اختیار داشته‌اند. در سال هفتم با دستاوردهای علمی و ابتکارات ایرانیان باستان و نیز هنر و معماری آنان آشنا شدید. در دوران باستان، اغلب ایرانیان از عقاید و ارزش‌های دین زردشت پیروی می‌کردند.

پس از ورود اسلام به ایران، عقاید و ارزش‌های اسلامی دگرگونی بزرگی در فرهنگ ایرانیان پدید آورد. البته دسته‌ای از رسوم و آیین‌های ایرانیان مانند جشن نوروز که مغایرتی با تعالیم اسلام نداشتند، برجامانند و ادامه یافتند.

پذیرش اسلام، ایران را به جهان اسلام پیوند زد و ایرانیان با بهره‌گیری از تعالیم اسلام در شکوفایی و گسترش تمدن اسلامی نقش مهمی ایفا کردند. به قول استاد شهید مرتضی مطهری، «ایرانیان از دین اسلام نیرو و حیات گرفتند و هم نیرو و حیات خود را صرف خدمت به آن کردند».



در دوره‌هایی از تاریخ که اقوام مهاجم چون مغول‌ها و تیموریان به ایران هجوم آوردند، ایرانیان توانستند آنها را تحت تأثیر فرهنگ اسلامی و ایرانی خود قرار دهند.

۴- زبان مشترک ما فارسی است



عنصر مهم دیگری که در تکوین هویت ملی نقش دارد، زبان مشترک است که میراث فرهنگی با آن آموخته می‌شود و انتقال می‌یابد. زبان فارسی ریشه در تمدن ایران باستان دارد اما در دوران پس از اسلام نیز تداوم یافت و به عنوان زبان آموزشی و اداری به کار رفت. دانشمندان و بزرگان دوره اسلامی صدها اثر علمی و ادبی و هنری به این زبان پدید آورده‌اند؛ تا جایی که می‌توان زبان فارسی را زبان دوم جهان اسلام دانست. زبان فارسی همچنین همواره عامل وحدت اقوام ایرانی بوده است و آنها ضمن استفاده از زبان محلی خود، ده‌ها اثر ادبی و علمی و فرهنگی به زبان فارسی پدید آورده‌اند.

۵- انقلاب اسلامی نمایانگر آرمان‌های والای جامعه ماست

امسال با مطالعه تاریخ معاصر ایران پی بردید که در دویست سال اخیر، کشور ما علاوه بر استبداد داخلی با سیاست‌های دولت‌های استعمارگر غربی (اروپا و آمریکا) روبه‌رو بوده است. در این مدت طولانی، مردم ایران با ظلم و ستم داخلی و خارجی به مبارزه پرداختند که سرانجام به انقلاب اسلامی منجر شد.

در این انقلاب، مردم ایران به جای دنباله‌روی از فرهنگ بیگانگان به فرهنگ و هویت اسلامی خود بازگشتند و با بهره‌گیری از ارزش‌های دینی خود، خواستار استقلال، آزادی و جامعه‌ای اسلامی شدند. امروزه آرمان‌های انقلاب اسلامی الهام‌بخش مسلمانان جهان قرار گرفته است.

○ فعالیت

۶- با نوشتن نامه به یک دوست فرضی خارجی یا طراحی یک پوستر، ویژگی‌های هویت ایرانی را به مردم کشورهای دیگر معرفی کنید.



جامعه : گروهی از افراد که با یکدیگر زندگی می‌کنند و با هم روابط و تعامل اجتماعی نسبتاً پایدار، دارند.

جغرافیای تاریخی : شاخه‌ای از دانش جغرافیا که سیر تحول مکان‌ها را در بستر زمان مطالعه، و تأثیر متقابل اوضاع جغرافیایی مکان‌ها و رویدادهای تاریخی را بررسی می‌کند.

خرده فرهنگ : شیوه زندگی یک گروه اجتماعی که با فرهنگ عمومی و مسلط جامعه تفاوت‌هایی دارد اما به آن مرتبط است و اشتراکاتی نیز با آن دارد. خرده فرهنگ، فرهنگی درون یک فرهنگ بزرگ‌تر است.

نیاز زیستی : آنچه انسان و دیگر موجودات زنده بدون آن زنده نمی‌مانند و برای بقا به آن نیاز دارند؛ مانند غذا، آب، هوا و خواب.

هویت ملی : احساس تعلق یک ملت به مجموعه‌ای از نمادها، هنجارها، ارزش‌ها و عقاید و ... است که در سرزمینی مشخص و طی نسل‌های متوالی پدید آمده‌اند. بنابراین، هویت ملی ریشه در فرهنگ و تاریخ یک ملت دارد.

به کاربندیم

- ۱- چند مورد از هنجارها و ارزش‌هایی را که در محل زندگی شما وجود دارد و فکر می‌کنید با عقاید و آموزه‌های اسلامی سازگاری ندارد، شناسایی و بیان کنید و برای تغییر آنها پیشنهادی بدهید.
- ۲- شاید تاکنون به منطقه‌ای از ایران سفر کرده و متوجه شده باشید که نوع گویش، پوشش، تغذیه، آداب و رسوم، تعارفات، ساختمان‌ها، وسایل و ... مردم آن منطقه با محل زندگی شما تفاوت دارد. خاطرات خود را از یکی از این سفرها با تأکید بر نمادها و هنجارهایی که در آن منطقه مشاهده کرده‌اید، بنویسید و در کلاس بخوانید.

خانواده و جامعه

فصل

خانواده، کوچک‌ترین و مهم‌ترین نهاد* اجتماعی است که کارکرد* آن برای جامعه، اهمیت زیادی دارد.

خانواده، افراد را برای قبول مسئولیت در جامعه آماده می‌کند و به افکار، عواطف، اراده و فعالیت‌های آنان شکل می‌دهد. خانواده به کودک می‌آموزد که چگونه خود را با هنجارهای اجتماعی منطبق کند و او را اجتماعی می‌سازد.

نقش خانواده در جامعه آن قدر مهم است که آن را از عوامل حفظ قدرت ملی به حساب می‌آورند و می‌گویند سستی و تباهی خانواده، موجب انحطاط یک ملت می‌شود.

در این فصل، شما فرزندان امروز و والدین فردا، با کارکردهای خانواده، ویژگی‌های خانواده متعادل و ارتباط خانواده و جامعه آشنا می‌شوید.

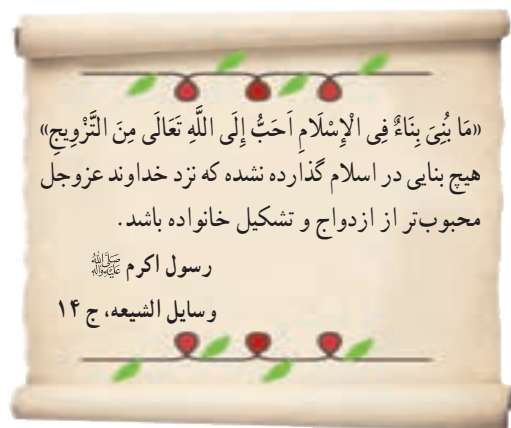
شما با مطالعه این فصل و انجام دادن فعالیت‌های آن به پاسخ پرسش‌های زیر پی می‌برید :

- ۱- وظایف و کارکردهای خانواده کدام‌اند؟
- ۲- خانواده چه نقش و اهمیتی در جامعه دارد؟
- ۳- چه عواملی موجب بروز ناسازگاری‌ها در خانواده می‌شود؟
- ۴- برای جلوگیری از آسیب رسیدن به کانون خانواده چه کارهایی می‌توان انجام داد؟

کارکردهای خانواده

تشکیل خانواده

بنیان خانواده بر ازدواج استوار است. ازدواج (نکاح) پیمانی است که به موجب آن یک زن و مرد در زندگی با هم شریک و متحد می‌شوند و خانواده‌ای را تشکیل می‌دهند. در واقع، هدف نکاح تشکیل خانواده است؛ تمایل به تشکیل خانواده و داشتن فرزند در نهاد انسان گذاشته شده و تشکیل زندگی خانوادگی، امری طبیعی و فطری و براساس نظام خلقت است.



کارکردهای خانواده

خانواده، واحد بنیادین جامعه و کانون رشد و تعالی انسان است. به نظر شما، خانواده به کدام یک از نیازهای فرد و جامعه پاسخ می‌دهد و کارکردهای آن چیست؟

الف) فرزندآوری و تجدید نسل

یکی از مهم‌ترین کارکردهای خانواده در طول تاریخ، فرزندآوری بوده است. فرزندآوری علاوه بر تقویت بنیان خانواده موجب می‌شود که نسل انسان باقی بماند و تداوم پیدا کند.

با تولد فرزندان، خانواده توسعه می‌یابد و مستحکم می‌شود. به دنیا آمدن فرزندان، موجب نشاط و سرزندگی اعضای خانواده و دلگرمی پدر و مادر می‌شود. تولد فرزند، برای اعضای خانواده و خویشاوندان برکت‌ها و فواید زیادی دارد.

اولین شرط بقای هر جامعه‌ای، جمعیت آن است و بدون وجود جمعیت کافی در یک جامعه، فعالیت‌های آن دچار اختلال می‌شود. در صورتی که جمعیت یک جامعه منقرض گردد، آن جامعه نابود می‌شود و از بین می‌رود.



فعالیت

۱- در شهر یا روستای شما برای تولد نوزاد، چه آداب و رسومی اجرا می‌شود؟ پرس‌وجو کنید و این آداب و رسوم را با ذکر ارزش‌ها و عقایدی که برای انجام هر یک از آنها وجود دارد، توضیح دهید.

ب) حمایت و مراقبت

✱ محبت

نیاز به مهر و محبت یا نیاز عاطفی از نیازهای اساسی انسان است. خانواده مهم‌ترین کانون حمایت و مراقبت عاطفی از افراد است. مهر و محبت والدین به یکدیگر و به کودکان موجب آرامش در کانون خانواده می‌شود.

کودکان از سال‌های نخستین زندگی خود در آغوش گرم پدر و مادر با مهربانی و محبت آشنا می‌شوند و با پرورش یافتن در دامن آنها، مهربانی و از خودگذشتگی و نیکوکاری را می‌آموزند.

✱ مراقبت

اعضای خانواده از یکدیگر مراقبت می‌کنند.

نوزاد انسان در آغاز زندگی توانایی برطرف کردن نیازهای زیستی و بدنی خود را ندارد و برخلاف بسیاری از حیوانات، تا مدت زیادی پس از تولد همچنان ناتوان است. بنابراین، کودک برای ادامه زندگی خود به مراقبت نیاز دارد.

از سوی دیگر، انسان‌ها در دوره سالمندی نیز دچار ضعف و ناتوانی می‌شوند و بدون مراقبت، قادر نیستند خود را به خوبی اداره کنند. علاوه بر دوره کودکی و سالمندی، در میانه این دو دوره نیز اعضای خانواده در شرایط مختلف مانند بیماری یا حوادث به مراقبت از یکدیگر نیاز پیدا می‌کنند.



❖ رفع نیازهای مادی

اعضای خانواده به خوراک، پوشاک، مسکن و وسایل زندگی نیاز دارند. یکی از کارکردهای مهم خانواده، حمایت اقتصادی یا رفع نیازهای مادی اعضای خانواده است. رفع نیازهای مادی و اقتصادی خانواده برعهده سرپرست خانواده، یعنی پدر، است. هرچند امروزه در شهرها و روستاها، عده‌ای از زنان نیز دوش‌به‌دوش مردان با فعالیتهای اقتصادی و کسب درآمد در رفع نیازهای خانواده مشارکت و همراهی می‌کنند.

○ فعالیت

گفت‌وگو کنید

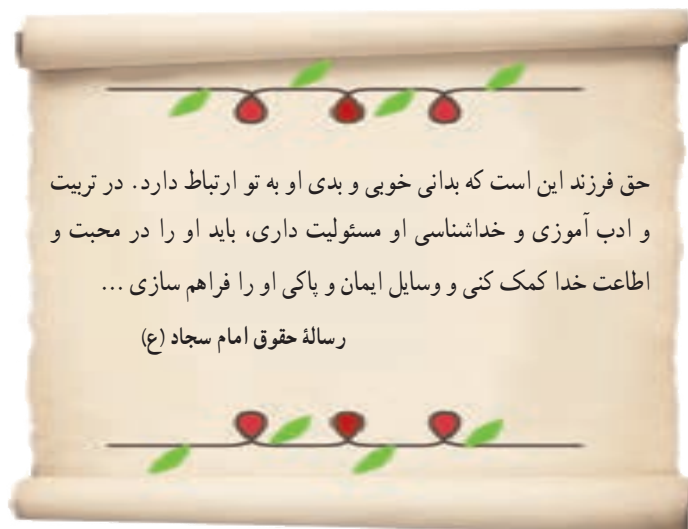
۲- امروزه مؤسساتی چون مهدکودک‌ها و خانه‌های سالمندان مراقبت از بعضی از اعضای خانواده را در دوره‌هایی از زندگی به عهده گرفته‌اند. به نظر شما مزایا و معایب مهدکودک‌ها و خانه‌های سالمندان چیست؟ چه دلایلی برای نظر خود دارید؟ با راهنمایی دبیر، بحث و گفت‌وگوی خود را جمع‌بندی کنید.

پ) جامعه‌پذیری و تربیت

هر فرد در جامعه‌ای متولد می‌شود و برای آنکه بتواند در جامعه زندگی کند، باید عقاید و ارزش‌ها و هنجارها و به عبارت دیگر، شیوه زندگی کردن در آن جامعه را بیاموزد. در درس گذشته خواندید که به این فرایند، «جامعه‌پذیری» یا «اجتماعی شدن» می‌گویند. اجتماعی شدن، هم نیاز فرد و هم نیاز جامعه است؛ زیرا هم باعث شکل‌گیری هویت و شخصیت افراد می‌شود و هم موجب تداوم جامعه می‌گردد. اگرچه اجتماعی شدن در سراسر زندگی فرد ادامه می‌یابد. اما مهم‌ترین مرحله آن، دوران اولیه زندگی فرد در خانواده است.



یکی از کارکردهای مهم و اساسی خانواده، تربیت اعضای خانواده است. والدین نه تنها مسئول رفع نیازهای عاطفی و زیستی و معیشتی فرزندان هستند بلکه وظیفه مهم تربیت اخلاقی، معنوی و دینی آنها را نیز بر عهده دارند. یک خانواده سالم می‌تواند در دامن خود فرزندانی مؤمن، پرهیزگار و پایبند به اصول اخلاقی تربیت کند.





خانواده‌ها به روش‌های مختلف اعضای خود را اجتماعی می‌کنند؛ برای مثال، والدین

- * دلایل خوبی و بدی رفتارها را برای فرزندان خود بازگو می‌کنند و عقاید، ارزش‌ها و هنجارهای جامعه را برای آنها شرح می‌دهند. (گفت‌وگو)
- * رفتارهای پسندیده فرزندان را تشویق و تحسین می‌کنند و با ابراز علاقه، قدردانی، خرید هدیه و مانند آن، فرزندان را به تقویت و تداوم آن رفتارها تشویق می‌کنند. (تشویق)
- * با نشان دادن نارضایتی، بی‌اعتنایی، خودداری از صحبت کردن با محبت و یا محروم کردن فرزندان از برخی مزایا و ... از تکرار رفتارهای ناپسند آنان جلوگیری می‌کنند. (تنبیه)

به نظر می‌رسد که والدین باید به تناسب شرایط و موقعیت‌ها از انواع این روش‌ها استفاده کنند.

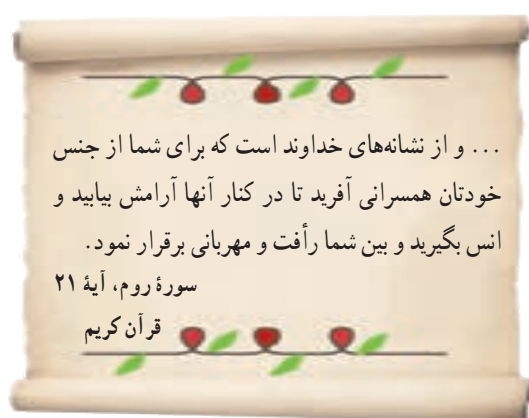
فعالیت

- ۳- یک برگه ثبت مشاهدات تهیه کنید. رفتار یک کودک در خانواده خودتان یا اطرافیان و خویشان، را به دقت در نظر بگیرید و مشاهده کنید. چند مورد از رفتارهایی را که او به طور غیرمستقیم (از راه تقلید و بدون آگاهی) و مستقیم (از راه آموزش) آموخته است، شناسایی و یادداشت کنید و در کلاس بگویید.
- ۴- روش‌های تربیتی و اصلاح رفتار را که در بالا نوشته شده است، بخوانید. به نظر شما در چه شرایطی باید از تشویق و تنبیه یا گفت‌وگو استفاده کرد؟ تجربه شما چیست؟ فکر می‌کنید کدام یک از این روش‌ها در مورد شما مؤثرتر است؟ چرا؟
- ۵- معلم برای جمع‌بندی این درس، این پرسش را روی تخته می‌نویسد: چرا خانواده نقش مهمی در جامعه دارد؟ هریک از شما نظر و برداشت خود را در یک بند بنویسید و سپس نوشته‌های خود را به نوبت، در کلاس بخوانید.

آرامش در خانواده

در درس گذشته با وظایف و کارکردهای خانواده آشنا شدید. اگر خانواده‌ای بتواند وظایف خود را به خوبی انجام دهد، می‌توان از آن به عنوان خانواده‌ای متعادل یاد کرد. به عکس، وقتی خانواده نتواند وظایف خود را به خوبی انجام دهد، دچار آسیب شده است. در چنین حالتی، رابطه خانواده با دیگر نهادهای جامعه نیز دچار مشکل می‌شود و در نهایت، آسیب به همه جامعه سرایت می‌کند. اولین گام در راه تشکیل یک خانواده متعادل و سالم، دقت در انتخاب همسر است.

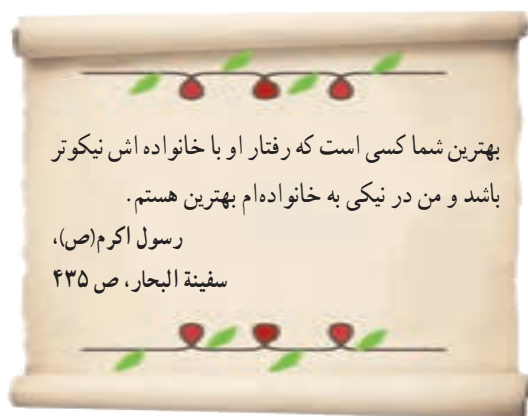
همسرگزینی



یکی از عواملی که موجب سازگاری و آرامش در خانواده می‌شود، انتخاب صحیح همسر است. اگر افراد در انتخاب همسر بر معیارهای نادرستی تکیه کنند، مثلاً فقط زیبایی ظاهری یا ثروت همسر خود را در نظر بگیرند، در زندگی خانوادگی با شکست روبه‌رو می‌شوند. برخی از صاحب‌نظران معتقدند که افراد در انتخاب همسر باید به تناسب و همگونی خود با طرف مقابل توجه کنند. هر چه افراد از نظر اعتقادات دینی، تحصیلات، اخلاق و روحیات و وضعیت خانوادگی با همدیگر هماهنگی داشته باشند، زندگی‌شان با دوام‌تر است. از دیدگاه اسلام، مهم‌ترین عاملی که باید در همسرگزینی به آن توجه کرد، ایمان و اعتقادات دینی افراد است.

اسلام همچنین بر اصالت خانواده تأکید کرده است؛ یعنی، فردی که به عنوان همسر انتخاب می‌شود، در خانواده‌ای صالح و اهل ایمان و تقوا پرورش یافته باشد.

در گذشته، خانواده‌ها نقش بیشتری در همسرگزینی فرزندان خود داشتند و از خانواده نوپا حمایت بیشتری می‌کردند. اگر امروزه نیز جوانان همسر خود را با همفکری و حمایت خانواده‌ها انتخاب و از تجربه‌های آنان استفاده کنند، از بروز بسیاری از ناسازگاری‌ها جلوگیری می‌شود.



سازگاری زن و شوهر در خانواده

معنی آیه قرآن کریم را بخوانید. همان‌طور که می‌بینید، از دیدگاه قرآن مهم‌ترین هدف ازدواج برقراری آرامش و محبت بین زن و مرد است. زن و مرد یکدیگر را کامل می‌کنند و می‌توانند در کنار هم به کمال برسند. وقتی زن و مرد با هم ازدواج می‌کنند و خانواده‌ای را تشکیل می‌دهند، حقوق و تکالیفی بر روابط آنها حاکم می‌شود؛ یعنی هریک نسبت به دیگری دارای حقوقی است و در مقابل، وظایف و تکالیفی نیز دارد.

متأسفانه، در برخی خانواده‌ها ناسازگاری‌هایی بین زن و مرد وجود دارد.

مهم‌ترین عواملی که موجب ناسازگاری زن و مرد می‌شوند، کدام‌اند؟



- انتخاب نادرست همسر یکی از عوامل مهم بروز ناسازگاری است.
- برخی زن و شوهرها از حقوق و تکالیف خود در زندگی خانوادگی شناخت کافی ندارند و یا آمادگی کافی و شایستگی لازم را برای انجام تکالیف خانوادگی به دست نیاورده‌اند.
- زن و مرد در دو خانواده و دو محیط جداگانه تربیت و پرورش یافته‌اند. به عبارت دیگر، فرایند اجتماعی شدن آنها با هم متفاوت بوده و بر این اساس، ممکن است هنجارها و ارزش‌های متفاوتی داشته باشند.
- بین افراد تفاوت‌های فردی وجود دارد. گاهی حتی دو نفر که در یک خانواده بزرگ شده‌اند، سلیقه‌ها و خلق و خوی متفاوتی دارند. اختلاف سلیقه بین همه افراد وجود دارد اما گاهی ممکن است به مشاجره و کشمکش‌های مخرب تبدیل شود.
- گاهی بین نقش‌هایی که فرد باید ایفا کند تعارض به وجود می‌آید؛ برای مثال، خانمی که شاغل است، هم وظیفه شغلی دارد و باید ساعاتی را در بیرون از منزل بگذراند و هم وظایف مادری و همسری برعهده اوست و می‌خواهد این وظایف را نیز به خوبی انجام دهد. پس با دشواری‌هایی روبه‌رو می‌شود.

چگونه می‌توان از بروز ناسازگاری‌ها جلوگیری کرد؟



- همه اختلاف سلیقه‌ها مخرب نیستند. گاهی جرو بحث بین زن و شوهر، طبیعی است. امکان ندارد که زن و شوهر کاملاً مانند یکدیگر باشند اما مهم است که یاد بگیرند اختلاف سلیقه‌هایشان را حل و فصل و برای آنها چاره‌اندیشی کنند. برخی از کارهایی که به سازگاری زن و شوهر کمک می‌کند، عبارت‌اند از:
- گذراندن آموزش‌های خانواده قبل از ازدواج
 - مشاوره با افراد دارای صلاحیت در زمینه همسرگزینی
 - رعایت اخلاق و آداب همسرمداری
- خوش خلقی، احترام گذاشتن به همسر و رعایت ادب، با الفاظ نیکو وی را صدا زدن، قدردانی کردن از زحمات همسر، گذشت کردن، بهانه‌جویی نکردن و نادیده گرفتن مسائل بی‌اهمیت، پذیرفتن اشتباه خود، عذرخواهی کردن و جبران اشتباه.
- گفت‌وگوی صمیمانه زن و شوهر برای حل مشکلات و پیدا کردن راه‌حل‌های مناسب؛ برای مثال، تقسیم کار و همکاری بیشتر اعضای خانواده در امور خانه، زمانی که مادر شاغل است.

سازگاری والدین و فرزندان

همان‌طور که گفتیم، یکی از عواملی که موجب امنیت و ثبات خانواده و گرمی و نشاط آن می‌شود، وجود فرزندان است.

تعداد مناسب فرزندان

یکی از نکات مهمی که هر خانواده باید به آن توجه کند، تعداد مناسب فرزندان است.

امروزه صاحب‌نظران معتقدند «تک‌فرزندی» هم برای خانواده و هم برای اجتماع پیامدهای نامطلوبی دارد.

برخی روان‌شناسان معتقدند که در خانواده‌هایی که چند فرزند دارند، تجربه اجتماعی شدن و رشد اجتماعی کودکان افزایش می‌یابد. در این خانواده‌ها، کودکان همبازی دارند و رقابت‌ها و بازی‌ها و دعواهای کودکان و همچنین الگوبرداری از رفتارهای خواهر و برادر شکل می‌گیرد و کودکان مجبور نیستند همواره با افراد بزرگسال، در ارتباط باشند. همچنین، افرادی که برادر و خواهر دارند، در آینده از لذت ارتباطات وسیع‌تر خانوادگی و حمایت و محبت برادر و خواهر محروم نمی‌شوند و فرزندانشان نیز از داشتن عمو و خاله و دایی و عمه، برخوردار خواهند بود.



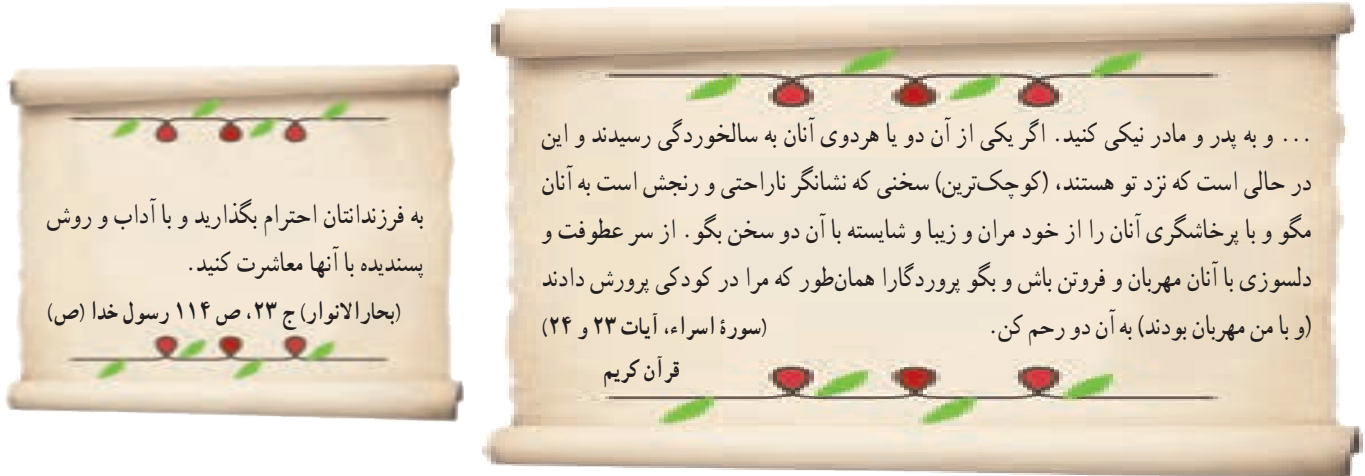
بنابراین، خانواده‌هایی که والدین توانایی لازم برای تربیت مناسب فرزندان را دارند، شایسته است تعداد بیشتری فرزند داشته باشند. کاهش فرزندآوری در خانواده‌ها پیامدهای منفی نیز برای جامعه دارد.



❓ در فصل چهارم با پیامدهای کاهش رشد جمعیت و سیاست‌های جمعیتی* که برخی کشورهای جهان برای افزایش فرزندآوری اتخاذ کرده‌اند، آشنا شدید. در دو دهه اخیر، در کشور ما نرخ باروری کل* همواره سیر نزولی داشته و بنا بر برخی آمارها، از ۲/۹ در سال ۱۳۷۵ به ۱/۷ در سال ۱۳۹۲، کاهش پیدا کرده است. از نظر سازمان بهداشت جهانی*، اگر نرخ باروری در کشوری به زیر ۲ برسد، تهدیدی برای آن کشور محسوب می‌شود؛ زیرا آن کشور با خطر پیری و جایگزین نشدن جمعیت روبه‌رو خواهد شد.

حقوق و تکالیف والدین و فرزندان

همان‌طور که با تشکیل خانواده، حقوق و تکالیفی بر روابط زن و شوهر حاکم می‌شود، با تولد فرزندان نیز حقوق و تکالیف متقابلی بین والدین و فرزندان به وجود می‌آید.



به فرزندان احترام بگذارید و با آداب و روش
پسندیده با آنها معاشرت کنید.
(بحار الانوار) ج ۲۳، ص ۱۱۴ رسول خدا (ص)

... و به پدر و مادر نیکی کنید. اگر یکی از آن دو یا هر دو آنان به سالخوردگی رسیدند و این
در حالی است که نزد تو هستند، (کوچک‌ترین) سخنی که نشانگر ناراحتی و رنجش است به آنان
مگو و با پرخاشگری آنان را از خود مران و زیبا و شایسته با آن دو سخن بگو. از سر عطف و
دلسوزی با آنان مهربان و فروتن باش و بگو پروردگارا همان‌طور که مرا در کودکی پرورش دادند
(و با من مهربان بودند) به آن دو رحم کن.
(سوره اسراء، آیات ۲۳ و ۲۴)
قرآن کریم

در درس قبل خواندید که پدر و مادر مکلف اند سرپرستی کودک را به عهده بگیرند و نیازهای او را رفع کنند.
فرزندان نیز باید در هر حال، به پدر و مادرشان احترام بگذارند. فرزندى که پدر و مادر از او راضى نباشند، از رحمت خدا دور
مى‌شود. اطاعت از والدین، رعایت اخلاق خوش و خودداری از بی‌احترامی به آنها در هر شرایط واجب است. اطاعت از والدین تنها
در صورتی جایز نیست که به گناه و نافرمانی از خدا دستور دهند.

چه عواملی موجب ناسازگاری والدین و فرزندان می‌شوند؟



گفت‌وگوی مشاور مدرسه با دانش‌آموزان درباره حقوق و تکالیف
والدین و فرزندان

- گاه در مراحل از زندگی، والدین و فرزندان انتظارات یکدیگر را برآورده نمی‌کنند. کودکان با رسیدن به بلوغ و بزرگ‌تر شدن، تغییر می‌کنند و می‌خواهند نقش فعال‌تری در اجتماعی شدن خود داشته باشند، اما ممکن است پدر و مادر این تغییرات را جدی نگیرند. بنابراین، معمولاً از نوجوانان شنیده می‌شود که «پدر و مادر مرا درک نمی‌کنند» یا «هنوز فکر می‌کنند من بچه‌ای کوچک هستم».
- فرزندان در دوران زندگی خود با محیط‌ها و افراد دیگری به جز خانه و خانواده آشنا می‌شوند. آنها در محله و مدرسه دوستانی پیدا می‌کنند و با شیوه‌های دیگری غیر از آنچه در خانواده آموخته‌اند، آشنا می‌شوند. نوجوانان به شدت تحت تأثیر دوستان و گروه همسالان و فشار هنجاری آنها قرار می‌گیرند و حقوق والدین را ادا نمی‌کنند. این اختلاف ارزش‌ها و هنجارهای خانه با سایر محیط‌ها، ممکن است



موجب ناسازگاری شود. والدین معمولاً نسبت به روبه‌رو شدن جوانان با محیط‌های دیگر حساس‌اند. آنها از اینکه بچه‌ها تجربه کافی ندارند و ممکن است به مشکلات اخلاقی دچار شوند، نگران‌اند و حق دارند بر رفت و آمد فرزندان و معاشرت‌های آنها نظارت دقیق داشته باشند.

● در جوامع صنعتی امروز پدر و مادرها وقت کمتری را به گفت‌وگو با فرزندان نوجوان خویش اختصاص می‌دهند.

چگونه می‌توان از بروز ناسازگاری‌ها جلوگیری کرد؟



اختلاف نظر و سلیقه والدین و فرزندان تا حدی قابل قبول است و اگر به خوبی مدیریت شود، به رشد و کمال اعضای خانواده می‌انجامد. در غیر این صورت به خانواده و جامعه آسیب می‌رساند.

به نظر می‌رسد پدر و مادر موظف‌اند برای گفت‌وگو با فرزندان وقت بگذارند و یکسره خود را به کار و فعالیت‌های روزانه مشغول نکنند.

ترتیب دادن جلساتی با حضور والدین و مشاوران خبره که در آن فرزندان و والدین بتوانند مسائل خود را بگویند، مفید است.



فعالیت

- ۲- کاربرگه شماره (۱۵) سازگاری والدین و فرزندان را انجام دهید.
- ۳- فعالیت شماره ۲ «به کار بیندیم» را در مدرسه انجام دهید.
- ۴- به نظر صاحب نظران، تک‌فرزندی چه پیامدهای نامطلوب فردی و اجتماعی دارد؟
- ۵- کاهش نرخ باروری در کشور ما در آینده چه پیامدهای نامطلوبی دارد؟ دست‌کم به سه مورد اشاره کنید.

مدیریت مشکلات و حوادث در خانواده

زندگی خانوادگی، یک دوره طولانی یعنی از ازدواج تا پایان عمر را دربرمی گیرد. در این دوره، ممکن است مشکلات گوناگون از قبیل بیکاری، فقر، بیماری شدید و طولانی، فوت یکی از اعضای خانواده یا معلولیت کودک پیش بیاید و شرایط دشواری را برای خانواده به وجود بیاورد و حتی ارکان خانواده را دچار تزلزل کند.

در چنین مواقعی، اعضای خانواده باید با توکل به خدا، صمیمیت و همکاری بین خود را بیشتر کنند و با درپیش گرفتن صبر و شکیبایی و دعوت یکدیگر به صبر، این مشکلات و حوادث را مدیریت کنند و نگذارند که خانواده دچار بحران شود و آسیب ببیند. موقعیت‌های ۱ و ۲ و ۳ را بخوانید. در هر یک از آنها خانواده‌ها برای مقابله با مشکلات چه تدبیرهایی اندیشیده‌اند؟



۱

خانواده‌ای را در نظر بگیرید که در آن پدر بنا به دلایلی دچار مشکلات اقتصادی شده است و با وجود تلاشی که می‌کند، درآمد کافی ندارد و نمی‌تواند هزینه‌های زندگی را به خوبی تأمین کند. به نظر شما در این شرایط وظیفه اعضای خانواده چیست؟ اعضای خانواده باید چه تغییری در سطح توقعات و خواسته‌های خود به وجود آورند؟

صلهٔ ارحام



در دین اسلام به صلهٔ ارحام سفارش و امر شده است. واژه «صله» از وصل گرفته شده و به معنای اتحاد و پیوستگی است و «ارحام» یعنی خویشان و نزدیکان. صلهٔ ارحام از آن دسته واجباتی است که فواید زیادی در آن نهفته است. در فقه اسلامی، کمک کردن به ارحام و خویشاوندان نسبت به دیگران اولویت دارد. منظور از صلهٔ ارحام این است که افراد به دیدار خویشاوندان خود بروند و از یکدیگر خبر بگیرند. البته صلهٔ ارحام تنها به دید و بازدید خلاصه نمی‌شود و این دید و بازدیدها باید با مهر و محبت توأم باشند. کمک مالی به خویشاوندان نیز جزء صلهٔ ارحام محسوب می‌شود. در مواردی که افراد نداری دارند یا می‌خواهند زکات یا صدقه و... بدهند، اگر در بین خویشاوندان آنها نیازمندی وجود داشته باشد، باید او را بر دیگران مقدم بدانند.

۳



... دو سال پیش، پدر بزرگ من فوت کرد و مادر بزرگم تنها ماند. به دلیل پیری و بیماری، او دیگر نمی‌توانست در خانه تنها بماند و کارهایش را خودش انجام بدهد. پدر و عموهایم با همفکری برای حل این مشکل برنامه‌ریزی کردند. آنها قرار گذاشتند که در هفته به نوبت به مادر بزرگ سر بزنند و خریدهای او را انجام دهند. هر شب نیز یک نفر در خانه او بخوابد. پدرم همیشه می‌گوید: «ما هم روزی پیر می‌شویم و به کمک نیاز داریم.» ما سعی می‌کنیم با محبت کردن و احترام گذاشتن به مادر بزرگم او را خوشحال کنیم.

۲



... پسردایی من نادر، دچار معلولیت است و برای انجام دادن کارهای روزانه مشکلاتی دارد. دایی من و دیگر اعضای خانواده او این موضوع را پذیرفته‌اند و می‌دانند که برای مقابله با این مشکل، باید بیشتر تلاش و همکاری کنند. آنها با صبوری در انجام کارهای روزانه به نادر کمک می‌کنند. در تفریح‌ها و سرگرمی‌هایشان او را مشارکت می‌دهند و نمی‌گذارند اعتماد به نفسش ضعیف شود. من روحیه عالی آنها را تحسین می‌کنم و از صبوری‌شان درس می‌گیرم.



فعالیت

- ۶- اگر مواردی از مدیریت درست مشکلات و حوادث در خانواده خود یا خویشان و آشنایان سراغ دارید، در کلاس بیان کنید.
- ۷- فواید صله ارحام برای خانواده‌ها چیست؟
- ۸- اصل دهم قانون اساسی را در درس ۲۲، صفحه ۱۵۳، بخوانید. چرا چنین اصلی را در قانون اساسی کشور ما قرار داده‌اند؟
- ۹- چگونه بیمه شدن اعضای خانواده در امور مختلف می‌تواند به رفع مشکلات و آرامش بیشتر خانواده‌ها کمک کند؟ با راهنمایی معلم چند نمونه بیان کنید.



نهاد اجتماعی: نهاد اجتماعی عبارت است از نظام سازمان یافته‌ای از روابط اجتماعی که ارزش‌ها و هنجارهای معینی را در برمی‌گیرد و به منظور برطرف کردن یکی از نیازهای اساسی افراد و جامعه به وجود می‌آید. خانواده، حکومت، تعلیم و تربیت و اقتصاد مهم‌ترین نهادهای اجتماعی هستند.

کارکرد: در لغت به معنای انجام یک وظیفه، خدمت و کار است و در اصطلاح، به اثر و فایده‌ای می‌گویند که یک پدیده در زندگی افراد و جامعه دارد.

سیاست‌های جمعیتی: مجموعه تصمیماتی است که حکومت‌ها برای افزایش یا کاهش جمعیت در کشور خود اتخاذ می‌کنند.

نرخ باروری کل: میانگین تعداد فرزندانی که یک زن در دوره باروری به دنیا می‌آورد. این شاخص به ازای هر هزار زن محاسبه می‌شود.

سازمان بهداشت جهانی: یکی از زیر مجموعه‌های سازمان ملل متحد که وظیفه آن مبارزه با بیماری‌ها، مخصوصاً بیماری‌های واگیردار و بالابردن سلامت جسمی و روانی مردم جهان است.

به کاربندیم

- ۱- برای قدردانی از یک یا چند نفر از اعضای خانواده خود (پدر، مادر، برادر و خواهر) طرحی تهیه کنید. درباره زمان مناسب و شیوه قدردانی فکر کنید و ابتکاری به خرج دهید. طرح خود را بنویسید و به معلم بدهید. سپس آن را به اجرا در آورید.
- ۲- با راهنمایی و کمک معلم و مسئولان مدرسه و دعوت از کارشناس خبره، جلسه‌ای با حضور اولیا و دانش‌آموزان داوطلب تشکیل دهید و در آن، علل ناسازگاری‌های اجتماعی والدین و فرزندان و راهکارهای مربوط به آن را به بحث و گفت‌وگو بگذارید. قبل از تشکیل جلسه فکر کنید و مواردی را که موجب ناسازگاری والدین و فرزندان می‌شود، بنویسید.
- ۳- با اعضای خانواده خود در روزهای تعطیل آخر هفته به دیدن یکی از سالمندان خانواده بروید و از وی قدردانی کنید.

حکومت و مردم

فصل

اگر به زندگی روزانه خود و افراد جامعه دقت کنید، پی می‌برید که بسیاری از اموری که با آنها سرو کار داریم، از رفع نیازهای اقتصادی گرفته تا آموزش و بهداشت و قوانین و امنیت و گذران اوقات فراغت، همه چیز با سیاست‌ها و برنامه‌های حکومت پیوند خورده است.

پیوند و رابطه مردم و حکومت را می‌توان به کشتی و کشتی‌بان یا ناخدا تشبیه کرد. مسافران کشتی به‌سوی مقصدی حرکت می‌کنند و در مسیر، عواملی چون امواج طوفان و دزدان دریایی کشتی را تهدید می‌کند.

در بخش‌های مختلف کشتی، ناخدا، سکان‌دار، ملوان‌ها، کارگران موتورخانه، آشپزها و خدمتکاران هر یک نقش و وظایفی برای خدمت‌رسانی به مسافران بر عهده گرفته‌اند.

در صورتی که ناخدا بتواند کشتی را خوب هدایت کند و هماهنگی لازم را میان بخش‌ها به‌وجود بیاورد و هر بخش وظیفه خود را به‌درستی انجام دهد، کشتی مسیرش را به‌سلامت طی می‌کند و مسافران را سالم به مقصد می‌رساند.

موضوع این فصل رابطه متقابل حکومت و مردم است.



شما با مطالعه این فصل و انجام دادن فعالیت‌های آن به پاسخ پرسش‌های زیر پی می‌برید:

- ۱- چرا به حکومت نیاز داریم؟
- ۲- دیدگاه اسلام درباره حکومت چیست؟
- ۳- کشور ما چه نوع حکومتی دارد و ارکان آن کدام‌اند؟
- ۴- حقوق و تکالیف شهروندی ما کدام‌اند؟

نیاز به حکومت

شما پیش از این در درس تاریخ با حکومت‌ها و سلسله‌های مختلف آشنا شده‌اید. آیا تاکنون فکر کرده‌اید که چرا حکومت‌ها پدید آمده‌اند و آیا جامعه‌ای می‌تواند بدون نهاد حکومت به حیات خود ادامه دهد؟

صاحب‌نظران معتقدند همان‌طور که زندگی اجتماعی یک ضرورت است و انسان‌ها نمی‌توانند به تنهایی زندگی کنند و نیازهای مادی و معنوی خود را برطرف کنند، داشتن حکومت نیز برای یک جامعه یک ضرورت است. و هیچ جامعه‌ای نمی‌تواند بدون وجود حکومت باقی بماند؛ زیرا در زندگی اجتماعی نیازهای مشترکی وجود دارد و افراد برای تنظیم امور خود به قوانین و مقرراتی نیاز پیدا می‌کنند. آنها همچنین برای اجرای قوانین و حل اختلافات، برقراری امنیت و نظم، ایجاد هماهنگی میان فعالیت‌های مختلف جامعه و دفاع از هجوم دشمنان ناگزیرند حکومتی تشکیل دهند و اداره امور جامعه را به افرادی بسپارند. بنابراین بدون نهاد حکومت، جامعه دچار اختلال و هرج و مرج می‌شود.

وظایف حکومت

امروزه نوع حکومت‌ها در جوامع مختلف با هم فرق دارد اما همه حکومت‌ها کم‌وبیش وظایف مشابهی برعهده دارند. اگر چه ممکن است برخی از آنها وظایف خود را به‌درستی انجام ندهند.

برخی از مهم‌ترین وظایف حکومت‌ها عبارت‌اند از :



- وضع قوانین و مقررات لازم در امور مختلف
- اجرای قوانین
- برقراری نظم و امنیت
- رسیدگی به اختلافات و شکایات‌ها
- تعلیم و تربیت
- حفظ میراث فرهنگی
- سیاست‌گذاری فرهنگی
- عمران و آبادانی کشور
- ایجاد وسایل و امکانات لازم برای رفع نیازهای معیشتی، اجتماعی و اقتصادی مردم
- ایجاد هماهنگی بین فعالیت‌های مختلف اقتصادی و اجتماعی
- دفاع از کشور و حفظ تمامیت ارضی*
- مدیریت منابع طبیعی و ثروت‌هایی که به عموم مردم تعلق دارند؛
- حمایت از گروه‌های خاص و نیازمند مانند کودکان بی‌سرپرست، معلولان و ازکارافتادگان.

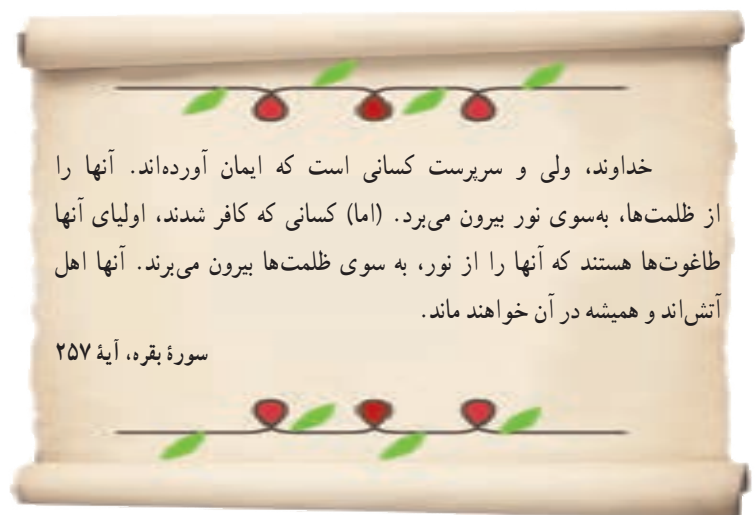
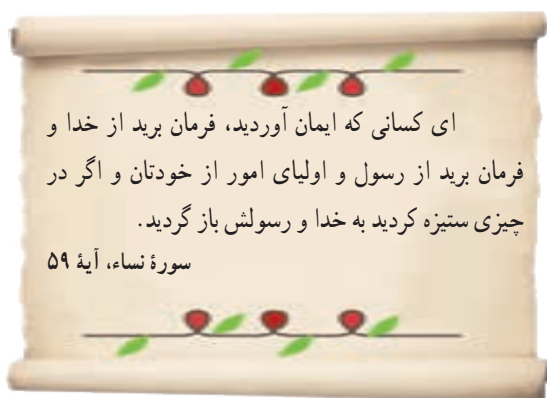
۱- با توجه به آنچه در سال های قبل درباره قوه مقننه، قضاییه و مجریه خوانده اید، چند مورد از مهم ترین وظایف حکومت را که در صفحه قبل نوشته شده، انتخاب کنید و بگویید از وظایف کدام قوه است.

اسلام و حکومت

سال گذشته در درس تاریخ خواندید که پیامبر اکرم ﷺ پس از هجرت از مکه به مدینه، در آنجا حکومت اسلامی تشکیل داد. پس از رحلت پیامبر ﷺ به ترتیب ابوبکر، عمر، عثمان و علی (علیه السلام) زمامداری جامعه را برعهده گرفتند. همچنین با ویژگی های حکومت امام علی (علیه السلام) و نیز منشور حکومتی ایشان در نامه شان به مالک اشتر و توصیه هایی که در امر زمامداری جامعه به کارگزاران حکومتی داشتند، آشنا شدید. آیا می توانید چند نمونه از این ویژگی ها و توصیه ها را به خاطر بیاورید و بیان کنید؟

اسلام وجود حکومت را برای جامعه ضروری می داند اما درباره ماهیت حکومت و اینکه چه کسانی، چگونه و با چه قوانینی بر مردم حکومت کنند، دیدگاهی دارد که باید به آن توجه کرد.

حق حاکمیت الهی



در جهان بینی توحیدی اسلام، حق مالکیت مطلق همه موجودات و پدیده های جهان فقط از آن خداست. انسان ها و همه موجودات دیگر تحت حاکمیت خدا قرار دارند و با پیروی از دستورات الهی، به سوی کمال حرکت کنند. در جامعه ای که تحت حاکمیت قوانین الهی است، استعداد های انسان ها در پرتو شناخت حق شکوفا می شود. در چنین جامعه ای مالکیت و سلطه اقلیتی بر منابع و ثروت ها و امکانات عمومی و ظلم و تبعیض از میان می رود و عدالت حاکم می شود.

بنابراین، از دیدگاه اسلام تقسیم جامعه به گروه‌های حاکم و محکوم، ارباب و بنده و یا دادن حق حکومت و قانون‌گذاری به یک فرد یا یک طبقه، ظلم است و برای اداره امور جامعه، فقط آن گروه از مردم شایستگی دارند به نیابت و وکالت از جانب خدا، مجری قوانین الهی باشند که هم از این قوانین آگاهی و به آن ایمان داشته باشند و هم از نظرتقوا و عدالت از دیگر مردم بالاتر باشند. در رأس این گروه، پیامبران الهی و سپس جانشینان آنها یعنی امامان معصوم علیهم‌السلام قرار دارند و در غیاب آنان، افراد صالح و متقی ادامه دهنده راه آنها هستند.

○ فعالیت

- ۲- چرا حق حاکمیت بر انسان‌ها از آن خداست؟
- ۳- با مطالعه آیات قرآن کریم در صفحه قبل، دیدگاه اسلام را درباره ماهیت حکومت بیان کنید.

حکومت در کشور ما


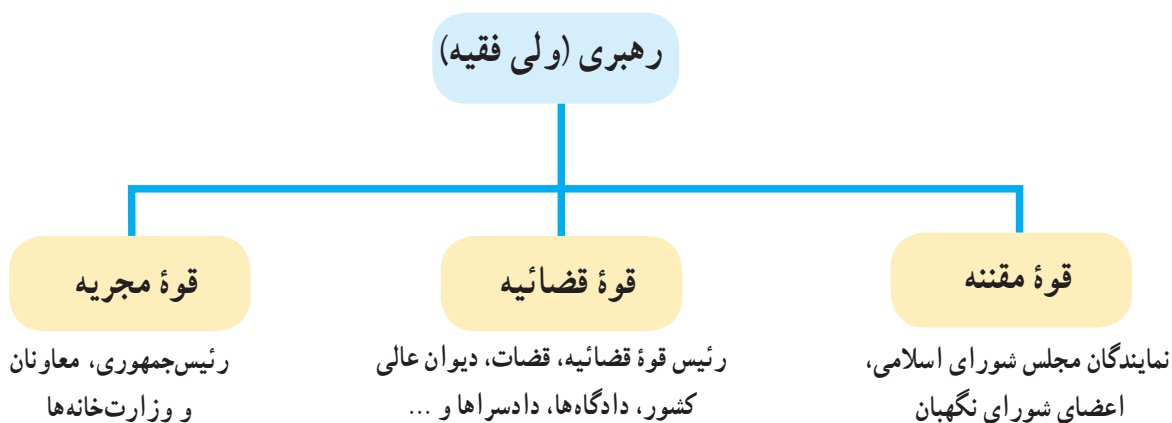
همان‌طور که در فصل هشتم خواندید. پس از پیروزی انقلاب اسلامی، حکومت جمهوری* اسلامی در ایران تأسیس و جانشین حکومت شاهنشاهی شد. بنیان‌گذار این نوع حکومت امام خمینی (قُدَس سِرُّهُ) است. کلمه «جمهوری» نشان می‌دهد که شکل این حکومت، جمهوری است و در آن حق انتخاب و مشارکت مردم در حکومت به رسمیت شناخته می‌شود. کلمه «اسلامی» نیز یعنی محتوای این حکومت اسلامی است و کشور با اصول و قوانین اسلامی اداره می‌شود. زمامداران آن نیز باید مؤمن و معتقد به اسلام و متعهد به اجرای آن باشند.

ارکان حکومت در جمهوری اسلامی ایران

بر طبق قانون اساسی، مهم‌ترین رکن حکومت جمهوری اسلامی رهبری آن است و سه قوه مقننه، قضائیه و مجریه تحت نظارت رهبری به اداره امور کشور می‌پردازند. رهبری در جمهوری اسلامی ایران بر پایه «ولایت فقیه» است.



ولایت به معنای سرپرستی است. گفتیم که از دیدگاه اسلام، فقط خدا می تواند بر انسان ها ولایت و حاکمیت داشته باشد. پیامبران و امامان معصوم علیهم السلام نیز از طرف خداوند نمایندگی داشته اند که مردم را سرپرستی کنند. بر طبق اصل پنجم قانون اساسی، در زمان غیبت امام زمان (عجل الله تعالی فرجه الشریف) سرپرستی جامعه اسلامی بر عهده فقیه عادل و باتقوا، آگاه به زمان، شجاع، مدیر و مدبر است.



سال گذشته با نقش ها و وظایف سه قوة مقننه، مجریه و قضائیه آشنا شدید.

اختیارات و وظایف رهبر

بر طبق قانون اساسی، برخی از مهم‌ترین وظایف و اختیارات رهبر جمهوری اسلامی عبارت‌اند از:



* تعیین سیاست‌های کلی نظام و نظارت بر حسن اجرای آنها

* فرماندهی کل نیروهای مسلح

* نصب و عزل و قبول استعفای فقهای شورای نگهبان، رئیس قوه قضائیه، رئیس سازمان صداوسیما

جمهوری اسلامی ایران و فرماندهان نیروهای نظامی، انتظامی و سپاه پاسداران انقلاب اسلامی ...

* عفو یا تخفیف مجازات محکومان در حدود موازین اسلامی ...



برای اطلاع از سایر وظایف رهبر، به اصل ۱۱۰ قانون اساسی مراجعه کنید.

در نظام جمهوری اسلامی علاوه بر رهبری و قوای سه گانه، نهادهای ویژه دیگری در اعمال حاکمیت مشارکت دارند.^۱

۱- از جمله این نهادها می‌توان به مجلس خبرگان رهبری، مجمع تشخیص مصلحت نظام، شورای عالی امنیت ملی و شورای عالی انقلاب فرهنگی اشاره کرد.

● شوراهای اسلامی شهر و روستا

از آنجا که نوع حکومت در کشور ما جمهوری است و مردم باید در همه شئون حکومت نقش و مشارکت داشته باشند، در قانون اساسی تشکیل شوراهای اسلامی روستا، شهر، شهرستان و استان مورد توجه قرار گرفته است. اعضای این شوراها را مردم منطقه یا محل انتخاب می کنند.

شوراهای اسلامی با هدف همکاری مردم برای پیشبرد برنامه های اجتماعی، فرهنگی، اقتصادی و عمرانی با توجه به شرایط و مقتضیات هر منطقه از کشور تشکیل می شوند.



شورای اسلامی شهر تهران

○ فعالیت

۴- حکومت جمهوری اسلامی چه ویژگی هایی دارد؟ ویژگی های رهبر در حکومت جمهوری اسلامی کدام اند؟ توضیح دهید.

۵- در روزنامه ها یا مجلات، یک یا چند مورد از توصیه های رهبر جمهوری اسلامی ایران به کارگزاران حکومتی را درباره امور مختلف کشور جست و جو کنید و بنویسید. در صورتی که به اینترنت دسترسی دارید، می توانید به پایگاه اطلاع رسانی دفتر مقام معظم رهبری یا پایگاه اطلاع رسانی حفظ و نشر آثار حضرت آیت الله خامنه ای به نشانی «farsi.khamenei.ir» و «www.leader.ir» مراجعه کنید.

پس از جمع آوری گزیده سخنان مقام معظم رهبری، آنها را روی یک تابلو نمایش دهید.

حقوق و تکالیف شهروندی

شهروندی

دانستید که هر جامعه برای اداره امور عمومی و مشترک خود به نهاد حکومت نیاز دارد. وقتی نهاد حکومت در یک جامعه شکل می‌گیرد، روابط متقابلی بین مردم و حکومت پدید می‌آید. واژه «شهروندی» به همین روابط متقابل مردم و حکومت اشاره دارد. شهروندی ارتباطی است که افراد را به یک حکومت مشخص پیوند می‌دهد و در نتیجه برای فرد و حکومت، حقوق و تکالیفی ایجاد می‌شود. در روابط مردم با حکومت، شهروندان از حقوقی برخوردارند. حکومت مکلف است به آن حقوق احترام بگذارد و آنها را رعایت کند. وقتی از حقوق شهروندان سخن می‌گوییم، در واقع وظایف و تکالیف حکومت را نسبت به مردم بیان می‌کنیم. از سوی دیگر، حکومت نیز حقی دارد و شهروندان موظف‌اند تکالیف خود را نسبت به کشور و حکومتی که تحت نظارت آن زندگی می‌کنند، ادا نمایند. قوانین هر کشور به ویژه قانون اساسی آن، حقوق و تکالیف شهروندی را معین می‌کند. بنابراین حقوق و تکالیف شهروندی متناسب با قوانین بوده و از کشوری به کشور دیگر فرق می‌کند. هرچند امروزه شباهت‌های زیادی نیز در حقوق و تکالیف شهروندی در جوامع مختلف مشاهده می‌شود.

حقوق شهروندی

حقوق شهروندی طیف وسیعی از انواع حقوق سیاسی، اجتماعی، فرهنگی، اقتصادی و... را شامل می‌شود. در این بخش با برخی از انواع حقوق شهروندی بر پایه قانون اساسی جمهوری اسلامی ایران آشنا می‌شوید.

• حق برخورداری از عدالت قانونی

عدالت قانونی یعنی اینکه حکومت در وضع قوانین، اجرای قوانین و نظارت بر اجرای قوانین بین شهروندان تبعیض قائل نشود.

...امت‌های پیشین گرفتار و نابود شدند؛ زیرا وقتی اشراف آنها جرمی مرتکب می‌شدند آنها را از مجازات معاف می‌کردند، اما وقتی زبردستان آنها همان جرم را مرتکب می‌شدند آنها را به شدت مجازات می‌کردند.

پیامبر اکرم صلی الله علیه و آله
صحیح بخاری ج ۵



• حق برخورداری از عدالت قضایی

شهروندان حق دادخواهی دارند و هر کس می‌تواند به این منظور به دادگاه‌های صالح مراجعه کند. شهروندان حق دارند در همه دادگاه‌ها برای خود وکیل مدافع انتخاب کنند.

• حق برخورداری از رفاه و تأمین اجتماعی*

کلیه شهروندان حق دریافت خدمات عمومی به صورت برابر و عادلانه و در کوتاه‌ترین زمان ممکن را دارند. شهروندان حق دارند در مواردی مانند بیکاری، معلولیت، پیری، بازنشستگی، بی‌سرپرستی، از کار افتادگی و حوادث از تأمین اجتماعی بهره‌مند شوند. هر شهروند حق دارد به آموزش و پرورش، مراکز فرهنگی و ورزشی، آتش‌نشانی، پلیس و نظایر آن دسترسی آسان داشته باشد. شهروندان حق دارند در محیطی پاک و سالم و بدون آلودگی زندگی کنند و از خدمات و امکانات بهداشتی و درمانی مناسب، به بهترین وجه برخوردار شوند.

حکومت باید با برنامه‌ریزی مناسب، زمینه را برای رفع فقر و محرومیت و ایجاد شرایط مناسب زندگی فراهم کند.



• حق مشارکت سیاسی

مشارکت سیاسی یعنی اینکه هر شهروند بتواند در امور سیاسی جامعه دخالت کند و در سرنوشت کشور خود نقش داشته باشد. مشارکت سیاسی مردم ممکن است از راه‌های مختلفی چون شرکت در انتخابات، عضویت و همکاری در احزاب و انجمن‌های سیاسی، شرکت در راه‌پیمایی‌ها و تظاهرات صورت بگیرد.



در انتخابات، مردم ممکن است انتخاب کننده باشند و به منظور انتخاب کارگزاران سیاسی در انتخابات شرکت کنند و یا خود داوطلب نمایندگی و به دست گرفتن امور حکومت باشند که در این حالت مردم باید به آنها رأی دهند.

براساس قانون اساسی جمهوری اسلامی، مردم برای انتخاب برخی از کارگزاران مانند رئیس‌جمهور (رئیس قوه مجریه)، نمایندگان مجلس شورای اسلامی و یا اعضای شوراهای شهر و روستا به طور مستقیم به افراد مورد نظر خود رأی می‌دهند.

• در برخی موارد نیز انتخاب به صورت غیر مستقیم و با واسطه صورت می‌گیرد. برای مثال، در انتخاب رهبری، مردم اعضای مجلس خبرگان رهبری را انتخاب می‌کنند و به آنها رأی می‌دهند. سپس اعضای مجلس خبرگان که نمایندگان مردم هستند، رهبر را انتخاب می‌کنند.

• حقوق فرهنگی

برخی از حقوق فرهنگی که در قانون اساسی مورد تأکید قرار گرفته، عبارت‌اند از: حمایت از تشکیل خانواده و پاسداری از روابط خانوادگی، حمایت از تعلیم و تربیت شایسته، آزاد بودن استفاده از زبان‌های قومی و محلی در مطبوعات و رسانه‌های گروهی و تدریس ادبیات آنها در مدارس، در کنار زبان فارسی.



• تجاوز نکردن به منافع عمومی و حقوق دیگران

اصل چهارم قانون اساسی می‌گوید: هیچ کس نمی‌تواند اعمال حق خویش را وسیلهٔ اضرار به غیر یا تجاوز به منافع عمومی قرار دهد. به عبارت دیگر، شهروندان مجاز نیستند برای استفاده از حقوق خود به منافع عمومی زیان برسانند و حقوق دیگران را ضایع کنند.

مثال:

* همهٔ افراد حق انتخاب شغل دلخواه و کسب درآمد دارند اما فرض کنید فردی بخواهد در شهر و در حیاط خانهٔ خود دامداری ایجاد کند و دام پرورش دهد. از آنجا که این کار موجب آلودگی و ضرر رسیدن به بهداشت و سلامت ساکنان محله می‌شود و البته قانون نیز چنین اجازه‌ای را به وی نمی‌دهد، آن فرد مجاز به این کار نیست.

* همهٔ افراد، مالک اتومبیل خود هستند و حق دارند در جاده‌ها رانندگی کنند اما نباید با سرعت غیر مجاز حرکت کنند؛ زیرا این کار به جان دیگران آسیب می‌رساند.

۱- به کمک دبیر، قانون اساسی را به کلاس بیاورید (شما می‌توانید با مراجعه به پایگاه اینترنتی گروه مطالعات اجتماعی دفتر تألیف کتاب‌های درسی به نشانی <http://social.studies.dept.talif.sch.ir> متن کامل قانون اساسی را بارگیری (دانلود) و از آن استفاده کنید).

الف) با استفاده از قانون اساسی، توضیح اصول ۷ و ۲۰ را که در صفحه ۱۵۳ نوشته نشده است، بنویسید.
ب) در مقابل هریک از حقوق شهروندی که در این درس نوشته شده است، یک یا چند اصل قانون اساسی را که به آن مربوط می‌شود پیدا کنید و شماره آن را در کنار مطلب مربوط بنویسید.
(توجه: برخی از اصول قانون اساسی ممکن است دو یا چند مورد از حقوق شهروندی را پوشش دهند و برخی از حقوق نیز ممکن است چند اصل را شامل شوند).

تکالیف شهروندی

هر شهروند در قبال حقوق شهروندی، تکالیف و تعهداتی نیز دارد که برخی از مهم‌ترین آنها عبارت‌اند از:

• رعایت قانون و مقررات

یکی از تکالیف مهم شهروندان، احترام به قانون و رعایت آن است. نادیده گرفتن قانون یا سرپیچی و تخلف از آن موجب اختلال و هرج و مرج در جامعه می‌شود.
البته قانون وقتی جایگاه واقعی خود را در جامعه پیدا می‌کند که همه افراد، اعم از کارگزاران و مسئولان و مردم، آن را رعایت کنند و به آن پایبند باشند.

• همکاری با دولت

برنامه‌ها و اقدامات عمرانی، اقتصادی و اجتماعی حکومت‌ها زمانی ثمر می‌دهد و به هدف می‌رسد که شهروندان نسبت به پیشرفت کشور دلسوز و حساس باشند و با دولت مشارکت و همکاری کنند.

... دولت کارگزار ملت است و ملت کارفرمای دولت است.
هرچه بین ملت و دولت صمیمیت بیشتر و همدلی بیشتری باشد، کارها بهتر پیش خواهد رفت...
من این شعار را برای امسال انتخاب کردم:

دولت و ملت، همدلی و هم‌زبانی

از فرمایشات مقام معظم رهبری در پیام نوروزی سال



• پرداخت مالیات و عوارض

سال گذشته خواندید که دولت برای انجام دادن کارهای عمرانی و خدمت رسانی به مردم، به درآمد نیاز دارد. بخشی از درآمدهای دولت از راه مالیات و عوارض تأمین می‌شود.

مالیات مبلغی است که شهروندان بر اساس قانون و به صورت بلاعوض به دولت پرداخت می‌کنند تا صرف هزینه‌های عمومی کشور شود.

عوارض مبلغی است که شهروندان در مقابل دریافت خدمتی از دستگاه‌های اداری و دولتی، به آنها می‌پردازند؛ برای مثال، پولی که بابت امتیاز شمارگر (کنتور) آب و برق، صدور گواهی نامه رانندگی، عبور از بزرگراه‌ها یا وارد کردن کالا به کشور و مانند آن پرداخت می‌شود.

• دفاع از کشور

نیروهای نظامی و انتظامی برای تأمین امنیت کشور و حراست از مرزها و حفظ تمامیت ارضی تلاش و فداکاری می‌کنند اما دفاع از کشور در مقابل دشمنان در زمان صلح و جنگ، تکلیف همه شهروندان است.

عضویت در سازمان بسیج و انجام خدمت سربازی توسط پسران برای حفظ آمادگی دفاعی و ادای این تکلیف مهم انجام می‌گیرد.



علاوه بر حقوق و تکالیفی که در این درس گفته شد، مواردی نیز وجود دارد که هم حق و تکلیف مردم و هم حق و تکلیف حکومت محسوب می‌شود. امر به معروف و نهی از منکر از آن جمله است.

• امر به معروف و نهی از منکر

اصل ۸ قانون اساسی می‌گوید: در جمهوری اسلامی ایران دعوت به خیر، امر به معروف و نهی از منکر وظیفه‌ای است همگانی و متقابل بر عهده مردم نسبت به یکدیگر، دولت نسبت به مردم و مردم نسبت به دولت. شرایط و حدود و کیفیت آن را قانون معین می‌کند.

○ فعالیت

۲- گفت‌وگو کنید: با توجه به آنچه در درس تاریخ امسال خواندید، چند مورد از حقوق شهروندی را که در قانون اساسی جمهوری اسلامی ایران به رسمیت شناخته شده است، با حقوق مردم در دوره قاجاریه مقایسه کنید. از این مقایسه چه نتیجه‌ای می‌گیرید؟ مردم برای به دست آوردن حقوق شهروندی خود چه تلاش‌هایی کرده‌اند؟

۳- کار برگه شماره (۱۶) را کامل کنید.

۴- الف) منظور از حق برخورداری از تأمین اجتماعی چیست؟ توضیح دهید. ب) کدام اصل قانون اساسی کشور ما مربوط به حق تأمین اجتماعی است؟



گزیده اصول قانون اساسی

اصل ۶:

در جمهوری اسلامی ایران امور کشور باید به اتکای آرای عمومی اداره شود؛ از راه انتخابات: انتخاب رئیس جمهور، نمایندگان مجلس شورای اسلامی، اعضای شوراهای و نظایر اینها، یا از راه همه پرسی در مواردی که در اصول دیگر این قانون معین می گردد.

اصل ۳۴:

دادخواهی حق مسلم هر فرد است و هر کس می تواند به منظور دادخواهی به دادگاه های صالح رجوع نماید. همه افراد ملت حق دارند این گونه دادگاه ها را در دسترس داشته باشند و هیچ کس را نمی توان از دادگاهی که به موجب قانون حق مراجعه به آن را دارد منع کرد.

اصل ۲۰:

اصل ۳۲:

هیچ کس را نمی توان دستگیر کرد؛ مگر به حکم و ترتیبی که قانون معین می کند. در صورت بازداشت، موضوع اتهام باید با ذکر دلایل بلافاصله کتباً به متهم ابلاغ و تفهیم شود و حداکثر در مدت ۲۴ ساعت پرونده مقدماتی به مراجع صالحه قضایی ارسال و مقدمات محاکمه در اسرع وقت فراهم گردد. متخلف از این اصل طبق قانون مجازات می شود.

اصل ۳۸:

هرگونه شکنجه برای گرفتن اقرار و یا کسب اطلاع ممنوع است. اجبار شخص به شهادت، اقرار یا سوگند مجاز نیست و چنین شهادت و اقرار و سوگندی فاقد ارزش و اعتبار است. متخلف از این امر طبق قانون مجازات می شود.

اصل ۲۹:

برخورداری از تأمین اجتماعی از نظر بازنشستگی، بیکاری، پیری، از کار افتادگی، بی سرپرستی، در راه ماندگی، حوادث و سوانح، نیاز به خدمات بهداشتی و درمانی و مراقبت های پزشکی به صورت بیمه و غیره حقی است همگانی. دولت موظف است طبق قوانین از محل درآمدهای عمومی و مشارکت مردم، خدمات و حمایت های مالی فوق را برای یکپارچه افراد کشور تأمین کند.

اصل ۷:

اصل ۱۰:

از آنجا که خانواده واحد بنیادی جامعه اسلامی است، همه قوانین و مقررات و برنامه ریزی های مربوط باید در جهت آسان کردن تشکیل خانواده، پاسداری از قداست آن و استواری روابط خانوادگی بر پایه حقوق و اخلاق اسلامی باشد.

اصل ۲۸:

هر کس حق دارد شغلی را که بدان مایل است و مخالف اسلام و مصالح عمومی و حقوق دیگران نیست، برگزیند. دولت موظف است با رعایت نیاز جامعه به مشاغل گوناگون، برای همه افراد امکان اشتغال به کار و شرایط مساوی برای احراز مشاغل را ایجاد نماید.

اصل ۳۱:

داشتن مسکن متناسب با نیاز، حق هر فرد و خانواده ایرانی است. دولت موظف است با رعایت اولویت برای آنها که نیازمندترند، به خصوص روستائین و کارگران، زمینه اجرای این اصل را فراهم کند.

اصل ۳۵:

در همه دادگاه ها طرفین دعوی حق دارند برای خود وکیل انتخاب نمایند و اگر توانایی انتخاب وکیل را نداشته باشند باید برای آنها امکانات تعیین وکیل فراهم گردد.

اصل ۱۵:

زبان و خط رسمی و مشترک مردم ایران فارسی است. اسناد و مکاتبات و متون رسمی و کتب درسی باید با این زبان و خط باشد ولی استفاده از زبان های محلی و قومی در مطبوعات و رسانه های گروهی و تدریس ادبیات آنها در مدارس، در کنار زبان فارسی آزاد است.



طاغوت : این واژه در قرآن کریم آمده است. طاغوت از «طغیان» به معنای تعدی و تجاوز از حد و مرز است و مراد از آن، خدایان دروغین، حاکمان ستمگر، بت‌ها و هر معبودی غیر از پروردگار یکتاست.

جمهوری : حکومت غیر پادشاهی و غیرموروثی، نوعی حکومت که در آن مردم با رأی مستقیم و غیرمستقیم، مسئولان اداره کشور را برمی‌گزینند و افراد منتخب براساس قانون، اختیارات معینی دارند.

تأمین اجتماعی : هر نوع برنامه حمایت اجتماعی که به موجب قانون یا قرارداد برقرار می‌شود و هدف آن تأمین میزانی از درآمد مالی برای افرادی است که با مشکلاتی چون بیکاری، بازنشستگی، از کار افتادگی و مانند آن مواجه شده‌اند.

تمامیت ارضی : یعنی قلمرو یک کشور تجزیه‌ناپذیر است و مرزهای آن باید از حمله و تجاوز هر گروه یا کشور دیگر مصون بماند و کل سرزمین حفظ شود.

به کار بندیم

- ۱- به‌طور گروهی پوستری طراحی کنید که یکی از حقوق شهروندی و یک تکلیف مربوط به آن را نشان بدهد. پیام کوتاهی نیز روی آن بنویسید. پوسترها را در کلاس یا راهرو مدرسه نصب کنید.
- ۲- الف) درباره «سازمان تأمین اجتماعی» و نقش و کارکرد آن در جامعه پرس‌وجو و نتیجه را در کلاس ارائه کنید.
ب) در صورتی که اعضای خانواده یا بستگان شما از یک یا چند نوع خدمات سازمان تأمین اجتماعی استفاده می‌کنند، این خدمات را در کلاس توضیح دهید.
- ۳- به‌طور گروهی یا فردی، نامه‌ای به نمایندگان شورای اسلامی شهر یا روستای محل زندگی خود بنویسید و در آن یکی از مسائل و مشکلات منطقه خود را مطرح کنید و برای حل آن پیشنهادی بدهید.
نامه‌ها را با کمک و راهنمایی دبیر و توسط مدرسه برای شورا ارسال کنید.

بهره‌وری



۱۲

فصل

حتماً تاکنون متوجه شده‌اید که هر سال در روز اول فروردین ماه، ساعت رسمی کشور ما یک ساعت جلو کشیده می‌شود و در شب آخر شهریور ماه (اول مهر) به وضع قبلی برمی‌گردد. این کار در برخی کشورهای دیگر نیز با عنوان «ساعت تابستانی» انجام می‌شود. طرفداران این کار، دلیل جلو کشیدن ساعت را بالا بردن بهره‌وری بیان می‌کنند و معتقدند که این کار در شهرها موجب صرفه‌جویی در مصرف انرژی می‌شود. در واقع، افراد کار خود را زودتر شروع می‌کنند و از روشنایی روز بیشتر بهره می‌برند. از سوی دیگر، زمان استفاده از برق برای تأمین روشنایی نیز کوتاه‌تر می‌شود.

آیا تاکنون با واژه بهره‌وری در شرایطی دیگر برخورد کرده‌اید؟

امروزه توصیه می‌شود که افراد در زندگی فردی و اجتماعی از اندیشه بهره‌وری استفاده کنند. سیاست‌گذاران و برنامه‌ریزان اقتصادی-اجتماعی نیز سعی می‌کنند در همه برنامه‌ها و فعالیت‌هایشان بهره‌وری را در نظر بگیرند. چرا؟

اندیشه بهره‌وری به آدم‌ها گوشزد می‌کند که همواره راه بهتری برای انجام دادن کارها وجود دارد.

شما با مطالعه این فصل و انجام دادن فعالیت‌های آن به پاسخ پرسش‌های زیر پی می‌برید:

- ۱- بهره‌وری چیست و چه عواملی موجب بهره‌وری در کارها می‌شود؟
- ۲- چگونه می‌توان بهره‌وری را در زندگی فردی و اجتماعی افزایش داد؟
- ۳- منظور از بهره‌وری در اقتصاد چیست؟
- ۴- چرا و چگونه باید بهره‌وری را در سطح کشور افزایش داد؟

بهره‌وری چیست؟

آیا تاکنون برای شما پیش آمده است که بخواهید وسایل و لوازم خود را در یک ساک یا چمدان بگذارید و در همان آغاز ببینید که همه آن وسایل را نمی‌توانید در آن جا بدهید؟ در این صورت، ممکن است با فکر کردن و آزمودن راه حل‌های مختلف – مثلاً تا کردن برخی لباس‌ها به شیوه‌ای خاص، جابه‌جا کردن وسایل و یا جدا کردن یک وسیله بسته‌بندی شده و مانند آن – سرانجام موفق شوید تمام وسایل را درون ساک یا چمدانتان جا دهید. به علاوه، وسایلی را که به آنها بیشتر نیاز دارید، در دسترس بگذارید.

ما در هر محیطی که هستیم، در خانه، مدرسه، اداره، کارخانه، مزرعه و... می‌توانیم با فکر کردن و چاره‌اندیشی، کارها را مؤثرتر و مفیدتر انجام دهیم. به عبارت دیگر، می‌توانیم هدف‌های درست را انتخاب کنیم، از امکاناتی که داریم عاقلانه و صحیح بهره ببریم و از اسراف و اتلاف منابع بپرهیزیم. به چند مثال در زندگی روزانه توجه کنید.

آقای اسدی:



ما برای خنک کردن خانه از کولر (خنک‌کن) آبی استفاده می‌کنیم. در شهر ما در هنگام تابستان به خصوص ظهرها هوا خیلی گرم می‌شود. من برای اینکه بازدهی کولر را افزایش بدهم، روی پشت بام یک سایبان برای آن درست کرده‌ام که از تابیدن آفتاب به بدنه جلوگیری می‌کند. قسمتی از کانال کولر را هم که از بیرون ساختمان به پنجره وصل می‌شود، با عایق پوشانده‌ام که هوای خنک داخل کانال، گرم نشود.

خانم صدیقی:



ما در یک کاشانه (آپارتمان) کوچک ۶۰ متری زندگی می‌کنیم اما من وسایل را طوری انتخاب کرده و چیده‌ام که افراد به راحتی از فضای خانه استفاده کنند. در فضاهای کوچک نباید از مبلمان بزرگ و وسایلی که جای زیادی می‌گیرند، استفاده کرد. در فضای راهرو، کمدی تا نزدیک سقف درست کرده‌ایم که خیلی چیزها در آن جا می‌گیرند. پرده‌ها را به رنگ روشن انتخاب کرده و کف را هم سرامیک سفید کرده‌ایم تا فضای خانه بزرگ‌تر به نظر بیاید و روشن‌تر باشد.

امیر مسعود :



من دانشجو هستم و اتاقی در شهر محل تحصیل اجاره کرده‌ام. صبح‌ها که می‌خواهم برای خودم صبحانه درست کنم، فقط $\frac{1}{3}$ کتری را آب می‌کنم و روی اجاق می‌گذارم. در نتیجه هم آب کمتری مصرف می‌شود، هم آب در زمان کمتری به جوش می‌آید و جای آماده می‌شود. همچنین، به ندرت برای پخت و پز از وسایل برقی استفاده می‌کنم.

آقای حسنی :



من کشاورز هستم. زمین‌های ما روی شیب قرار دارند. قبلاً ما برای آبیاری محصولاتمان آب را به سختی و با تانکر به بالای تپه می‌آوردیم و در منبع ذخیره می‌کردیم. اتلاف آب در زمین هم زیاد بود. پس با یکی دو نفر مهندس و کارشناس کشاورزی مشورت کردیم و به کمک آنها استفاده از روش آبیاری قطره‌ای را شروع کردیم. درضمن، آنها به ما یاد دادند که در اطراف مزرعه چه محصولی بکاریم که از رشد نوعی آفت که درختانمان را از بین می‌برد جلوگیری شود.

فرزانه :



نان برکت خداست. از بچگی به ما یاد داده‌اند که وقتی می‌بینیم تکه‌ای نان روی زمین افتاده است، آن را برداریم و در گوشه‌ای بگذاریم که کسی پا رویش نگذارد و به برکت خدا بی‌احترامی نکند. متأسفانه امروز دورریز نان در بعضی خانواده‌ها زیاد است. اما در خانه ما حتی یک تکه نان هم دور ریخته نمی‌شود. ما پس از خرید نان آن را قطعه قطعه می‌کنیم و در پارچه و سپس کیسه پلاستیکی می‌گذاریم و در یخ‌زن (فریزر) نگهداری می‌کنیم. در موقع مصرف هم به اندازه لازم نان از یخ‌زن (فریزر) بیرون می‌آوریم.

آقای احمدی :



من سعی می‌کنم تازمانی که ضرورت ندارد، از خودرو شخصی استفاده نکنم و با وسایل نقلیه عمومی رفت و آمد کنم. خودرو تک سرنشین فقط یک نفر را جابه‌جا می‌کند اما برای آن یک نفر هزینه بنزین و استهلاک (فرسودگی) زیادی صرف می‌شود. به علاوه، این کار آلودگی هوا و شدآمد (ترافیک) بیشتری به وجود می‌آورد. امیدوارم همه روزی بتوانیم از خودروهایی استفاده کنیم که کم‌مصرف باشند و هوا را هم آلوده نکنند.

فعالیت

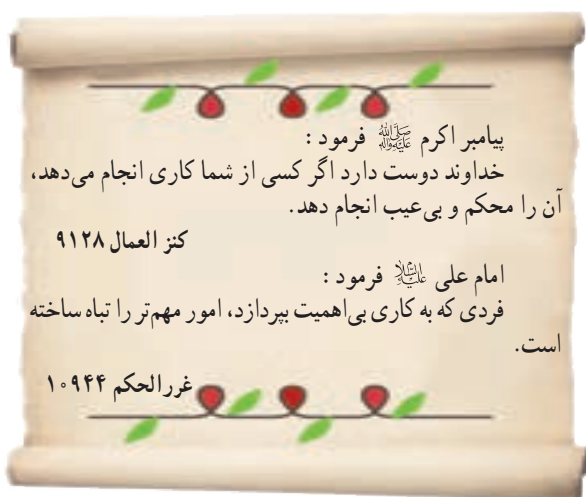
- ۱- گفت و گو و همفکری کنید
الف) آیا شما یا اعضای خانواده‌تان با مثال‌های صفحه قبل یا موارد مشابه، روبه‌رو شده‌اید؟ موارد را بیان کنید تا هم کلاسی‌هایتان درباره آنها اظهارنظر کنند.
- ب) به‌طور گروهی، فکر کنید و روشی را پیشنهاد کنید که در یکی از کارها یا فعالیت‌های مدرسه، بازدهی را افزایش دهد و باعث استفاده صحیح از امکانات شود. برای مثال، با چه راهکاری می‌توان از تلف شدن وقت کلاس برای حضور و غیاب و دیدن تکالیف جلوگیری کرد؟
پیشنهادهای خود را با ذکر دلیل بنویسید و از طریق معلم به دست مسئولان مدرسه برسانید.

بهره‌وری چیست؟

با دقت در مثال‌ها و فعالیت‌های بخش قبل پی بردید که «بهره‌وری» با صرفه‌جویی، انجام دادن کارها به‌صورت آگاهانه و عاقلانه، جلوگیری از اسراف و اتلاف منابع، استفاده صحیح از امکانات و نعمت‌های الهی، کاهش هزینه‌ها و مانند آن ارتباط دارد.



بهره‌وری یعنی از بین کارهای ممکن، کار درست را انتخاب کنیم و آن را با روش درست انجام دهیم.
(اثر بخشی* و کارایی*)



فعالیت

- ۲- درباره این سخنان ارزشمند پیامبر اکرم ﷺ و امام علی علیه السلام فکر کنید و معنی و مفهوم هر یک را با ذکر یک مثال توضیح دهید.

فرهنگ بهره‌وری

بهره‌وری از زمان‌های دور در زندگی مردم جا داشته است و آنها همواره برای بهبود کارها و استفاده بهتر از امکانات، چاره‌اندیشی می‌کرده‌اند. ابداع و حفر قنات، ذخیره کردن آب در آب انبارها، خشک کردن و ذخیره محصولات کشاورزی و تعاون و همیاری در امور کشاورزی، نمونه‌هایی از تفکر بهره‌وری در زندگی مردم در روزگار گذشته است.

در فصل نهم دریافتید که فرهنگ هنجارها، ارزش‌ها و باورهای یک جامعه را در برمی‌گیرد و نقش مهمی در امور آن جامعه دارد.

فرهنگ، نقش مهمی در افزایش بهره‌وری یک جامعه نیز دارد. اگر همه افراد بهره‌وری در فعالیت‌های مختلف را ارزش بدانند، جامعه از نظر مادی و معنوی پیشرفت می‌کند.

نکته درخور توجه این است که در عقاید دینی ما مسلمانان، بر نکات مهمی تأکید و سفارش شده است که بر بهره‌وری در امور و کارها تأکید دارند. متن روبه‌رو را مطالعه کنید. اگر به زندگی فردی و اجتماعی خود و همچنین محیط زندگی‌تان بیشتر دقت کنیم، در می‌یابیم که گاه ارزش‌ها و هنجارهایی در زندگی‌ما شکل گرفته‌اند که با این آموزه‌ها و آرمان‌های دینی مغایرت دارند. برای آنکه وضع موجود را به وضع مطلوب تبدیل کنیم، باید تغییراتی در شیوه زندگی خود به وجود بیاوریم.

بهره‌وری، یک نگرش نسبت به زندگی است. نگرشی که براساس آن، انسان می‌کوشد هوشمندانه کار کند، با به‌کارگیری روش‌های عاقلانه، بهتر به اهداف مادی و معنوی خود برسد و بهترین نتیجه را به دست آورد.

* بخورید و بیاشامید و اسراف نکنید.

سوره اعراف، آیه ۳۱

* و در امورشان با یکدیگر مشورت می‌کنند.

سوره شورا، آیه ۳۸

* هر کس میانه‌روی کند هرگز محتاج نشود.

حضرت علی (ع)، وسایل الشیعه ج ۱۲

* کسی که برای تأمین مخارج خانواده‌اش تلاش کند همانند کسی است که در راه خداوند جهاد می‌کند.

امام صادق (ع)، الکافی ج ۵

* شما را به تقوای الهی و نظم در امور سفارش می‌کنم.

حضرت علی (ع)، نهج البلاغه، نامه ۴۷

* ... فرصت‌ها مانند ابر می‌گذرند؛ پس فرصت‌های نیکو را غنیمت بشمرید و از آنها استفاده کنید.

حضرت علی (ع)، نهج البلاغه، حکمت ۲۰

فعالیت

۳- معنی آیات قرآن کریم و سخنان امامان معصوم (ع) را بخوانید. عوامل مؤثر در بهره‌وری را از آنها استخراج و فهرست کنید؛ مثلاً: الف) اهمیت دادن به کار و تلاش و ...

۴- گفت و گو کنید.

هریک از هنجارهای زیر در جامعه چگونه از بهره‌وری جلوگیری می‌کند و در تضاد با آن است؟ توضیح دهید.

- مهمانی‌ها، مجالس و جشن‌های مفصل و پرهزینه ● مدگرایی و چشم و هم‌چشمی در خرید لباس به جای تمیز و ساده‌پوشی
- نداشتن برنامه مناسب برای اوقات فراغت و تفریح ● ورزش نکردن و پرخوری.

۵- یک زوج جوان می‌خواهند جشن عروسی ساده‌ای با حداقل هزینه برپا کنند. اگر قرار باشد از شما کمک فکری بگیرند، چه طرح و پیشنهادی به آنها می‌دهید؟ همفکری کنید و طرح خود را روی کاغذ بنویسید.

۶- متن صفحه بعد را درباره یک کارآفرین بخوانید. الف) چه نکاتی در این متن برای شما قابل توجه است؟

ب) نظر شما درباره افرادی که می‌خواهند با کار نکردن یا کار کم به ثروت یا موفقیت‌های بزرگ دست یابند چیست؟



من در سال ۱۳۳۵ به دنیا آمدم. شانزده ساله بودم که پدرم را از دست دادم. پس از او مادرم که زنی بسیار فداکار بود، با وجود همه سختی‌ها بار زندگی من و برادر و خواهرم را به دوش کشید. پدرم مردی پرتلاش بود و به کار اهمیت زیادی می‌داد. یادم هست همیشه می‌گفت: انسان باید جوهر کار داشته باشد. من پس از فوت پدر، ایام تعطیل و تابستان‌ها را کار می‌کردم و به مادرم در تأمین مخارج زندگی کمک می‌کردم. مادرم دوست داشت درس بخوانم و من هم درسم را تا دانشگاه ادامه دادم اما دوره شبانه دانشگاه را انتخاب کردم تا بتوانم روزها کار کنم. ساعت ۵ بعداز ظهر که از کار فارغ می‌شدم، به کلاس می‌رفتم. همچنین سعی می‌کردم در هزینه‌های لباس، رفت و آمد و... صرفه‌جویی کنم.

پس از سال‌ها توزیع و فروش مواد غذایی تصمیم گرفتم یک کارگاه تولید مواد غذایی احداث کنم. پس‌انداز کمی داشتم. دوسال برای گرفتن جواز تأسیس کارخانه تلاش کردم؛ چون بعضی از شرایط آن را نداشتم دیگر ناامید شده بودم. روزی که از یکی از اداره‌های مربوط برمی‌گشتم، در اتوبوس با پیرمردی برخورد کردم و با هم صحبت کردیم. او به من گفت که برای رسیدن به هدف‌هایم باید پشتکار داشته باشم و برایم مثال‌هایی از آدم‌های پیگیر و با پشتکار زد. می‌گفت که بهتر است با یکی دو نفر آدم خلاق و خوش فکر مشورت کنم و حتی اگر به این کار علاقه‌مند بودند، با آنها شریک شوم. حرف‌هایش در من تأثیر کرد. نباید خسته می‌شدم. سرانجام با دوتن از دوستان خوش فکر شریک شدیم و جواز تأسیس یک کارگاه را گرفتیم. در سال‌های اول، فروش ما کم بود اما با همفکری یکدیگر ابتکاراتی برای تولید با کیفیت بهتر و عرضه * بیشتر و بهتر محصولاتمان به کار زدیم و کارمان رونق گرفت. پس از چند سال موفق شدیم کارخانه بزرگی احداث و تعداد زیادی از کسانی را که در پی کار بودند، استخدام کنیم. من چون رنج تنگدستی را کشیده بودم، همواره به کسانی که برای تأمین معاش خود در مجموعه ما کار می‌کردند احترام می‌گذاشتم و سعی می‌کردم شرایط خوبی برای آنها فراهم کنم. از طرح‌های نو و خلاقانه استقبال می‌کردم و سعی می‌کردم همیشه محصولاتی بهتر و با کیفیت‌تر ارائه کنم. واحد صنعتی ما سال گذشته به عنوان واحد نمونه کشور برگزیده شد و

بهره‌وری در زندگی فردی و خانوادگی

اکنون که مهم‌ترین عوامل مؤثر در بهره‌وری را شناختیم، می‌توانیم به چند راهکار مهم برای افزایش بهره‌وری در زندگی اشاره کنیم:

*** استفاده مناسب از وقت و زمان:** یکی از عوامل مهم در بهره‌وری، ارزش زمان است.

وقت و زمان ثروتی است که قابل ذخیره و پس‌انداز نیست.

اگر برنامه و اولویت‌بندی مناسب نداشته باشیم و از وقت، درست استفاده نکنیم، وقت تلف می‌شود و

زمان دیگر به عقب برنمی‌گردد.



*** نظم، ترتیب و انضباط در کارها:** وسایل و لوازمی که با آنها در محیط‌های مختلف سروکار داریم، باید مرتب و منظم


باشند. ساعت مقرر سرکار حاضر شدن و با برنامه‌ریزی به کارها رسیدگی کردن موجب افزایش بهره‌وری می‌شود.

* اصلاح عادت‌های غلط مصرفی : باید خوب فکر کنیم و ببینیم مصرف یا روش مصرف چه چیزهایی درست نیست و



موجب اتلاف هزینه و منابع می‌شود. صرفه‌جویی کم مصرف کردن نیست بلکه مصرف درست و به اندازه است. برای مثال، برخی خانواده‌ها در خرید مایحتاج زندگی یا برگزاری مهمانی‌ها و تهیه غذا اسراف یا زیاده‌روی می‌کنند و اغلب، بخشی از مواد غذایی را دور می‌ریزند. استفاده صحیح از منابع و انرژی و اتلاف نکردن آنها نیز باید مورد توجه قرار بگیرد. برای مثال، با توجه به مشکل جدی کمبود آب در کشورمان باید مصرف درست آب را تمرین کنیم.

* انجام دادن کارها از روی آگاهی : با کسب دانش و مهارت لازم برای هر



کار، بازدهی کار ما بیشتر می‌شود و کمتر اشتباه می‌کنیم. برای مثال، اگر روش تعمیر وسیله‌ای را ندانیم و به آن دست بزنیم، ممکن است آن را خراب‌تر کنیم یا اگر اطلاعات کافی درباره خرید یک وسیله نداشته باشیم، ممکن است پول زیادی را صرف تهیه آن کنیم. برخی از مواد و وسایل به دلیل ناآگاهی افراد از روش‌های درست نگهداری آنها از بین می‌روند. برای مثال، اگر شیوه صحیح شست‌وشوی یک لباس یا نگهداری مواد غذایی را ندانیم، زودتر از بین می‌روند یا غیرقابل استفاده می‌شوند.

* تنظیم جدول بودجه اقتصادی : تنظیم جدولی که در آن



درآمدها و هزینه‌ها (دخل و خرج) ماهانه افراد یا خانواده نوشته می‌شود و همکاری بین اعضای خانواده نیز از راهکارهای کمک به بهره‌وری است.

فعالیت

۷- دلیل بیاورید : الف) آیا سطح بهره‌وری دانش‌آموزی که کیف یا کمد لوازم تحریرش شلوغ و نامرتب است، پایین می‌رود؟ چرا؟

۸- منظور از تنظیم بودجه ماهانه خانواده چیست؟ تنظیم این بودجه چه فایده‌ای دارد؟ توضیح دهید.

۹- کار برگه شماره (۱۷) (چند پیشنهاد برای بهره‌وری) را انجام دهید.

۱۰- یکی از عادت‌های غلط بعضی از دانش‌آموزان مصرف نادرست و بی‌رویه کاغذ است. چند راهکار برای بهره‌وری در مصرف کاغذ پیشنهاد کنید و توافق کنید که آن راهکارها عملی شوند.

نیاز به فعالیت اقتصادی

هر جامعه‌ای برای ادامه زندگی و رفع نیازهای خود ناگزیر است از منابع طبیعی استفاده کند و وسایل موردنیاز خود را تولید کند. به این کار «فعالیت اقتصادی» گفته می‌شود.

در سال هفتم با انواع فعالیت‌های اقتصادی آشنا شدید و آموختید که تولید ممکن است تولید کالا یا خدمت باشد. کشاورزان در مزرعه و باغ و کارگران در کارخانه و کارگاه، کالا تولید می‌کنند. پزشکان، معلمان، پلیس، کارمندان و ... خدمت ارائه می‌کنند. برخی افراد نیز خدمات و کالاهای تولید شده را توزیع و مبادله می‌کنند و به‌دست مصرف‌کنندگان می‌رسانند. پس در هر جامعه‌ای عده‌ای به فعالیت‌های تولیدی و توزیعی مشغول‌اند. از سوی دیگر همه افراد جامعه و حتی تولیدکنندگان و توزیع‌کنندگان به نوبه خود مصرف‌کننده‌اند. افراد در این فعالیت‌ها با یکدیگر ارتباط برقرار می‌کنند. بدین ترتیب هیچ جامعه‌ای نمی‌تواند بدون فعالیت‌های اقتصادی به حیات خود ادامه دهد و در همه جوامع، چرخه تولید، توزیع و مصرف وجود دارد و همواره بین افراد روابط اقتصادی برقرار می‌شود.

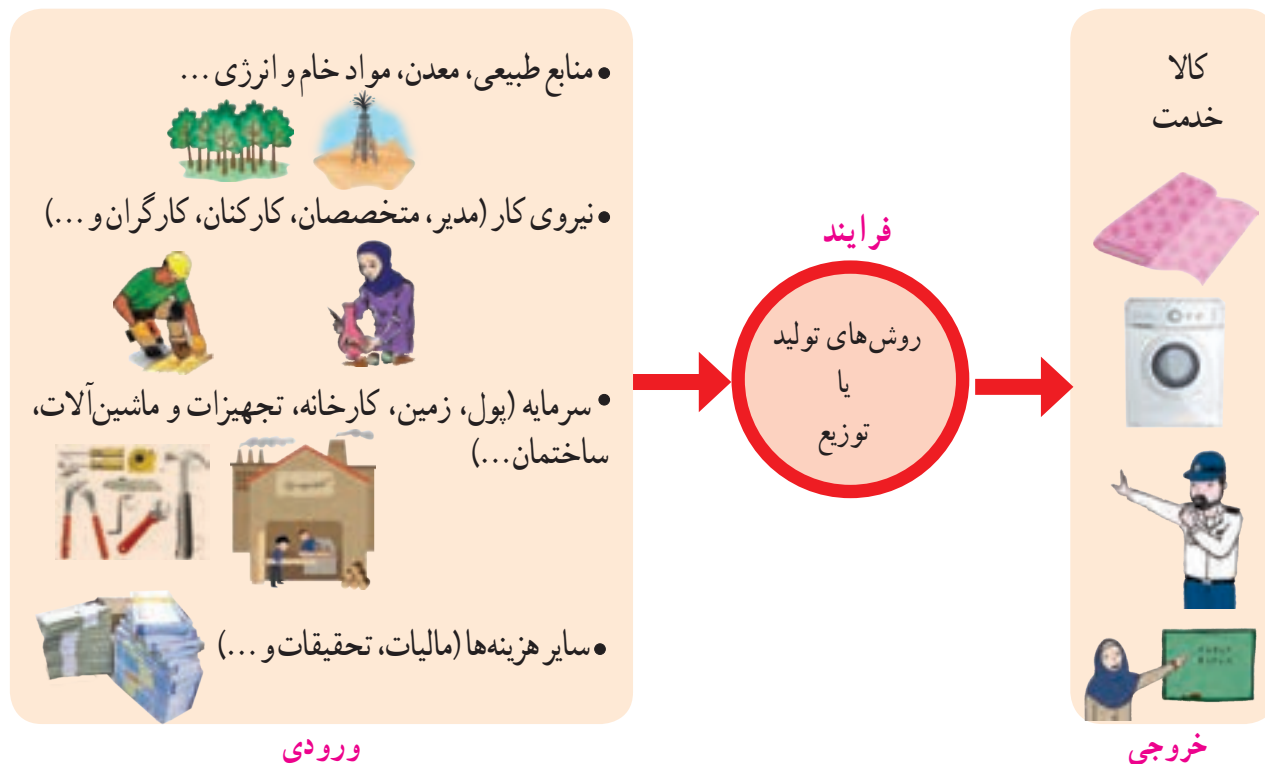


بهره‌وری در تولید، توزیع و مصرف

برای افزایش بهره‌وری در فعالیت‌های اقتصادی، باید بهره‌وری را در تولید و توزیع افزایش دهیم و الگوی مصرف را نیز عقلانی کنیم. در درس قبل با نمونه‌هایی از مصرف بهینه یا بهره‌وری در مصرف آشنا شدید. اکنون به شکل توجه کنید و بگویید چگونه می‌توان بهره‌وری در تولید یا توزیع یک کالا را افزایش داد.

نهاد* (داده‌ها)

ستانده*



در اقتصاد، بهره‌وری را «نسبت ستانده‌ها به داده‌ها» تعریف کرده‌اند. اگر بخواهیم تولید کالا یا خدمت (ستانده‌ها) را افزایش دهیم یا کیفیت آنها را بهتر کنیم، باید در نهاده‌ها یا فرایندها تغییرات مطلوبی به وجود بیاوریم. برای مثال اگر در کارگاهی روزی ۱۰ جفت کفش تولید شود و صاحب کارگاه با اجاره کردن یک ساختمان به قیمت ارزان‌تر و آموزش دادن و تشویق نیروی کار یا ابداع یک روش جدید یا اختراع یک وسیله، میزان تولید را به ۱۳ جفت کفش در روز افزایش دهد، در اینجا می‌گوییم بهره‌وری اتفاق افتاده است. البته علاوه بر افزایش میزان تولید کالاها و خدمات، افزایش کیفیت آنها نیز مورد توجه قرار می‌گیرد.



... یک مثال خوب درباره بهره‌وری در توزیع خدمات، مراکز صدور گذرنامه (پاسپورت) در شهرهاست. در یکی دو دهه قبل، در شهر بزرگی چون تهران همه متقاضیان گذرنامه باید به اداره گذرنامه یعنی ساختمانی که واقع در یک خیابان بود، مراجعه می‌کردند. زمان صدور گذرنامه خیلی طولانی بود. در خیابان جلو این اداره، صف‌های طولانی تشکیل می‌شد و تحویل و گرفتن مدارک هم برای مراجعه‌کنندگان و هم کارکنان اداره، دشوار و زمان‌بر بود. ... بعدها دفاتر پلیس + ۱۰ در مناطق مختلف شهر ایجاد شد. اکنون ساکنان هر منطقه شهر برای گرفتن گذرنامه به نزدیک‌ترین دفتر پلیس + ۱۰ در محله خود مراجعه می‌کنند و در کوتاه‌ترین زمان و با صرف وقت و انرژی کمتر، گذرنامه‌شان را دریافت می‌نمایند.

- ۱- به چند گروه تقسیم شوید. محصولی مانند نان را در نظر بگیرید. هر گروه یکی از مراحل را انتخاب کند: مرحله اول - تولید (کشت گندم، برداشت گندم، تولید آرد، پختن نان) مرحله دوم - توزیع یا فروش نان و مرحله سوم - مصرف نان. هر گروه بگوید که چه راه‌هایی برای بالا بردن بهره‌وری در آن مرحله وجود دارد.
- ۲- به نظر شما، اگر میزان هزینه‌های تولید (نهادها) را افزایش دهیم و به همان اندازه میزان تولید افزایش یابد، باز هم می‌توانیم ادعا کنیم بهره‌وری اتفاق افتاده است؟
- ۳- آیا در محل زندگی شما مراکز خریدی وجود دارند که بتوان گفت موجب عرضه بهتر کالا یا خدمات شده‌اند و بهره‌وری در توزیع را بالا برده‌اند؟ درباره آنها توضیح دهید.

بهره‌وری سبز



در سال هفتم خواندید که از دیدگاه اسلام، طبیعت و منابع طبیعی، آیات و نشانه‌های حکمت خداوند و نعمت‌های الهی هستند. و انسان حق استفاده بی‌رویه از طبیعت و لطمه زدن به آن را ندارد. همچنین بی‌بردید که از منظر اسلام، اقتصاد و تولید وسیله‌اند نه هدف. یعنی تولید وسیله‌ای است که انسان از طریق آن نیازهای ضروری خود را رفع می‌کند و به مسائل مهم‌تر می‌پردازد.

در دنیای امروز، تولید با هدف کسب سود بیشتر انجام می‌گیرد و سودجویان بدون توجه به تخریب و نابودی طبیعت همچنان به تولید بیشتر ادامه می‌دهند.

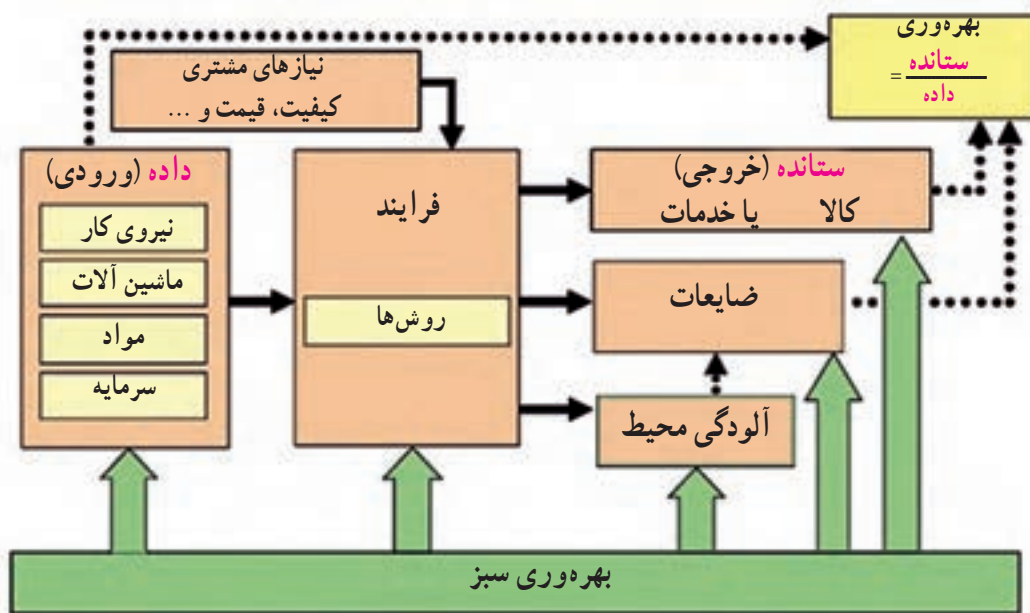
پس از انقلاب صنعتی و به‌ویژه در ۱۵۰ سال اخیر، کشورهای صنعتی و قدرتمند به بهره‌برداری بی‌رویه از منابع طبیعی و طبیعت دست زده‌اند تا بتوانند کالاهای بیشتری تولید کنند. کشورهای قدرتمند صنعتی امروز سعی می‌کنند از طبیعت و منابع طبیعی خود محافظت کنند اما با تبلیغات و تحت تأثیر قرار دادن مردم دیگر کشورها، مصرف‌گرایی را که موجب تخریب محیط زیست می‌شود، تشویق می‌کنند. اما افزایش تولید به هر روش و هر قیمتی مجاز نیست. افزایش تولید و فعالیت‌های اقتصادی اگر به محیط زیست لطمه

بزند، با اصول بهره‌وری سازگار نیست؛ زیرا نابودی و تخریب طبیعت، خود هزینه‌های مجدد و مشکلات جبران ناپذیری برای ما به وجود می‌آورد.

برای مثال، در دو دهه اخیر در نواحی داخلی کشور ما به‌طور بی‌رویه چاه‌های عمیقی حفر شد. آب این چاه‌ها و سفره‌های آب زیرزمینی برای افزایش تولید محصولاتی چون پسته به مصرف رسید اما حفر بی‌رویه چاه‌ها مشکلات زیادی چون کم‌آبی شدید در منطقه، خشک شدن مزارع و تخلیه روستاها و یا افزایش احتمال بروز زمین‌لرزه را به دنبال دارد که جبران آنها بسیار دشوار است. مثال دیگر در این مورد، استفاده بی‌رویه از کودهای شیمیایی و سموم کشاورزی است. مصرف این مواد اگرچه میزان تولید سبزیجات و میوه‌ها را

بالا می‌برد اما به دلیل انتقال سموم به آب و خاک و بدن انسان، موجب شیوع بیماری‌های خطرناک می‌شود و پس از آن باید هزینه‌های زیادی برای درمان مردم صرف شود.

بدین ترتیب امروزه با توجه به اهمیت حفظ محیط زیست، به جای واژه بهره‌وری از «بهره‌وری سبز» استفاده می‌شود. منظور از بهره‌وری سبز این است که از ابزارها، روش‌ها و فناوری‌های مختلف در همه مراحل تولید، توزیع و مصرف به گونه‌ای استفاده کنیم که تأثیرات مضر و منفی فعالیت‌ها بر محیط زیست به کمترین حد ممکن برسد.



اصول بهره‌وری سبز باید در همه مراحل رعایت شود.

بهره‌وری در کشور ما

به بریده اخبار روزنامه‌ها توجه کنید.

متأسفانه کشور ما در مقایسه با برخی کشورها از نظر بهره‌وری وضعیت چندان مطلوبی ندارد. بنابراین، همه موظفیم با برنامه‌ریزی صحیح، نگرش بهره‌وری را در همه فعالیت‌های بخش‌های مختلف اقتصادی (کشاورزی، صنعت و خدمات) ترویج کنیم و به کار بگیریم.





اقتصاد مقاومتی

پس از انقلاب اسلامی، کشورهای سلطه‌گر و قدرت‌های بزرگ اقتصادی که با وقوع انقلاب، منافع خود را در خطر می‌دیدند مشکلاتی مانند جنگ تحمیلی، تحریم اقتصادی* و... را بر سر راه ما قرار دادند تا از پیشرفت کشورمان جلوگیری کنند. این مخالفت‌ها تا امروز نیز ادامه دارد و آنها سعی می‌کنند ایران را از نظر اقتصادی شکست بدهند. به همین دلیل، جمهوری اسلامی ایران بنا به توصیه‌ها و رهنمودهای رهبر معظم انقلاب، حضرت آیت الله خامنه‌ای، سیاست اقتصاد مقاومتی را طراحی و در پیش گرفته است.

اقتصاد مقاومتی یعنی در شرایط سخت بتوانیم کمترین اتلاف هزینه را داشته باشیم، روی پای خود بایستیم، از تولید ملی حمایت کنیم، از اسراف بپرهیزیم و از منابع و امکانات حداکثر استفاده را بکنیم.

به عبارت دیگر، می‌توانیم بگوییم محور اصلی اقتصاد مقاومتی، «بهره‌وری» است.



در کشور ما سازمان ملی بهره‌وری ایران در زمینه وضعیت بهره‌وری و چگونگی راه‌های افزایش آن در بخش‌های مختلف اقتصادی کشور مطالعه، سیاست‌گذاری و نظارت می‌کند.

فعالیت

- ۴- مسعود و پسر عموش با هم به مسافرت رفته و در مهمانسرای اقامت داشتند. یک روز برای گردش در شهر از مهمانسرا بیرون رفتند. هنوز چند قدمی بیشتر از آنجا دور نشده بودند که مسعود گفت: «فراموش کردم لامپ‌ها و کولر (خنک‌کن) اتاق را خاموش کنم. باید برگردم و این کار را انجام دهم»، ولی پسر عموش گفت: «لازم نیست. ما برای اقامتمان و چیزهایی که مصرف می‌کنیم به صاحب مهمانسرا پول می‌دهیم!» شما کدام نظر را درست می‌دانید؟ چرا؟
- ۵- کاربرگه شماره (۱۸) را با همفکری یکدیگر در کلاس انجام دهید.
- ۶- همفکری کنید و بگویید شما دانش‌آموزان از چه راه‌هایی می‌توانید به تحقق اهداف اقتصاد مقاومتی در کشور کمک کنید. دست‌کم سه راه پیشنهاد کنید.



استاندارد و بهره‌وری

یکی از راه‌های مهم افزایش بهره‌وری، بالا بردن کیفیت محصولات و استفاده درست از منابع است که با به‌کارگیری استانداردها تحقق می‌یابد. برای آنکه بهره‌وری افزایش یابد، باید نهاده‌ها، فرایندها و بالاخره ستانده‌ها (کالاها و خدمات) استاندارد باشند.

برای مثال، در تولید بیسکویت، آب و آرد و سایر مواد افزودنی با هم مخلوط می‌شوند و از خمیر به‌دست آمده بیسکویت تهیه می‌شود. حال اگر آب و آرد و سایر مواد افزودنی (داده یا ورودی) مطابق استاندارد باشد و پختن آن (فرایند) نیز براساس استاندارد صورت بگیرد، در نهایت بیسکویت تولید شده (ستانده) نیز استاندارد بوده و مصرف‌کننده بیسکویت سالمی را مصرف می‌کند.

حال اتومبیلی را در نظر بگیرد که قطعات آن براساس استاندارد، ساخته نشده باشد. این اتومبیل می‌تواند سبب آلودگی هوا شود و یا در اثر درست کار نکردن قطعات آن، موجب تصادف شده و به سرنشینان آن صدمه وارد کند. روشن است که آلودگی هوا و تصادف، هزینه‌ها و مشکلات زیادی را به جامعه تحمیل می‌کند. به‌علاوه منابع، انرژی و سرمایه‌هایی که برای تولید آن اتومبیل با قطعات غیراستاندارد، صرف شده، به هدر می‌رود.

مثال دیگر در این زمینه، کودهای شیمیایی و آفت‌کش‌ها است که اگر به‌طور غیراستاندارد تولید شده باشند و یا روش استفاده از آنها در مزارع براساس استاندارد نباشد، موجب آلودگی آب و خاک و محصولات کشاورزی می‌شوند و انسان‌ها و جانوران را بیمار می‌کنند و باید هزینه‌های زیادی برای درمان بیماری‌ها و جبران خسارت، صرف شود.

اهمیت استانداردها برای افزایش بهره‌وری آن‌قدر زیاد است که در بند ۲۴ سیاست‌های کلی اقتصاد مقاومتی این جمله آمده است: «افزایش پوشش استاندارد برای کلیه محصولات تولید داخلی و ترویج آن».



در کشور ما وظیفه تهیه استانداردهای کالاها و خدمات و فرایندهای تولید، برعهده سازمان ملی استاندارد ایران است.





کارایی : درست انجام دادن کار، به حداکثر رساندن نسبت ستانده‌ها به نهاده‌ها

اثر بخشی : کار درست را انتخاب کردن و انجام دادن، استفاده از خلاقیت و نوآوری برای رسیدن به وضعیت بهتر

نهاده : عواملی که در تولید یک کالا یا خدمت به کار می‌روند (ورودی).

ستانده : کالا یا خدمتی که تولید می‌شود؛ محصول (خروجی).

تحریم اقتصادی : اقدامی است که یک یا چند قدرت بین‌المللی با هدف مجازات یک یا چند کشور دیگر انجام می‌دهند و آن کشور را از مبادلات اقتصادی و روابط تجاری با دیگر کشورهای جهان محروم می‌کنند تا به پذیرش هنجارها و خواسته‌های کشورهای سلطه‌جو مجبور شود.

عرضه : عبارت است از مقدار کالا و یا خدمتی که برای فروش با قیمتی معین در دسترس خریدار قرار می‌گیرد.

به کار بندیم

جایزه بهره‌وری روز اول خرداد روز بهره‌وری و مصرف بهینه نام‌گذاری شده است.

به کمک معلم، یک جایزه بهره‌وری برای شرکت در مسابقه تعیین کنید :
مدت یک هفته در زندگی روزانه خود و خانواده و یا محیط پیرامونتان دقت کنید و مواردی را که موجب پایین آمدن بهره‌وری یا اتلاف هزینه و منابع، زمان و... می‌شود، یادداشت کنید. سپس هر یک از شما یک نظر یا طرح پیشنهادی را که موجب بازدهی بیشتر یک کار و بهره‌وری در محیط زندگی (خانه، مدرسه، محله و...) شما می‌شود، بنویسید و در مسابقه شرکت کنید.
قبل از انتخاب برنده‌های مسابقه، طرح‌ها و پیشنهادهای دانش‌آموزان را در مدرسه به نمایش بگذارید.

کاربرگه فعالیت

طول و عرض جغرافیایی

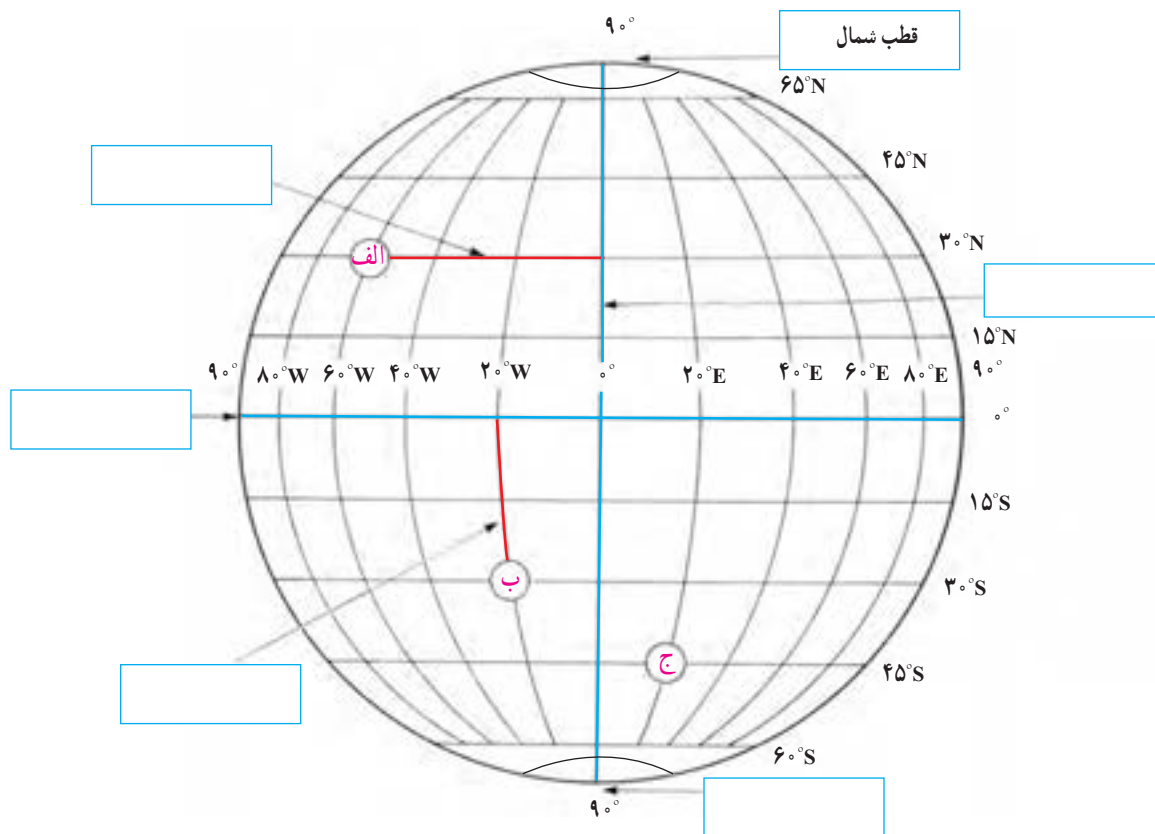
به شکل کره زمین که خط‌های فرضی نصف‌النهار و مدار از آن عبور کرده‌اند، دقت کنید. این خط‌ها با قطع کردن یکدیگر، شبکه‌هایی را به وجود آورده‌اند.

۱- هر یک از عبارت‌های زیر را مانند مثال در جای مربوط بنویسید.

نصف‌النهار مبدأ قطب جنوب استوا عرض جغرافیایی طول جغرافیایی

۲- با توجه به شکل زیر طول و عرض جغرافیایی مکان‌های زیر را بنویسید.

مکان	طول جغرافیایی	عرض جغرافیایی
الف	$60^{\circ}W$	
ب		
ج		



کاربرگه شماره ۲

طول و عرض جغرافیایی بر روی نقشه

در این تصویر، نقشه استان کرمان را مشاهده می کنید. (توجه: هر درجه (°) ۶۰ دقیقه (′) است)



۱- نزدیک ترین طول و عرض جغرافیایی به هر یک از مکان های زیر را بنویسید.

(رودبار) ← و (رفسنجان) ← و
(یزد) ← و (بندرعباس) ← و

۲- نام شهر یا روستایی را که در نقاط زیر واقع شده است، به طور تقریبی بنویسید.

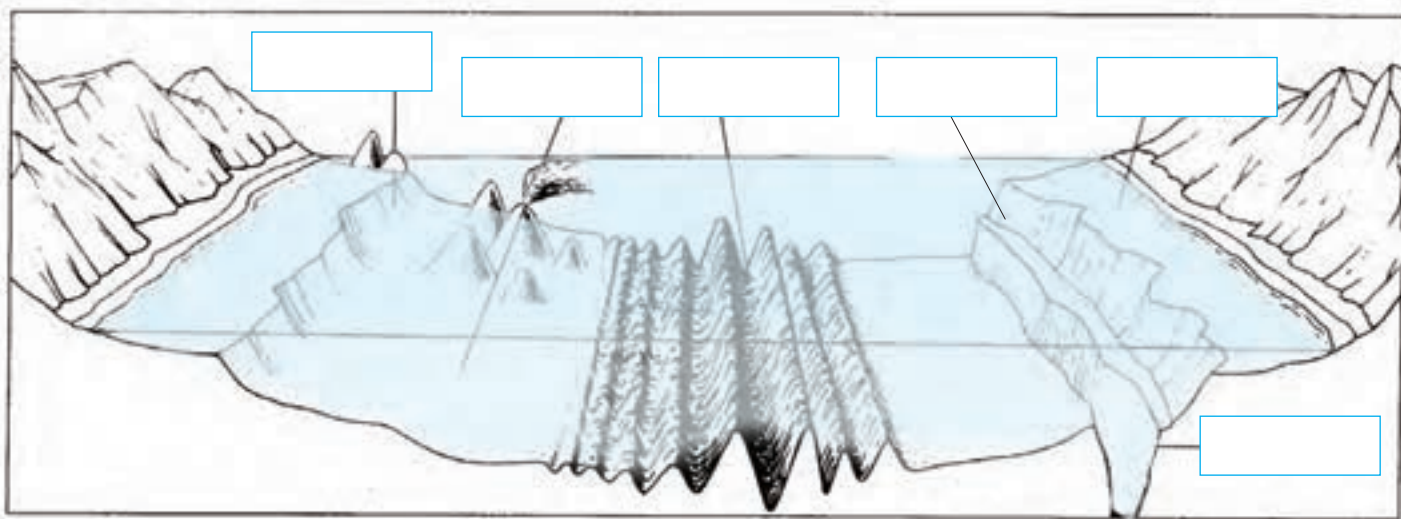
(30°N و 58°E) (30°N و 56°E) (55°N و 56°E)

۳- به نظر شما، آیا ممکن است برای نشان دادن طول و عرض جغرافیایی مکانی در کشور ایران از علامت های W (غرب) و S (جنوب)

استفاده کنیم؟ چرا؟

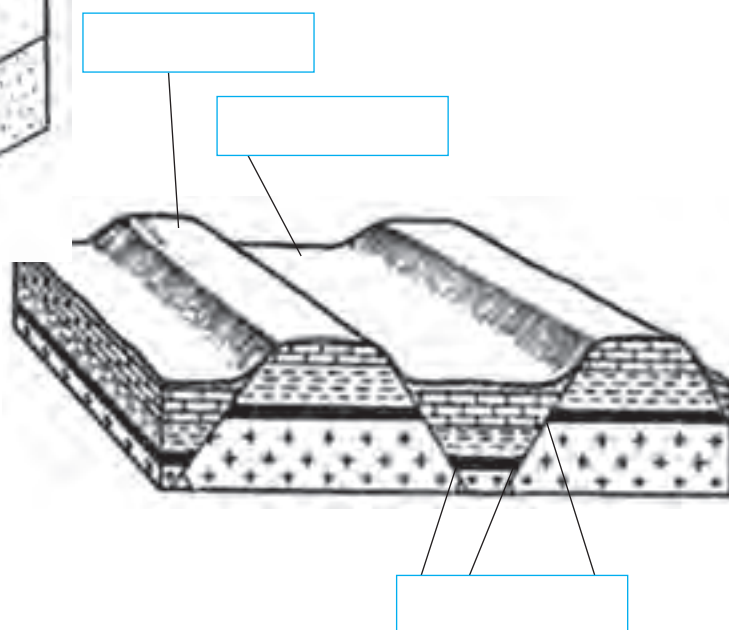
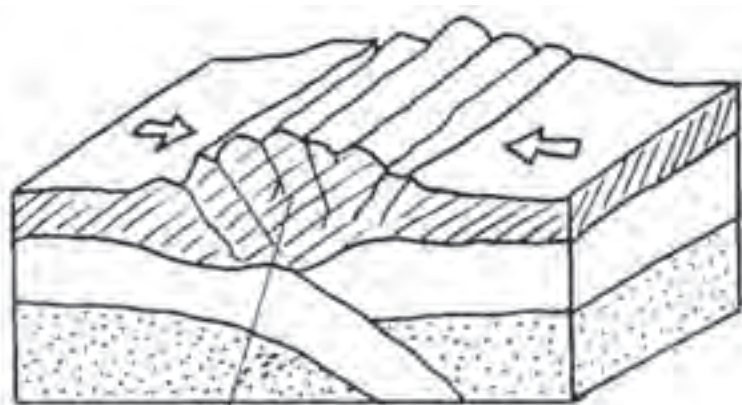
انواع ناهمواری‌ها

الف) این مدل، ناهمواری‌های بستر اقیانوس‌ها را نشان می‌دهد. موارد زیر را روی مدل در جای خالی بنویسید.
فلات قاره شیب قاره چین خوردگی‌های کف اقیانوس جزیره گودال اقیانوسی جزیره آتشفشانی



ب) روی مدل‌ها، موارد را در جای خالی بنویسید.

شکستگی (گسل) بالاآمدگی
دره چین خوردگی رسوبات

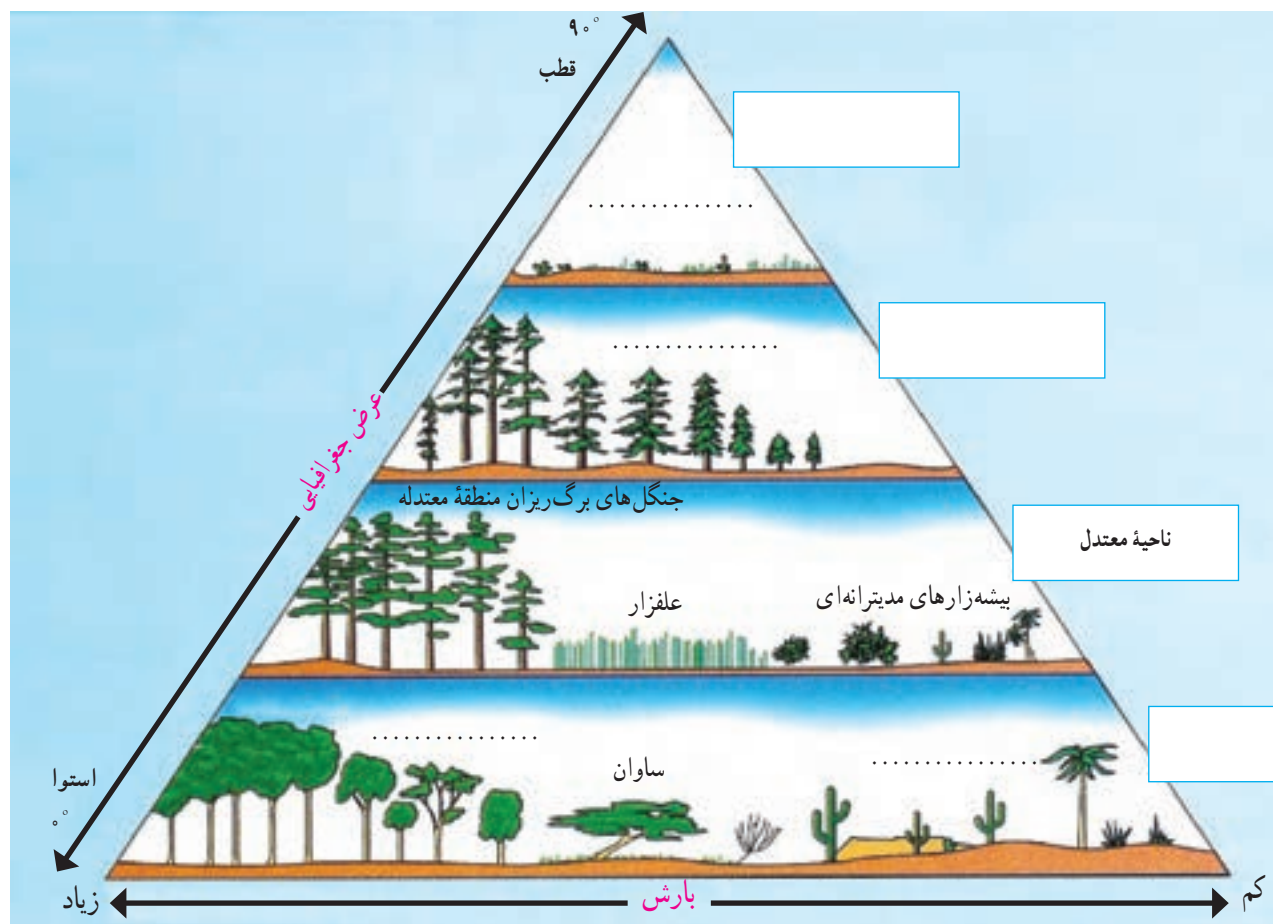




کاربرگه شماره ۴

رابطه پراکندگی زیست بوم‌های جهان با عرض جغرافیایی و بارش

- ۱- در خانه‌های مستطیل شکل، واژه‌های مناسب بگذارید: ناحیه قطبی، ناحیه جنب قطبی، ناحیه معتدل و ناحیه بین‌المدارین (بین مدار رأس‌السرطان و رأس‌الجدی)
- ۲- در نقطه چین‌ها واژه‌های مناسب بنویسید: توندرا، تایگا (مخروطیان)، بیابان، جنگل‌های استوایی.
- ۳- زیست‌بوم ساوان بین کدام زیست‌بوم‌ها، قرار گرفته است؟
- ۴- بین عرض جغرافیایی و میزان پوشش گیاهی چه رابطه‌ای وجود دارد؟ با ذکر علت از روی نمودار، توضیح دهید و مثال بزنید.
- ۵- بین میزان بارش و میزان پوشش گیاهی چه رابطه‌ای وجود دارد؟ با توجه به نمودار مثال بزنید.








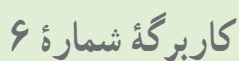


کاربرگ شماره ۵

زیست بوم های جهان

با توجه به نقشه ای که در سمت راست مشاهده می کنید، نوع زیست بوم را حدس بزنید و بنویسید. سپس با استفاده از دانسته های قبلی خود و آنچه در کتاب خوانده اید، جدول را کامل کنید.

نقشه	نام زیست بوم	آب و هوا	دو نمونه جانور و یک نمونه گیاه غالب




	ساوان



یک گروه پژوهشگر قصد دارند دربارهٔ زیست بوم‌های قاره آفریقا تحقیق کنند. آنها می‌خواهند از بندر ماتادی در کشور کنگو به بندر اسکندریهٔ مصر در کنارهٔ دریای مدیترانه بروند. این گروه به ترتیب از سه نوع زیست بوم عبور می‌کنند. این سه زیست بوم را نام ببرید. فرض کنید شما سرپرست این گروه هستید. نامه‌ای کوتاه به دوستان خود بنویسید و در آن، نکات جالب و شگفتی‌هایی را که مشاهده کرده‌اید و یا گونه‌های در معرض خطر را شرح دهید.



نقشه سیاسی ایران در آستانه تأسیس حکومت صفویه

حاکمان محلی ایران در آستانه تأسیس حکومت صفویه



خراسان : شاهزادگان تیموری

ساری و آمل : سادات مرعشی

لاهیجان : کیانیان

شیراز، اصفهان و همدان : سلطان مراد آق قویونلو

ایر قو : رئیس محمد

یزد : مراد بیک بایندر

کرمان : ابوالفتح بیک بایندر

هویزه : خاندان مشعشع

خرم آباد : ملک رستم

سمنان : حسین کیا چلاوی

کاشان : قاضی محمد و مولانا مسعود

تبریز : الوندبیک آق قویونلو

شروان : شروان شاهان

بغداد : باریک بیک پرنک

به نقشه بالا دقت کنید و به پرسش‌ها پاسخ دهید.

۱- در آستانه شکل‌گیری حکومت صفویه، تقریباً چند حکومت محلی در ایران وجود داشت؟

۲- در آستانه شکل‌گیری حکومت صفویه، کدام کشورها ایران را تهدید می‌کردند؟ روی نقشه مشخص کنید.

۳- جدول را کامل کنید.

پیامدها و مشکلات سیاسی، اجتماعی، اقتصادی	تهدیدهای خارجی	تهدیدهای داخلی
<ul style="list-style-type: none"> از رونق افتادن تجارت 		



کاربرگه شماره ۸

اداره شهرها و روستاها در عصر صفوی

در عهد صفویه شهرها و روستاها را تعدادی از صاحب منصبان اداری و نظامی اداره می کردند که تحت فرمان والی یا حاکم ولایت بودند. این صاحب منصبان عبارت بودند از :

داروغه : مسئول برقراری نظم و امنیت و جلوگیری از دزدی، غارت و نزاع در شهر و حومه آن بود.
حاکم شرع : قاضی شهر که به اختلافات و دعاوی حقوقی افراد براساس احکام شرعی رسیدگی می کرد.
محتسب : وظیفه داشت بر وزن و نرخ کالاها نظارت کند و از کارهای خلاف شرع جلوگیری نماید.
کلانتر : رابط میان اهالی شهر و اصناف با مقام های حکومتی بود و وظیفه داشت مراقبت کند که مالیات ها منصفانه میان مالیت دهندگان تقسیم شوند و مأموران حکومتی به مردم اجحاف و ستم نکنند.
کدخدا : وظایف کلانتر را در روستا انجام می داد.

از طریق وصل کردن عبارت های دو ستون، مشخص کنید که در زمان کنونی چه نهادهایی، وظایف صاحب منصبان دوره صفویه را انجام می دهند؟

دادگستری

داروغه

شورای روستا

حاکم شرع

سازمان تعزیرات حکومتی

محتسب

نیروی انتظامی

کلانتر

سازمان امور مالیاتی

کدخدا



جدایی سرزمین‌های ایرانی در دوره قاجار



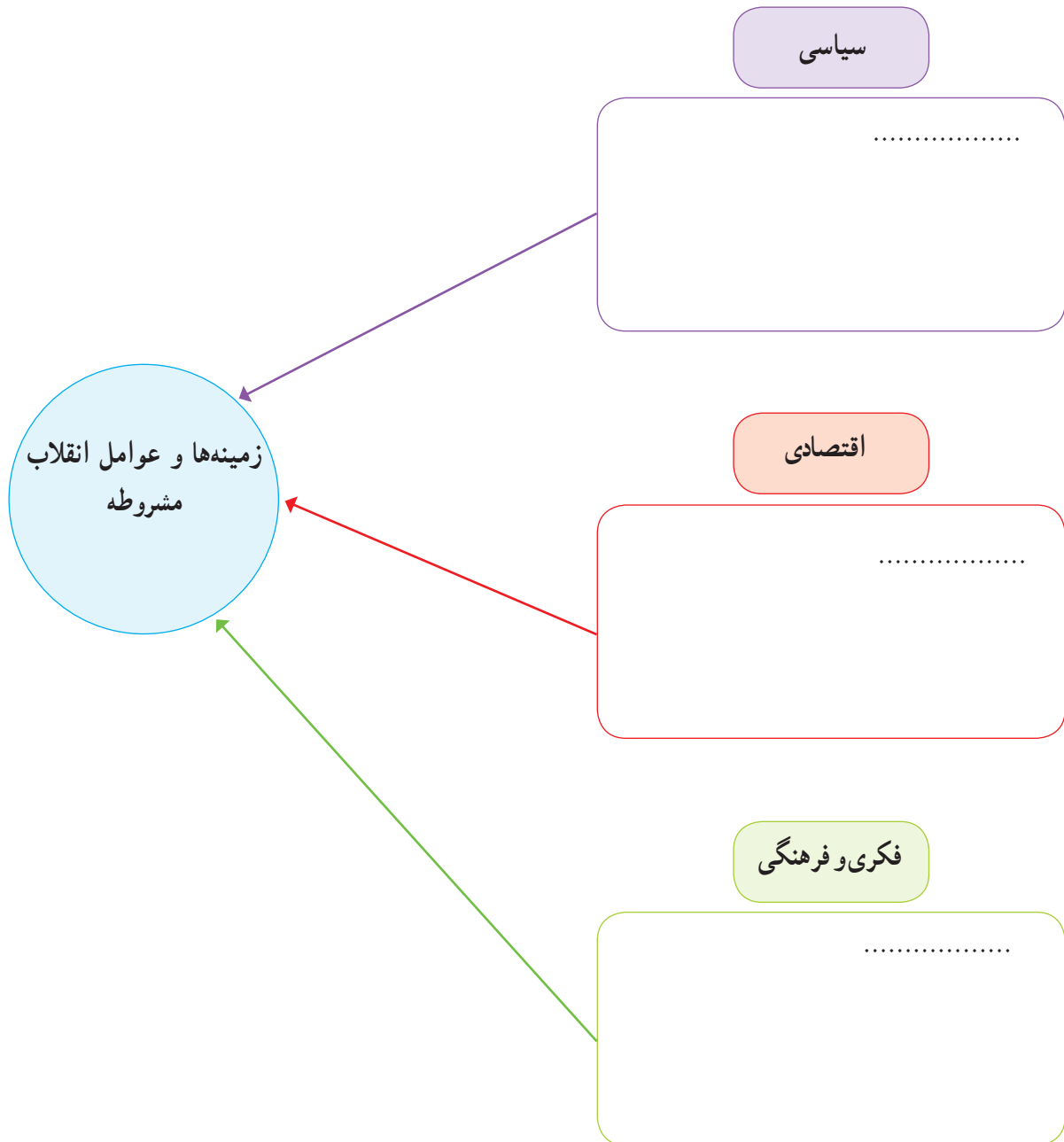
- عهدنامه گلستان
 عهدنامه ترکمان‌چای
 عهدنامه آخال
 عهدنامه پاریس
 قرارداد گلدا سمیت

با توجه به نقشه، بگوئید شهرها یا مناطق زیر توسط کدام کشور، در زمان کدام شاه قاجار و با چه عهدنامه و قراردادی از ایران جدا شدند.

عنوان عهدنامه و قرارداد	کشور استعمارگر	
		۱- تفلیس و گنجه :
		۲- هرات :
		۳- مرو و خیوه :
		۴- ایروان و قره‌باغ :
		۵- بلوچستان و سیستان شرقی :

زمینه‌ها و عوامل انقلاب مشروطه

با مطالعه دقیق متن کتاب و اطلاعاتی که از منابع دیگر دارید، نمودار زیر را کامل کنید.





سخنرانی تاریخی امام خمینی در عصر عاشورا

بخش‌های مهمی از سخنان امام در عصر عاشورای ۱۳۴۲ را به دقت بخوانید و به پرسش‌های زیر پاسخ دهید.

«اگر دستگاه جبار با مراجع سر جنگ داشت و با علمای اسلام مخالف بود، به قرآن چه کار داشت؟ به مدرسه فیضیه چه کار داشت؟ به طلاب علوم دینیه چه کار داشت؟ ... اینها با اساس اسلام و روحانیت مخالف‌اند؛ اینها نمی‌خواهند این اساس موجود باشد... اسرائیل نمی‌خواهد در این مملکت قرآن باشد، اسرائیل نمی‌خواهد در این مملکت علمای اسلام باشند. اسرائیل نمی‌خواهد در این مملکت احکام اسلام باشد، اسرائیل نمی‌خواهد در این مملکت دانشمند باشد. اسرائیل به دست عمال سیاه خود مدرسه فیضیه را کوبید، ما را می‌کوبد، شما ملت را می‌کوبد، می‌خواهد اقتصاد شما را قبضه کند. می‌خواهد تجارت و زراعت را از بین ببرد، می‌خواهد ثروت شما را تصاحب کند.

ای آقای شاه، ای جناب شاه، بدبخت، بیچاره، ... به تو نصیحت می‌کنم. دست از این اعمال و رویه بردار! من میل ندارم که اگر روزی ارباب‌ها بخواهند تو بروی، مردم شکرگزاری کنند! من نمی‌خواهم تو مثل پدرت باشی ... کمی تأمل کن! ... کمی عبرت بگیر! عبرت از پدرت بگیر!».

- ۱- انگیزه اصلی امام از مخالفت و مبارزه با حکومت شاه چه بوده است؟
- ۲- از نظر امام خمینی، چه خطرها و تهدیداتی از جانب اسرائیل متوجه ایران بود؟ آیا این تهدیدها هم اکنون نیز وجود دارد؟
- ۳- در سطر دوم بند آخر منظور امام از ارباب‌ها کیست؟
- ۴- اینکه امام به شاه نصیحت می‌کند که «از پدرت عبرت بگیر»، به کدام واقعه تاریخی اشاره دارد؟

رویدادهای مهم انقلاب اسلامی در سال ۱۳۵۷

به بریده روزنامه‌های دوران انقلاب اسلامی دقت کنید و به پرسش‌ها پاسخ دهید.

۱۳ مهر ۱۳۵۷

(۲)

۱۸ شهریور ۱۳۵۷

(۱)



۲۳ بهمن ۱۳۵۷

(۴)

۱۲ بهمن ۱۳۵۷

(۳)



۱- عنوان اصلی بریده شماره ۱، مربوط به چه رویدادی است؟

۲- بر اساس خبر بریده شماره ۲، چرا امام عراق را ترک کردند؟

۳- به بریده شماره ۲ دقت کنید و بگویید حکومت شاه برای آرام کردن مردم، چه قول‌هایی داد؟

۴- در بریده شماره ۳، منظور امام از «مملکت دو دولت ندارد، تو غیرقانونی هستی، برو» کدام دولت است؟

۵- در بریده شماره ۴، منظور از «کاخ ۵۷ ساله ظلم» چیست؟

۶- به بریده شماره ۴ دقت کنید و بگویید با فرو ریختن کدام سگرهای رژیم پهلوی، انقلاب پیروز شد.

لایه‌های فرهنگ

متن زیر دربارهٔ روستای خان‌آباد نوشته شده است. خان‌آباد (محمدیه) روستایی کوهستانی در بخش جنوبی استان مرکزی و در ۳۵ کیلومتری غرب شهرستان خمین است و حدود ۵۰۰ نفر جمعیت دارد. متن را بخوانید و چند مورد از نمادها، هنجارها، ارزش‌ها و عقاید مردم این روستا را از متن استخراج و دسته‌بندی کنید و در جدولی بنویسید.

...روستای خان‌آباد با توجه به قدمت باستانی و داشتن آثار تاریخی و آب و هوای مناسب و جاذبه‌های طبیعی، قابلیت زیادی برای گردشگری دارد. با توجه به تحقیقات باستان‌شناسی، قدمت سکونت در این منطقه به حدود ۳۰۰۰ سال پیش برمی‌گردد. از دیدنی‌های روستا یکی حفره‌ای در بلندترین نقطهٔ کوه گره است که مردم منطقه آن را به نام «سوراخ بند باز» می‌شناسند و بنا بر روایاتی که سینه به سینه نقل شده، این حفره محل کمین و پناه‌گاه شخصی به نام بند باز بوده که البته قسمت‌هایی از آن تخریب شده است. «سنگ گینه» نیز از آثار قدیمی روستاست. در گذشته مردم روستا برای تعیین زمان نقل و انتقال آب قنات از یک کشاورز به کشاورز دیگر جهت آبیاری زمین‌ها و باغ‌ها از این سنگ به عنوان ساعت استفاده می‌کردند. تعیین زمان به این صورت بوده که در هنگام غروب که سایه کوه به این سنگ می‌رسیده، نقل و انتقال آب آغاز می‌شده است.

شغل اصلی اهالی روستای خان‌آباد کشاورزی و دامداری است.

...زنان روستا در گذشته (حدود نیم قرن پیش) پیراهن‌های بلند چیت و شلوار گشاد می‌پوشیدند. همهٔ زنان نوعی پوشش در روی سر داشتند که آن را چارقد می‌نامیدند. آنها از کفش‌های لاستیکی به نام گالش و در هنگام انجام فعالیت‌های روزانه از نوعی دمپایی روبسته به نام اروسی استفاده می‌کردند و فایده آن این بود که خار و خاشاک کمتری با پاها تماس پیدا می‌کرد. لباس مردها یک پیراهن بلند با دو چاک در طرفین و یک شلوار و یک کمر بند (شال دور کمر) و کفش‌های لاستیکی بود که عمدتاً جنس آنها از پارچه‌های ارزان قیمت چیت و کرباس بود. از نظر اجتماعی، داشتن کلاه بین مردان مسن‌تر ده بسیار اهمیت داشته است. در حال حاضر، مردان ده لباس‌های متداول مانند کت و شلوار و پیراهن و زن‌ها پیراهن و بلوز و دامن و شلوار و روسری اما نسل جدید لباس‌هایی با رنگ‌های شاد و مدل‌های روز را می‌پوشند. به علت همجواری روستای خان‌آباد با استان لرستان لهجه محلی روستا فارسی آمیخته با لری است و در کلمات فارسی، حرکات آن تغییر کرده است و به حالتی بسیار شیرین تکلم می‌شود. متأسفانه با نفوذ فرهنگ شهرنشینی در بین اهالی این گویش محلی شیرین کم‌کم رو به فراموشی می‌رود.

خواهر = خو آر برادر = برار، کاکا شب = شیو پشه = پخشیه سرفه = کوو صورت = توررو عطسه = پشکه
خواب = خو آستین = انگله تاب بازی = قوقو دیزی = دیگیله آنطرف = اولا زبان = زوآن

روستای خان‌آباد، مسجد جامع و چند حسینیه دارد. از زیباترین و باشکوه‌ترین مراسم مذهبی که در روستای خان‌آباد اجرا می‌شود عزاداری دهه محرم است. یادواره شهدای روستا نیز به همت دهیاری، شورای اسلامی، انجمن جوانان، هیئت امناء و کانون فرهنگی هنری شفق و مسجد خاتم الانبیاء در روستا برگزار می‌شود و طی مراسمی افراد به دیدار خانواده شهدای روستا می‌روند و یاد و خاطرهٔ آنها را گرامی می‌دارند. در روستای خان‌آباد رسم بر این است که هر سال بعد از پایان بارندگی‌های فصل بهار زن‌های روستا با همکاری و کمک همدیگر آتش نذری کریز می‌پزند که به نیت زیاد شدن آب کریز (قنات اصلی روستا) و یا کم نشدن آب آن است. آنها نذر می‌کنند که سال پر برکتی برایشان باشد و بعد از پختن آتش، آن را بین همه اهالی تقسیم می‌کنند.

با گذشت زمان، برخی آداب و رسومی که در روستا با تشریفات خاصی انجام می‌شده از خاطر رفته است اما برخی نیز با کمی تغییر، هر ساله اجرا می‌شود. شامگاه چهلمین روز پس از جشن شب چله، در چلهٔ زمستان، جشن ناقالی «کردعلی کوه» «سده» یا «سده سوزی» برگزار می‌شود. اهالی روستای خان‌آباد بر این باورند که سرمای زمستان در این هشت روز، که برابر با چهار روز آخر چلهٔ بزرگ و چهار روز اول چلهٔ کوچک است، به اوج خود می‌رسد. بعد از پایان این هشت روز زمین نفس می‌کشد و زندگی را از سر می‌گیرد.

... رفتن به مهمانی‌های شبانه یا شب‌نشینی و خوردن شب‌چره از کارهای متداول اهالی خان‌آباد است. شب‌نشینی در اواخر پاییز و فصل زمستان بیشتر صورت می‌گیرد، زیرا در روستاها بعد از برداشت محصول در فصل پاییز، اوقات فراغت و بیکاری روستائیان آغاز می‌شود و تا پایان زمستان ادامه پیدا می‌کند. در شب‌های بلند زمستان، خانواده‌ها به دیدار اقوام، آشنایان و دوستان می‌روند. زنان در یک طرف کرسی، کودکان در کنار هم و مردان خانواده نیز در طرف دیگر کرسی نشسته و با یکدیگر گفت‌وگو می‌کنند. افراد ابتدا از کارهای روزانه خود صحبت می‌کنند و خاطراتی نیز از گذشتگان بیان می‌کنند. بیان داستان‌ها و یا حوادث تاریخی – که به آن مثل می‌گویند و معمولاً توسط بزرگ‌ترها و باسوادترها بیان می‌شود – بسیار جذاب و شیرین است، به طوری که در هنگام بیان آنها سکوت مطلق حاکم می‌شود و همگی سراپا گوش می‌شوند. از ضروریات شب‌نشینی‌ها در خان‌آباد، خوردن «شب‌چره» است که در لهجه خان‌آبادی به آن «شوچَر» می‌گویند. بعد از خوردن چای و کمی گفت‌وگو، زن میزبان به اندرونی می‌رود و با یک مَجْمَعَه بزرگ که حاوی بشقاب‌هایی از تنقلات رنگارنگ مانند مغز گردو، مغز بادام، مغز هسته زردآلو، شاه‌دانه، نخودچی، کشمش، برگه، آلو، سنجید و گندم بوداده است وارد اتاق مهمانان می‌شود و بشقاب‌ها را به طرز مناسب بر روی کرسی و در مقابل مهمانان و سایر افراد قرار می‌دهد.

جشن خرمن‌زمانی برگزار می‌شود که محصولات در حال برداشت است. در این زمان، جوانان و بچه‌ها شادمانی خاصی دارند و با این شادمانی به محل خرمن می‌روند و از صاحب خرمن درخواست می‌کنند مقداری از محصول را به صورت پاداش به آنها بدهد که در اصطلاح به آن کوکوله می‌گویند. اعتقاد بر این است که این عمل موجب برکت محصولات می‌شود.

... از مراسمی که در شب عید برگزار می‌شده و هنوز هم کم و بیش به قوت خود باقی است «تخ‌تخی» است. جوانان روستا در شب عید بر پشت بام‌ها می‌روند و پارچه‌ای را که معمولاً چادر خانم‌ها است از پشت بام خانه اهالی طوری آویزان می‌کنند که جلو درب ورودی خانه باشد و از اهل خانه طلب عیدی می‌کند که معمولاً سکه یا تخم مرغ رنگی است، سپس اهل خانه عیدی را به چادر گره می‌زنند و چادر بالا کشیده می‌شود. در نانوائی روستای خان‌آباد، به مناسبت عید نوروز نان شیرمال و فتیر محلی پخته و عرضه می‌شود. متأسفانه با ورود فرهنگ شهرنشینی بسیاری از مراسم‌ها فراموش شده‌اند که از جمله می‌توان به مراسم پخت نان اشاره کرد. دیگر در روستا از تورهایی که با ملاتی از گل و موی بز ساخته می‌شد، خبری نیست. همچنین از بوی دود تنور که هنگام صبح قبل از طلوع آفتاب به مشام می‌خورد و انسان را از خواب بیدار می‌کرد. ... مردم خان‌آباد به چشم‌کردن اعتقاد زیادی دارند و برای جلوگیری از چشم‌زخم، مهره‌هایی آبی رنگ به نام مَرِّ کُؤ آویزان می‌کنند. نیز آیه «وَإِنْ يَكَادُ وادعیه را با سنجاق بر شانه چپ افراد نصب می‌کنند. ریختن اسپند بر آتش و به اصطلاح اسفند دود کردن نیز همچون سایر مناطق ایران برای رفع چشم‌زخم مرسوم است. اهالی روستای خان‌آباد همچنین بر این باورند، که نوزادی که در هنگام سپیده دم به دنیا آمده باشد موجب برکت است. رسم بر این است که اگر کسی بخواهد کاری را شروع کند – مثلاً دار کردن قالی یا پخت نان و ... – انتظار دارند چنین فردی در ابتدای کار حضور داشته باشد و یا او را دعوت می‌کنند تا موجب برکت در آن کار شود و در اصطلاح می‌گویند فلان شخص پای سبکی دارد.

برگرفته از تارنمای روستای خان‌آباد

با تصرف و تلخیص

نمادها	هنجارها	ارزش‌ها و عقاید
سنگ گنه	رفتن به مهمانی شبانه یا شب‌نشینی	دیدار با خانواده شه‌دای روستا

سازگاری همسران

۱- موقعیت‌های زیر را بخوانید. در مقابل هر موقعیت، یکی از عبارت‌های زیر را انتخاب کنید و بنویسید. سپس، برای تکمیل آن موقعیت جمله‌ای بنویسید که راهکاری برای سازگاری در خانواده باشد.

عذرخواهی و جبران

بهانه جویی نکردن

ادب و احترام

قدردانی کردن

گذشت

* آقای سعیدی در حالی که کیسه‌های میوه و سبزی را در هر دو دست دارد، وارد خانه می‌شود.
همسر او

.....

* اعضای خانواده آقای صدیقی، برای زیارت به مشهد رفتند و خانه‌ای اجاره کردند. یک شب پس از برگشتن از حرم به خانه، آقای صدیقی کیف و جیب‌هایش را جست و جو کرد اما کلید خانه را پیدا نکرد. کلید گم شده بود و اعضای خانواده هم بسیار خسته بودند.
آقای صدیقی
همسرش

عذرخواهی و جبران

* آقای دادخواه با خانواده به مسافرت رفته و در حال رانندگی است. او هر چند لحظه یک بار، درباره اینکه برادر همسرش یک ماه پیش در جایی به او تعارف نکرده است، حرف می‌زند و مدام این مسئله را تکرار می‌کند.
آقای دادخواه نباید
.....

.....

* مهمان‌ها در حال نوشیدن چای و خوردن میوه‌اند. همسر آقای احمدی از آشپزخانه وارد اتاق می‌شود و در حال نگاه کردن است که جایی برای نشستن پیدا کند.
آقای احمدی
.....

.....

* ساعت ۱۰ صبح آقای ناصری به همسرش تلفن می‌کند و می‌گوید برادرش با خانواده به سمت شهر آنها حرکت کرده است و برای ناهار به خانه آنها می‌آیند. بعد از ظهر هم وقت ملاقات با دکتر دارند. از طرفی، همسر آقای ناصری را یکی از دوستانش به ناهار دعوت کرده است.
همسر آقای ناصری می‌تواند
.....

.....

سازگاری والدین و فرزندان

الف – جدول زیر را کامل کنید. چند مورد از انتظارات مهمی را که والدین از شما و شما از والدین خود دارید، بنویسید.

انتظارات والدین از من	انتظارات من از والدین
* آنها از من می خواهند	* من انتظار دارم
*	*
*	*
*	*
*	*

ب – جدولی را که کامل کرده اید، به پدر و مادرتان نشان دهید. آیا انتظارات والدین را درست نوشته اید؟ درباره انتظارات متقابل با خانواده گفت و گو کنید.

۲- ایلیا دوست دارد روزهای تعطیل با دوستانش به گردش برود. والدین ایلیا نگران سلامت اخلاقی این معاشرت ها و مواجه شدن او با محیط ها و عقاید و ارزش های مخالف ارزش های خانواده هستند. پیشنهاد شما برای حل این مسئله به طوری که انتظارات هر دو طرف برآورده و رعایت شود، چیست؟



حقوق و تکالیف شهروندی

حکومت و شهروندان در قبال یکدیگر از حقوقی برخوردارند و تکالیفی برعهده دارند. با توجه به آنچه در فصل یازدهم آموخته‌اید، جدول زیر را کامل کنید.

شهروندان/ ملت	حکومت/ دولت
شهروندان وظیفه دارند مالیات بپردازند.	حکومت وظیفه دارد
شهروندان وظیفه دارند	حکومت وظیفه دارد امنیت را برقرار کند و از سرزمین و مرزهای کشور دفاع کند.
شهروندان حق دارند در امور سیاسی کشور و انتخاب مسئولان توانمند و شایسته مشارکت کنند.	حکومت وظیفه دارد
شهروندان وظیفه دارند	حکومت وظیفه دارد قوانین مناسب و عادلانه‌ای تدوین و تصویب کند.
شهروندان حق دارند از تأمین اجتماعی برخوردار شوند.	حکومت وظیفه دارد

موقعیت‌های زیر را بخوانید و برای افزایش بهره‌وری در هر مورد، پیشنهادی با توضیح بنویسید.

قرار است نسرین با مادرش به دندان‌پزشکی برود. او می‌داند که کار ترمیم و پرکردن دندان مادرش یک ساعت و نیم تا دو ساعت طول می‌کشد و او باید این زمان را در اتاق انتظار مطب بنشیند.

.....

خانم میرزایی در یک کاشانه (آپارتمان) ۴ واحدی زندگی می‌کند. همسایه‌ها روابط خوبی با هم دارند. آنها یک باغچه مشترک ۱۵ متری در حیاط دارند که فقط چند بوته گل در آن کاشته شده و بیشتر آن بدون استفاده مانده است.

.....

قرار است یک نمایشگاه عکاسی از طبیعت، در مدرسه برپا شود که مدیریت آن به عهده شماست. شما با مسائلی چون انتخاب چند نفر دانش‌آموز برای عکاسی، برنامه‌ریزی برای تعیین مکان‌های عکس‌برداری از طبیعت و چگونگی رفتن به آن مکان‌ها، مکان‌برگزاری نمایشگاه، چگونگی بازدید مدعوین و ... روبه‌رو هستید. به عنوان مدیر گروه و نمایشگاه، طرحی بریزید که در هر یک از این مراحل و اقدامات بهره‌وری رعایت شود.

.....

حل مسئله

سال گذشته، برگزاری جشنواره مقاله‌های برتر به مؤسسه‌ای واگذار شد. افراد مؤسسه می‌بایست ۲۰۰ مقاله را که پژوهشگرانی از سراسر کشور برایشان فرستاده بودند، به ۲۵ نفر از استادان رشته‌های مختلف می‌دادند تا آنها را بخوانند و بررسی کنند. سپس، روی فرم‌های مخصوص به آن مقاله‌ها امتیاز بدهند، ده مقاله برتر را انتخاب کنند و به آنها جایزه بدهند. هر مقاله را سه استاد (داور) بررسی و امتیازدهی می‌کردند. بعضی از استادان در شهر محل برگزاری جشنواره و بعضی دیگر در شهرهای اطراف ساکن بودند. مؤسسه مدت دو هفته هر روز از چند تن از استادان دعوت می‌کرد که در محل موردنظر حاضر شوند و مقاله‌ها را بررسی کنند. هزینه‌های این کار به شرح زیر بود:

ردیف	موارد	هزینه (تومان)
۱	اجاره محل بررسی مقالات	۱,۵۰۰,۰۰۰
۲	دستمزد یک نفر خدме برای پذیرایی (چای و ناهار)	۶۰۰,۰۰۰
۳	هزینه آمد و رفت استادان به محل (تاکسی، آژانس و ...)	۱,۰۰۰,۰۰۰
۴	ناهار و پذیرایی	۶۵۰,۰۰۰
۵	دستمزد استادان بابت بررسی مقالات	۲۰,۰۰۰,۰۰۰
۶	هزینه تکثیر مقاله و پیک	۴۵۰,۰۰۰
جمع کل		۲۴,۲۰۰,۰۰۰

سؤال: اگر قرار باشد امسال دوباره همین جشنواره برگزار شود، به نظر شما این مؤسسه چگونه می‌تواند برخی هزینه‌ها را کاهش دهد یا حذف کند؟ (توجه کنید که تعداد استادان و دستمزد آنها (ردیف ۵) را نمی‌توان کاهش داد.)

.....

.....

..... با راه حل پیشنهادی شما «هزینه کل» چقدر کاهش می‌یابد؟



ردیف	واژه بیگانه	معادل در کتاب	معادل مصوب فرهنگستان
۱	graphist	طراح گرافیک	نگاشتارگر
۲	cliché	کلیشه	قالبی
۳	maquette	ماکت	نمونک
۴	checklist	چک لیست	بازینه
۵	bareme scale, barém	بارم	شمارک
۶	global positioning system, GPS	سامانه موقعیت یاب جهانی	سامانه موقعیت یابی جهانی
۷	conference	کنفرانس	اجلاس، فراهمایی
۸	atmosphere	هواکره (اتمسفر)	جو
۹	control	کنترل	(در اینجا) واپاش
۱۰	thermosphere	دماسپهر	گرم سپهر
۱۱	radioactivity	رادیواکتیویته	پرتوزایی
۱۲	spray	اسپری	افشانه
۱۳	brochure	برگه تبلیغاتی (بروشور)	دفترک
۱۴	bulldozer	بولدوزر	هموارساز
۱۵	carbon dioxide	دی اکسید کربن	کربن دی اکسید
۱۶	control	کنترل	(در اینجا) مهار
۱۷	antibiotic	آنتی بیوتیک	پادزیست، آنتی بیوتیک
۱۸	terrorist	تروریست	وحشت افکن
۱۹	traffic	ترافیک	شد آمد
۲۰	dictatorial	دیکتاتوری	استبدادی
۲۱	cabinet	کابینه	دولت
۲۲	capitulation	کاپیتولاسیون	قضاوت سپاری
۲۳	apartment	آپارتمان	کاشانه
۲۴	thyrorid	تیروئید	سپر دیس، تیروئید
۲۵	counter	کنتور	شمارگر
۲۶	cooler	کولر	خنک کن
۲۷	freezer	فریزر	یخزن
۲۸	idea	ایده	اندیشه، فکر، آرمان، نظر، عقیده (بنا به مورد می تواند یکی از این گزینه ها را در بافت به کار ببرند)

مطمان محترم، صاحب نظران، دانش آموزان عزیز و اولیای آنان می توانند نظراصلاحی خود را در باره مطالب

این کتاب از طریق نامه به نشانی تهران - صندوق پستی ۱۵۸۷۵/۴۸۷۴ - گروه دسی مربوط و یا پیام نگار (Email)

talif@talif.sch.ir ارسال نمایند.

دقت نمایند کتاب های دسی موی و متوسط نظری